


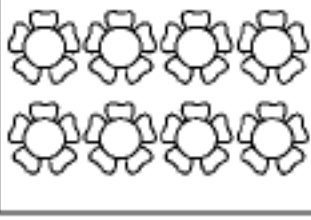


# 最新人教版一年级数学上册单元测试题全套带答案

## 教材过关卷(1)



准备课

一、照样子，看图圈数。(12分)



			
① 2 3	4 6 7	8 9 10	7 8 9

二、比一比，我能行。(每题3分，共9分)





1. 在少的后面画“○”。

	<input type="checkbox"/>
	<input type="checkbox"/>

2. 在多的后面画“√”。



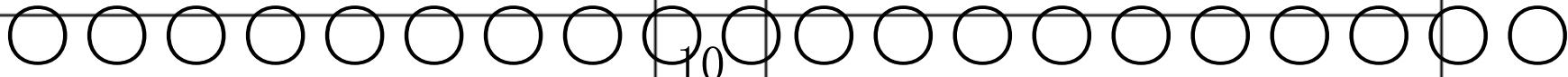

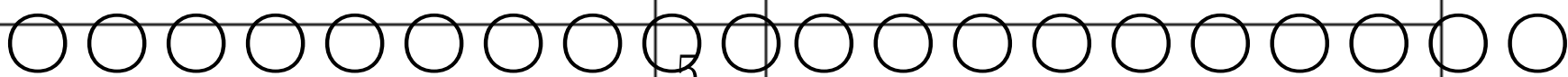

	<input type="checkbox"/>
	<input type="checkbox"/>

3. 在同样多的后面画“△”。

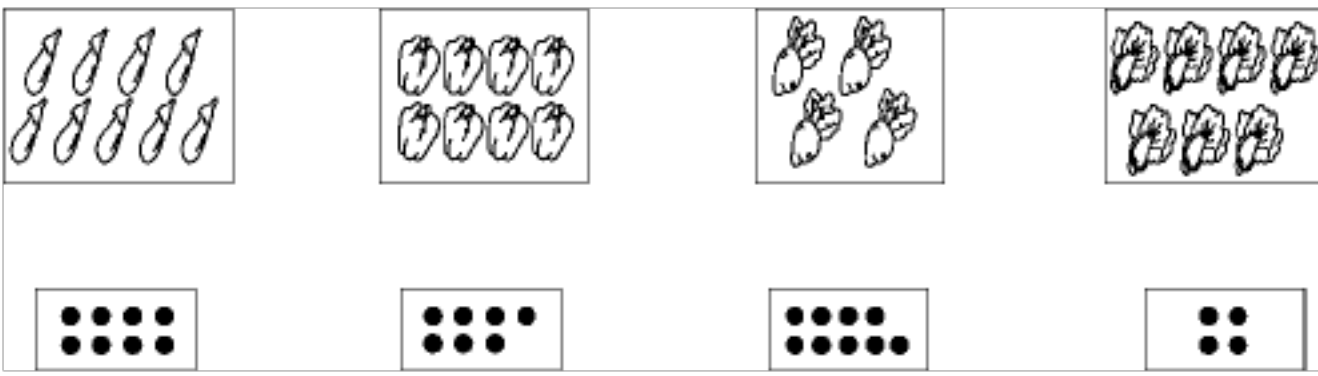
	<input type="checkbox"/>		<input type="checkbox"/>
			

三、动手做一做。(1题18分，2题8分，共26分)

1. 看数涂上自己喜欢的颜色。

3		7	
6		10	
9		5	

2. 把物体和数量相同的“●”连起来。




四、画一画。(每题5分, 共10分)

1. 画△, 比少。



2. 画, 比多。

五、数一数, 涂一涂。(每题5分, 共15分)

1. 数出2个, 涂上你喜欢的颜色。



2. 数出3个, 涂上你喜欢的颜色。



3. 数出4个, 涂上你喜欢的颜色。

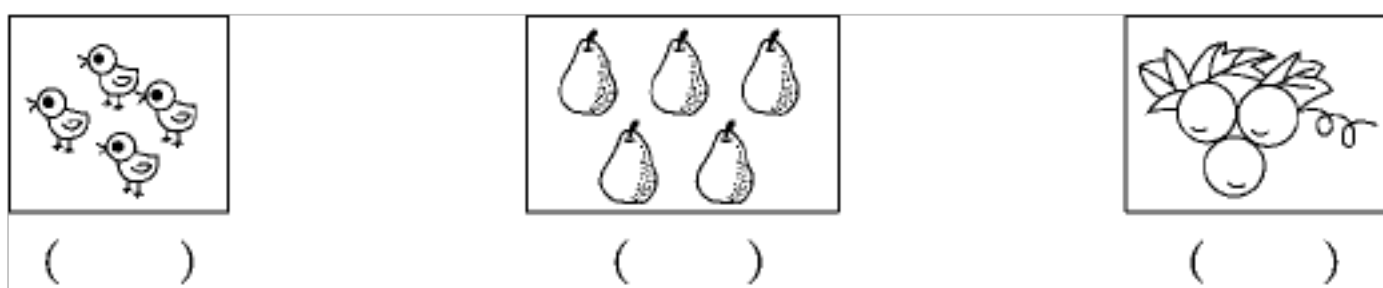


六、数一数, 比一比。(每题5分, 共10分)

1. 哪盘最少? 在下面画“√”



2. 哪组数量最多? 在下面画“○”。



七、把缺少的  画出来。(18分)

5:  \_\_\_\_\_

3:  \_\_\_\_\_

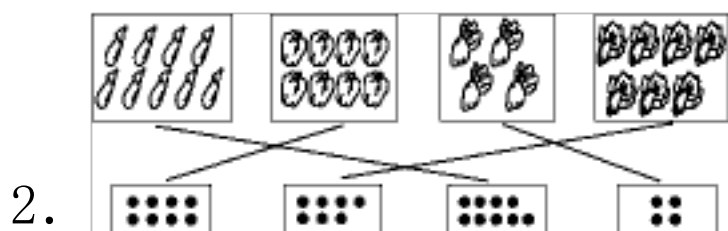
6:  \_\_\_\_\_

答案

一、

二、 1.   2.   3.

三、 1. 略。



四、 1.  $\triangle \triangle$  (答案不唯一)

2.  (答案不唯一)


五、 1. 

2. 

3. 

六、 1. ( ) (  $\checkmark$  ) ()

2. ( ) (  $\bigcirc$  ) ()

七、 5: 


3: 

6: 

## 教材过关卷(2)

### 位置

一、看一看，圈一圈。(每题9分，共18分)

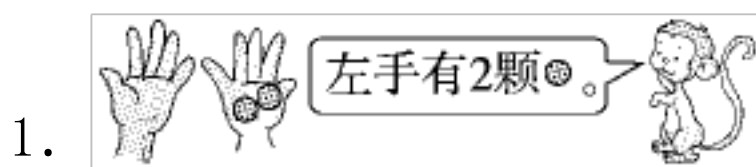


- (1)书在桌子的(上 下)面。  
(2)猫在桌子的(上 下)面。  
(3)花瓶在台灯的(左 右)边。



- (1)游在最前面的是(小林 小佳)。  
(2)(小伟 小佳)在小军的前面。  
(3)小芳的前面有(2 3)人。


二、辨一辨，对的画“√”，错的画“×”(每题5分，共20分)




( )

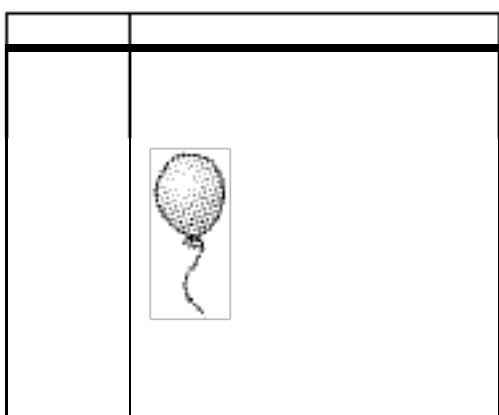



( )


3.  ( )

4.  ( )

三、按要求画一画。(16分)



 在上面画一个△;  
在△的左边画一个○;


 的右边画一个□;  
在□的下面画一个☆。

四、填一填。(1题12分, 2题18分, 共30分)

1.

(1)  在  的( )面, 在  的( )面。

(2)  在  的( )面。

(3)  的右边是( )。

2.


(1) 小兔要吃到萝卜, 要先向( )走, 再向( )走。

(2) 小猫要吃到鱼, 要先向( )走, 再向( )走。

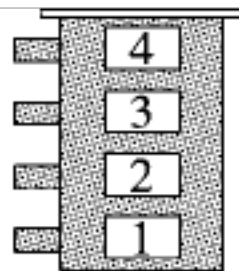
(3) 小狗要吃到鱼, 要先向( )走, 再向( )走。

五、解决问题。(16分)

帮小朋友找到他们的家，在( )里写上名字。



小红住在最下面，小明住在最上面，小方住在小兰的上面。



( )

( )

( )

( )


### 答案

一、

1. (1) 上 (2) 下 (3) 右
2. (1) 小林 (2) 小伟
- (3) 2

二、1. × 2. √ 3. × 4. √

三、

○	△	
		□
		☆

四、1. (1)下 上 (2)下 (3)桃子

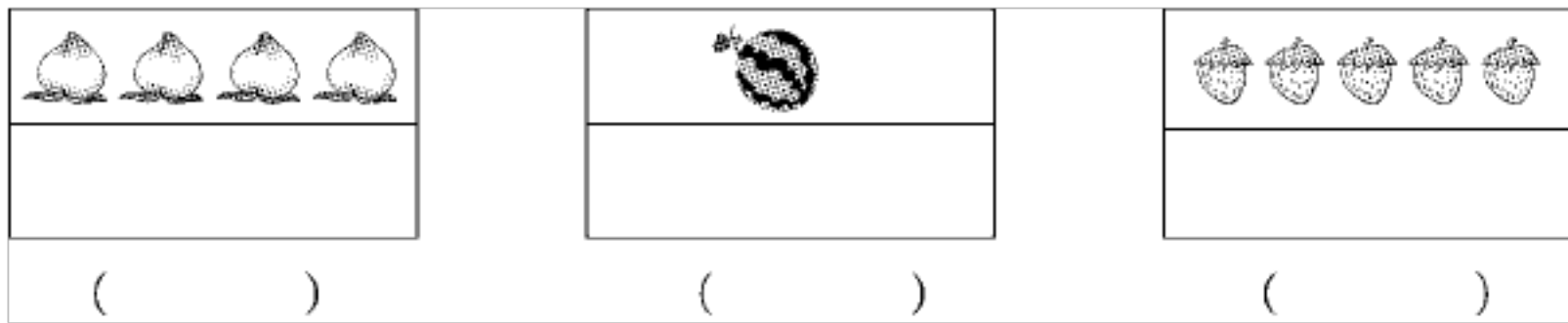
2. (1)上 右(2)下 右(3)右 上

五、小明 小方 小兰 小红

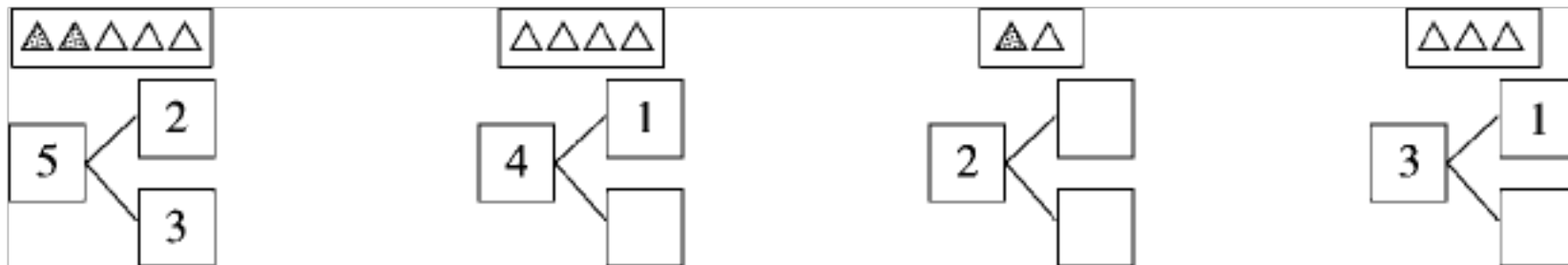
### 教材过关卷(3)

一、数一数，先画“○”再写数。(9分)






二、照样子，涂一涂，填一填。(16分)



三、填一填。(每空1分，共19分)

1. 按顺序填数。



2. 在  $\bigcirc$  里填上 “>” “<” 或 “=”。

4  $\bigcirc$  5    4  $\bigcirc$  3    2  $\bigcirc$  5    3  $\bigcirc$  0    2  $\bigcirc$  2    0  $\bigcirc$  1

3. 在  $\square$  里填上合适的数。

$\square < 4$      $3 < \square$      $1 > \square$      $2 > \square \square = 0$      $4 < \square$

4.  $\bigcirc$  比  $\triangle$  (    ), (    ) 比 (    ) 多。


四、按要求填一填。(每题8分，共16分)

1. 买票。


(1) 有 (    ) 人排队， 排第 (    )，他前面有 (    ) 人，后面有 (    ) 人。

(2) 把左边的3个人圈起来，把从右数第4个同学的衣服涂色。


2. 小鸡回家。(连一连)



五、看图列式计算。(每题5分, 共20分)




$$\square - \square = \square$$



$$\square + \square = \square$$



$$\square \bigcirc \square = \square$$



$$\square \bigcirc \square = \square$$

六、解决生活问题。(每题10分, 共20分)

1. 在正确的答案后面画“√”





2. 分雨伞。



答案

一、○○○④ ○ 1○○○○⑤

二、涂一涂略。3 1 1 2


三、1. (1)3 4 (2)2 0

2. < > < > = <

3. 2 4 0 1 0 5 (部分空答案不唯一)

4. 少 △ ○

四、1. (1)5 4 3 1 (2)略。



五、1.  $4-2=2$  2.  $2+3=5$

3.  $0+5=5$  4.  $5-2=3$

六、1. 够

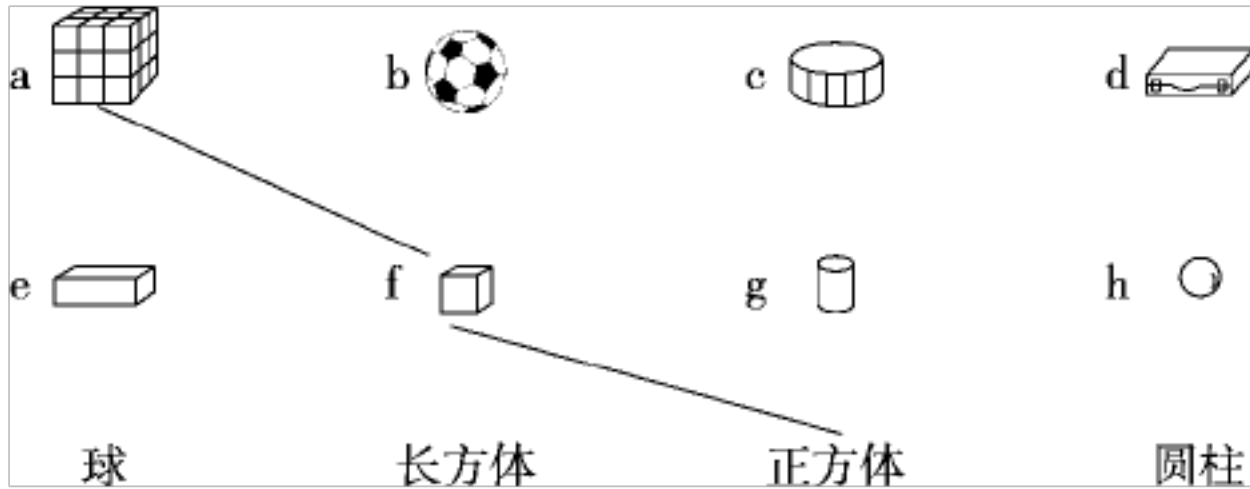
[点拨]因为足球有4个，小朋友有3个，一人一个足球，还多

个足球，所以够。

2. 3

### 教材过关卷

一、照样子，连一连。( 分)



二、圈一圈。(每题3分，共9分)

1. 不能滚动的图形是：



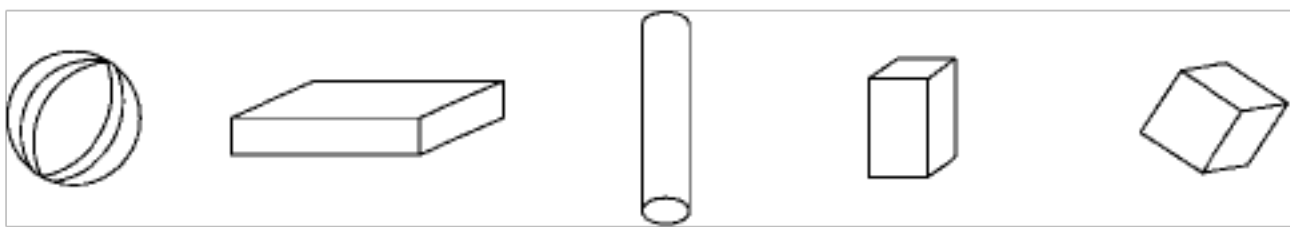
2. 可以滚动，还可以立起来的是：



3. 最容易滚动的图形是：



三、填一填。(3题6分，其余每题4分，共14分)



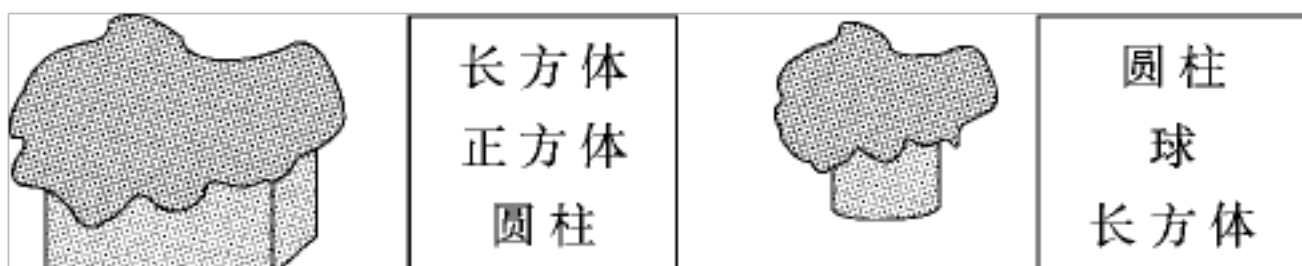
1. 从左边数圆柱是第( )个，球是第( )个。

2. 长方体有( )个，正方体有( )个。

3. 把从右数第5个图形圈起来，把左边第3个图形涂上红色。

四、按要求做一做。(每题8分，共16分)

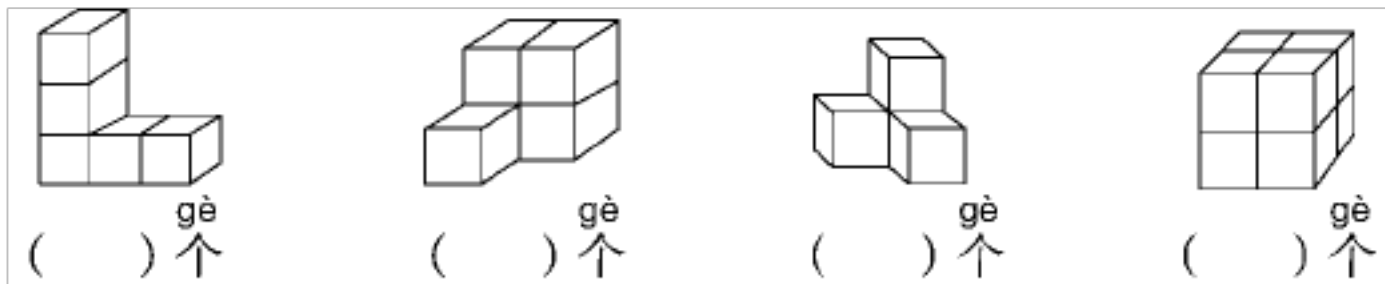
1. 猜一猜，用布盖着的物体分别是什么形状的？请圈出它们的名称。




圈一圈，把每组中形状不同的一个物体圈出来。



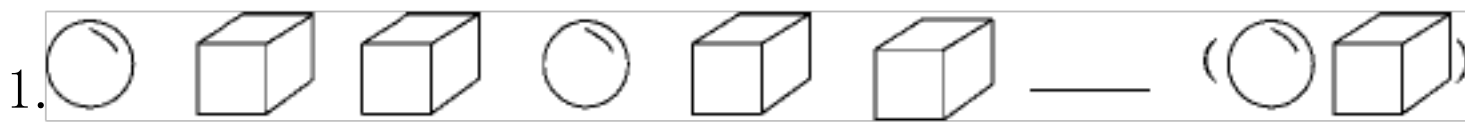
五、数一数，下面各图是由几个小正方体组成的？ (分)



六、先摆一个 ，在 的左边摆一个 ，再在 的上面摆一个 。在正确图形下面的 里画“√”(12分)




七、找规律，接着摆什么？圈出正确答案。(每题3分，共9分)

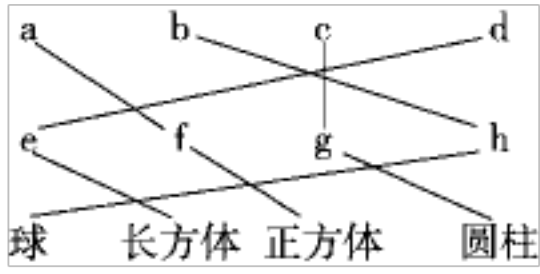


八、机器人。(12分)

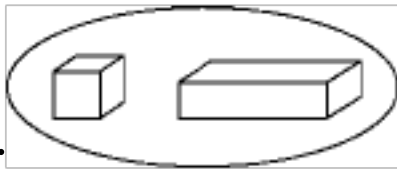
有 ( ) 个， 有 ( ) 个，  
 有 ( ) 个， 有 ( ) 个。



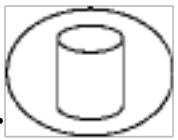
一、



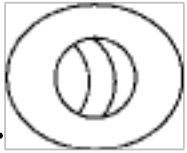
二、1.



2.

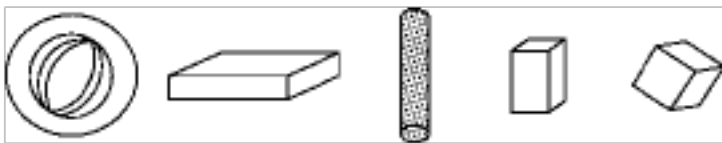


3.



三、1. 3 1 2. 2 1

3.



四、1.



2. (1)圈第2个物体。

(2)圈第2个物体。

五、5 5 4 8

六、第4幅图

七、1.圈球

2. 圈球

3. 圈长方体

八、5 4 3 1

以上内容仅为本文档的试下载部分，为可阅读页数的一半内容。如要下载或阅读全文，请访问：<https://d.book118.com/008010002113006051>