

2024年福建省泉州市高考地理适应性试卷（5月份）

一、选择题 本题共16题，每题3分，共48分。在每题给出的四个选项中，只有一项是最符合题目要求。

深圳大鹏湾“科创+产业”冷能养殖示范项目是指：大鹏湾液化天然气接收站在液化天然气汽化过程中，利用处理后的常温海水对液化天然气升温，会产生大量无菌、溶氧能力强的低温海水，是难得的高品质低温养殖用水。据此完成1~2题。

1. 该示范项目首选龙虾、鲍鱼和笛鲷类鱼的主要原因是这些海洋生物（ ）
 - A. 经济价值高
 - B. 养殖难度大
 - C. 适应能力强
 - D. 繁殖速度快
2. 该项目采用流动的冷海水养殖主要是为了（ ）
 - A. 实现全年供应
 - B. 提高海产品品质
 - C. 减轻海洋污染
 - D. 降低能源消耗

地方粮食储备是维护国家粮食安全和市场稳定的第一道防线。粮食储备基地建设必须综合考虑储备规模效益、时间距离成本、经济基础和社会协作以及行政区划等因素，作为“绿色储粮”基地的青藏高原已建立2个粮食省级储备粮基地。如图示意青藏高原省、市级储备粮基地分布。据此完成3~5题。



3. 青藏高原能够实现“绿色储粮”的主要原因是（ ）
 - A. 海拔高通风条件好
 - B. 空气稀薄年均温低
 - C. 人口稀少地价便宜
 - D. 战略后方安全性高
4. 与拉萨相比，西宁粮食储备基地（ ）
 - A. 平均时间距离更短
 - B. 粮食储备规模更大
 - C. 粮食运输成本更高
 - D. 社会协作条件更差
5. 近年来，为应对入藏人数增加，青藏高原储备粮基地应该（ ）
 - ①扩大粮食储备规模
 - ②缩短存储周期

③充分挖掘土地潜力

④品种多元化

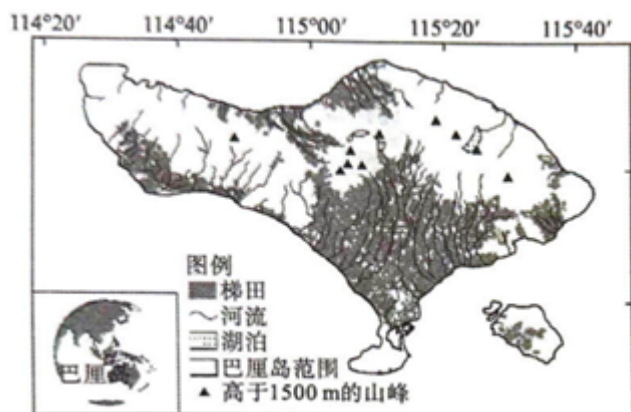
A. ①③

B. ②③

C. ①④

D. ②④

印度尼西亚巴厘岛同一灌溉水源的梯田间存在竞争用水的关系，当所有梯田同时进入水稻移栽、分蘖等用水高峰期时，水量将严重不足。为保障梯田水稻生产，岛上居民建设了发达的沟渠网络，沟渠在梯田中的分布格局大致与等高线平行，推行分水度量制度对水资源进行管理，在从干流向下级沟渠分水的岔口上，通过不同尺寸的凹槽来度量并限定从水渠流向梯田的分水量。如图示意巴厘岛梯田分布和分水度量设施。据此完成6~8题。



6. 巴厘岛水热条件组合最优的时段是（ ）

A. 3月 - 5月

B. 6月 - 8月

C. 9月 - 11月

D. 12月 - 次年2月

7. 巴厘岛梯田竞争用水是因为（ ）

A. 年径流量小，水资源总量不足

B. 河流较短促，水资源利用率低

C. 复种指数高，灌溉用水周期长

D. 全年气温高，稻田水分蒸发大

8. 沟渠在梯田中的分布大致与等高线平行，主要目的是（ ）

A. 降低建设难度

B. 减轻水土流失

C. 提高截留水量

D. 增加景观美感

窟窿沟天生桥位于陕北高原，因桥洞外形酷似巨大的窟窿而得名，其主体部分为红层（红色砂岩），上部覆盖有厚约10米的黄土层。据此完成9~11题。



9. 天生桥顶部黄土层的成因 ()
- A. 流水堆积 B. 风力沉积 C. 红层风化 D. 冰川沉积
10. 天生桥两侧崖壁陡峭, 是因为岩石 ()
- A. 固结程度较差 B. 沉积颗粒较粗
- C. 垂直节理发育 D. 岩性较为脆弱
11. 推测该处地貌的形成过程 ()
- A. 红层沉积—黄土覆盖—地壳抬升—外力侵蚀—岩石崩塌
- B. 红层沉积—地壳抬升—外力侵蚀—黄土覆盖—岩石崩塌
- C. 地壳抬升—红层沉积—黄土覆盖—外力侵蚀—岩石崩塌
- D. 红层沉积—黄土覆盖—外力侵蚀—岩石崩塌—地壳抬升

2024年4月上旬, 铀矿丰富的中亚国家哈萨克斯坦遭遇了80年来最严重的一次融雪性洪灾, 国土三分之二的面积宣布进入紧急状态。水灾后, 全球市场上铀产品的价格大幅上涨。据此完成12~14题。

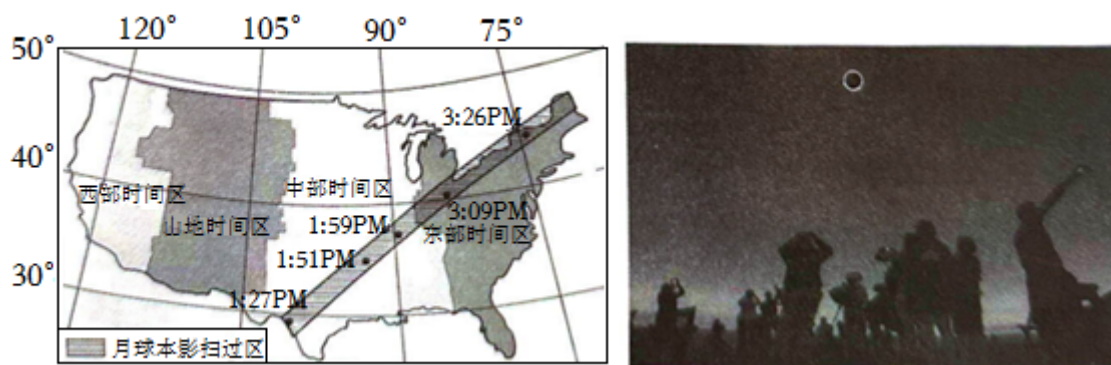
12. 2014年5月初, 控制该区域的天气系统及其运行状况是 ()
- A. 气旋缓慢过境 B. 冷锋缓慢过境
- C. 反气旋缓慢过境 D. 暖锋缓慢过境
13. 气象专家认为全球气候变暖引起的气候异常是此次洪灾的根本原因。具体表现在与常年相比, 该区域自2023年冬至2024年3月 ()
- A. 降水量偏多, 气温偏低
- B. 降水量偏少, 气温偏低
- C. 降水量偏多, 气温偏高
- D. 降水量偏少, 气温偏高
14. 导致洪灾后全球铀产品价格明显上涨的影响因素主要有 ()

①洪灾导致哈萨克斯坦核电站发电量不足

- ② 洪灾导致哈萨克斯坦铀产品产量下降
- ③ 哈萨克斯坦地广人稀，救灾和重建工作推进缓慢
- ④ 全球市场的铀供应总体处于供大于求状态
- ⑤ 全球减少化石燃料并转向清洁能源的趋势日益明显

- A. ①②③ B. ②③④ C. ①④⑤ D. ②③⑤

美国本土由东到西包括西五区至西八区 4 个时区，这 4 个时区分别采用本时区的区时作为标准时间，自东向西依次称为东部时间、中部时间、山地时间和太平洋时间。美国当地时间 2024 年 4 月 8 日下午发生了一次壮观的日全食，月球本影扫过的全食带穿过美国 15 个州。如图示意全食带在美国境内分布图和现场景观，据此完成 15~16 题。


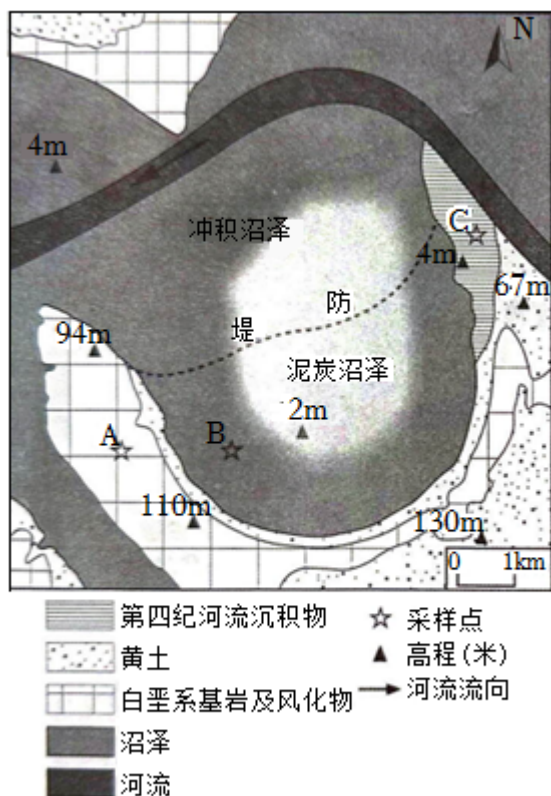


15. 日全食发生时，人们看到的天空并不会像普通的夜晚那样完全黑暗，主要原因是（ ）
- A. 月面对阳光的反射作用
 - B. 月球无法完全遮挡太阳
 - C. 地面对阳光的吸收作用
 - D. 大气对阳光的散射作用
16. 据图判断月球本影的移动方向和扫过美国的时长分别为（ ）
- A. 自西南向东北约一个小时
 - B. 自西南向东北约两个小时
 - C. 自东北向西南约一个小时
 - D. 自东北向西南约两个小时

二、非选择题：本题共 3 题，共 52 分。

17. (10 分) 阅读图文材料，完成下列要求。

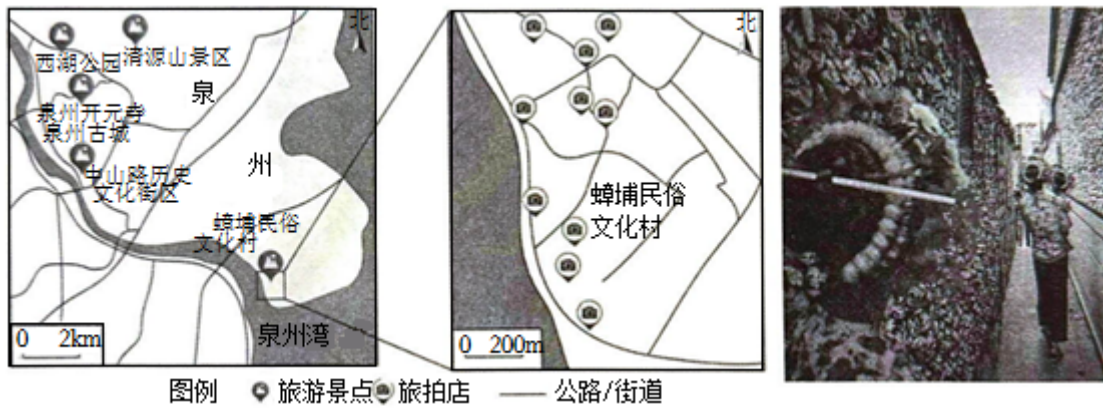
有一地质考察队在法国西部某沼泽地区考察，在 A、B、C 三个采样点各拍了一张照片。如图示意三个采样点拍摄的照片。



请将甲、乙、丙三张照片与 A、B、C 三个采样点进行对应，并说明判断的理由。

18. (20 分) 阅读图文资料，完成下列要求。

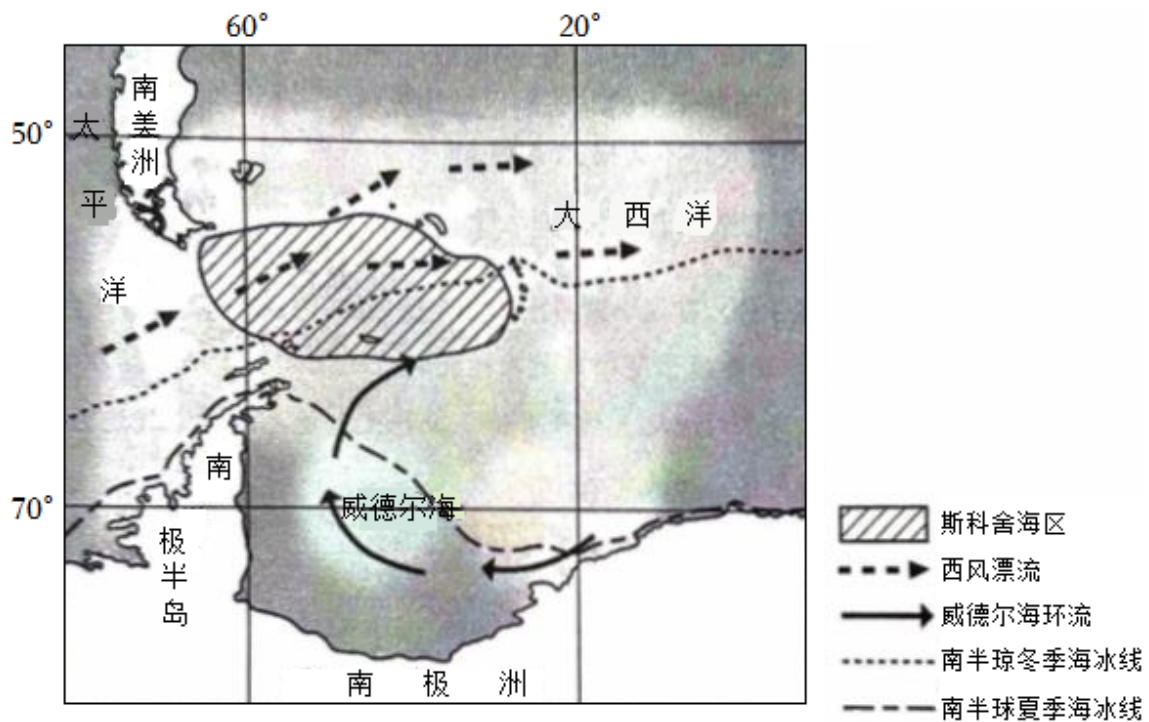
漳埔村位于福建泉州市东南沿海，这里的居民以海为生，世代相传。而头戴簪花的漳埔女，成为小渔村的一道亮丽风景线。在过去很长一段时间，漳埔村的“簪花”习俗一度无人问津，村民也大多在外务工，导致这项非遗文化传承面临巨大困难。近年来，伴随全国文旅市场的持续升温，许多游客慕名而来，只为亲身体验簪花的美丽。而漳埔女们，也乐于与游客分享她们的簪花传统和文化，让更多的人了解这个美丽而古老的小渔村。一些靠捕鱼和挖海蛎为生的村民，经过培训后成为簪花师傅，大量老房子出租给外来经营者，成了旅拍店，漳埔村旅游业迅速崛起。过去以“簪花”为主题的旅拍店多开设于漳埔村内，游客在网络平台或线下门店预约旅拍服务后，与化妆师、摄影师等团队成员随行前往蚵壳厝、海边渔港等拍摄地点，半天就可完成拍摄任务。今年以来，新开设的旅拍店多设在村外，甚至开到更远的泉州古城核心区等地。如图示意漳埔村地理位置和“簪花”旅拍场景。



- (1) 结合蟬埔村“簪花”旅游活动的特点，说明该地旅拍店兴起的原因。
- (2) 分析新的旅拍店大多开设在蟬埔村外的原因。
- (3) 从区域关联性的角度说明人口、文化、经济等人文要素流动对“簪花”非遗文化传承的促进作用。
- (4) 随着蟬埔村旅游业的日趋火爆，当地对是否还要保留传统渔业产生争议。请你对此表明态度并说明理由。

19. (22分) 阅读图文资料，完成下列要求。

中国南极科考队调查发现，距今 3.4 万年以来，南极斯科舍海的东南部沉积物的来源主要受海洋锋（性质明显不同的两种或几种水体之间的狭窄过渡带）、西风带、海冰的迁移及南极冰盖的消长的影响。冰期时，西风带与海洋锋北移，沉积物主要来源于威德尔海南部南极大陆地区，该时期沉积物中也有较多风尘物质来自南美洲；冰消期气候快速回暖，西风带与海洋锋南移，南美风尘输入迅速减弱，西风漂流南部分支增强，导致南极半岛的冰山及沉积物向东搬运至斯科舍海东南部。南极大洋海洋生物生产力受营养盐、海水性质、运动等环境条件制约，冰消期斯科舍海东南部海域海洋生物生产力较强。



- (1) 说明大气环流和海陆轮廓对威德尔海环流形成的影响。
- (2) 请用“—”在图中画出海洋锋位置，并说明海洋锋位置绘制在该区域的理由。
- (3) 冰期时斯科舍海东南部海域沉积物主要有来自斯科舍海南部南极大陆和南美洲的风尘物质，请选择其中一个角度说明其理由。
- (4) 分析冰消期斯科舍海东南部海域海洋生物生产力较强的原因。

2024 年福建省泉州市高考地理适应性试卷（5 月份）

参考答案与试题解析

一、选择题 本题共 16 题，每题 3 分，共 48 分。在每题给出的四个选项中，只有一项是最符合题目要求。

深圳大鹏湾“科创+产业”冷能养殖示范项目是指：大鹏湾液化天然气接收站在液化天然气汽化过程中，利用处理后的常温海水对液化天然气升温，会产生大量无菌、溶氧能力强的低温海水，是难得的高品质低温养殖用水。据此完成 1~2 题。

1. 该示范项目首选龙虾、鲍鱼和笛鲷类鱼的主要原因是这些海洋生物（ ）

- A. 经济价值高
- B. 养殖难度大
- C. 适应能力强
- D. 繁殖速度快

【解答】解：由已学可知，人们从事各种生产活动的主要目的都是为了获取经济利益，由此可知，该示范项目首选龙虾、鲍鱼和笛鲷类鱼的主要原因是这些海洋生物价格较贵，经济价值高，A 正确。材料中没有关于养殖难度、适应能力、繁殖速度的相关信息，BCD 错误。

故选：A。

2. 该项目采用流动的冷海水养殖主要是为了（ ）

- A. 实现全年供应
- B. 提高海产品品质
- C. 减轻海洋污染
- D. 降低能源消耗

【解答】解：由材料“.....会产生大量无菌、溶氧能力强的低温海水，是难得的高品质低温养殖用水”可知，低温养殖用水的品质高，采用流动的冷海水养殖可以提高海产品品质，B 正确。

实现全年供应、减轻海洋污染不是主要目的，AC 错误。

采用流动的冷海水养殖会增加能源消耗，D 错误。

故选：B。

地方粮食储备是维护国家粮食安全和市场稳定的第一道防线。粮食储备基地建设必须综合考虑储备规模效益、时间距离成本、经济基础和社会协作以及行政区划等因素，作为“绿色储粮”基地的青藏高原已建立 2 个粮食省级储备粮基地。如图示意青藏高原省、市级储备粮基地分布。据此完成 3~5 题。

- A. ①③ B. ②③ C. ①④ D. ②④

【解答】解：近年来，为应对入藏人数增加，青藏高原储备粮基地应该扩大粮食储备规模，以备不时之需，①正确。

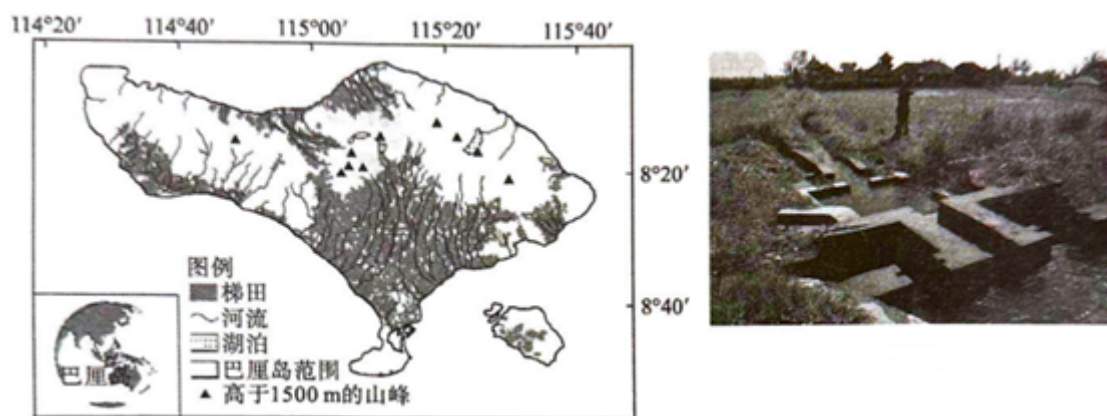
满足不同区域来的人的需求，品种多元化，④正确。

青藏高原储备粮基地应该适当延长储存周期，②错误。

充分挖掘土地潜力发展农业超出青藏地区的环境承载力，不是青藏高原储备粮基地应该做的，③错误。

故选：C。

印度尼西亚巴厘岛同一灌溉水源的梯田间存在竞争用水的关系，当所有梯田同时进入水稻移栽、分蘖等用水高峰期时，水量将严重不足。为保障梯田水稻生产，岛上居民建设了发达的沟渠网络，沟渠在梯田中的分布格局大致与等高线平行，推行分水度量制度对水资源进行管理，在从干流向下级沟渠分水的岔口上，通过不同尺寸的凹槽来度量并限定从水渠流向梯田的分水量。如图示意巴厘岛梯田分布和分水度量设施。据此完成6~8题。



6. 巴厘岛水热条件组合最优的时段是（ ）
- A. 3月 - 5月 B. 6月 - 8月
- C. 9月 - 11月 D. 12月 - 次年2月

【解答】解：3月 - 5月、6月 - 8月太阳直射点在北半球，9月 - 11月期间，太阳直射点由北半球向南半球移动，北半球水热状况较好，ABC 错误。

巴厘岛位于南纬8度左右，12月 - 次年2月期间，太阳直射南半球，南半球水热条件好，D 正确。

故选：D。

7. 巴厘岛梯田竞争用水是因为（ ）
- A. 年径流量小，水资源总量不足
- B. 河流较短促，水资源利用率低
- C. 复种指数高，灌溉用水周期长

以上内容仅为本文档的试下载部分，为可阅读页数的一半内容。如要下载或阅读全文，请访问：<https://d.book118.com/008042113063006075>