

2010-2023 历年北京市西城区高三上学期期末 考试政治试卷（带解析）

第 1 卷

一. 参考题库(共 25 题)

1.拜群众为师，是中国共产党人的永恒课题，任何时候都具有十分重要的意义。

运用哲学知识，说明中国共产党人为什么要拜群众为师。（6分）

2.某地中小企业发展面临着一系列困境。在当地人大全体会议举行期间，人大代表可以就扶持中小企业发展、健全服务机制方面提出议案，行使

3.“2012 北京榜样”北京新闻广播大型人物评选活动，面向社会广泛征集榜样候选人物，他们不是“明星”、不是“大人物”、不是“名人”，他们在平凡的工作岗位上展现了基层老百姓积极、乐观的人生态度，他们以平凡的举动展现了不平凡的精神力量。开展“2012 北京榜样”评选活动的意义在于

- ①保持文化的相对独立性 ②使中华民族精神薪火相传
③让人们感受文化的物质力量 ④发挥文化对人潜移默化的影响

- A. ①②
B. ②③
C. ②④
D. ③④

4.政府收入、企业收入和居民收入在国民收入分配中的比重

政府收入

企业收入

居民收入

1995 年

24.25%

9.88%

65.87%

2010 年

30.48%

15.82%

53.35%

上表数据表明，我国要更好地实现收入分配公平，必须

- A. 提高政府收入在国民收入分配中的比重
- B. 使劳动报酬增长与劳动生产率脱钩
- C. 提高居民收入在国民收入分配中的比重
- D. 在再分配中处理好效率与公平的关系

5.2012 年武汉市从普通市民中聘任三名市民为政府参事，改变了参事多为政府单位推荐的遴选模式，为全国首创。回答以下问题。

【小题 1】政府参事的职责包括参政议政、咨询国是、民主监督等。该市公开选拔“布衣参事”

- ①为公民提供了政治参与权
- ②让对人民负责成为政府的责任
- ③利于政府借助各方政治智慧
- ④激发广大公民更加关心权利实现

- A. ①③
- B. ①④
- C. ②③
- D. ③④

【小题 2】某中学生撰写一篇关于“布衣参事”的小论文，为了说明这种制度设计的必要性，他最适宜借用的古语是

- A. 先天下之忧而忧，后天下之乐而乐
- B. 知屋漏者在宇下，知政失者在草野
- C. 良药苦口利于病，忠言逆耳利于行

D. 莫愁前路无知己，天下谁人不识君

6.我国按照坚持优先发展教育的要求，2012年中央财政按全国财政性教育经费支出占国内生产总值的4%编制预算，地方财政也做出相应安排，中央和地方教育财政支出比上年均有所增长。

结合材料，运用《经济生活》知识说明增加教育财政投入有什么意义。（8分）

7.微电影是网络时代的电影形式。近两年，我国已有数千部微电影问世，各种类型的微电影呈“井喷式”增长。回答以下问题。

【小题1】依据北京2012年“7·21”大雨中真实感人事迹创作而成的系列微电影《大雨》，讲述了现实生活中人们团结互助、共抗灾害的感人故事。承载主流价值的微电影可以

①通过有限的篇幅传播厚德理念 ②传递社会正能量的公益观念

③宣传中华优秀传统文化的先进性 ④主导人们的价值取向

A. ①②

B. ①④

C. ②③

D. ③④

【小题2】我国网络视频用户与日俱增，年轻人更倾向于通过互联网、移动手机等收看影视作品。而微电影巧妙地将网络与电影相结合，利用网络这一开阔的平台，创造出短小精炼的电影艺术作品。这表明，在我国

A. 创意文化产业发展迅猛

B. 影视文化的国际影响力较强

C. 影视文化在创新中实现发展

D. 科技文明程度达到全新水平

8.读图。漫画中的文字为：“质量”迎来的是顾客的再次光顾，而非卖出去的货物的再次光顾。回答题。



【小题1】顾客购物，通常会关心商品的两个基本属性，即

- A. 使用价值和价值
- B. 价值和交换价值
- C. 交换价值和价格
- D. 具体劳动和抽象劳动

【小题2】漫画启示我们，商家为了培养长期的顾客关系，减少顾客流失，应该

- A. 扩大经营的范围和规模
- B. 经常性地开展促销活动
- C. 想方设法降低生产运营成本
- D. 始终做到公平买卖、诚信经营

9.材料一 近年来，丽江、平遥等古城倍受游客青睐，旅游业带动了当地经济发展。有的地区受其启发，也投入巨资，在现存历史遗迹基础上大拆大建，完全复建一座古城。

材料二 有专家认为，复建古城的初衷应是文物保护和利用，不能只把拉动经济增长作为目的。如果复建的古城表面上宏伟、漂亮，但破坏了现存文物及周围环境，失去了文化底蕴和内涵，游客是不喜欢去看的。

结合材料，运用《文化生活》的知识，说明应如何看待复建古城。（5分）

10.在海外，越来越多的中国建筑企业不再是承包建筑项目中的某一部分，而是开始整体承建大型工程，完成全套的“交钥匙”项目。下列选项中，能够成为中国建筑企业成功“走出去”原因的有，这些企业

- ①有精通国际商务规则的企业家掌舵
- ②掌握核心技术，创新商业模式
- ③制定的建设标准的先进性得到当地认可
- ④尽量绕开中外利益的交汇点

- A. ①②③
- B. ①②④
- C. ①③④
- D. ②③④

11.有人总结，历史上凡是新兴大国崛起，都会同已有的霸权国展开霸权之争，最终通过一场全球性战争，导致霸权的更迭。回答题。

【小题1】中国走和平发展道路，完全不同于历史上新兴大国的争霸崛起。历史逻辑决定不了现实逻辑，因为

- A. 社会历史发展并无规律可言
- B. 和平崛起是从来就有，也是永恒不灭的
- C. 人类社会发展的前途是光明的
- D. 在不同历史条件下人们的价值选择不同

【小题2】中国始终不渝地走和平发展道路，是因为

- ①这是我们根据时代发展潮流和自身根本利益做出的抉择
- ②我国与其他国家之间不存在任何利益差别乃至对立
- ③我国努力为改革开放和现代化建设争取有利的和平环境
- ④当前国际竞争的实质是以经济和科技实力为基础的综合国力的较量

- A. ①②
- B. ①③
- C. ②④
- D. ③④

12.“2012 北京榜样”北京新闻广播大型人物评选活动，面向社会广泛征集榜样候选人物，他们不是“明星”、不是“大人物”、不是“名人”，他们在平凡的工作岗位上展现了基层老百姓积极、乐观的人生态度，他们以平凡的举动展现了不平凡的精神力量。开展“2012 北京榜样”评选活动的意义在于

- ①保持文化的相对独立性 ②使中华民族精神薪火相传
- ③让人们感受文化的物质力量 ④发挥文化对人潜移默化的影响

- A. ①②
- B. ②③
- C. ②④
- D. ③④

13.在有人感叹社会冷漠的时候，总有一些事情让我们温暖。

<p>【最美女教师】张丽莉老师，在失控的汽车冲向学生时，一把推开了两个学生，而自己却被车轮碾压，造成双腿高位截肢。</p>
<p>【最美“熊猫姑娘”】周晓娟的稀有血型在汉族人口中占比是万分之几。4000多毫升，这是她11年无偿献血的血量，比她现在身体里流淌的血液还多。</p>
<p>【最美女中学生】有患者家属在公交车上遗失了4万元。一位女中学生捡到后交给车长，但没留下姓名。最后人们还是找到了她——石家庄十二中高三学生张莹。</p>

(1) 请任选上述一位“最美的人”或另举实例（可以是其他“最美的人”或默默无闻的好人），说明为什么“Ta”最美。（2分）

(2) 用《文化生活》中道德的有关知识, 说明中学生不仅应该有一双善于发现“最美”的眼睛, 还应该有一颗追求“最美”的心。(4分)

14. 拜群众为师, 是中国共产党人的永恒课题, 任何时候都具有十分重要的意义。运用哲学知识, 说明中国共产党人为什么要拜群众为师。(6分)

15. 统计显示, 我国涉及工商登记的前置行政许可(审批)有100多项, 个体户拿营业执照, 需要经过道道门槛; 并且各部门制定行业管理法, 普遍借鉴国际标准, 标准偏高偏严。减少和降低个体户领取营业执照的门槛很重要, 因为个体经济

- A. 在国民经济中起主导作用
- B. 在我国所有制结构中处于主体地位
- C. 规模小、投资少、设备简单、经营灵活
- D. 在方便人民生活、增加就业等方面有不可替代的作用

16. 英国管理学家霍金森说: “哲学的任务在于它必须先于行动。倘若哲学家不能成为管理者, 那么管理者就应成为哲学家。”这一观点强调了

- A. 管理科学是哲学的基础
- B. 哲学是科学的世界观
- C. 真理是检验认识正确与否的标准
- D. 哲学对管理实践有指导作用

17. 我国按照坚持优先发展教育的要求, 2012年中央财政按全国财政性教育经费支出占国内生产总值的4%编制预算, 地方财政也做出相应安排, 中央和地方教育财政支出比上年均有所增长。

结合材料, 运用《经济生活》知识说明增加教育财政投入有什么意义。(8分)

18.近年来,美国大举“双反”(反补贴、反倾销)大棒制裁中国出口企业,但最终会伤及自己的利益,因为

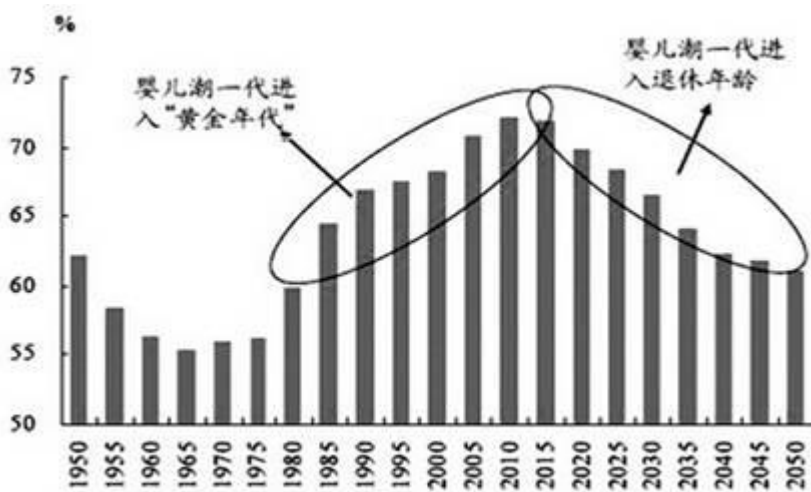
- A. 矛盾不应该是普遍存在的
- B. 中美作为矛盾双方有依存的一面
- C. 美国经济不景气应找自身内因
- D. 旧事物要扶持新事物的成长

19.世界上许多民族都形成了自己特有的价值观念。得益于文化的多样性,人们不断开阔视野、相互借鉴,比如中国“和”的思想,到今天仍对各国处理国际关系具有现实的启发意义。这表明

- A. 中华民族精神具有强大的凝聚力
- B. 文化多样性对人类文明进步有促进作用
- C. 传统文化是人类知识、灵感和创作的来源
- D. 世界各国人民都应从中华文化中获得启迪

20.法国哲学家孔德曾说,人口就是一个国家的命运。回答下列问题。

材料一



中国 15~64 岁人口占比

注：①国际上估计劳动年龄人口，15~64 岁是常用的统计口径之一。本统计忽略中外劳动者实际工作年限的差异。②婴儿潮，指在某一时期及特定地区，人口出生率大幅提升的现象。

材料二 劳动密集型企业是指生产需要大量劳动力的企业。一些劳动力资源丰富，而资金短缺、技术发展水平较低的发展中国家，注重发展劳动密集型企业。

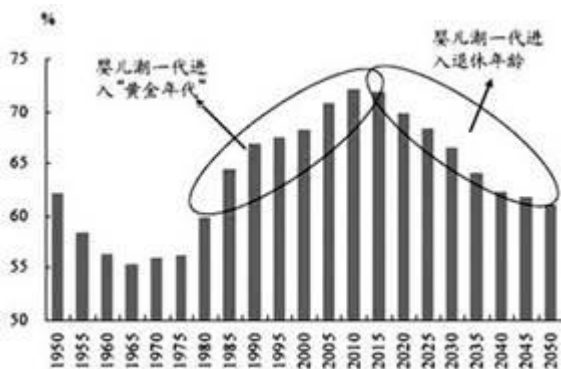
(1) 根据劳动密集型企业的特点，分析 1980~2010 年的人口状况为什么对我国经济增长有助推作用。(3 分)

2009~2012 年中国劳动力基本工资年增长率递增，此后 10 年中国劳动力成本将处于上升阶段。

(2) 结合李嘉图的比较成本学说，分析中国今后发展对外贸易是否还需要依靠劳动力成本优势。(6 分)

21. 法国哲学家孔德曾说，人口就是一个国家的命运。回答下列问题。

材料一：



中国 15~64 岁人口占比

注：①国际上估计劳动年龄人口，15~64 岁是常用的统计口径之一。本统计忽略中外劳动者实际工作年限的差异。②婴儿潮，指在某一时期及特定地区，人口出生率大幅提升的现象。

材料二：劳动密集型企业是指生产需要大量劳动力的企业。一些劳动力资源丰富，而资金短缺、技术发展水平较低的发展中国家，注重发展劳动密集型企业。

(1) 根据劳动密集型企业的特点，分析 1980~2010 年的人口状况为什么对我国经济增长有助推作用。(3 分)

2009~2012 年中国劳动力基本工资年增长率递增，此后 10 年中国劳动力成本将处于上升阶段。

(2) 结合李嘉图的比较成本学说，分析中国今后发展对外贸易是否还需要依靠劳动力成本优势。(6 分)

22. 列宁说：“只有普遍的、直接的、平等的选举才可以说是民主的选举。只有根据普选法，由全体居民选出的委员会才是民主的委员会。”选举的最重要原则是充分体现选举人的意志，而最能体现选举人意志的是

- A. 直接选举
- B. 间接选举
- C. 等额选举
- D. 上级指定

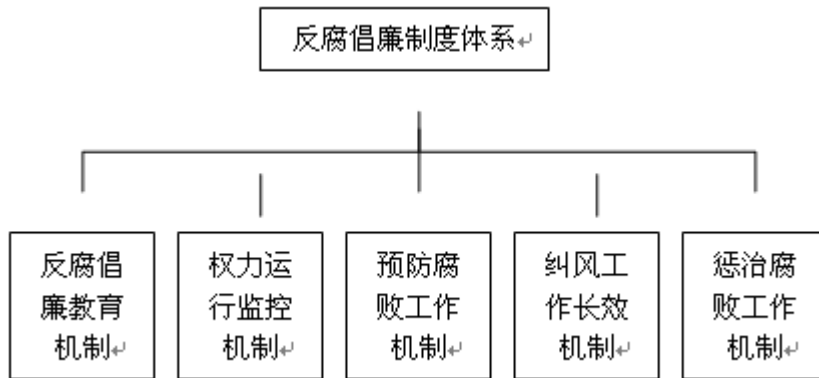
23. 反对腐败、建设廉洁政治，是党一贯坚持的鲜明政治立场，是人民关注的重大政治问题。回答下列问题。

观点一“公开是腐败的天敌，阳光是最好的防腐剂。”

观点二“人民才是国家权力的真正所有者，才是腐败的真正天敌。”

(1) 关于“腐败的天敌”的两个观点是否矛盾？请判断并说明理由。(5 分)

某地区党委在多年实践的基础上，积极建设反腐倡廉制度体系，惩治和预防腐败的有效性得到加强。如下图（简图）：



(2) 结合材料，说明必须把建设廉洁政治作为一项系统工程来抓的哲学依据。(5分)

24.30 多年前，中国经济还处于崩溃的边缘，全国有 2.5 亿人尚未解决温饱问题；30 多年后，中国发生了翻天覆地的巨变；今天，我们正为全面建成小康社会而奋斗。回答以下问题。

【小题 1】30 多年来，我们取得历史性成就和进步，关键在于我们坚持改革创新

- A. 彻底否定了过去的历史
- B. 用正确的社会意识决定社会存在
- C. 使生产关系适合生产力发展状况
- D. 使经济基础适合上层建筑发展状况

【小题 2】邓小平在 1992 年的南方谈话中说：“要注意经济稳定、协调地发展，但稳定和协调也是相对的，不是绝对的。发展才是硬道理。”这告诉我们

- A. 社会发展是客观的，无涉于人的意识
- B. 要按真理办事，科学理论有不可超越的顶峰
- C. 要处理好事物根本性质稳定与发展之间的关系
- D. 没有发展，就没有一切新事物的出现

25.在有人感叹社会冷漠的时候，总有一些事情让我们温暖。

以上内容仅为本文档的试下载部分，为可阅读页数的一半内容。

如要下载或阅读全文，请访问：

<https://d.book118.com/008107017127007004>