

100 以内加减法

第 1 课时

练习题 (一)

时间：_____ 做对了：_____ 题 (共 100 题) 得分：_____

$44+3=$	$86+4=$	$29+7=$	$95-20=$	$79-50=$
$12+9=$	$34+2=$	$6+24=$	$80-50=$	$5+61=$
$60-40=$	$67-30=$	$66-60=$	$71+2=$	$84-10=$
$1+19=$	$59-10=$	$15+9=$	$3+66=$	$64+1=$
$74+8=$	$30+19=$	$54+8=$	$58-40=$	$95+5=$
$3+86=$	$6+78=$	$39+60=$	$5+57=$	$7+32=$
$76-40=$	$10+48=$	$10+77=$	$40+37=$	$84-50=$
$37-10=$	$70+13=$	$89+1=$	$9+42=$	$1+22=$
$7+53=$	$75-40=$	$78-50=$	$52+3=$	$83+8=$
$56-20=$	$80+3=$	$29+6=$	$36+8=$	$12+1=$

$32+17=$	$58+14=$	$80-20=$	$88-50=$	$93-60=$
$88+6=$	$24+37=$	$49-10=$	$36+30=$	$97-80=$
$7+85=$	$45+30=$	$20+56=$	$91+6=$	$6+88=$
$19+10=$	$55+40=$	$60-50=$	$84+12=$	$24+74=$
$20+50=$	$73-20=$	$89+4=$	$28+8=$	$8+70=$
$22+6=$	$64-10=$	$46+4=$	$51+8=$	$96-60=$
$32+63=$	$6+26=$	$26+9=$	$68-50=$	$38-20=$
$63-50=$	$50+45=$	$68-20=$	$19+38=$	$83+3=$
$85-80=$	$32+40=$	$47-20=$	$43+43=$	$72-50=$
$64-20=$	$98-50=$	$40+25=$	$4+42=$	$7+79=$

第 2 课时

练习题 (二)

时间：_____ 做对了：_____ 题 (共 100 题) 得分：_____

$20+39=$	$31+8=$	$91-70=$	$20+52=$	$41-20=$
$3+53=$	$51+9=$	$5+87=$	$97-50=$	$9+90=$
$46+50=$	$10+38=$	$23+8=$	$31-30=$	$62+9=$
$10+19=$	$80+7=$	$98-10=$	$46+40=$	$58-20=$
$34+6=$	$40+19=$	$54-30=$	$70+14=$	$25+60=$
$81-50=$	$51-40=$	$4+16=$	$42+30=$	$49+5=$
$2+66=$	$10+1=$	$20+28=$	$19-10=$	$42+19=$
$30+34=$	$8+64=$	$4+58=$	$7+48=$	$26+16=$
$62+30=$	$6+23=$	$40+3=$	$22-20=$	$77+6=$
$81-80=$	$8+39=$	$9+26=$	$2+79=$	$1+38=$
$74-20=$	$94+2=$	$8+60=$	$23+30=$	$10+27=$

$4+61=$	$1+53=$	$3+10=$	$8+45=$	$64+1=$
$7+84=$	$54+7=$	$9+27=$	$96-20=$	$55+1=$
$36+40=$	$89-70=$	$24+3=$	$30+44=$	$4+36=$
$23+40=$	$3+92=$	$47+10=$	$4+49=$	$20+44=$
$47-20=$	$14+30=$	$2+85=$	$80-80=$	$40+43=$
$60+25=$	$64-30=$	$4+42=$	$40-20=$	$70+12=$
$8+28=$	$71+3=$	$8+71=$	$18+60=$	$52-40=$
$37+8=$	$51+9=$	$20+9=$	$88-60=$	$55+30=$
$57+9=$	$8+16=$	$43+9=$	$4+25=$	$68-60=$

乘法口诀与乘法

第3课时

练习题(三)

时间：_____

得分：_____

一、填空

二()一十 ()九六十三 七九() 四()

二十八

()八三十二 二九() 三()十

五 ()七二十一

三六() 五()四十五 ()六十八 二

八()

六()四十二 ()八十四 四九() 七

()六十三

()七四十二 三()二十四 四六() ()

二十五

()九四十五 六九() 八()七十二 ()

八四十八

三()二十一 ()五三十五 四七() 五

() 四十

三九 () 四 () 三十六 () 六三

十 三三 ()

三八 () 四 () 二十 () 四得八 九

九 ()

六 () 五十四 () 七三十五 三六 () 五

() 四十五

() 七四十二 七九 () 三 () 十

二 () 七四十九

六八 () 八 () 六十四 () 八五十六 四

八 ()

七 () 五十六 二七 () 三 () 二十七 六七 ()

() 十六 三五 () 三四 () 四五 ()

二、计算并写出口诀

$2 \times 3 =$ 口诀 $3 \times 4 =$ 口诀 $4 \times 3 =$ 口诀

$5 \times 3 =$ 口诀 $2 \times 5 =$ 口诀 $5 \times 5 =$ 口诀

$4 \times 3 =$ 口诀 $5 \times 5 =$ 口诀 $3 \times 5 =$ 口诀

() × 2 = 4 口诀 () × 3 = 15 口诀 () × 3 = 15 口诀

6+6+6+6+6 = () × () 口诀 2+2+2+2+2+2 = () × () 口诀

三、按要求画一画，再填一填。

1. 画△，每堆画2个，画3堆。 2. 画○，每堆画3个，画4堆。

加法算式：_____

加法算式：_____

乘法算式：_____

乘法算式：_____

口诀：_____

口诀：_____

第4课时

练习题（四）

时间：_____

得分：_____

一、看图写算式

1. △△△ △△△

□ × □ = □

2. $\triangle\triangle\triangle \quad \triangle\triangle\triangle \quad \triangle \quad \square \times \square \bigcirc \square = \square$ (个)

3. $// // // \quad // // // \quad // // // \quad // //$ 一共有多少根 / ?

$\square \bigcirc \square \bigcirc \square = \square$ (根)

4. $\star\star \quad \star\star \quad \star\star \quad \star$ 乘加算式: _____ 乘减算式: _____

5. 看图写出两道乘法算式和一句口诀。

$\triangle\triangle\triangle \quad \triangle\triangle\triangle \quad \triangle\triangle\triangle \quad \triangle\triangle\triangle$

乘法算式: _____ 或 _____ 口诀: _____

二、在 \bigcirc 里填上 “<”、“>” 或 “=”。

$4 \times 1 \bigcirc 5 \quad 3 \times 3 \bigcirc 6 \quad 5 \times 5 \bigcirc 6 \times 4$

$2 \times 1 + 2 \bigcirc 1 \times 3 + 1 \quad 6 + 6 \bigcirc 6 \times 6$

三、在 \bigcirc 里填上 “+”、“-” 或 “ \times ”

$3 \bigcirc 3 = 6 \quad 4 \bigcirc 3 = 7 \quad 2 \bigcirc 3 = 6 \quad 3 \bigcirc 1 = 2 \quad 1 \bigcirc 1 = 1 \quad 5 \bigcirc 1 = 4$

四、列乘法算式计算

1. 一个乘数是 3，一个乘数是 6，积是多少？

2. 6 个 3 相加的和是多少？

3、两个乘数都是 4，积是多少？

4、两个乘数都是 9，积是多少？

5、9 个 9 相加的和是多少？

6、9 乘以 9 的积是多少？

7、9 加上 9 的和是多少？

8、8 个 8 连加的和是多少？

第 5 课时

练习题（五）

时间：_____

得分：_____

一、解决问题

1、李马睿有 6 个苹果，马羽茜有 1 个苹果，两人一共有多少个苹果？

5 盆花，他们一共浇了多少盆花？

3、每包奶片 6 元，3 包奶片多少钱？

4、5 组小朋友做游戏，每组 6 人，一共有多少人做游戏？

5、丁心怡家种了 5 棵桃树，5 棵梨树，5 棵苹果树，小米粒家种了 4 棵桃树，4 棵梨树，4 棵苹果树，4 棵桑树。（ ）家种的树多，多几棵？

6、同学们浇树，每个人浇 4 棵，3 个人一共浇多少棵？

7、学校开联欢会，操场上有红、绿、黄三种气球各 8 个，操场上有多少个气球？

8 二年级学生参加图画和有 25 人，参加唱歌组的有 28 人，_____？

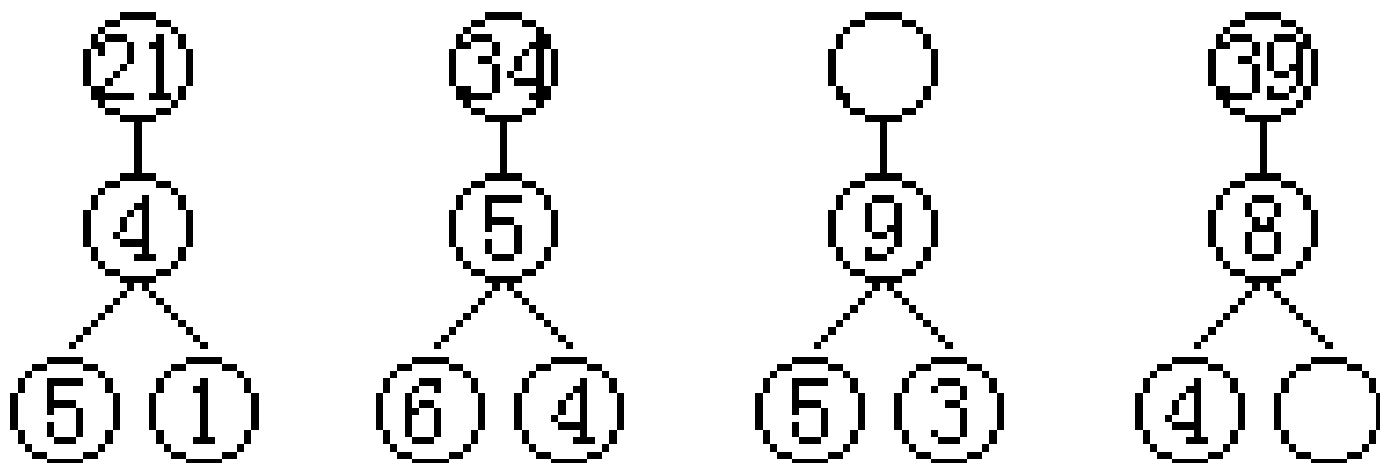
二、妙用乘法口诀

$$4 \times 4 + 4 + 4 + 8 = (\quad) \times (\quad)$$

$$5 + 5 + 5 + 5 - 4 = (\quad) \times (\quad)$$

$$9 + 9 + 9 + 9 + 6 = (\quad) \times (\quad)$$

三、思考题 找规律填数。



6 课时

练习题（六）

时间：

得分：_____

一、看谁算得又准又快。

$1 \times 1 + 1 =$

$2 \times 2 + 2 =$

$3 \times 4 + 10 =$

$4 \times 4 + 5 =$

$3 \times 4 + 8 =$

$5 \times 1 + 9 =$

$4 \times 2 + 6 =$

$5 \times 3 + 9 =$

$5 \times 4 + 7 =$

$3 \times 6 + 6 =$

$2 \times 9 + 9 =$

$5 \times 4 + 7 =$

1	$1+2=$	$1\times 1+3=$	$2\times 3+2=$	$2\times 4+2=$
	$2\times 7+2=$	$3\times 5+3=$	$3\times 6+4=$	$6\times 3+3=$
	$6\times 4+3=$	$6\times 5+3=$	$6\times 2+8=$	$4\times 5+5=$
	$4\times 6+5=$	$4\times 2+9=$	$4\times 5+8=$	$5\times 3+6=$
	$5\times 5+6=$	$5\times 4+7=$	$5\times 9+6=$	$1\times 9+2=$
	$1\times 8+3=$	$1\times 7+6=$	$3\times 9+3=$	$3\times 4+10=$
	$3\times 6+4=$	$2\times 8+4=$	$2\times 7+8=$	$2\times 6+9=$
	$47+3=$	$6\times 5=$	$3\times 3+8=$	$4\times 5-10=$
	$75-40=$	$5\times 4=$	$5\times 5-10=$	$4\times 3-6=$
	$5+66=$	$40-4=$	$2\times 4-8=$	$5\times 6-5=$
	$39+4=$	$40+26=$	$6\times 2-9=$	$3\times 6-5=$

二、填一填。

- 两个加数都是 5，和是()；两个乘数都是 5，积是()。
- $6+6+6+6$ 是 () 个 () 相加，乘法算式是 () \times ()。
- $12 = () \times () = () \times ()$ 。

4、 $4+4+4+4+1 = \square \times \square + \square$

$5+5+3 = \square \times \square + \square$

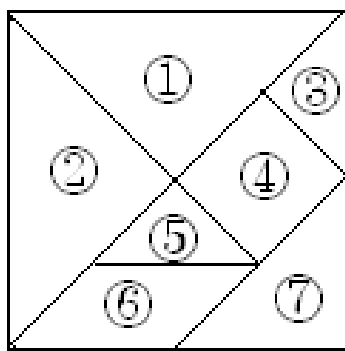
$6+6+6+6+4 = \square \times \square + \square$

5、



每束有 () 朵，有 () 束，要求一共有多少朵，就是求 () 个 () 相加。

6、



) 个三角形, () 个四边形。三角形中, () 和 () 大小相等, () 和 () 大小相等。

7、在○里填>、<或=。

70-5○56 8○2×4 3×4○4+3 30-5○5×58

8、在○里填+、-或×。

6○6=12 6○4=24 6○1=5 3○4○2=10

三、请你来做小裁判。(对的打“√”, 错的打“×”)

1、5+5+5 写成乘法算式是 3×5。 ()

2、3 个 6 相加是 3+6。 ()

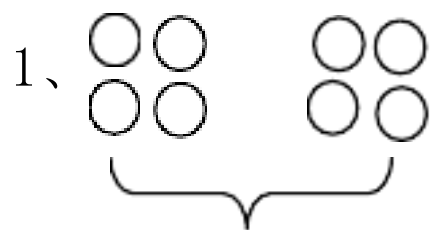
3、两个乘数都是 5, 积是 10。 ()

4、4+4+4+3 等于 4×4-1。 ()

7 课时

练习题 (七)

一、看图列式。



() 个 ()

() ○ () = ()



? 个

() ○ () ○ () = ()

3、



() ()

乘法算式： () ()

二、动脑想一想，写出乘法算式

$4+4+4=() \times ()$

$5+5+5+5=() \times ()$

$6+6+6+6=() \times ()$

$9+9+9+9+9=() \times ()$

三、解决问题。

1、



(1) 做这两件衣服一共要用多少粒纽扣



(2) 做这两件衣服一共要用多少粒纽扣

2.



6元



5元



1元

(1) 买 5 个笔盒需要多少钱？

$\square \circ \square \square$


(2) 买 4 个放大镜需要多少钱？

$\square \circ \square = \square$ ()

(3) 买 6 支铅笔需要多少钱？

$\square \circ \square = \square$ ()

3. 兰兰家栽了 2 行桃树，一行 6 棵，一行 4 棵。一共栽了多少棵？



(1) 一共有多少只小鹿? ()x()=() 只

(2) 这些小鹿共有多少只耳朵()x()=() 只

(3) 这些小鹿共有多少条腿? () x()=() 只

(4) 你还能提出什么问题? _____

() x()=()

课时

练习题 (八)

一、我会算

$3 \times 4 =$	$3 \times 4 =$	$85 - 32 =$	$77 - 30 - 6 =$	$3 \times 2 + 11 =$
$3 + 7 =$	$4 \times 2 =$	$31 - 2 =$	$80 - 78 + 56 =$	$9 - 2 \times 2 =$
$5 \times 2 =$	$3 \times 3 =$	$26 + 6 =$	$34 + 7 - 41 =$	$5 + 5 \times 4 =$
$1 \times 5 =$	$3 \times 5 =$	$8 + 41 =$	$14 + 15 + 16 =$	$5 \times 5 - 8 =$

二、填空

(1) 填口诀

二四 () () 得九 () 十二 () 二十五

以上内容仅为本文档的试下载部分，为可阅读页数的一半内容。如要下载或阅读全文，请访问：<https://d.book118.com/015333331121011324>