

第一部分 系统复习 成绩基石

板块二 地球的表层

主题五 居民与文化



 **河南中招五年真题**

 **理考点·练基础**



河南中招五年真题

命题点一

(2023河南) 人口分布受多种因素影响。一个地区人口数量过多或过少，都会成为人口问题。读南美洲人口分布示意图，完成1~3题。



1.南美洲人口集中分布在(C)

- A.北部 B.内陆地区 C.东南部 D.河流沿岸

2.影响甲区域人口分布的主要因素是(D)

- A.地形 B.矿产 C.河流 D.气候

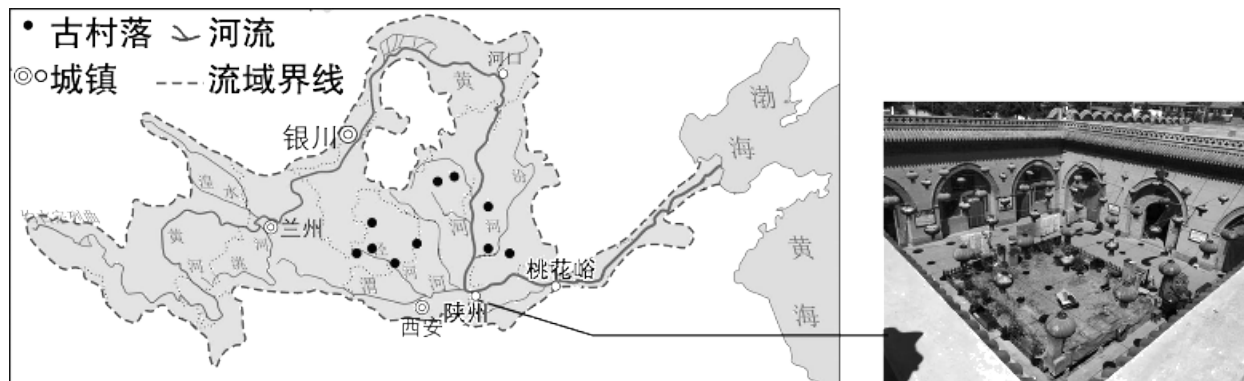
3.乙区域可能出现的人口问题有(C)

①劳动力短缺；②交通压力增大；③居住条件差；④国防兵源不足

- A.①② B.①④ C.②③ D.③④

命题点二

(2021河南) 古村落是中华文明的根脉所在。读陕州地坑院景观图，完成4~6题。



4. 陕州地坑院是黄河流域典型的古村落，被称为“地平线下古村落，民居史上活化石”。地坑院的特点是(**D**)

- A. 通风良好
- B. 防潮防湿
- C. 利于散热
- D. 冬暖夏凉

5.关于黄河流域古村落分布的叙述，正确的是(C)

①多沿干支流分布；②银川至河口段降水多，古村落少；③多分布在甘肃省；④历史时期下游多洪涝，古村落少

A.①②

B.①③

C.①④

D.③④

6.对古村落应采取的措施是(B)

①合理保护，有序开发；②增加投入，维护修缮；③整村搬迁，翻新重建；④加大宣传，提高认识

A.①②③

B.①②④

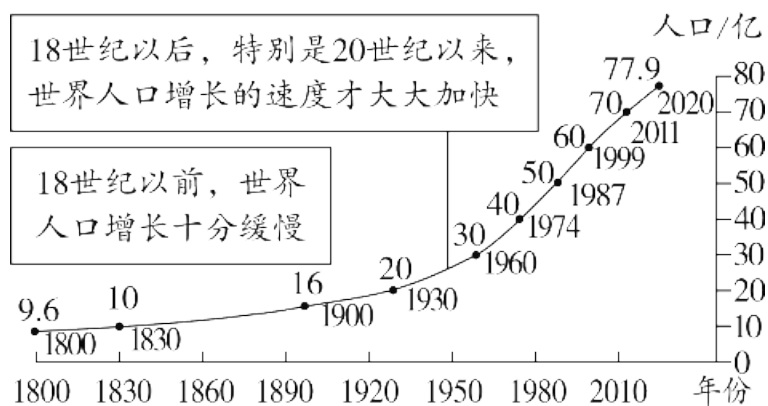
C.①③④

D.②③④

考点一 人口与人种（5年1考）（2023.3~5）RJ七上P70—76，XJ七上P48—55，SW七上P88—98

一、人口

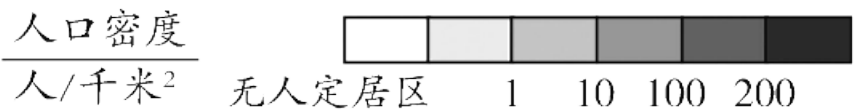
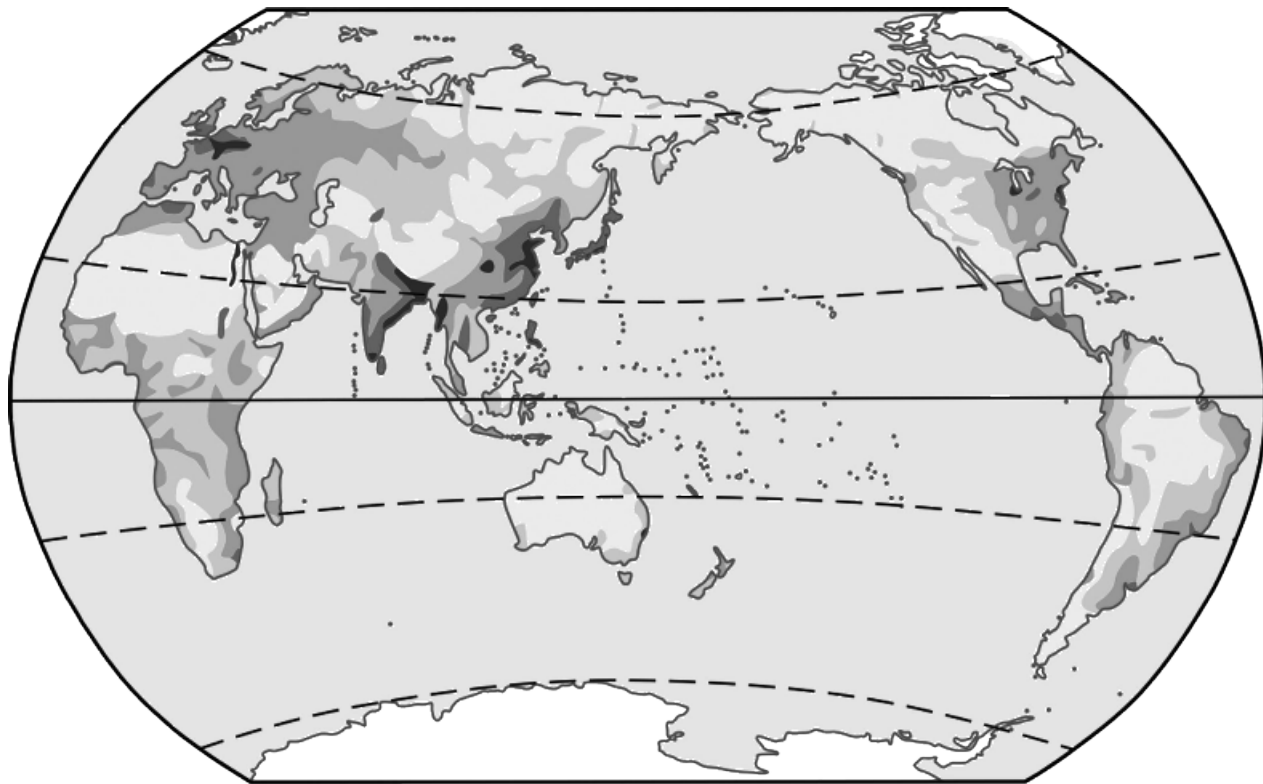
1.世界人口增长规律



2.人口自然增长率=人口① 出生率 -人口死亡率；人口自然增长率最高的大洲是② 非洲，最低的大洲是③ 欧洲。

3.人口疏密程度：人口密度是指某一地区平均每平方千米的人口数量。单位是④ 人/千米²。

4.世界人口空间分布规律及原因



世界人口分布图

	分布地区	原因
人口稠密区	亚洲的⑤ <u>东部</u> 和南部；欧洲⑥ <u>西部</u> ；北美洲东部的沿海和平原地区	平原面积广阔，气候温暖湿润，农业发展早，工业、交通、城市发展快
人口稀疏区	沙漠地区	极端⑦ <u>干旱</u>
	雨林地区	气候过于⑧ <u>湿热</u>
	高原、山区	地势⑨ <u>高峻</u> ，气候寒冷，交通不便
	高纬度地区	终年⑩ <u>严寒</u>

5.人口问题及解决措施

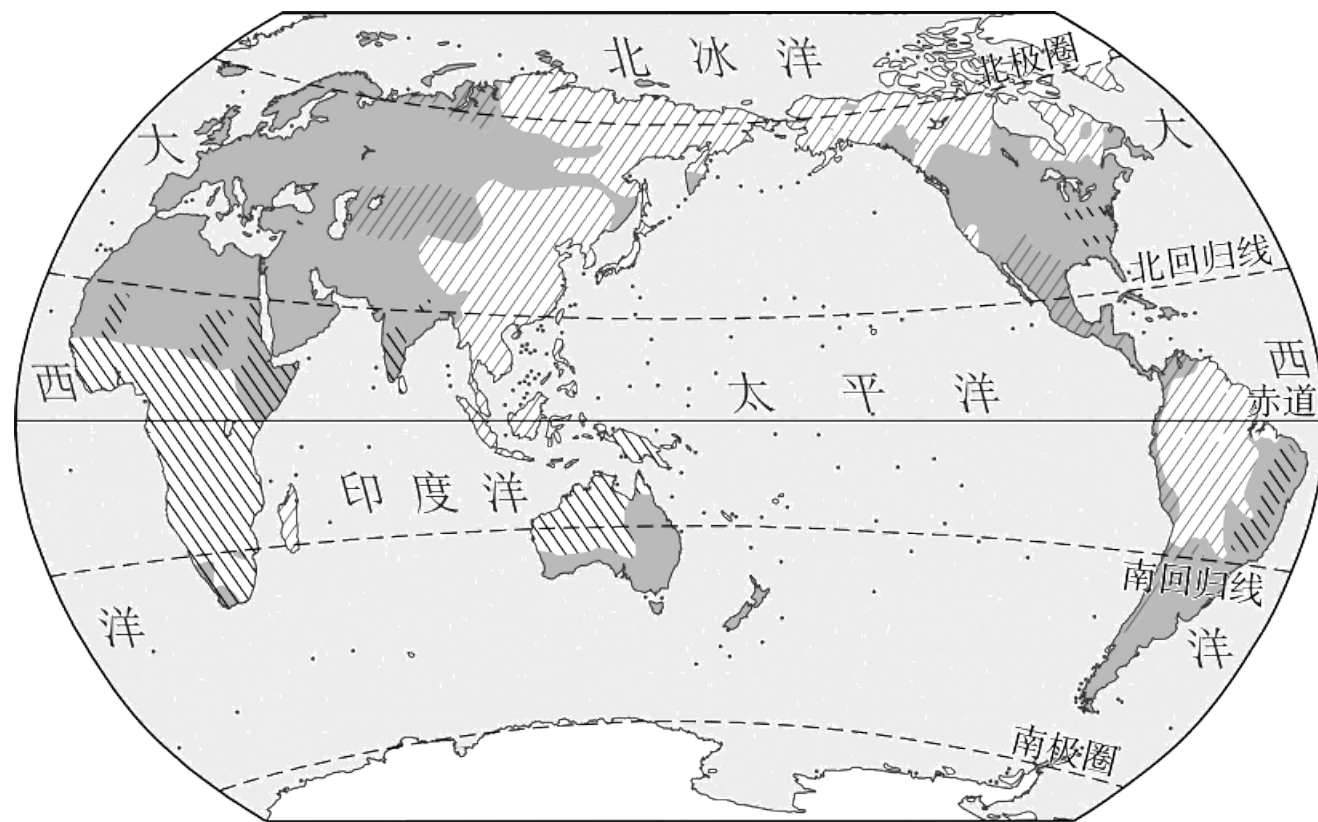
(1) 问题

a.人口数量过多，增长过快，会导致⑪就业困难、交通压力增大、⑫居住条件差、环境污染加剧等问题。

b.人口增长过慢，甚至停止增长或不断减少，会导致⑬劳动力短缺、国防兵源不足、⑭社会养老负担加重等问题。

(2) **解决措施**：国家应该制定政策，使人口增长与⑮社会经济相适应，与⑯资源、环境相协调。

二、人种



▨ 黄色人种 ■ 白色人种 ▩ 黑色人种

世界三大人种分布图

人种	黄色人种	白色人种	黑色人种
肤色	淡黄色	①7 <u>白色</u>	黝黑
头发	黑直	波状	卷曲
面部	扁平	鼻梁高、嘴唇薄	嘴唇较厚
体毛	中等	较多	很少
主要分布地区	亚洲的东部和①8 <u>东南</u> 部；另外还有北冰洋沿岸的①9 <u>因纽特人</u> 和美洲的印第安人	欧洲、北美洲、②0 <u>北非</u> 、西亚、大洋洲等	非洲中部和②1 <u>南部</u>
混血人种	主要分布在②2 <u>拉丁美洲</u>		

1.20世纪以来，世界人口增长速度大大加快的原因是(**D**)

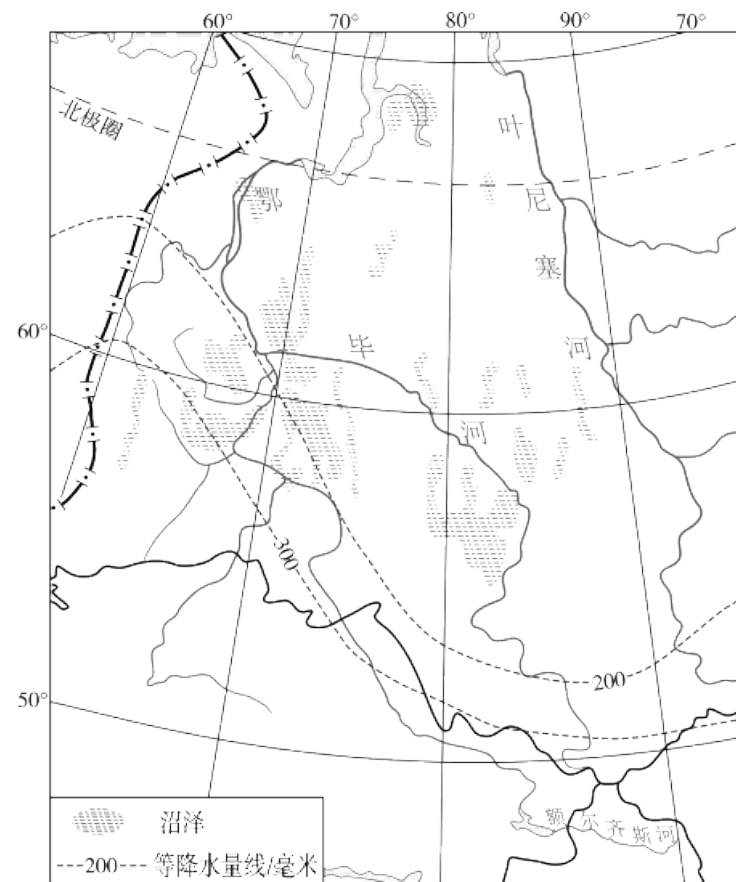

A.环境越来越好

B.生育观念的改变

C.文化素养的提升

D.生活水平的提高和医疗、卫生事业的进步

南非于2023年8月22日至24日在南非约翰内斯堡举办金砖国家领导人峰会。结合图文材料，完成2~3题。



- 1
- 2
- 3
- 4
- 5
- 6
- 7
- 8
- 9
- 10
- 11
- 12
- 13
- 14
- 15

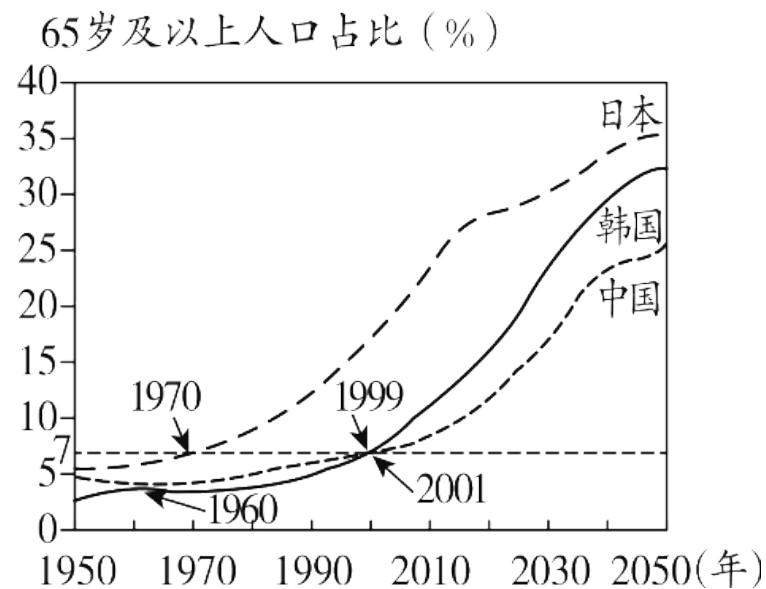
2.金砖五国中人口自然增长率最高的大洲是(**D**)

- A.中国所在大洲 B.俄罗斯所在大洲 C.巴西所在大洲 D.南非所在大洲

3.俄罗斯鄂毕河流域人口密度低的自然原因是(**B**)

- A.纬度低，气候湿热 B.纬度高，终年严寒
C.地势高，高寒缺氧 D.降水少，终年干旱

当一个国家或地区65岁及以上老年人口数量占总人口比重超过7%时，意味着这个国家或地区进入老龄化。读日本、韩国、中国人口老龄化趋势图，完成4~5题。



4. 1950—2020年(C)

- A. 三国均未出现老龄化
- C. 日本老龄化程度最高

- B. 韩国率先步入老龄化社会
- D. 中国于1960年进入老龄化

5.目前，三国共同面临的人口问题可能是(**B**)

- A.国防兵源过多 B.社会养老负担重 C.医疗压力减小 D.劳动力成本降低

1

2

3

4

5

6

7

8

9

10

11

12

13

14

15

16

17

以上内容仅为本文档的试下载部分，为可阅读页数的一半内容。如要下载或阅读全文，请访问：
<https://d.book118.com/016151133140010141>