


焦作市博爱一中 2023—2024 学年高三（上）12 月月考
地理

注意事项：

- 1.答题前，考生务必用黑色签字笔将自己的姓名、准考证号、座位号在答题卡上填写清楚；
- 2.每小题选出答案后，用 2B 铅笔把答题卡上对应题目的答案标号涂黑，在试卷上作答无效；
- 3.考试结束后，请将本试卷和答题卡一并交回。

一、选择题：本题共 24 小题，每小题 2 分，共 48 分。在每小题给出的四个选项中，只有一项是符合题目要求的。

墙状山也称为峰墙，它沿某一走向延伸，相对高度多在数十米或几百米，岩体倾角近 90° 。两壁垂直，山体上下近乎等厚，厚度只有几米到十多米。左图为山西广志山，右图为墙状山演化进程示意图。据此完成下面小题。



1. 有关墙状山成因的说法，正确的是（ ）

- ①岩浆喷发后，流水将岩石表面碎屑剥离
- ②水平层理结构是形成墙状山的基础
- ③流水沿着垂直裂隙冲刷侵蚀，并发生崩解
- ④沉积岩中坚硬的岩层不易被侵蚀

A. ①②

B. ③④

C. ①③

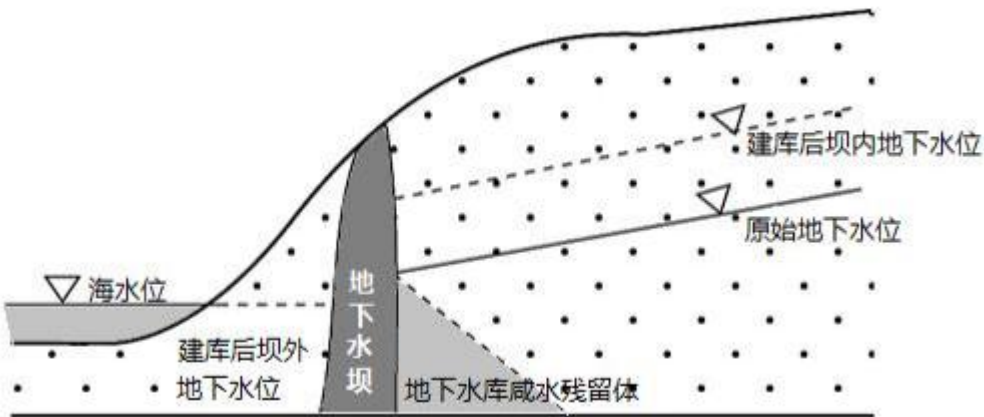
D. ②④

2. 关于墙状山的演化过程，叙述不正确的是（ ）

- A. 墙状山演化过程就是地壳物质循环
- B. 侵蚀是塑造墙状山外形的主要力量
- C. 墙状山持续被侵蚀，最终会消失
- D. 历经平行裂隙——裂隙加宽——墙状山——峰林、峰丛

地下水库从水利工程定义为利用天然地下储水空间兴建的具有拦蓄、调节和利用地下水流作用的一种

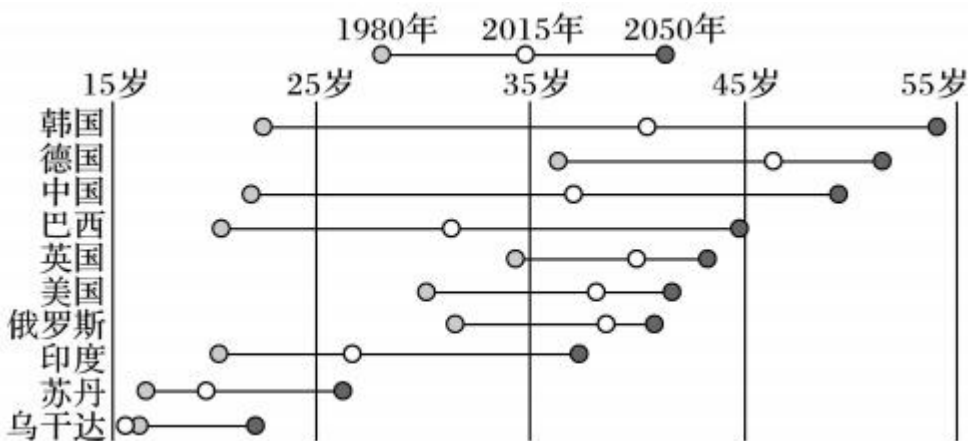
水利设施。下图示意某滨海地下水库。据此完成下面小题。



3. 该滨海地下水库建成后会()
- A. 增加库区旱季供水量
 - B. 降低库区的地下水位
 - C. 增加库区的海水入侵
 - D. 加速库区水补给海水
4. 与传统的地表水库相比地下水库的优势在于()
- ①库区的水分蒸发损失小 ②库区的进水能力强 ③库区的泥沙淤积量减少 ④库区的水体质量好
- A. ①②
 - B. ③④
 - C. ②③
 - D. ①④

年龄中位数是将全体人口按照年龄大小顺序排列，居于中间位置的年龄。下图为“世界部分国家人口

年龄中位数变化趋势图”。读图，完成问题。



5. 导致我国人口中位数的变化的主要原因()

A. 人口性别比变大 B. 人口出生率降低 C. 国际人口迁移 D. 城市化水平提高

6. 各国人口年龄中位数()

A. 可在一定程度上反映老龄化程度 B. 随时间推移呈不断上升趋势
C. 与经济发达程度呈正相关 D. 到 2050 年时中国和印度差异缩小

7. 应对我国人口年龄中位数变化趋势的可行的措施是()

①推动城乡义务教育一体化 ②开发陪护型机器人
③完善社会养老保险服务制度 ④鼓励国内人口迁移 ⑤鼓励适龄女性生育

A. ①②③ B. ①③⑤ C. ②③⑤ D. ③④⑤

新疆物流运输行业长期存在货物配送慢、邮费贵的问题。大型无人机具有优异的短距和简易跑道起降能力，适用于各种中小型机场与简易跑道。2018 年，新疆生产建设兵团开展大型货运无人机物流配送项目试验，于 2021 年 12 月正式开通了铁门关市与阿拉尔市之间的大型货运无人机物流配送业务，飞行 2 小时，航程近 500 公里，这是全国第一条常态化大型货运无人机专用航线。据此完成下面小题。

8. 新疆货物配送慢、邮费贵的主要原因是()

A. 货物运输需求少 B. 城市间距离远 C. 从业人员收入低 D. 运输方式单一

9. 与传统空运相比，大型无人机货运的优点是()

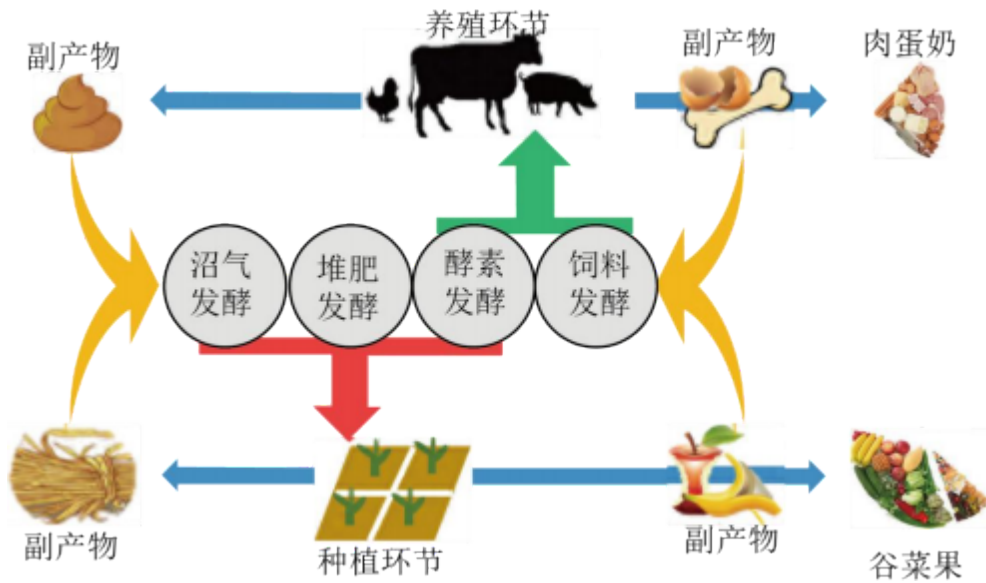
A. 可客货兼运 B. 载重量大 C. 运输成本低 D. 运输速度快

10. 下列地区中，适宜开通大型货运无人机专用航线的有()

①地广人稀的草原②近海的住人海岛③荒无人烟的沙漠④人口稠密的居民区

A. ①② B. ③④ C. ①③ D. ②④

秸秆来自种植业，粪便来自养殖业，通过种养混合循环系统同时获得秸秆和粪便，并将其混合发酵是最自然高效的利用方法。研究表明，优化种养循环系统中微生物的发酵条件，通过对比实验，找到了秸秆和粪便混合发酵的最佳比例，使得种养循环系统的物质和能量高效循环利用。图示意我国某农场在以微生物为支撑的条件下发展的混合循环农业。完成下面小题。



11. 相对于单独秸秆或单独粪便发酵，秸秆和粪便混合发酵会（ ）

①改善堆肥发酵效果②导致副产物大量剩余③促进农场零碳排放④减少农业面源污染

- A. ①③ B. ②④ C. ①④ D. ②③

12. 该农场种植业和养殖业合理规划时，主要是为了（ ）

- A. 省去农场运营成本 B. 高效循环利用废弃物
C. 增加农产品种类 D. 提升市场抗风险能力

我国古人把十二个月中的太阳升落方向用《定太阳出没歌》一首歌诀来概括，“正九出乙入庚方，二八出兔入鸡场。三九发甲入辛地，四六生寅入戌乡。五月生艮居乾上，仲冬出巽入坤方。惟有十与十二月，出辰入申仔细详”。其中一句是：“五月生艮居乾上，仲冬出巽入坤方”。（歌诀中的月份为阴历月）。下

图为后天八卦图。据此完成下面小题。



13. 表示正北的宫位是（ ）

- A. 震 B. 兑 C. 离 D. 坎

14. 当太阳从震宫方向升起，兑宫方向落下时（ ）

- A. 江淮地区阴雨绵绵 B. 云贵高原冰天雪地 C. 江西上饶昼夜等长 D. 三江平原春耕大忙

图为全球海洋热盐环流示意图。热盐环流是海水受温度和盐度变化导致密度产生空间差异，在大洋表

以上内容仅为本文档的试下载部分，为可阅读页数的一半内容。如要下载或阅读全文，请访问：<https://d.book118.com/017153042050006061>