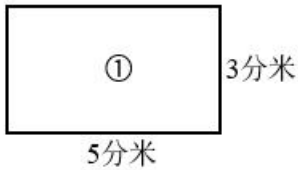


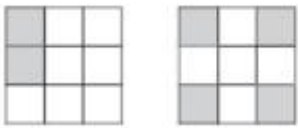
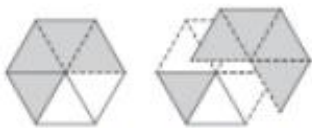


(人教版) 数学三年级上册寒假作业计算题“天天练”习题卡

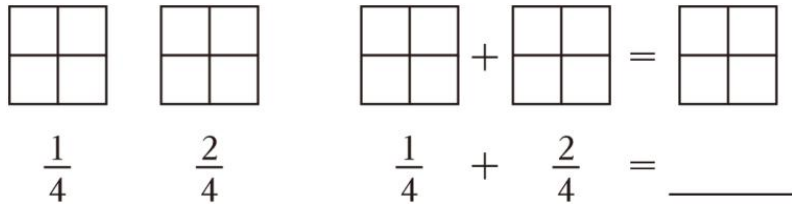
年 级	三 年 ___ 班	姓 名		内 容	训 练 1	评 价
<p>1. 在○里填入>、<或=。</p> <p>1 吨 - 400 千克 ○ 600 克 3 分 ○ 180 秒 $3 \times 2 \times 0$ ○ $3 + 2 + 0$ $\frac{1}{2}$ ○ $\frac{1}{7}$</p>						
<p>2. 用竖式计算下面各题。(带※的要验算)</p> <p>※$123 + 396 =$ $256 \times 3 =$ $405 \times 7 =$ $950 \times 7 =$ ※$702 - 427 =$</p>						
<p>3. 脱式计算。</p> <p>$100 - 31 + 422$ $(190 - 120) \times 3$ $528 + 23 \times 5$</p>						
<p>4. 分别算出下面三个图形的周长。</p> <div style="display: flex; justify-content: space-around; align-items: center;"> <div style="text-align: center;">  <p>①</p> </div> <div style="text-align: center;">  <p>②</p> </div> <div style="text-align: center;">  <p>③</p> </div> </div>						
<p>5. 看图计算。</p> <div style="display: flex; justify-content: space-around; align-items: center;"> <div style="text-align: center;">  <p>$\frac{2}{9} + \frac{(\quad)}{(\quad)} = \frac{(\quad)}{(\quad)}$</p> </div> <div style="text-align: center;">  <p>$\frac{5}{6} - \frac{(\quad)}{(\quad)} = \frac{(\quad)}{(\quad)}$</p> </div> </div>						

年级	三年__班	姓名	内容	训练 2	评价
----	-------	----	----	------	----

1. 在 () 里填上合适的单位名称。

- (1) 一头大象重 4 () (2) 人每小时大约可以走 4 ()
 (3) 一台冰箱高 15 () (4) 我们吃早餐大约要用 15 ()

2. 分别画图表示 $\frac{1}{4}$ 和 $\frac{2}{4}$ ，并画一画如何计算 $\frac{1}{4} + \frac{2}{4}$ 。




3. 用竖式计算下面各题。(带※的要验算)

$324 \times 2 =$ $760 \times 9 =$ $304 \times 7 =$ $\ast 135 + 726 =$ $\ast 608 - 345 =$

4. 脱式计算。

$200 - 64 + 522$ $(310 - 190) \times 4$ $460 - 53 \times 2$

5. 下图是由 3 个边长 1 厘米的小正方形拼成的，它的周长是多少厘米？



6. 填一填。

$$\begin{array}{r}
 \square \ 5 \ \square \\
 + \ 1 \ \square \ 0 \\
 \hline
 4 \ 9 \ 5
 \end{array}$$

$$\begin{array}{r}
 4 \ 1 \ \square \\
 - \ \square \ 5 \\
 \hline
 \square \ 9 \ 2
 \end{array}$$

年级	三年__班	姓名	内容	训练 3	评价
----	-------	----	----	------	----

1. 在○里填入>、<或=。

$100 \text{ 秒} \bigcirc 2 \text{ 分}$

$1700 \text{ 千克} \bigcirc 1 \text{ 吨 } 700 \text{ 千克}$

$700 \bigcirc 323+400$

$\frac{1}{5} \bigcirc \frac{1}{6}$

$3 \text{ 千米} \bigcirc 2999 \text{ 米}$

$32 \times 6 \bigcirc 180$

2. 在()里填上合适的数。

$50 \text{ 厘米} = () \text{ 分米} \quad 3 \text{ 分} = () \text{ 秒} \quad 2000 \text{ 千克} = () \text{ 吨} \quad 1 \text{ 时 } 30 \text{ 分} = () \text{ 分}$

3. 用竖式计算下面各题。(带※的要验算)

$\text{※}206+573=$

$\text{※}980-166=$

$134 \times 6 =$

$750 \times 5 =$

$128 \times 2 =$

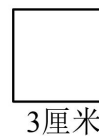
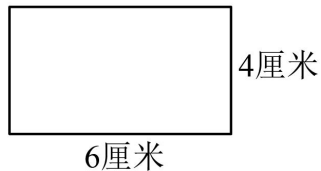
4. 脱式计算。

$630 - 45 \times 6$

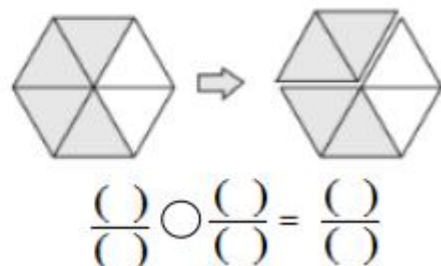
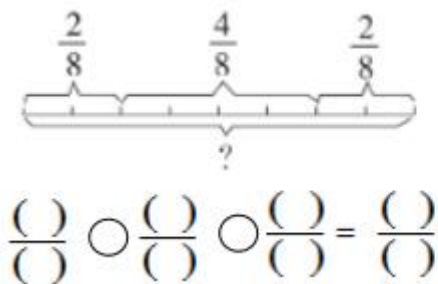
$350 \times (3 \times 2)$

$156 + 309 + 267$

5. 计算下面图形的周长。



6. 看图计算。

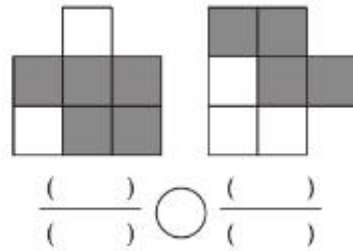
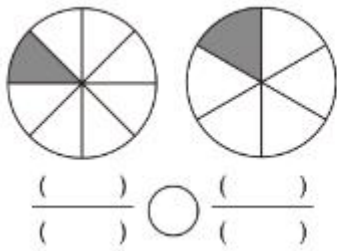


年级	三年__班	姓名		内容	训练 4	评价	
----	-------	----	--	----	------	----	--

1. 在 () 里填上合适的单位名称。

- (1) 做一遍眼保健操的时间约 5 () (2) 数学课本的宽约 184 ()
 (3) 某型货车载重量约为 76 () (4) 飞机每小时飞行约 800 ()

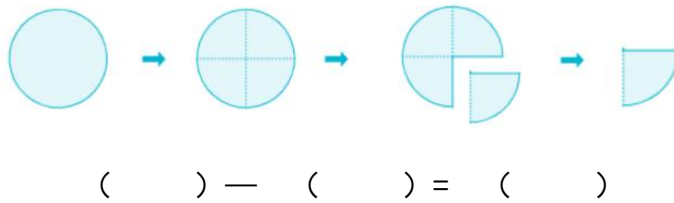
2. 先写出涂色部分所表示的分数，再比较每组分数的大小。



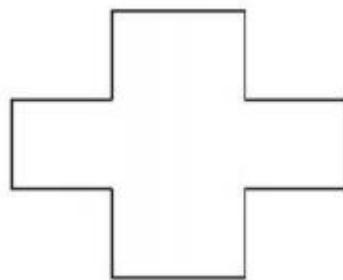
3. 用竖式计算下面各题。(带※的要验算)

※265+375= ※986-257= 308×6= 520×5= 624×7=

4. 根据图意列式计算。



5. 先测量，再计算周长。



6. 脱式计算。

642+78×3

8×(309-175)

1000-326-174

年级	三年__班	姓名	内容	训练5	评价
----	-------	----	----	-----	----

1. 在 () 里填上合适的数。

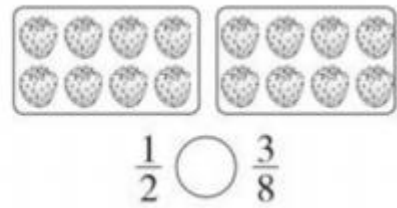
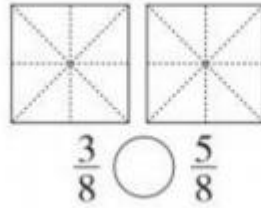
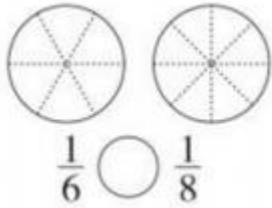
$4700 \text{ 千克} - 700 \text{ 千克} = (\quad) \text{ 吨}$

$1 \text{ 厘米} - 7 \text{ 毫米} = (\quad) \text{ 毫米}$

$1 \text{ 吨} - 200 \text{ 千克} = (\quad) \text{ 千克}$

$950 \text{ 米} + 1050 \text{ 米} = (\quad) \text{ 千米}$

2. 涂一涂，比一比。



3. 用竖式计算下面各题。(带※的要验算)

$\text{※}547 + 328 =$

$\text{※}700 - 206 =$

$245 \times 7 =$

$9 \times 108 =$

$320 \times 9 =$

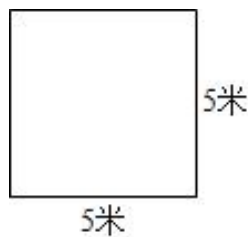
4. 脱式计算。

$275 + 368 - 109$

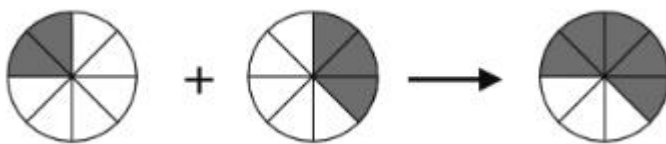
$475 + 125 \times 4$

$(951 - 347) \times 6$

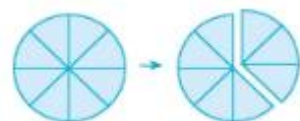
5. 计算每个图形的周长。



6. 看图计算。



$(\quad) \bigcirc (\quad) = (\quad)$



$(\quad) \bigcirc (\quad) = (\quad)$

年级	三年__班	姓名	内容	训练 6	评价
----	-------	----	----	------	----

1. 在 () 里填上合适的数。

1 分 = () 秒

7 吨 = () 千克

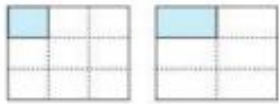
3 分米 = () 厘米

100 分 = () 时 () 分

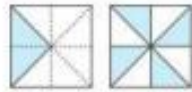
2 厘米 3 毫米 = () 毫米

2 千米 = () 米

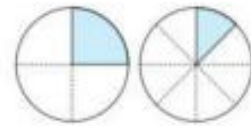
2. 先看图写分数，再比大小。



$\frac{(\quad)}{(\quad)} \bigcirc \frac{(\quad)}{(\quad)}$



$\frac{(\quad)}{(\quad)} \bigcirc \frac{(\quad)}{(\quad)}$



$\frac{(\quad)}{(\quad)} \bigcirc \frac{(\quad)}{(\quad)}$

3. 用竖式计算下面各题。(带※的要验算)

※286+54=

※600-167=

375×5=

407×8=

380×7=

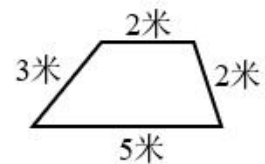
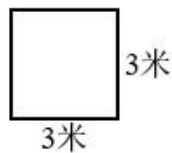
4. 脱式计算。

72 ÷ (493 - 484)


256 + 142 × 4

473 × 2 - 762

5. 计算下面图形的周长。



6. 看图先涂一涂，再计算。



$(\quad) \bigcirc (\quad) = (\quad)$



$(\quad) \bigcirc (\quad) = (\quad)$

年级	三年__班	姓名	内容	训练 7	评价
----	-------	----	----	------	----

1. 在○里填入>、<或=。

$3800 \text{ 克} \bigcirc 38 \text{ 千克}$

$64 + 36 \bigcirc 36 + 64$

$\frac{6}{7} \bigcirc \frac{4}{7}$

$\frac{1}{4} \bigcirc \frac{1}{5}$

$150 \times 3 \times 0 \bigcirc 3 \times 1$

$1 \text{ 米} \bigcirc 100 \text{ 厘米}$

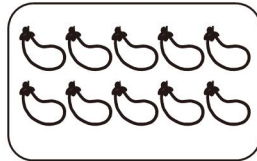
$1 \text{ 分 } 20 \text{ 秒} \bigcirc 120 \text{ 秒}$

$\frac{6}{6} \bigcirc 1$


2. 涂色表示下面的分数。



$\frac{3}{4}$



$\frac{2}{5}$



$\frac{1}{3}$

3. 用竖式计算下面各题。(带※的要验算)

$\text{※} 365 + 247 =$

$\text{※} 708 - 163 =$

$608 \times 5 =$

$218 \times 7 =$

$450 \times 9 =$

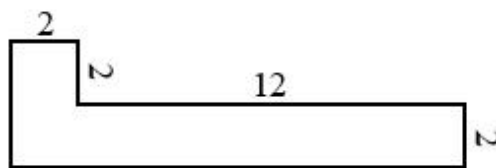
4. 脱式计算。

$702 - 70 \times 7$

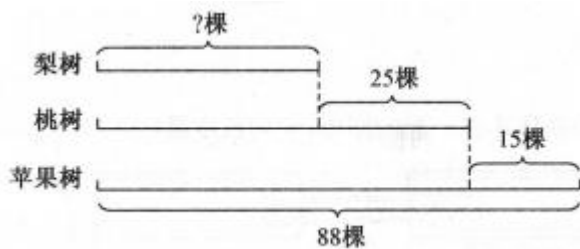
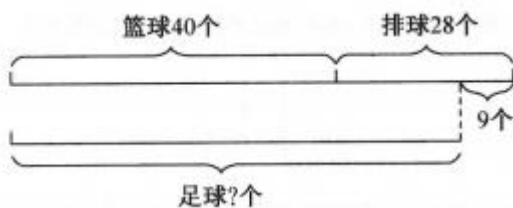
$156 - 18 \div 3$

$(593 - 455) \times 8$

5. 计算下面图形的周长。(单位：分米)



6. 看图列式计算。



年级	三年__班	姓名	内容	训练 8	评价
----	-------	----	----	------	----

1. 在 () 里填上合适的单位。

一只铅笔长 16 ()

一枚硬币约厚 2 ()

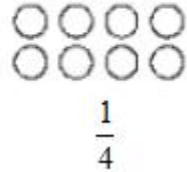

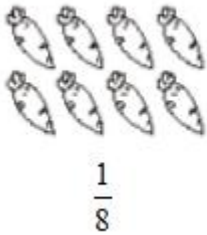
一头牛重 500 ()

乐乐跑 50 米大约用 8 ()

爸爸每天工作 8 ()

一场足球赛要 90 ()

2. 在图中涂色表示对应的分数。



3. 用竖式计算下面各题。(带※的要验算)

$608 \times 5 =$

$\ast 364 + 178 =$

$397 \times 4 =$

$\ast 800 - 594 =$

$480 \times 7 =$

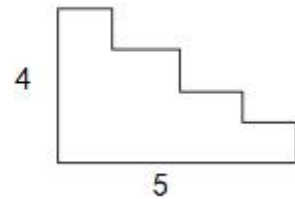
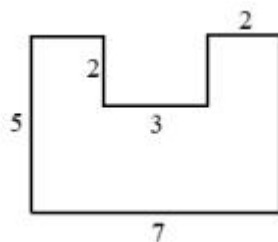
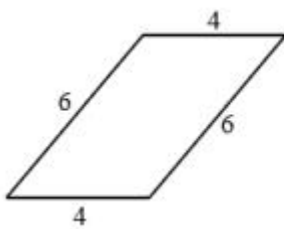
4. 脱式计算。

$400 - 62 + 340$

$37 + 63 \times 4$

$(508 - 266) \times 5$

5. 计算下面图形的周长。(单位：厘米) 4 5



6. 算一算，这些商品比原来便宜多少钱？



原价：128 元

现价：69 元



原价：980 元

现价：788 元

年级	三年__班	姓名	内容	训练 9	评价
----	-------	----	----	------	----

1. 在○里填入>、<或=。

150分○3时 1千米○999米 50厘米○45分米 1吨-300千克○700克

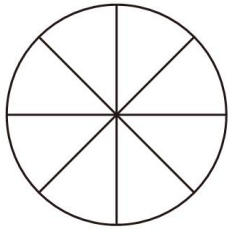
$$\frac{5}{12} \bigcirc \frac{5}{15}$$

$$\frac{4}{6} \bigcirc \frac{2}{6}$$

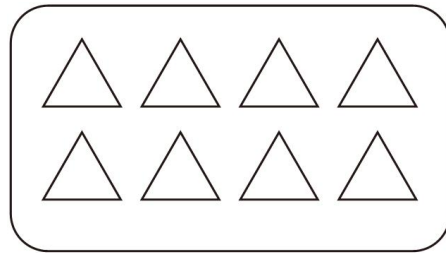
$$\frac{9}{14} \bigcirc \frac{10}{14}$$

$$1 \bigcirc \frac{8}{8}$$

2. 看分数涂色。



$\frac{3}{8}$



$\frac{3}{4}$

3. 用竖式计算下面各题。(带※的要验算)

$$\text{※}213+819=$$

$$\text{※}905-716=$$

$$324 \times 6 =$$

$$806 \times 4 =$$

$$390 \times 9 =$$

4. 脱式计算。

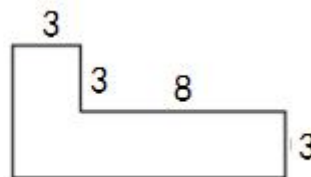

$$468+45 \div 9$$

$$104 \times 3 - 283$$

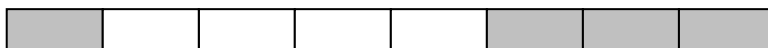
$$835 - 29 \times 8$$

$$(122+26) \times 5$$

5. 计算下面各图形的周长。(单位：分米)

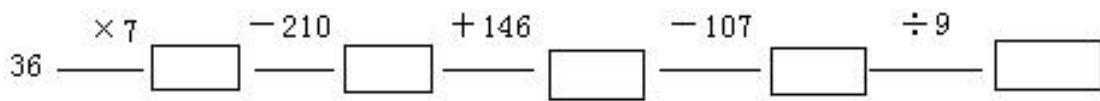


6. 还剩下几分之几没涂色?



年级	三年__班	姓名	内容	训练 10	评价
----	-------	----	----	-------	----

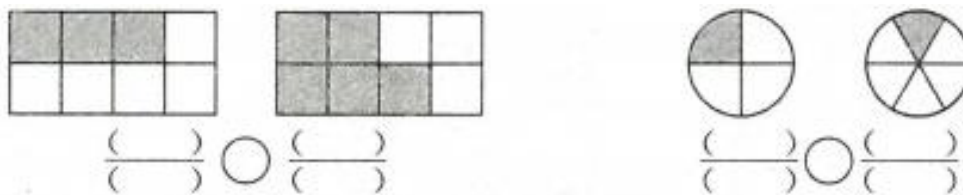
1. 开火车。



2. 在下图中分一分，用阴影表示出所有☆的 $\frac{3}{4}$ 。



3. 先用分数表示涂色部分，再比较分数的大小。



4. 用竖式计算下面各题。(带※的要验算)

※ $587 + 432 =$ ※ $703 - 526 =$ $207 \times 5 =$ $376 \times 8 =$ $320 \times 8 =$

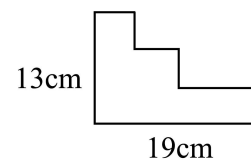
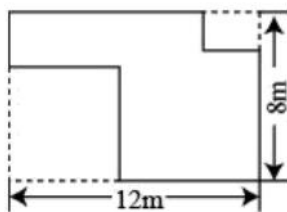
5. 脱式计算。

$$475 + 125 \times 4$$

$$(951 - 870) \div 9$$

$$240 - 15 \times 7$$

6. 求下图的周长。



年级	三年__班	姓名	内容	训练 11	评价
----	-------	----	----	-------	----

1. 在○里填入>、<或=。

$$\frac{1}{3} \bigcirc \frac{1}{5}$$

$$200-164 \bigcirc 40$$

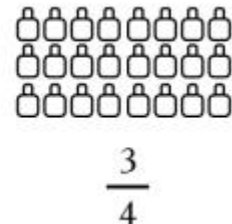
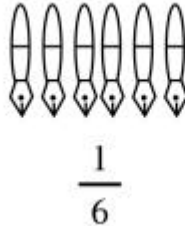
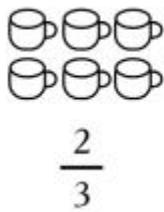
$$2 \text{ 千克} \bigcirc 2 \text{ 吨}$$

$$31 \times 6 \bigcirc 180$$

$$3 \text{ 千克 } 20 \text{ 克} \bigcirc 3020 \text{ 克}$$

$$2 \text{ 千米} \bigcirc 1999 \text{ 米}$$

2. 涂色表示下面的分数。



3. 用竖式计算下面各题。(带※的要验算)

$$\ast 586 + 175 =$$

$$\ast 600 - 329 =$$

$$370 \times 8 =$$

$$509 \times 4 =$$

$$347 \times 8 =$$

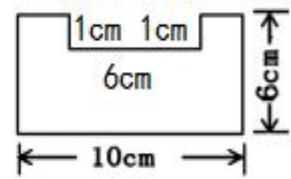
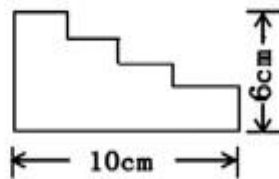
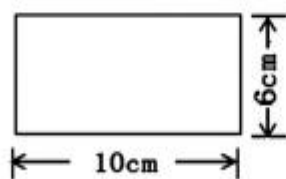
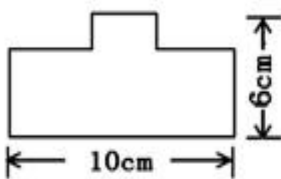
4. 脱式计算。

$$506 - (326 + 74)$$

$$1000 - 125 \times 8$$

$$(352 - 289) \div 7$$

5. 算出下面图形的周长，并比一比：哪个图形的周长最长？



6. 乐乐计算了下面三题：

$$22 \times 9 = 198$$

$$33 \times 9 = 297$$

$$44 \times 9 = 396$$

(1) 仔细观察这三道算式，你有什么发现？把你的发现写下来。

(2) 根据你的发现，在下面算式的()里填上合适的数。

$$55 \times 9 = ()$$

$$() \times 9 = 693$$

年级	三年__班	姓名	内容	训练 12	评价
----	-------	----	----	-------	----

1. 在 () 里填上合适的单位。

一枚 2 分硬币约重 1 ()

一辆卡车载重约 5 ()

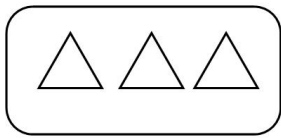
一头牛约重 200 ()

一箱苹果约重 15 ()

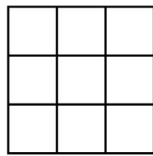
一盒饼干约重 500 ()

一本数学书约重 250 ()

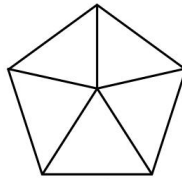
2. 涂一涂，表示出每个图形所对应的分数。



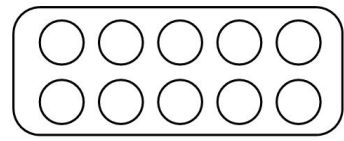
$$\frac{2}{3}$$



$$\frac{2}{3}$$



$$\frac{3}{5}$$



$$\frac{3}{5}$$

3. 用竖式计算下面各题。(带※的要验算)

$360 \times 8 =$

$\ast 462 + 399 =$

$406 \times 2 =$

$\ast 807 - 708 =$

$739 \times 4 =$

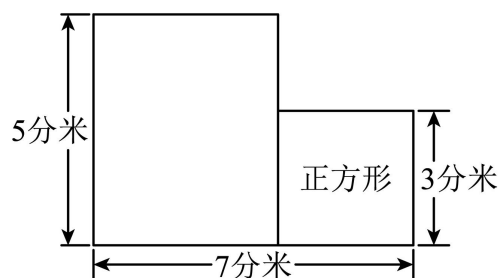
4. 脱式计算。

$258 + 387 - 269$

$940 - 109 \times 6$


$(526 - 257) \times 5$

5. 计算下面图形的周长。



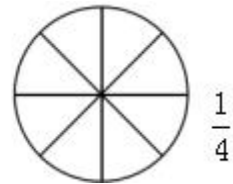
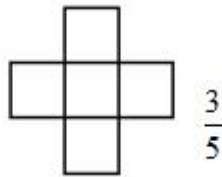
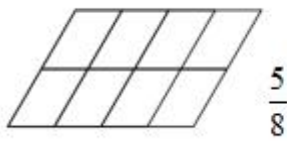
年级	三年__班	姓名		内容	训练 13	评价	
----	-------	----	--	----	-------	----	--

1. 算一算，填一填。



- (1) 8 袋糖共重 () 千克。
 (2) 4 袋糖和 3 袋盐比较, () 更重一些。
 (3) 3 袋盐和 1 袋糖合起来, 比 1 千克多 () 克。

2. 涂色表示各图下面的分数。



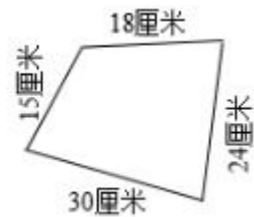
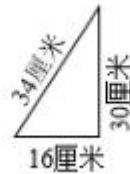
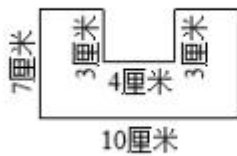
3. 用竖式计算下面各题。(带※的要验算)

$638 \times 5 =$ $\ast 623 + 389 =$ $290 \times 5 =$ $\ast 503 - 295 =$ $608 \times 9 =$

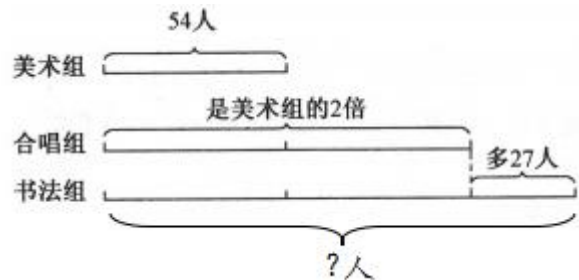
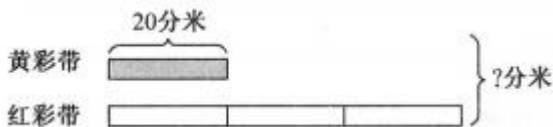
4. 脱式计算。

$327 + 105 \times 4$ $500 - (127 + 235)$ $(405 - 356) \div 7$

5. 计算下面图形的周长。



6. 看图列式计算。



年级	三年__班	姓名		内容	训练 14	评价	
----	-------	----	--	----	-------	----	--

1. 在○里填入>、<或=。

$380 \times 2 \bigcirc 280 \times 3$

$\frac{98}{99} \bigcirc 1$


$89 - 12 \bigcirc 89 - 21$

$10 \text{ 千克} \bigcirc 1000 \text{ 克}$

$\frac{1}{4} \bigcirc \frac{1}{8}$

$5 \times 999 + 999 \bigcirc 999 \times 6$

2. 在每幅图里涂上颜色，分别表示出它的 $\frac{3}{4}$ 。



3. 用竖式计算下面各题。(带※的要验算)

$\text{※} 806 - 256 =$

$\text{※} 423 + 326 =$

$469 \times 4 =$

$360 \times 6 =$

$602 \times 5 =$

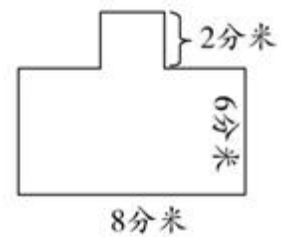
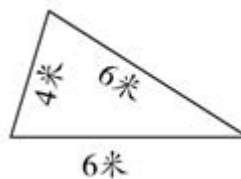
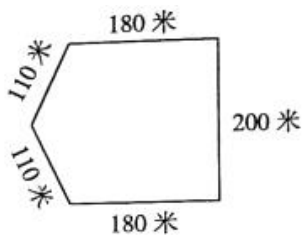
4. 脱式计算。

$349 + 72 \div 8$

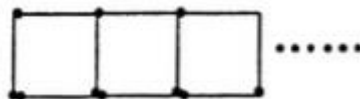
$751 - 51 \times 6$

$619 - (137 + 285)$

5. 计算下面图形的周长。



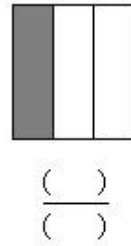
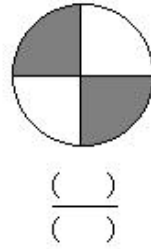
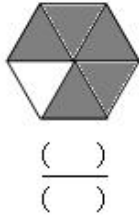
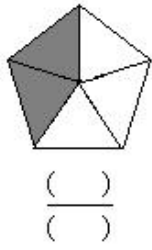
6. 小红像下面这样摆正方形，摆1个用4根小棒，摆2个用7根小棒……



摆 1 个	摆 2 个	摆 3 个	……	摆 8 个	摆 18 个
4 根	7 根	() 根	……	() 根	() 根

年级	三年__班	姓名		内容	训练 15	评价	
----	-------	----	--	----	-------	----	--

1. 用分数表示每个图的涂色部分。



2. 在○里填入>、<或=。

$24 \times 3 \bigcirc 42 \times 3$

$520 \times 8 \bigcirc 8 \times 502$

$145 \times 2 \times 3 \bigcirc 145 \times 6$

$\frac{3}{5} \bigcirc \frac{2}{5}$

$\frac{1}{6} \bigcirc \frac{1}{5}$

$\frac{4}{8} \bigcirc \frac{1}{2}$

3. 用竖式计算下面各题。(带※的要验算)

$253 \times 3 =$

$\ast 908 - 787 =$

$670 \times 2 =$

$6 \times 705 =$

$\ast 266 + 38 =$

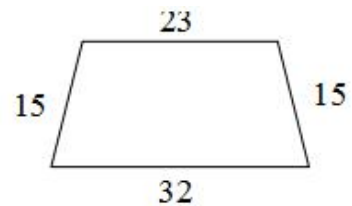

4. 脱式计算。

$267 - (145 + 65)$

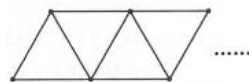
$635 - 35 \times 9$

$6 \times (175 + 195)$

5. 计算下面各图形的周长。(单位：厘米)



6. 乐乐用小棒像下图这样摆三角形，摆1个用3根小棒，摆2个用5根小棒……根据这样的摆法把下表填写完整。



摆 1 个	摆 2 个	摆 3 个	……	摆 7 个	摆 () 个
3 根	5 根	() 根	……	() 根	() 根

年级	三年__班	姓名	内容	训练 16	评价
----	-------	----	----	-------	----

1. 在○里填入>、<或=。

$150 \times 3 \times 0 \bigcirc 3 \times 1$

$5999 \text{ 克} \bigcirc 6 \text{ 千克}$

$\frac{1}{4} \bigcirc \frac{1}{5}$

$\frac{3}{5} \bigcirc \frac{3}{7}$

$120 \times 5 \bigcirc 5 \times 102$

$54 + 18 \bigcirc 45 + 18$


$500 \times 2 \times 4 \bigcirc 500 \times 8$

$2 \text{ 分} \bigcirc 100 \text{ 秒}$

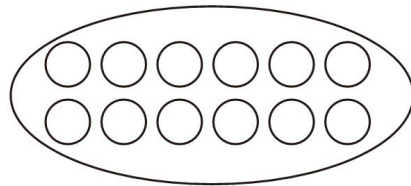
2. 涂色表示各图下面的分数。



$\frac{5}{6}$



$\frac{5}{6}$



$\frac{1}{3}$

3. 用竖式计算下面各题。(带※的要验算)

$\ast 648 + 325 =$

$\ast 517 - 86 =$

$302 \times 4 =$

$260 \times 2 =$

$423 \times 6 =$

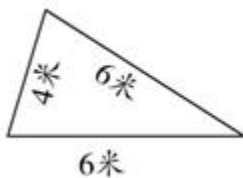
4. 脱式计算。

$42 \div 6 \times 350$

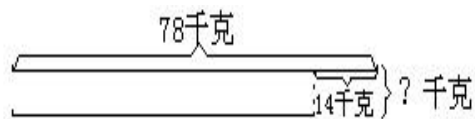
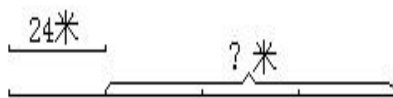
$(407 - 386) \times 3$

$440 + 102 \times 5$

5. 计算下面图形的周长。

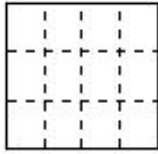


6. 看图列式计算。

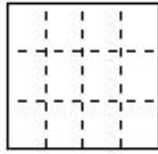


年级	三年__班	姓名	内容	训练 17	评价
----	-------	----	----	-------	----

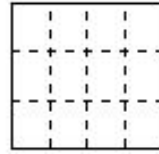
1. 涂一涂，创造出不同的分数。



()

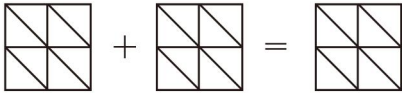


()



()

2. 根据算式涂一涂，并写出结果。



$$\frac{1}{8} + \frac{5}{8} =$$



$$\frac{3}{7} + \frac{2}{7} =$$

3. 用竖式计算下面各题。(带※的要验算)

$※602 - 365 =$

$※365 + 263 =$

$452 \times 7 =$

$905 \times 6 =$

$350 \times 8 =$

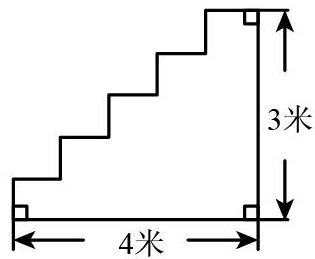
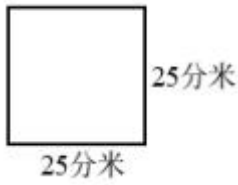
4. 脱式计算。

$264 + 36 \times 5$

$397 - 97 \times 3$

$(705 - 365) \times 5$

5. 计算下面图形的周长。



6. 在方框里填上合适的数。

$$\begin{array}{r} \\ \\ \times \\ \hline \\ 2 \\ \hline \end{array}$$

$$\begin{array}{r} \\ \\ \times \\ \hline \\ \\ \hline \end{array}$$

年级	三年__班	姓名		内容	训练 18	评价	
----	-------	----	--	----	-------	----	--

1. 在○里填入>、<或=。

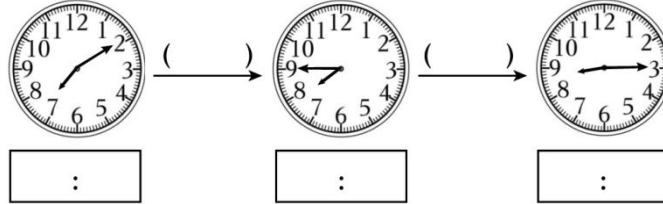
$398 \times 5 \bigcirc 2000$

$\frac{1}{7} \bigcirc \frac{1}{3}$

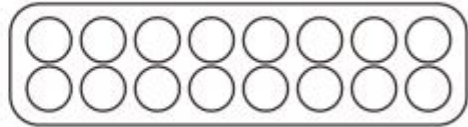
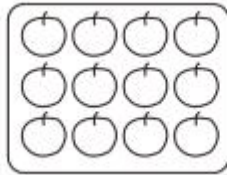
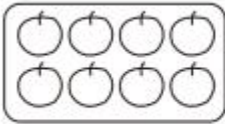
$4500 \text{ 克} \bigcirc 4 \text{ 千克}$

$240 \times 6 \bigcirc 240 \times 2 \times 3$

2. 在里面写上具体时间，在()里面填上经过时间。



3. 在下面各图中涂色，表示出 $\frac{3}{4}$ 。



4. 用竖式计算下面各题。(带※的要验算)

$\text{※}900 - 275 =$

$\text{※}318 + 254 =$

$5 \times 453 =$

$707 \times 9 =$

$550 \times 8 =$

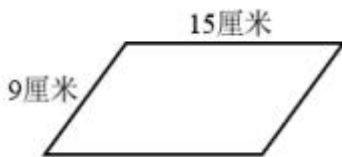
5. 脱式计算。

$693 - (371 + 269)$

$315 + 36 \times 4$

$572 - 132 \times 3$

6. 计算下面个图形的周长。



以上内容仅为本文档的试下载部分，为可阅读页数的一半内容。如要下载或阅读全文，请访问：<https://d.book118.com/036033213052010035>