

## 小学数学二年级下册期末试卷1

一、



想一想，填一填 (20分)

(1) 一个一个地数, 3998 后面的两个数是( )、( )。

(2) 一个数由5个千, 9个百, 2个十和4个一组成, 这个数是( )。

(3) 一个鸡蛋约重 50 ( ) 一个西瓜约重4 ( )。

(4) 在○里填上“>”“<”或“=”。

763 ○ 673    1011 ○ 1101    5 千克 ○ 5000 克    3999 ○ 4001

(5) 在( )里填上合适的数

$5 \times ( ) = 40$      $70 - ( ) = 32$      $( ) + 24 = 54$      $56 \div ( ) = 8$

(6) 光明小学共有 1986 名学生, 大约是( )人; 学校图书室藏书9980册, 大约是( )

(7) 一袋饼干有 30 块, 每次从袋中拿出 5 块, ( )次可以拿完。

(8) 一个星期有 7 天, 4 个星期是( )天, 56 天是( )个星期。

(9) 按规律填数: 2、4、7、11、16、( )、( )。

(10) 用9、8、0、0组成的四位数中, 一个零都不读出来的数有( )。

只读一个零的数有( )。

二、



辨一辨, 选一选 (把正确答案的序号填在括号里) (8分)

(1) 9个6是多少? 列式正确的是( )。

①  $6 \times 9 =$     ②  $6 + 9 =$     ③  $9 - 6 =$

(2) 六千零九写作( )。

① 609    ② 6009    ③ 6090

(3) 下面图中, ( )是钝角。



(4) 下面的计算不能用“七八五十六”这句口诀的是( )。

①  $56 \div 7$     ②  $8 \times 7$     ③  $7 + 8$

(5) 下面的现象中, ( ) 是旋转。

- ① 滑滑梯    ② 风车转动    ③ 拉抽屉

(6) 最大的四位数是( )。

- ① 1999    ② 9000    ③ 9999

(7) 1 千克棉花和 1 千克铁比较。( )

- ① 铁重    ② 棉花重    ③ 一样重

(8) 一只鸭和 2 只鸡共重 8 千克, 一只鸭重 4 千克, 平均每只鸡重( ) 千克

- ① 2    ② 4    ③ 8

三、



看清楚, 算一算 (32分)

(1) 直接写出得数。(20分)

$7 \times 8 =$	$54 \div 9 =$	$45 + 5 =$	$170 - 90 =$	$35 \div 5 \times 3 =$
$18 \div 3 =$	$36 + 27 =$	$42 \div 7 =$	$630 + 200 =$	$9 \times 7 - 54 =$
$5 \times 6 =$	$86 - 24 =$	$36 \div 9 =$	$160 + 40 =$	$4 \times 9 \div 6 =$
$28 \div 4 =$	$52 + 35 =$	$72 \div 8 =$	$380 - 300 =$	$72 \div 9 \div 2 =$

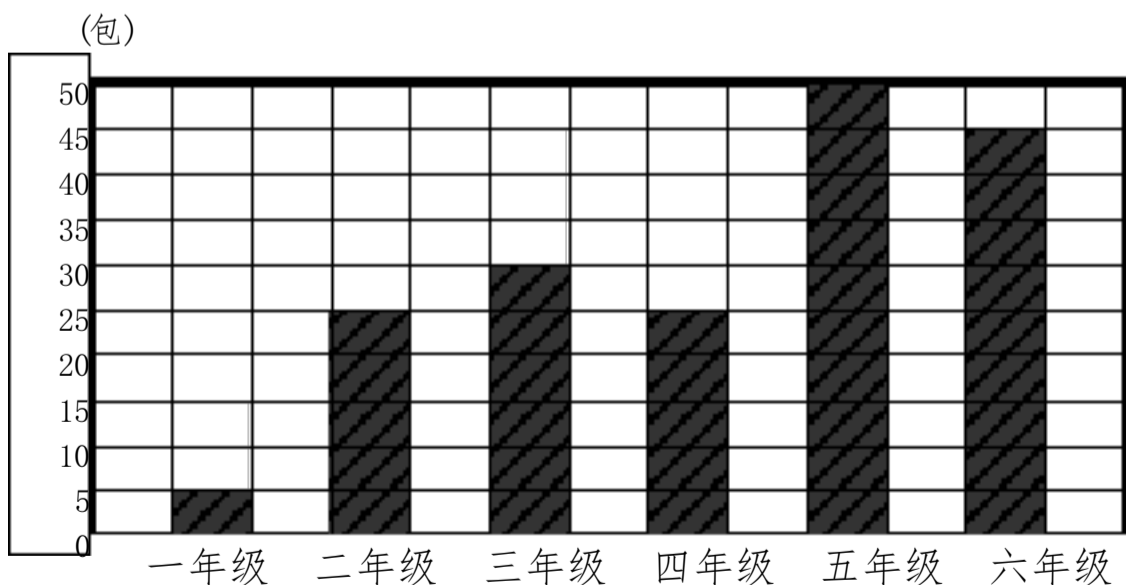
(2) 用竖式计算。

$640 - 250 =$      $730 - 460 =$      $320 + 290 =$      $900 - 580 =$

画一画, 填一填

四、

(15分)



① 完成下面的统计表。

年级	一年级	二年级	三年级	四年级	五年级	六年级
包数						

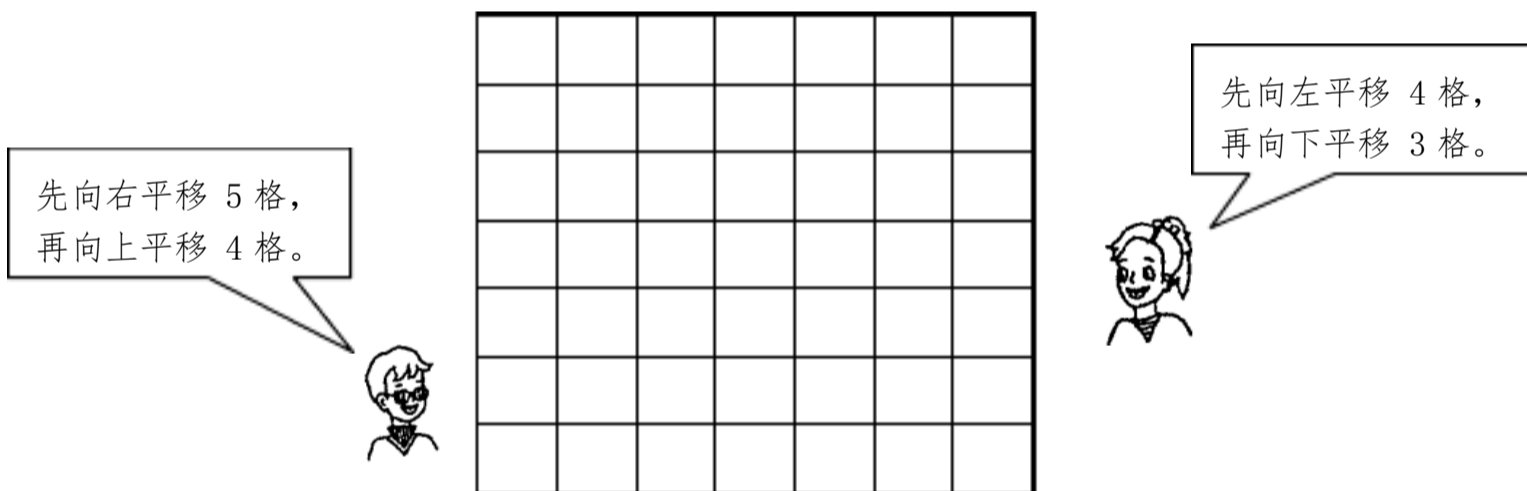
② ( ) 年级捐书最多, ( ) 年级捐书最少。

③ 六年级捐书的包数是一年级的 ( ) 倍。

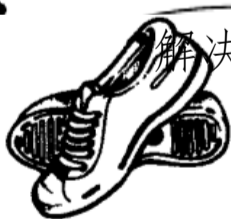
④ 请你提一个数学问题, 并解答。

(1) 他们俩各移到哪里? 画一画

(2) 下面是光明小学一至六年级同学为四川灾区小朋友捐书情况统计图。



五、



解决问题

(25分)

原价 198 元

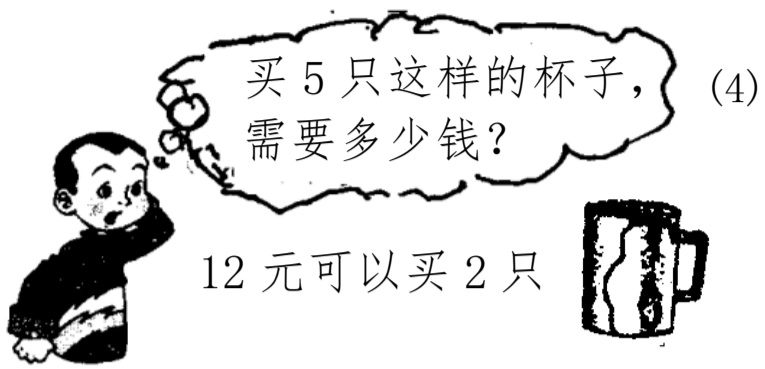
现价 125 元

(1)

二 (1) 班有男同学 21 人, 女同学


(2) 23 人, 其中的 16 人参加跳绳活动。  
有多少人没有参加跳绳活动。

这双鞋现价比原价便宜多少元?



小红和小明买了一本同样的书。小红每天看3页，8天看完。小明每天看4页，几天看完？

(5) 参观画展。




# 人教<sup>5</sup>版二年级下册数学期末试卷 (2)

姓名 \_\_\_\_\_ 班别 \_\_\_\_\_ 学号: \_\_\_\_\_ 评分 \_\_\_\_\_

一、按要求填空。(共: 57分其中第5题每空1分。)

1、看图列式计算。(9分)



$\square \times \square = \square$  (个)  
 $\square \div \square = \square$  (个)       $\square \div \square = \square$  (盘)

2、(8分) 5000克 = ( ) 千克      4千克 = ( ) 克

1千克800克 = ( ) 克      9600 = ( ) 千克 ( ) 克

3、248+395 的和估计是 ( ) 百多。(3分)

4、2000 相邻的两个数是 ( ) 和 ( )。(4分)

5、8365 千位上的数字是 ( )，表示 ( ) 个 ( )；百位上的数字是 ( )，表示 ( ) 个 ( )；十位上的数字是 ( )，表示 ( ) 个 ( )；个位上的数字是 ( )，表示 ( ) 个 ( )。

6、把下面各数按从小到大的顺序排列。(13分)

(1) 8576      8756      8675      8765      7856      7658      876

---

(2) 2000 克      2500 克      5 千克      3 千克      1300 克      4 千克

---





7、写出下面各数的组成。(8分)

(1) 8027 =  +  +

(2) 6798 =  +  +  +

(3)  = 8000 + 90 + 7

二、解决问题。（共：43分，其中第4题6分。）

1、	 6元	 8元	 4元	 36元

(1) 鞋子的价钱是手套的几倍？（5分）

(2) 买1顶帽子和3双手套共要多少钱？（6分）

(3) 买4顶帽子的钱可以买几个杯子？（6分）

(4) 给你40元钱，要求正好用完，你准备买些什么？（5分）

2、到北川灾区援建“凤凰园”的叔叔们抓紧时间、积极劳作，9天完成了72套板房。

(1) 他们平均每天建多少套板房？（5分）

(2) 你想对援建灾区的工人叔叔们说些什么？（4分）

---



---

3、某学校去年植树580棵，今年比去年多植了120棵，这两年一共植树多少棵？（6分）

4、已经浇了8行花，每行6棵，还剩下8棵没浇，一共有多少棵花？

人教<sup>7</sup>版二年级下册数学期末试卷(3)

姓名 \_\_\_\_\_ 班别 \_\_\_\_\_ 学号: \_\_\_\_\_ 评分 \_\_\_\_\_

一、按要求填空。(共: 38分,其中第2题16分。)

1、填上合适的单位(克或千克) (8分)

(1) 一枚5分硬币重2( )。 (2) 一只鸡重约2( )。

(3) 一袋面粉重25( )。 (4) 一本书约重200( )。

2、用6、0、0、8组成四位数,最大的一个数是( ),最小的一个数是( );读数时只读出一个“零”的数是( )、( )、( )和( );一个“零”也不读的数是( )和( )。

3、计算 $54 \div 6$ 和 $54 \div 9$ 所用的口诀是( )。(2分)

4、小红的爷爷今年63岁,小红今年7岁,爷爷的年龄是小红的( )倍。(3分)

5、6只小动物聚餐,每一位一双筷,需要( )根筷。(3分)

6、3个百、7个十和4个一组成的数是( )。(2分)

9个一和5个千( )。(2分)

7、东东家到学校有905米,约是( )米。(2分)

二、用递等式计算。(16分)

$32 - 24 \div 3$

$86 - (34 + 33)$

$49 \div 7 \times 4$

$2 \times 9 + 12$

三、我会解决问题。(共: 46分)

1、建筑工地有900块砖,上午用了360块,下午用了440块。还剩多少块砖?(用两种方法解答)(12分)

2、



我捉了8只害虫。



我也捉了8只害虫。

我和小青蛙捉的同样多。

孩子们,加油!我已经捉了20只了,我们来比赛。



青蛙妈妈和 3 只小青蛙比，谁捉的害虫多？多多少只？（8 分）

答：（      ）捉的害虫多，多（      ）只。（2 分）

3、圈一圈，使左边的      是右边的 4 倍。（5 分）

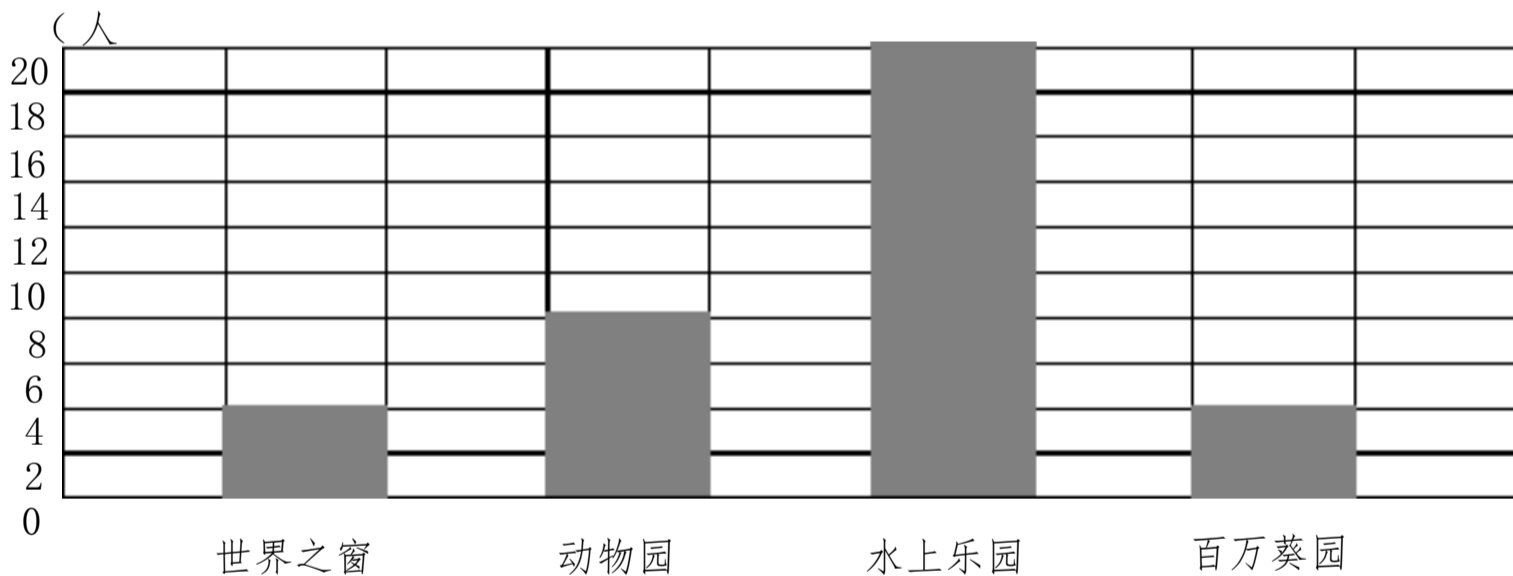


列式计算：\_\_\_\_\_

4、看统计图解决问题。

二 0 一班要投票选出“六一”节出游的公园。除了请假的冬冬和平平没有参加。全班同学投票结果如下图。

(1) 完成统计表。（8 分）



公园名称	世界之窗	动物园	水上乐园	百万葵园
人数				

(5) 二 0 一班一共有学生（      ）人。（5 分）


(6) 如果冬冬和平平参加投票，她们两人可能选择（      ）。（3 分）

(7) 估计二 0 一班最后去了（      ）。（3 分）



人教版二年级下册数学<sup>9</sup>学期末试卷(4)

一、填空题(23分)

- 1、6只小动物聚餐,每一位一双筷,需要( )根筷。
- 2、东东家到学校有905米,约是( )米。
- 3、把7903、7930、9730、973按从小到大的顺序排列:  
( ) < ( ) < ( ) < ( )
- 4、一个五位数,它的最高位是( )位,最高位是百位的数是( )位数。
- 5、一个四位数,它的千位上是8,十位上是5,其它数位上是0,这个数是( ),读作( )
- 6、拉抽屉是( )现象
- 7、☆☆☆☆☆☆☆☆☆☆☆☆☆☆, ~~13~~ 个☆,每4个一份,分成( )份,还剩( )个。列式为( )
- 8、□~~6~~=□……□,在这道算式中,余数最大是( ); □~~÷~~□3……  
2,除数最小是( ),当商是3时,被除数是( )
- 9、○▲□○▲□○▲□○……第20个图形是( )。  
12+8=20      20÷5=4 列综合算式是( )
- 10、35个小朋友坐船,每条船坐8人,至少要( )条船。
- 11   列式为 (  ÷  =  ……  )
- 12、与999相邻的两个数是( )和( )

二、判断(5分)

. ( )

2、把 24 颗糖平均分成 6 份，每份一定是 4 颗。 ( )

3、5 月份有 31 天，它有 4 个星期多 3 天。 ( )

4 1999 添上 1 就是 2000。 ( )

、二年级的小雨不是男同学，一定是女同学。 ( )

### 三、选择题。(5 分)

1、在数字图案 0、1、2、3、4、5、6、7、8、9、中，轴对称图形有 ( )

A、2 个 B、3 个 C、4 个

2、用一堆小棒摆□，如果有剩余，可能会剩 ( ) 根。

A、1 根 B、2 根 C、3 根

3、袋里的糖果在 10~20 之间。平均分个 3 人剩一颗，平均分个 5 也剩一颗，袋里有 ( ) 颗糖。

A、12 颗 B、15 颗 C、16 颗

4、从 63 里面连续减 9，减 ( ) 次结果是 0。

A、7 B、8 C、9

5、有语文、数学、品德三种书，小明、小丽、小红各拿一本；小明说：“我拿的是语文书”。小丽说：“我拿的不是数学书”。小红拿的是 ( ) 书。

A、数学 B、语文 C、品德

### 四、计算题。(30 分)

1、直接写出得数。(6 分)

$$72 \div 9 =$$

$$6 \times 7 =$$

$$6 + 3 \div 3 =$$

$$27 \div 3 =$$

$$7= \quad 9+57=12-4\div\frac{11}{2}= \quad 82-9=$$

$$5900-2000= \quad 1600-700= \quad 120+50= \quad 54\div 6=$$

2、笔算（8分）

$$38\div 9= \quad 53\div 7= \quad 47\div 5= \quad 30\div 6=$$

3、脱式计算（12分）

$$64-40\div 8 \quad 16\div 4\times 2 \quad 73-26+35 \quad (72-18)\div 9$$

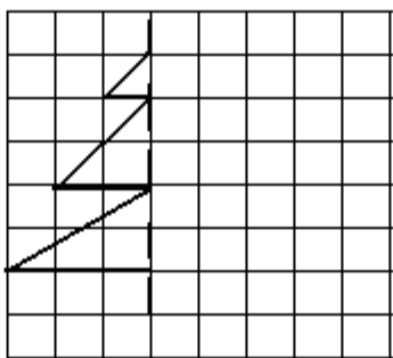
4、列式计算（6分）

(1) 6个相同加数的和是18，其中一个加数是多少？

(2) 除数和商都是7，余数是4，商和余数是多少？

五、操作题（8分）

2.我会按对称轴画出另一半。（4分）



六、解决问题（27分）

1、饼干原来10元一包，现在优惠促销，3包24元。现在每包多少元？现在每包比原来便宜多少钱？（4分）

2、儿童票每张4元，成人票每张6元，小明和他的爸爸，妈妈，爷爷一起去公园玩，用25元钱买票够吗？（4分）

以上内容仅为本文档的试下载部分，为可阅读页数的一半内容。如要下载或阅读全文，请访问：<https://d.book118.com/046010054041010100>