

专题 08 近代化的早期探索与民族危机的加剧

考点过关练

考点 01 洋务运动与边疆危机

1. 美国驻华海军武官薛斐尔评论洋务运动：“中国正在获得的不过是一种虚构的实力，其追赶西方的步伐也只存在于想象之中。”这么说是因为洋务运动（ ）

- A. 受到顽固派阻挠
- B. 只注重军事工业
- C. 领导者腐败不堪
- D. 只学习西方技术

2. 据邵阳市人民政府网记载，晚清时邵阳籍名人魏光焘历任云贵、陕甘总督，后官至两江总督、南洋大臣、总理各国事务大臣，曾开辟会宁车路，开矿铸钱，创学堂，推动了我国晚清时期经济和文化教育事业的发展。据此可知，魏光焘是（ ）

- A. 农民阶级代表
- B. 洋务运动代表
- C. 戊戌变法代表
- D. 辛亥革命代表

3. 左宗棠是晚清名臣，“大将筹边尚未还，湖湘子弟满天山。新栽杨柳三千里，引得春风度玉关。”指的是他（ ）

- A. 创办江南制造总局
- B. 率部收复新疆
- C. 创办汉阳铁厂
- D. 创办北洋舰队

4. 中国近代教育随时代发展不断进步。表中三类学校兴办的目的是（ ）

类别	时间	数量	地点
外语学校	1862-1864	3	北京、上海、广州
军事学校	1874-1894	9	上海、天津、广州、南京、旅顺、威海、刘公岛
技术学校	1867-1896	16	福州、上海、天津、广州、武昌、南京、台湾

- A. 培养洋务运动所需要的人才
- B. 传播维新变法的思想
- C. 推动民主共和观念深入人心
- D. 宣传民主科学的主张

考点 02 甲午中日战争与列强瓜分中国狂潮

5. 《甲午战争图志》记载：日本在甲午战争时绘制的包括朝鲜、中国东北、山东半岛在内的军用地形详图中，对这些地区的每一条道路、每一座小山、每一个村庄，都标示得清楚无误。这段材料旨在说明（ ）

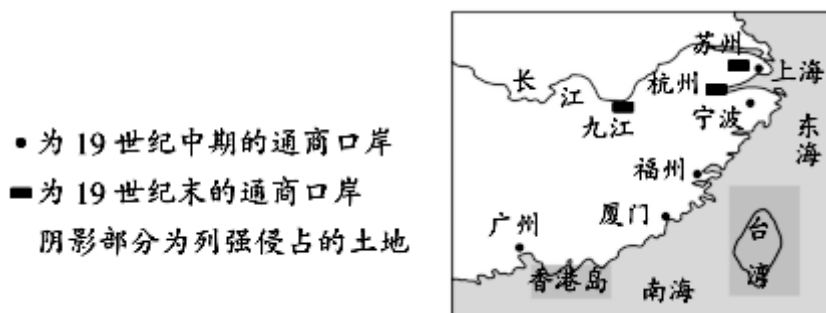
- A. 日军已经占领了朝鲜、中国东北、山东半岛
- B. 日本制图技术高超
- C. 朝鲜、中国东北、山东半岛具有重要的战略地位

D. 日本侵华蓄谋已久

6. 美国在甲午中日战争中表面奉行中立政策，实际却站在日本那一边。战前默认或怂恿日本发动战争，战争期间，美国作为中日两国的唯一调停者，一方面拒绝与欧洲国家联合调停，为日本继续发动战争减轻国际压力，另一方面劝说清政府接受日本的各项侵略要求，帮助日本实现发动战争的目的。美国这一行径旨在（ ）

- A. 推行“门户开放”政策
- B. 借日本之手扩大侵华权益
- C. 巩固美日的同盟关系
- D. 维护其在华的“势力范围”

7. 下图反映的两场侵华战争的相同之处是（ ）



- A. 都占领了中国的首都
- B. 都体现了西方列强资本输出的要求
- C. 都与鸦片贸易直接相关
- D. 都加剧着中国的民族危机

8. 美国学者马汉在《海权论》中指出：“谁拥有了长江流域这个中华帝国的中心地带，谁就具有了最可观的政治权威。出于这些原因，外部海上国家应积极、有效地对长江流域施加影响。”以下最能印证作者观点的事件是

- A. 《马关条约》的签订
- B. 《辛丑条约》的签订
- C. 八国联军发动侵华战争
- D. 武昌起义时列强企图干涉

考点 03 戊戌变法

9. “自时务学堂、南学会等既开后，湖南民智骤开，士气大昌……人人皆能言政治之公理，以爱国相砥砺，以救亡为己任，其英俊沈毅之才，遍地皆是。”这说明该活动（ ）

- A. 推动社会思想启蒙
- B. 使民主观念深入人心
- C. 改变了近代社会习俗
- D. 加速民族工业发展

10. 康有为在《孔子改制考》一书中，极力把孔子描写为一个力主改革的圣人，把大同思想说成是孔子教义的最高境界，只是由于古文经学的篡改，才使孔子地位降低。康有为这一做法的目的是（ ）

- A. 继承孔子的志向
- B. 纠正古文经学的错漏
- C. 找寻变法的依据
- D. 塑造自己改革家的形象

11. 据统计，梁启超所办的《时务报》在 1896 年销量达到 7000 多份，次年销量高达 12000 份，最高时竟然达到 17000 份，出现了“举国趋之，如饮狂泉”的局面，连《万国公报》的主笔林乐之都称赞其“议论明通，识解超卓”。《时务报》的畅销（ ）

- A. 使宣传西方思想成为主流
- B. 为维新变法的开展创造了舆论氛围
- C. 致力于推翻清王朝的统治
- D. 使维新运动具备了广泛的社会基础

12. 长期以来，史学界因《康南海自编年谱》记载“（1895 年）四月八日投递，都察院以既已用宝（光绪帝批准和约），无法挽回，却不收”，认为康有为发起和组织了“公车上书”。南京大学茅海建教授详查清朝军机处等各类档案，证明并非都察院不收，而是康有为根本未送。由此可见（ ）


- A. 原始档案比研究文献更接近历史事实
- B. 历史研究可以通过多种方式探寻真相
- C. 通过文献记录最终能够还原历史真相
- D. 综合多种历史记录即可确认客观事实

考点 04 八国联军侵华与《辛丑条约》签订

13. 有历史学习小组在进行主题学习时，选用了以下部分相关资料。该小组的学习主题最有可能是（ ）



《资政新篇》书影



江南机器制造总局炮厂



维新运动期间的报纸



义和团团旗

- A. 内忧外患与救亡图存
- B. 民族民主革命的艰巨性
- C. 民族工业的艰辛历程
- D. 探索中国革命的新道路

14. 法国政府曾向各国递交一份备忘录，为将要到来的议和定调子，其中写道：由于各国使馆希望前往沿海或各国部队想要从沿海前往都（北京），为了保持道路始终畅通，各国对某些地方进行军事占领。该条文的核心内容最终写入了（ ）

- A. 《南京条约》
- B. 《马关条约》
- C. 《北京条约》
- D. 《辛丑条约》

15. 下面漫画中描绘的情境最有可能出现在（ ）



《太多的高利贷者》

材料二：洋务派对清朝军队进行武器和训练的革新，在中国军事史上具有划时代的意义。从1865年到1895年，洋务派在各地创办了20多个制造枪炮、弹药和船舰的工厂。在自制和外购的基础上，19世纪70年代，淮军已“尽弃中国习用之抬鸟枪，而变为洋枪队”。中国军队武器装备的改善，使其战斗力有所增强。洋务派的海军建设成效尤为卓著。经过苦心经营，洋务派建立起了北洋、南洋和福建水师。尤以北洋水师实力最强，其规模时居世界第4，其中定远、镇远舰的购置，给日本以很大的威慑，推迟了日本向中国发动侵略战争的时间。

(1)根据材料一，洋务派创办洋务与哪些事件有关？

(2)根据材料一、二，洋务派革新军队的措施有哪些？军队的革新产生了什么影响？

(3)通过学习，你认为洋务运动给中国近代化探索留下哪些有益的启示？

2. (考法二：评价评述) 阅读材料，回答问题。

材料一 1899年1月，康有为在回忆“公车上书”时说：“再命大学士李鸿章求和，议定割辽台，并偿款二万万两。三月二十一日电到北京，吾先知消息，即令卓如（梁启超）鼓动各省……一昼二夜草万言书，请拒和、迁都、变法三者……至四月八日投递，则察院以既以用宝（光绪帝批准和约），无法挽回，却不收。”许多论著据此认为康有为发起和组织了“公车上书”。

——摘编自《康南海（康有为）自编年谱》等

材料二 20世纪七八十年代以来，史学界对康有为的说法提出了诸多质疑。茅海建详细查阅清朝军机处《随手档》、《早事档》等档案，提出，“在各省，封疆大吏电奏反对者（反对签订和约）已过其半数；在京城，翰林院、总理衙门官员皆有大规模的联名上书；举人们的单独上书也达到了31次；“四月初八日（5月2日），即康有为所称‘不收’其上书的当日，都察院代奏了官员举人的上书共计十五件。”“由此可以证明，康有为组织的十八行省公车联名上书，并非都察院不收，而是康有为根本没有去送。”

——摘编自茅海建《戊戌变法史事考二集》

(1)根据材料一，阐述材料所述历史事件的背景。

(2)指出材料一和材料二的观点有何不同？根据材料一和材料二，概述以康有为为代表的士大夫阶层对甲午战争失败的反应。

(3)材料一、材料二两则材料相比较，哪则材料更具史料价值？请说明理由。

3. **（考法三：背景、原因）**中国近代史既是一部列强的侵华史，也是一部中国人民的抗争史和探索史。某校九年级学生围绕这个主题查找资料，进行了系列探究，请你参与。

【19世纪中期】

材料一：今则东南海疆万余里，各国通商传教，来往自如，甚至进入到了京城和各省，表面上打着和好的旗号，暗地里怀着吞并中国的野心，一国生事，诸国构煽，实为数千年来未有之变局。

——1867年李鸿章《筹议海防折》

【19世纪90年代】

材料二：假使我们是甲午到戊戌那个时代的人，眼看见我们的国家被小小的日本打败了，打败了以后又要割地赔款，我们还不激昂慷慨想要救国吗？……光绪也受了时局的刺激，很想努力救国。

——蒋廷黻《中国近代史》

【20世纪初】

材料三：庚子（1900年）拳匪之乱以后，全体人民感觉清朝是我民族复兴的一种障碍，这种观察是很有根据的。……同盟会和其他革命志士看清了满人的把戏，积极的图以武力推倒清朝的政权。

——蒋廷黻《中国近代史》

(1)材料一中面对“数千年来未有之变局”，洋务派开始筹划海防，采取了什么措施？

(2)据材料二，指出刺激光绪帝救国“时局”是什么？

(3)根据材料三并结合所学知识思考，为什么“庚子拳匪之乱”以后，人民对朝廷的态度产生变化？

(4)为了实现国家富强，近代中国人进行了不懈的探索但均以失败而告终。你认为要实现国家富强的前提条件是什么？

专题检测卷

专题 08 近代化的早期探索与民族危机的加剧

(时间 45 分钟，满分 60 分)

一、选择题（每小题 2 分，15 小题 30 分）

1. (2022·四川宜宾·统考中考真题)“比之欧洲各国资产阶级革命完成之后实现的产业革命，洋务运动像是在缺乏产业革命条件的情况下出现的产业革命迹象”。据此观点，洋务运动 ()

- A. 推动了世界产业革命进程
- B. 实现了中国民众思想解放
- C. 改变了中国传统政治体制
- D. 促进了中国近代工业发展

2. (2023·西藏·统考中考真题)史论结合是学习历史的重要学习方法。下列关于洋务运动的表述中属于历史结论的是 ()

- A. 兴办新式学校，培养翻译和军事人才
- B. 初步建成福建、广东、南洋和北洋海军
- C. 以“自强”为口号，创办了一批近代军事工业
- D. 是中国历史上第一次近代化运动，但没有使中国走上富强的道路

3. (2023·山东潍坊·统考中考真题)近代以来，京师同文馆等机构翻译了近四百部欧洲书籍。其主要作用是 ()

A. 抵制了外来侵略

B. 传播了西方文化

11. (2023·湖南株洲·统考中考真题)“望门投止思张俭，忍死须臾待杜根。我自横刀向天笑，去留肝胆两昆仑。”在狱中题写此诗甘愿为变法流血牺牲的维新志士是 ()

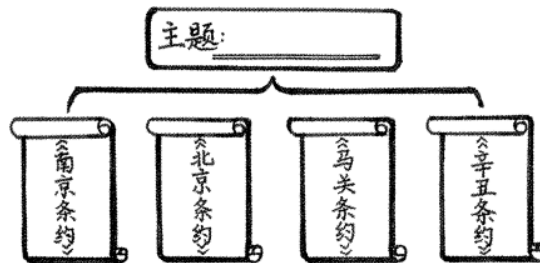
- A. 谭嗣同 B. 梁启超 C. 严复 D. 黄兴

12. (2023·四川自贡·统考中考真题)《马关条约》签订后，中国出现了新的民族危机，激发了新的民族觉醒。以康、梁为首的新兴民族资产阶级把向西方学习推进到一个新的高度(见下表)。“新的高度”体现的是 ()

人物	主要活动
康有为	发起“公车上书”，组织保国会
梁启超	《中外纪闻》《时务报》主笔
严复	翻译《天演论》，主持《国闻报》

- A. 宣传维新启蒙思想 B. 推动民主共和传播
C. 高举民主与科学大旗 D. 促进马克思主义传播

13. (2023·山东青岛·统考中考真题)为拓展学生思维，某中学开展了“思维导图主题命名”活动。如下图最恰当的“主题”是 ()



- A. 中国近代沦为殖民地的过程 B. 中国近代化的早期探索
C. 中国近代民族危机的加剧 D. 中国近代主动开放的过程

14. (2023·内蒙古通辽·统考中考真题)历史事件纷繁复杂，学习时要及时梳理。下图所示知识结构的主题是 ()

主题: ?	太平天国运动
	洋务运动
	戊戌变法
	义和团运动

- A. 政治制度的变革
- B. 民族意识的觉醒
- C. 救亡图存的探索
- D. 民族危机的加深

15. (2023·江苏连云港·统考中考真题)《复兴之路》解说词中提到：“20 世纪的大幕拉开了，紫禁城依然巍峨庄严，但太和殿前却留下了中国在 20 世纪的第一年所遭受的国耻。”关于这一“国耻”表述正确的是 ()

- A. 开始丧失完整独立主权
- B. 沙俄占领北方大片领土
- C. 北洋舰队至此全军覆没
- D. 被迫签订了《辛丑条约》

二、综合题 (16 题 10 分, 17 题 10 分, 18 题 10 分, 共 30 分)

16. (2023·四川宜宾·统考中考真题) 综合探究题。根据要求, 完成探究。(10 分)

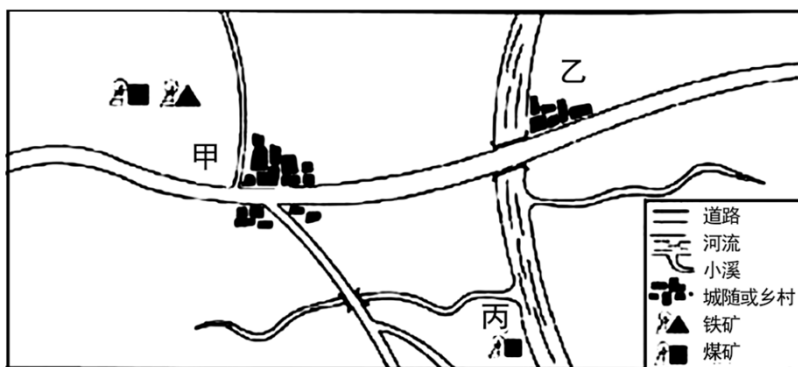
材料一 1872 年, 第一批留美学生 (见图) 由上海乘轮赴美, 1875 年最后一批送毕。按规定, 学生出洋后, 学习西学仍兼讲中学。“不准半途而废, 亦不准入籍外洋”, 学成后听候酌量器使, 奏明委用。

——摘编自郑振铎《晚清文选》等



(1) 据材料一指出清政府派遣留美学生与近代哪一场运动有关? 其目的何在?

材料二 1889 年, 张之洞调任湖广总督, 购得大冶铁矿, 准备选址建铁厂。

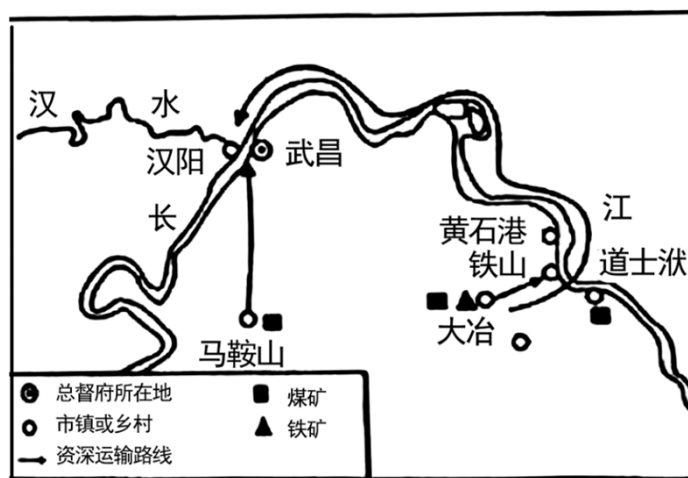


大冶选址区城示意图

(2)假设你是当时留美回国学员，利用图并考虑近代工业发展条件（如：资源、交通等），在甲、乙、丙三处中推荐最合理的一处厂址，说明理由。

材料三 张之洞认为“大冶路远，照料不便，若建于汉阳，吾犹及见铁厂之烟囱也”，历经波折，最终选址汉阳（见图）。铁厂采取官办，动用官款 5, 829, 629 两，甲午战争后，清政府已无余力接济；1908 年，盛宣怀将汉阳铁厂商办；一战期间，向日商借款 3700 万日元；抗战爆发后，国民政府把全部设备运往重庆，剩下的建筑悉数炸毁，成立五十年不到的汉阳铁厂，就此灰飞烟灭。

——摘编自陈真《中国近代工业史资料》等



(3)根据材料三，概括张之洞最终选址汉阳建铁厂的原因。

(4)结合汉阳铁厂的命运，谈谈你对中国近代化的认识。

17. (2018·贵州贵阳·统考中考真题) 阅读下列材料，结合所学知识回答问题。(10分)

材料一：李鸿章说：“外国利器强兵，百倍中国，内则狎①处鞶鞶之下②，外则布满江湖之间”，“外国猖獗至此，不亟亟③焉求富强，中国将何以自立耶!”他认为“目前之患在内寇，长久之患在西人。”

【注释】①狎：轻慢，轻侮；拥挤。②鞞毂之下：京都的代称。③亟亟：急迫。

材料二：“能变则全，不变则亡；全变则强，小变仍亡。”这段话出自康有为的《上清帝第六书》，代表了维新派的共识。最后两句，批评了惨淡经营 30 年的洋务运动；同时，又说明了近代社会演变过程中的质、量、度。洋务运动带来的小变并不是坏东西，但那不过是一种量变。与这种“小变”不同的，是全变。

--陈旭麓《近代中国社会的新陈代谢》

材料三：历史理解：即从历史发展的视野中理解历史的变化与延续、继承与发展。对历史事件的发生、进程、结果、性质及影响等，对历史人物的言行、贡献、历史地位等，对历史现象的出现、状态、波及、后果等的认识，都需要将其放在历史条件中进行具体的考察，这样才能对历史作出正确、客观、辩证的认识。

(1) 根据材料一并结合所学知识，举出一例外国“狎处鞞毂之下”的罪行，并说出李鸿章认为“外国猖獗”的原因是什么。

(2) 结合所学知识，列举一例“洋务运动带来的小变”，你如何理解材料二中的“洋务运动带来的小变并不是坏东西，但那不过是一种量变”？结合所学知识，说出康有为主张的“全变”比洋务运动的“小变”有什么进步？

(3) 根据材料三并结合所学知识，谈一谈你对康有为主张的“全变”失败的认识。

18. (2020·四川内江·统考中考真题) 阅读材料，回答问题。(10分)



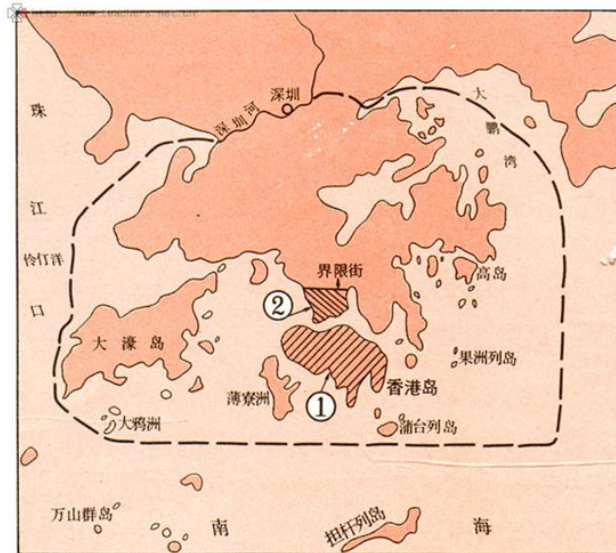
静海寺纪念馆获赠礼物原件影印件

材料一

2017年6月9日，为庆祝香港回归20周年，香港大学生“寻根追梦·同心同行”内地探访交流活动在静海寺纪念馆举行，双方互赠礼物，如图为静海寺纪念馆获赠礼物。

(1) 根据材料一并结合所学知识指出：材料中的条约是什么战争的结果？它签订于哪一年？香港大学生“寻根追梦·同心同行”时选择如图礼物赠送静海寺纪念馆有什么现实意义？

材料二 《清史稿·地理志》广州府：新安县有“九龙司”，统辖九龙半岛。清咸丰十年英国强占九龙半岛南端“岬角至尖沙咀”一带。阅读如图



(2) 根据材料二并结合所学知识指出：材料中清咸丰十年是公元哪一年？图片中①和②哪一个属“九龙司”管辖？“九龙司”一带被英国割占是什么条约的结果？

材料三 “九七国耻”来源于1901年9月7日，它是所有中国人的伤痛！铭记历史，吾辈更当自强！



1901年，清政府被迫与英、额、德、法、美、日、意、奥、比、西签订《辛丑条约》

(3) 根据材料三并结合所学知识指出：材料中签订的条约是什么战争的结果？这场战争爆发于哪一年？综合以上三则材料，作为当代中学生我们应该有怎样的认识？

专题 08 近代化的早期探索与民族危机的加剧

考点过关练

考点 01 洋务运动与边疆危机

1. 美国驻华海军武官薛斐尔评论洋务运动：“中国正在获得的不过是一种虚构的实力，其追赶西方的步伐也只存在于想象之中。”这么说是因为洋务运动（ ）

- A. 受到顽固派阻挠
- B. 只注重军事工业
- C. 领导者腐败不堪
- D. 只学习西方技术

【答案】D

【详解】材料中的“虚构的实力”指的是洋务运动失败的根本原因，结合所学知识，洋务运动失败的根本原因是只学技术不学制度，维护清朝的封建统治，D项正确；洋务运动没有受到顽固派的阻挠，排除A项；洋务运动创办了军事和民用企业，排除B项；领导者腐败不堪不是洋务运动失败的本质，排除C项。故选D。

2. 据邵阳市人民政府网记载，晚清时邵阳籍名人魏光焘历任云贵、陕甘总督，后官至两江总督、南洋大臣、总理各国事务大臣，曾开辟会宁车路，开矿铸钱，创学堂，推动了我国晚清时期经济和文化教育事业的发展。据此可知，魏光焘是（ ）

- A. 农民阶级代表
- B. 洋务运动代表
- C. 戊戌变法代表
- D. 辛亥革命代表

【答案】B

【详解】根据材料“晚清时邵阳籍名人魏光焘历任云贵、陕甘总督，后官至两江总督、南洋大臣、总理各国事务大臣，曾开辟会宁车路，开矿铸钱，创学堂，推动了我国晚清时期经济和文化教育事业的发展”结合所学知识可知，清朝统治集团内部一些比较开明的官员，主张利用西方先进技术，强兵富国，维护清朝统治，这些官员被称为“洋务派”，为了洋务的需要，洋务派还兴办新式学校，得出魏光焘是洋务运动代表，B项正确；魏光焘是地主阶级，不是农民阶级代表，排除A项；戊戌变法代表通过光绪帝进行倡导学习西方，提倡科学文化，改革政治、教育制度，发展农、工、商业等的资产阶级改良运动，与材料不符，排除C项；辛亥革命代表的思想主张是推翻满清统治，建立共和体制等，与材料不符，排除D项。故选B项。

3. 左宗棠是晚清名臣，“大将筹边尚未还，湖湘子弟满天山。新栽杨柳三千里，引得春风度玉关。”指的是他（ ）

- A. 创办江南制造总局
- B. 率部收复新疆
- C. 创办汉阳铁厂
- D. 创办北洋舰队

【答案】B

【详解】1875年，清政府任命左宗棠为钦差大臣督办新疆军务，发兵新疆平乱，1878年2月收复新疆南北两路。1884年，清政府在新疆正式建省，使西北边疆度过了危机。因此“大将筹边尚未还，湖湘子弟满天山。新栽杨柳三千里，引得春风度玉关。”中“玉门关”与收复新疆有关，B项正确；江南制造总局是李鸿章创办的，排除A项；张之洞创办汉阳铁厂，排除C项；北洋舰队与“玉门关”无关，排除D项。故选B项。

4. 中国近代教育随时代发展不断进步。表中三类学校兴办的目的是（ ）

类别	时间	数量	地点
外语学校	1862-1864	3	北京、上海、广州
军事学校	1874-1894	9	上海、天津、广州、南京、旅顺、威海、刘公岛
技术学校	1867-1896	16	福州、上海、天津、广州、武昌、南京、台湾

- A. 培养洋务运动所需要的人才
B. 传播维新变法的思想
C. 推动民主共和观念深入人心
D. 宣传民主科学的主张

【答案】A

【详解】依据题干表格“外语学校”“军事学校”“技术学校”“1862-1864”“1874-1894”“1867-1896”等信息，可知与洋务运动有关，19世纪六七十年代至90年代，清政府内部李鸿章等洋务派官员掀起一场“师夷长技以自强”的洋务运动，积极学习利用西方科学技术以维护封建统治，洋务运动时期创办了一批新式学堂，培养洋务运动所需要的外语、军事和技术人才，A项正确；19世纪末甲午战后，康有为等维新派人士积极宣传维新变法，主张学习西方政治制度、实行君主立宪、变法图强，与题干不符，排除B项；1911年辛亥革命爆发，推翻清朝统治，建立中华民国，推动民主共和观念深入人心，与题干不符，排除C项；1915年陈独秀发起新文化运动，大力宣传民主科学，猛烈批判儒家为代表的传统思想，与题干不符，排除D项。故选A项。

考点 02 甲午中日战争与列强瓜分中国狂潮

5. 《甲午战争图志》记载：日本在甲午战争时绘制的包括朝鲜、中国东北、山东半岛在内的军用地形详图中，对这些地区的每一条道路、每一座小山、每一个村庄，都标示得清楚无误。这段材料旨在说明（ ）

- A. 日军已经占领了朝鲜、中国东北、山东半岛
B. 日本制图技术高超
C. 朝鲜、中国东北、山东半岛具有重要的战略地位

D. 日本侵华蓄谋已久

【答案】D

【详解】根据材料“日本绘制朝鲜、中国东北、山东半岛在内的军用地形详图”结合所学知识可知，材料反映的是日本为发动侵略战争做准备，D项正确；日本没有占领中国，排除A项；材料没有涉及日本制图技术高超，排除B项；材料不能反映朝鲜、中国东北、山东半岛具有重要的战略地位，排除C项。故选D项。

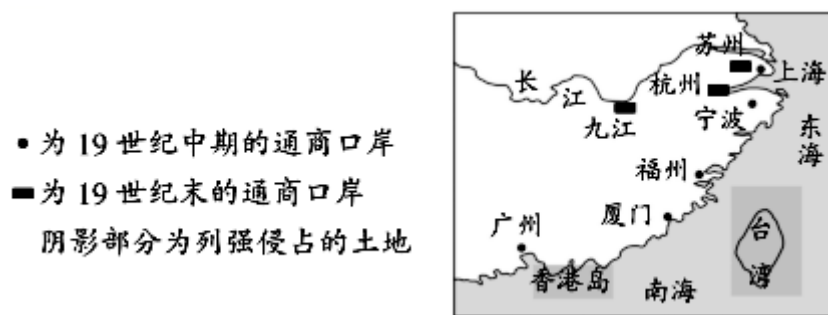
6. 美国在甲午中日战争中表面奉行中立政策，实际却站在日本那一边。战前默认或怂恿日本发动战争，战争期间，美国作为中日两国的唯一调停者，一方面拒绝与欧洲国家联合调停，为日本继续发动战争减轻国际压力，另一方面劝说清政府接受日本的各项侵略要求，帮助日本实现发动战争的目的。美国这一行径旨在（ ）

- A. 推行“门户开放”政策
- B. 借日本之手扩大侵华权益
- C. 巩固美日的同盟关系
- D. 维护其在华的“势力范围”

【答案】B

【详解】根据“美国作为中日两国的唯一调停者，一方面拒绝与欧洲国家联合调停，为日本继续发动战争减轻国际压力，另一方面劝说清政府接受日本的各项侵略要求，帮助日本实现发动战争的目的。”可得了美国是从自身的利益考虑，想要借日本之手扩大侵华权益，B项正确。“门户开放”在甲午之后，也与材料主旨无关，排除A项；美日并不是同盟，排除C项；D项不是美国的目的所在，排除D项。故选B项。

7. 下图反映的两场侵华战争的相同之处是（ ）



- A. 都占领了中国的首都
- B. 都体现了西方列强资本输出的要求
- C. 都与鸦片贸易直接相关
- D. 都加剧着中国的民族危机

【答案】D

【详解】结合材料中开放的通商口岸可得出分别是鸦片战争与甲午中日战争，结合所学，二者都加剧着中国的民族危机，D项正确；二者并没有占领首都，排除A项；B项是甲午中日战争的影响，排除B项；C项与甲午中日战争无关，排除C项。故选D项。

8. 美国学者马汉在《海权论》中指出：“谁拥有了长江流域这个中华帝国的中心地带，谁就具有了最可观的政治权威。出于这些原因，外部海上国家应积极、有效地对长江流域施加影响。”以下最能印证作者观点的事件是

- A. 《马关条约》的签订
- B. 《辛丑条约》的签订
- C. 八国联军发动侵华战争
- D. 武昌起义时列强企图干涉

【答案】A

【详解】依据所学知识可知，1895年清政府在甲午中日战争战败后被迫签订《马关条约》，其中规定“中国开放沙市、重庆、苏州、杭州为商埠”，而这些通商口岸都是长江流域的城市，使得列强侵略势力进步深入到长江流域，符合题干中观点“谁拥有了长江流域这个中华帝国的中心地带，谁就具有了最可观的政治权威”，A项正确；1900年八国联军发动侵华战争以镇压北方的义和团运动，迫使清政府签订《辛丑条约》，但没有开放长江流域通商口岸的内容，而是要求允许各国派兵驻守北京至山海关铁路沿线要地，排除BC项；武昌起义时列强企图进行武力干涉，但是革命形势的迅速发展使得这一企图化为泡影，排除D项。故选A项。

考点 03 戊戌变法

9. “自时务学堂、南学会等既开后，湖南民智骤开，士气大昌……人人皆能言政治之公理，以爱国相砥砺，以救亡为己任，其英俊沈毅之才，遍地皆是。”这说明该活动（ ）

- A. 推动社会思想启蒙
- B. 使民主观念深入人心
- C. 改变了近代社会习俗
- D. 加速民族工业发展

【答案】A

【详解】从材料中“时务学堂、南学会”并结合所学可知，这些是维新派创办的学术团体，“民智骤开……人人皆能言政治之公理，以爱国相砥砺，以救亡为己任，其英俊沈毅之才，遍地皆是”可知该活动促进了思想启蒙，A项正确；辛亥革命使民主共和观念深入人心，排除B项；改变风俗的主张，首先是受到了西方民主思想的影响，尤其是辛亥革命前后，“断发易服”不仅是移风易俗，还带有反清革命的色彩，排除C项；辛亥革命后，中华民国临时政府颁布了一系列奖励发展实业的法令，各种实业团体纷纷涌现，人们竞相投资设厂，掀起了发展事业的热潮，加速了民族工业的发展，排除D项。故选A项。

10. 康有为在《孔子改制考》一书中，极力把孔子描写为一个力主改革的圣人，把大同思想说成是孔子教义的最高境界，只是由于古文经学的篡改，才使孔子地位降低。康有为这一做法的目的是（ ）

- A. 继承孔子的志向
- B. 纠正古文经学的错漏

以上内容仅为本文档的试下载部分，为可阅读页数的一半内容。如要下载或阅读全文，请访问：<https://d.book118.com/046145122202011003>