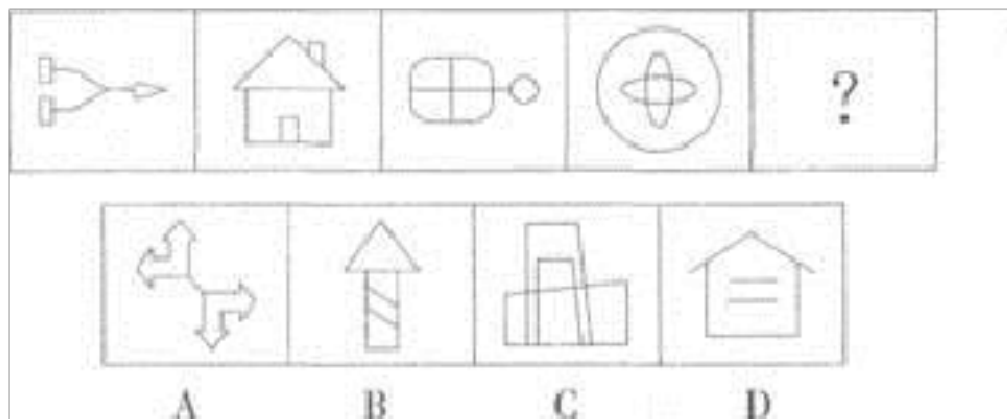


备考 2023 年江西省上饶市公务员省考行政 职业能力测验真题二卷(含答案)

学校:_____ 班级:_____ 姓名:_____ 考号:_____

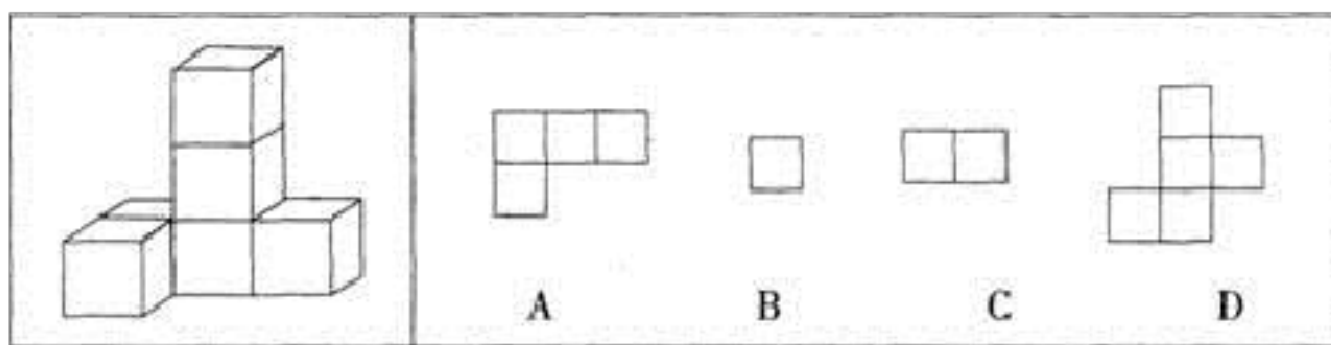
一、图形推理(6 题)

1. 从所给的四个选项中, 选择最合适的一个填入问号处, 使之呈现一定的规律性。()




2.

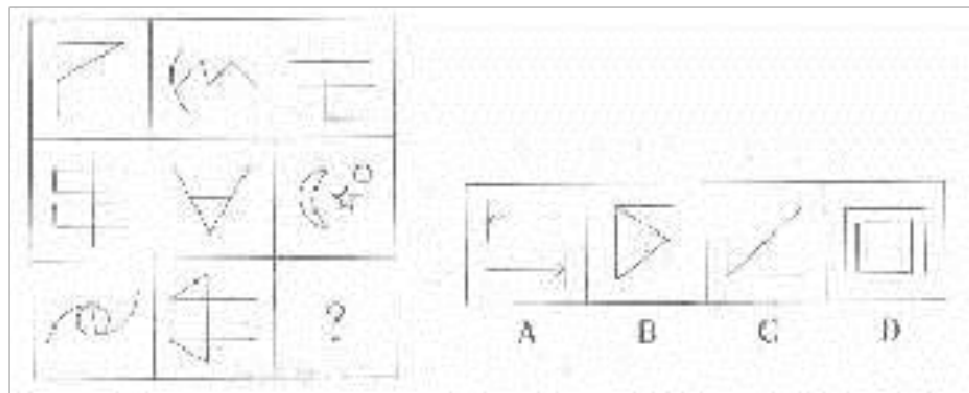
左边的图形从任意面剖开, 下面哪一项不可能是该图形的截面?



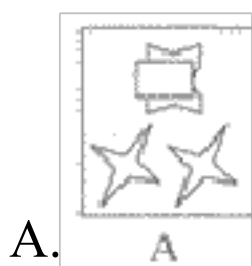
3. 从所给的四个选项中, 选择最合适的一个填入问号处, 使之呈现一定的规律性 ()

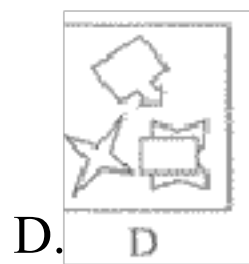
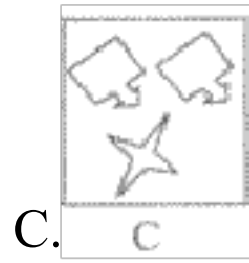
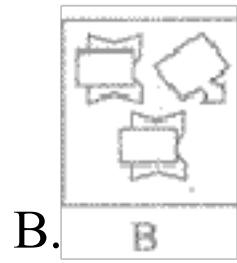


4. 从所给的四个选项中，选择最合适的一个填入问号处，使之呈现一定的规律性：

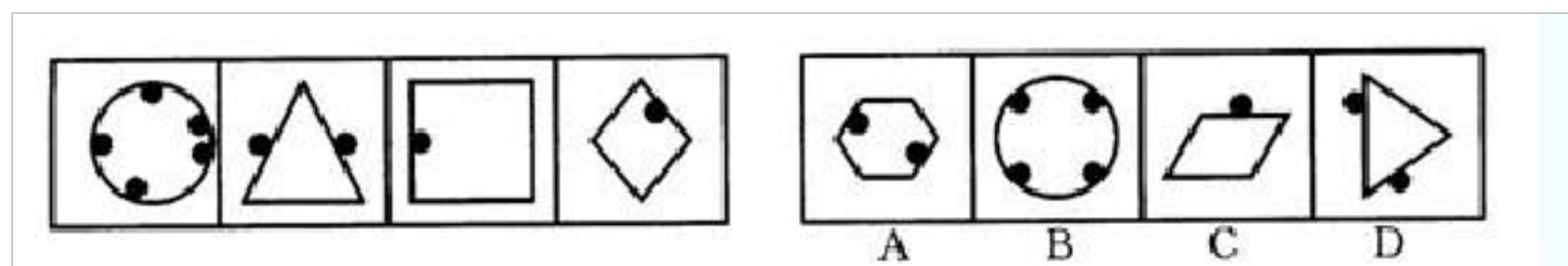


5. 请从所给的四个选项中，选择最合适的一个填入问号处，使之呈现一定的规律性。()





6.



二、定义判断(10 题)

7.

许多基因影响同一单位性状的现象称为“多因一效”。另一方面，一个基因也可以影响许多性状的发育，称为“一因多效”。

根据上述定义，下列属于“一因多效”的一项是：

- A.果蝇眼睛的颜色受四十几对基因的控制
- B.豌豆中控制花色的基因也控制种皮的颜色和叶腋有无黑斑
- C.玉米叶绿素的形成至少涉及 50 对等位基因
- D.人的血型由 i、A、B 三种复等位基因决定

8.社会调整是通过一定的社会权威确定社会主体的行为方式，指明其发挥作用和发展的方向，有目的地将其纳入一定的社会秩序之中，社会调整根据其作用于人们行为的方式，和人们服从它的原因，可分为内在调整和外在调整。内在调整是人们学习一定社会群体的行为规则的过程。外在调整则是通过外部压力使人们遵守一定社会规范的过程。

根据上述定义，下列各项中属于内在调整的是：

- A.社会舆论的监督也是实现领导干部廉洁自律的途径之一
- B.在警方新一轮的整肃之下，社会秩序明显好转
- C.3岁的小明在父母的教育下。知道过马路要走斑马线
- D.改革开放以来，国家高度重视并奖励科研，高水平的成果层出不穷

9.应对策略是指面临感知到的危险时，用以减低焦虑的有意识努力。

根据上述定义，下列各项不属于应对策略的是：

- A.面对雾霾天气，中国的许多城市开始实施机动车限行的方法
- B.2014年3月8日，马来西亚MH370客机与地面失去联系后，多国参与搜救行动
- C.俄罗斯允许克里米亚加入俄罗斯联邦，美国宣布冻结7名俄罗斯官员和4名乌克兰官员的资产
- D.2011年3月11日日本地震，导致福岛第一核电站发生核泄漏事故，很多中国公民“抢盐”

10. 蒸发散热指体液的水分在皮肤和黏膜(主要是呼吸道黏膜)表面由液态转化为气态, 同时带走大量热量的一种散热方式。

根据上述定义, 下面属于蒸发散热的是 ()。

A.发高烧时用酒精擦拭身体 B.天热游泳避暑 C.夏天用冰块降温 D.酷暑天大汗淋漓

11. 双趋冲突, 是指两种对个体都具有吸引力的目标同时出现, 而由于条件限制, 个体无法同时采取两种行动所表现的动机冲突。

根据上述定义, 下列属于双趋冲突表现的是 ()。

- A.小月挪用公司的 500 万元公款被盗了, 她不敢报案, 怕罪行暴露
- B.王大铭上个月被公司炒了鱿鱼, 这个月没钱花了, 他既不想问父母要钱, 又不想借朋友的钱, 搞得非常彷徨
- C.世界杯足球赛在 6 月底举行, 小强非常喜欢看足球赛, 但这段时间恰恰是接近学校期末考试的时间, 他既想看高水平的球赛, 又不想影响考试
- D.大宝非常爱喝红酒, 最近, 他看了法国一种红酒的广告, 异常着迷, 非常想买, 又怕被老婆骂

12.“诱饵效应”就是指人们对两个不相上下的选项进行选择时, 因为第三个新选项(诱饵)的加入, 会使某个旧选项显得更有吸引力。被“诱饵”帮助选项通常称为“目标”, 而另一选项则被称为“竞争者”。

根据上述定义, 以下属于“诱饵效应”的是:

A.某水果店。把散装的水果重新包装, 制成礼品篮的形式很受顾客欢迎

B.某酒吧安排“服务员”上网与人聊天，以交朋友等理由为诱饵，诱骗他人至酒吧消费高价酒水

C.卖场里的帽子和毛衣是摆放在一起的，标签上标出的价格分别是：帽子49元，毛衣299元。最后还有一行字：帽子+毛衣=299元

D.货架摆放陈列，一些利润较大的商品大都摆放在和消费者视线平行的位置，这样能促进不少销售量

13. 自我参照效应是指记忆信息与自我相联系时产生的记忆效果要优于其他信息条件的现象。每个人都会受到“自我参照效应”的影响，在接触到与自己有关的信息时，就很容易记住它。如果接触到的是不好的信息，也会表现出一种巨大的担心，担心这种事情哪天会发生在自己身上。

根据上述定义，下列各项中没有体现自我参照效应的是：

A.某公司经理雇了一位有会计工作经验的人，并告诉所有的员工说：“他是被雇来检查所有费用账簿的。”员工们开始自律，不再胡乱开支，最终降低了公司的费用开支

B.医学院的学生每当听到老师介绍一种病症时，总免不了会先想到自己是否出现过类似的征兆。如果恰巧有两三点看似符合，就开始惊慌，怀疑自己是否已经病人膏肓

C.刘某在父亲死于中风后，对自身健康状况非常担忧。一日，他在与一位朋友下棋时，发现捏自己大腿却没有感觉，就以为自己得了中风，后来发现他捏的是朋友的腿

D.黄某在学校表现不好，不仅调皮捣蛋，不遵守课堂纪律，而且考试经

常不及格。在他高考落榜时，其他同学都觉得是意料之中的事

14. 高语境传播指的是在传播时绝大部分信息或存于物质语境中，或内化在个人身上，极少存在于编码清晰的被传递的讯息中。高语境传播的特征是：在沟通过程中，只有很少的信息是经过编码后被清晰传递出来的，人们在交流过程中重视“语境”而非“内容”，注重建立社会信任，高度评价关系和友谊，关系的维持比较长久。

根据上述定义，下列属于高语境传播的是：

A.小红和小丽是双胞胎姐妹，她们外貌完全相同，在高考时成绩居然也一样

B.刘刚和张洁是夫妻，由于长期共同生活而形成了许多默契，在交流中，往往一个情绪就知道对方的想法，比如一说去老地方看电影就知道对方心情不错

C.美国人在阅读时，习惯拥有具体全面描述的细节，当他们看到没有细节进一步描述支撑的短语时，会觉得这些表述不可信

D.到美国的中国留学生可能会获得很多以书面形式呈现的信息，如：留学生手册，各类指南，宿舍管理手册，关于不同类型签证，如何换或续签签证的印刷信息等等

15.

功能性灭绝是指该物种因其生存环境被破坏，数量非常稀少，以致在自然状态下基本丧失了维持繁殖的能力，甚至丧失了维持生存的能力。

根据上述定义。下列不属于功能性灭绝的是：

- A.华南地区人类活动干扰大，野生的华南虎已经很难找到足够的食物和适合的栖息地
- B.长江水质污染日益严重，极大地影响了白鳍豚的健康，造成其繁殖能力减弱
- C.万安水坝建成后，鲟鱼洄游通道被阻断，其产卵场的水位、水温等生态条件被改变
- D.斯蒂芬岛异鹫因为岛内森林的开发而失去栖息地，后因岛上野猫的掠食而彻底消失

16. 皮格马利翁效应是一种心理学现象，指当一个人获得另一个人期望与信任时，他便感觉到获得了支持，从而变得自信与自尊，获得一种积极向上的动力，希望达到对方的期望。

下列属于皮格马利翁效应的一项是（ ）。

- A.罗杰·罗尔斯在校长“你会成为纽约州州长”的激励下，从嬉皮顽童成长为纽约第一个黑人州长
- B.王教授在教学过程中采用多媒体等现代教学手段，提高了学生掌握知识的效率
- C.郎老太太在 60 岁时不顾别人的看法，学习法律，顺利通过司法考试
- D.西方有句俗语，你的未来基于你的梦想，对于人生有良好规划，有远大理想的人，其工作往往更有动力，生活也是丰富多彩的

三、常识判断(10 题)

17.

第 72 题 智慧的中国人经过实践探索，形成了独具特色的医疗原则、方法，出现了许多著名的古代医生，其中被称为“药王”的是（ ）。

- A. 扁鹊
- B. 华佗
- C. 张仲景
- D. 孙思邈

18. 2012 年 8 月 1 日起，四项气象国家标准将正式实施，以下选项中不包含在这四项中的是（ ）。

- A. 《风力等级》
- B. 《天气预报》
- C. 《降水量等级》
- D. 《沙尘暴天气预警》

19. 土地作为一个国家的生命线，在一个国家的经济发展中发挥着不可替代的基础性作用。下列关于我国土地资源的说法，错误的一项是（ ）。

- A.我国土地资源的特点是“一多三少”，即总量多，人均耕地少，高质量的耕地少，可开发的耕地后备资源少
- B.我国土地面积居世界第三位，但人均面积仅及世界人均的
- C.为了保护土地，国务院把每年的 6 月 25 日定为我国的土地日
- D.我国地形复杂多样，地貌类型多。总的来说，平地多，山地少

20.第 98 题 通报适用于（ ）。

- A. 批评错误
- B. 表彰先进
- C. 任免人员
- D. 宣布法律事项

21.下列关于河流的说法，不正确的是（ ）。

- A . 长江的水量排名世界第三，仅次于亚马孙河和刚果河
- B . 我国的河流包括内流河和外流河，其中外流河注入太平洋和印度洋两个大洋
- C . 湄公河是东南亚最大的河流，其源头在中国境内
- D . 京杭大运河是世界上最古老的运河之一，沟通海河、黄河、淮河、长江、钱塘江五大水系

22.党的十八大报告指出，（）是中国特色社会主义的本质属性。

- A.经济发展 B.社会和谐 C.公平正义 D.共同富裕

23.以下有关城市建设的表述，错误的是（ ）。

- A . 铺设透水性公路可以有效改善城市热岛效应
- B . 城市改造过程中对于有价值的老建筑应采用异地重建等方式加以保护
- C . 中国城市频频遭遇内涝，主要原因在于城市建设重地表轻地下
- D . 中小城市不适宜发展多组团的城市空间布局

24. 某市某公安分局某派出所干警周某在执行巡逻任务时，非法殴打他人致残。如果该受害人请求赔偿，赔偿义务机关是（ ）。

A.某市公安局 B.某市某公安分局 C.某市人民政府 D.某公安分局某派出所

25. 一个国家中的文化精华。称其为“国粹”。中国的三大国粹为 ()

A.儒学、国画和针灸 B.茶艺、昆曲和武术 C.瓷器、书法和儒学 D.国画、京剧和中医

26.

人才的选拔与任用是政权建设中的重要问题，战国时期代表平民利益，主张尚贤，反对任人唯亲的学派是：

A.儒家 B.墨家 C.道家 D.法家

四、数量关系(10 题)

27.

第 35 题 1, 3, 11, 67, 629, ()

- A. 2350
- B. 3130
- C. 4783
- D. 7781

28.下面是一个立体图形的三视图，从正面看是直角边长为 20 的等腰直角三角形；从上面看是一个直径为 20 的圆；从左面看，图形中的圆的直径也是 20。该立体图形的体积是：



A. 2000π

B. 1000π

C. $\frac{2000}{3}\pi$

D. $\frac{1000}{3}\pi$

29. A、B 两杯盐水各有 40 克，浓度比是 3 : 2。在 B 中加入 60 克水，然后倒入 A 中若干盐水，再在 A、B 中加入水，使它们均为 100 克，这时浓度比为 7 : 3。则从 B 倒入 A :

A. 22 克 B. 24 克 C. 25 克 D. 27 克

30.

如果用甲、乙、丙三根水管同时往一个空水池里灌水，1 小时可以灌满；如果用甲、乙两根水管，1 小时 20 分可以灌满；如果用乙、丙两根水管，1 小时 15 分可以灌满，那么，用乙管单独灌水的话，灌满这一池水需要()小时。

A. 1 B. 2 C. $2\frac{9}{11}$ D. $1\frac{9}{11}$

31. 第 19 题 $\frac{1}{80 \times 81} + \frac{1}{81 \times 82} + \dots + \frac{1}{99 \times 100}$ 的值是()。

A. $\frac{1}{40}$
B. $\frac{1}{60}$
C. $\frac{1}{400}$
D. $\frac{1}{800}$

32. 第 50 题 甲工程队每工作 5 天必须休息 1 天，乙工程队每工作 6 天必须休息 2 天。一项工程。甲工程队单独做需 62 天，乙工程队单独做需 51 天，两队合作需要多少天 ()

以上内容仅为本文档的试下载部分，为可阅读页数的一半内容。如要下载或阅读全文，请访问：<https://d.book118.com/05620112300010104>