




第二单元

7. 谁先看到日出



北京



乌鲁木齐

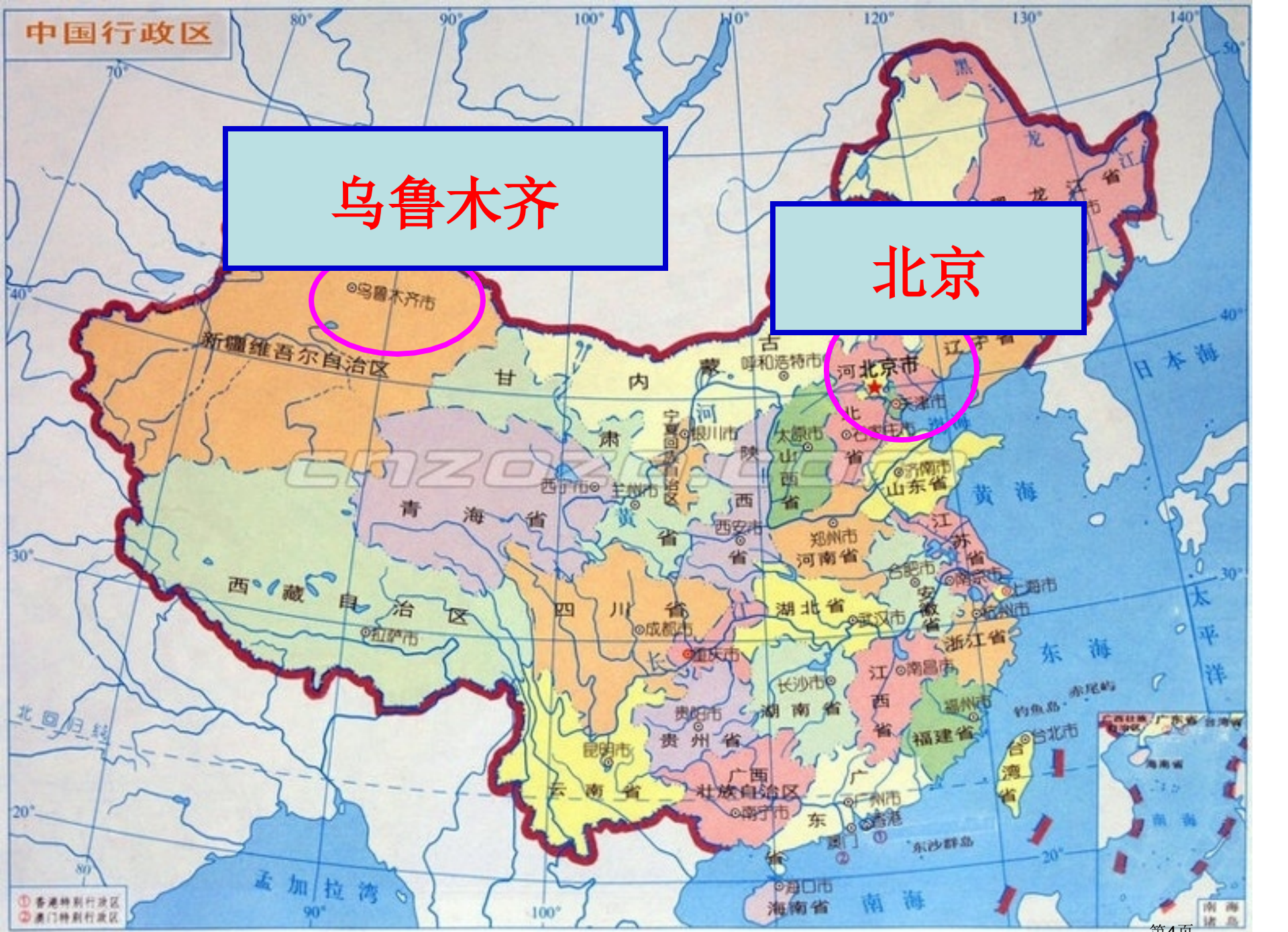


乌鲁木齐市夜景



乌鲁木齐

北京



确定位置

北京在乌鲁木齐 **东**边

乌鲁木齐在北京 **西**边


西

东

乌鲁木齐

北京

模拟试验



自西向东 (逆时针) 转动

北京先迎来拂晓

自东向西 (顺时针) 转动

乌鲁木齐先迎来拂晓



思考

地球自转方向到底是怎样呢？

回想生活中事例，可能能够帮助你



回忆*联想

当我们坐在汽车里快速向前行驶时候，
我们看到窗外树，房子等景物是怎样运动
？

土豆网





回忆联想

当在黑板上移动黑板刷时候，绿色点相对黑板刷来说怎样运动？

生活中,还有哪些类似例子？

或者你能不能现场演示一下。

以上内容仅为本文档的试下载部分，为可阅读页数的一半内容。如要下载或阅读全文，请访问：<https://d.book118.com/058077026106006130>