

# 2022年3月青少年软件编程(图形化)等级考试试卷(一级)

## 含答案

分数: 100 题数: 37

### 一、单选题(共25题, 共50分)

1. 天天收到了一个语音机器人, 当天天说“a”的时候, 机器人会说“apple”, 当天天说“b”的时候, 机器人会说“banana”, 当天天说“c”的时候, 机器人会说“cat”, 如果天天说其它内容, 机器人就会说“I don't know”。机器人可以识别一连串字母, 并按顺序说出对应的单词, 比如天天说“abc”, 机器人会说“apple banana cat”。请问天天说“dcbba”的时候, 机器人会说什么呢? ( )

- A. cat cat banana banana apple
- B. cat banana banana apple I don't know
- C. I don't know cat banana apple
- D. I don't know cat banana banana apple

试题编号: 20210205-GWL-12

试题类型: 单选题

标准答案: D

试题难度: 较难

试题解析:

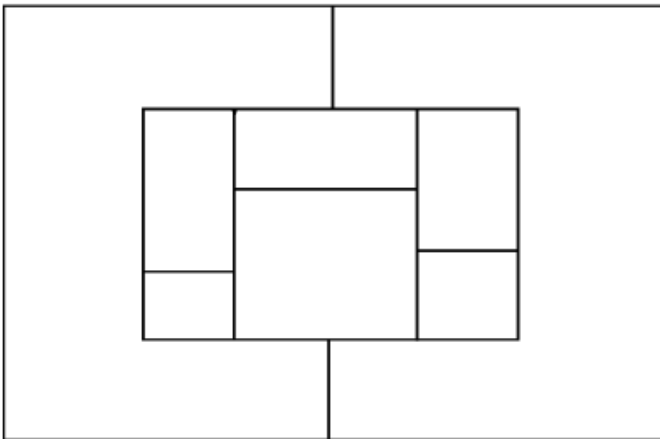
考生答案: D

考生得分: 2

是否评分: 已评分

评价描述:

2. 小明在玩填色游戏, 如下图所示的图形, 要求是任意相邻的方框内颜色不能一样, 最少需要多少种颜色可以实现? ( )



- A. 2

- B. 3
- C. 4
- D. 5

试题编号: 20210205-GWL-13

试题类型: 单选题

标准答案: C

试题难度: 较难

试题解析:

考生答案: C

考生得分: 2

是否评分: 已评分

评价描述:

3. 观察数列找规律: 1, 2, 4, 7, 11, ( ), 括号里的数是下面哪一个?

- A. 16
- B. 15
- C. 18
- D. 13

试题编号: 20210215-LQH-17

试题类型: 单选题

标准答案: A

试题难度: 较难

试题解析:


考生答案: B

考生得分: 0

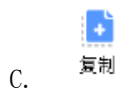
是否评分: 已评分

评价描述:

4. 从角色库中添加“Apple”角色, 把一个“Apple”变成如下图所示的图形, 需要在图形编辑器中进行什么操作? ( )



- A.  复制  粘贴  删除



试题编号：20210215-LQH-27

试题类型：单选题

标准答案：B

试题难度：较难

试题解析：

考生答案：A

考生得分：0

是否评分：已评分

评价描述：

5. 完整地播放两次小猫的叫声，以下哪个选项不能实现？（ ）





D.

试题编号: 20210215-LQH-30

试题类型: 单选题

标准答案: B

试题难度: 一般

试题解析:

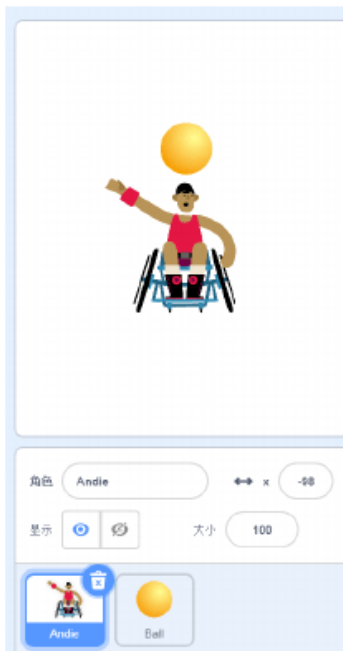
考生答案: D

考生得分: 0

是否评分: 已评分

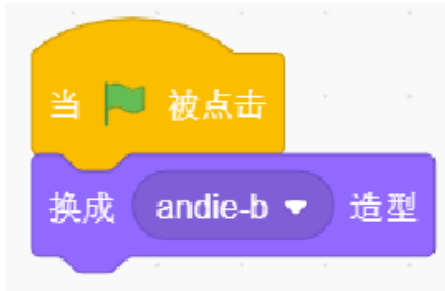
评价描述:

6. 如下图所示, 舞台上“Andie”和“Ball”两个角色, 下面哪个程序能让角色“Andie”的右手碰到黄色的小球? ( )





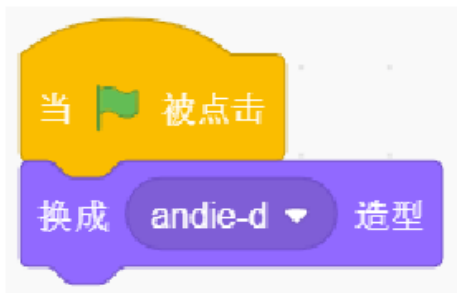
A.



B.



C.



D.

试题编号：20210215-LQH-31

试题类型：单选题

标准答案：B

试题难度：较难

试题解析：



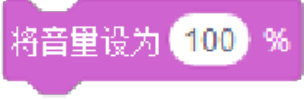

考生答案：B

考生得分：2

是否评分：已评分

评价描述：

7. 下面哪个积木可以停止正在播放的声音？（ ）

- A. 
- B. 
- C. 
- D. 

试题编号：20210215-1xb-005

试题类型：单选题

标准答案：A

试题难度：一般

试题解析：

考生答案：A

考生得分：2

是否评分：已评分

评价描述：

8. 运行下列程序后音调音效为？（ ）



- A. 10
- B. 20
- C. 30
- D. 40

试题编号：20210215-1xb-008

试题类型：单选题

标准答案：D

试题难度：一般

试题解析：

考生答案：D

考生得分：2

是否评分：已评分

评价描述：

9. 小华、小明和小刘三个人赛跑结束后，小明说：“我跑得不是最快的，但我比小刘跑得快。”他们三人中跑得最快的是？（ ）

- A. 小华
- B. 小明
- C. 小刘
- D. 小唐

试题编号：20210215-1xb-011

试题类型：单选题

标准答案：A

试题难度：一般

试题解析：

考生答案：A

考生得分：2

是否评分：已评分

评价描述：

10. 默认小猫角色，点击绿旗后，小猫面向什么方向？（ ）



- A. 75
- B. 90
- C. 105
- D. 120

试题编号：20210215-1xb-029

试题类型：单选题

标准答案：A

试题难度：一般

试题解析：

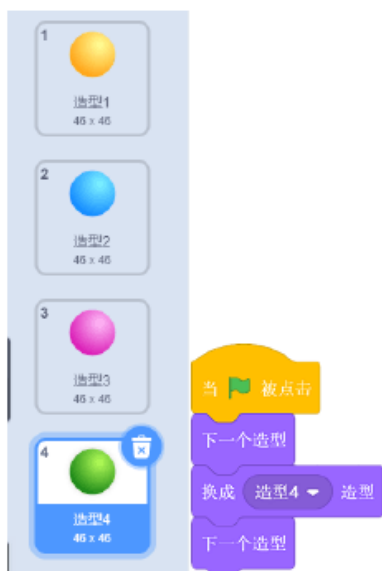
考生答案：B

考生得分：0

是否评分：已评分

评价描述：

11. 执行下列程序，小球的造型为？（ ）



- A. 造型 1
- B. 造型 2
- C. 造型 3
- D. 造型 4

试题编号: 20210215-1xb-031

试题类型: 单选题

标准答案: A

试题难度: 较难

试题解析:

考生答案: A

考生得分: 2

是否评分: 已评分

评价描述:

12. 小明初始位置在舞台中心, 运行下列程序, 小明走过的图形是? ( )



- A. 三角形
- B. 正方形
- C. 长方形
- D. 正五边形

试题编号: 20210215-1xb-032

试题类型: 单选题

标准答案: A

试题难度: 一般

试题解析:

考生答案: A

考生得分: 2

是否评分: 已评分

评价描述:

13. 默认小猫角色, 执行下列程序, 选项正确的是? ( )



- A. 不旋转
- B. 旋转 50 度
- C. 旋转 90 度
- D. 旋转 140 度

试题编号：20210215-1xb027

试题类型：单选题

标准答案：A

试题难度：一般

试题解析：

考生答案：C

考生得分：0

是否评分：已评分

评价描述：

14. 下列哪项操作能把作品保存起来？（ ）



A. 点击【保存到电脑】选项

B. 点击【从电脑中上传】选项

C. 点击【新作品】选项

D. 点击地球图标

试题编号：20210220-ck--1

试题类型：单选题

标准答案：A

试题难度：容易

试题解析：

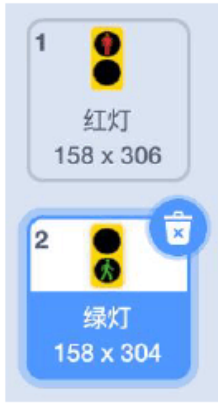
考生答案：A

考生得分：2

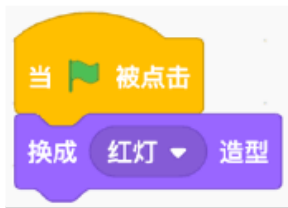
是否评分：已评分

评价描述：

15. 红绿灯角色里有两个造型，当前造型是绿灯，如果想把绿灯切换为红灯，请问下列哪个选项不能实现？（ ）

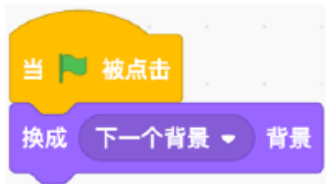


A.



B.

C. 点击红灯造型



D.

试题编号：20210220-ck--10

试题类型：单选题

标准答案：D

试题难度：一般

试题解析：

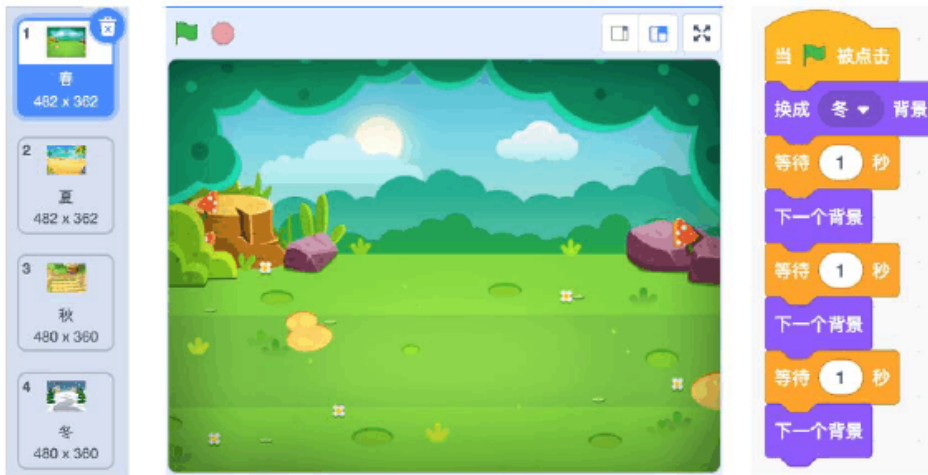
考生答案：D

考生得分：2

是否评分：已评分

评价描述：

16. 舞台背景和程序如下图所示，程序执行完后，舞台显示的是哪张背景？（ ）



- A. 春
- B. 夏
- C. 秋
- D. 冬

试题编号: 20210220-ck--11

试题类型: 单选题

标准答案: C

试题难度: 一般

试题解析:

考生答案: C

考生得分: 2

是否评分: 已评分

评价描述:

17. 下面关于造型和背景的说法错误的是? ( )

- A. 角色可以有很多个造型, 舞台可以有很多个背景。
- B. 可以在角色程序中切换背景。
- C. 在舞台程序中, 不能切换角色造型。
- D. 只能从本地上传角色, 不能从本地上传背景。

试题编号: 20210220-ck--13

试题类型: 单选题

标准答案: D

试题难度: 一般

试题解析:

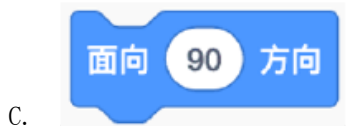
考生答案: D

考生得分: 2

是否评分: 已评分

评价描述:

18. 使用下列哪个积木，能够最快捷地让小猫面向老鼠？（ ）



试题编号：20210220-ck--14

试题类型：单选题

标准答案：D

试题难度：容易

试题解析：

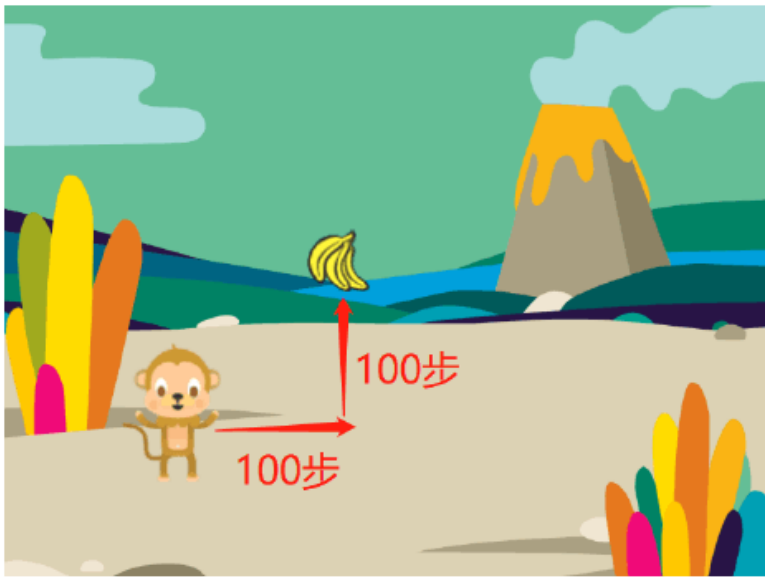
考生答案：D

考生得分：2

是否评分：已评分

评价描述：

19. 下图是小猴子和香蕉的初始位置，点击一次绿旗，哪个选项的程序可以让小猴子拿到香蕉？（ ）



```

当 被点击
  移到 x: -130 y: -80
  面向 90 方向
  移动 100 步
  右转 -90 度
  移动 100 步
  
```

A.

```

当 被点击
  移到 x: -130 y: -80
  面向 90 方向
  移动 100 步
  右转 90 度
  移动 100 步
  
```

B.

以上内容仅为本文档的试下载部分，为可阅读页数的一半内容。如要下载或阅读全文，请访问：<https://d.book118.com/058126051004006055>