

选必一 《当代国际政治与经济》 》 高考真题练习

(2023.北京) 14.数字经济时代，数据安全的保护日益重要。

◇中国规定关键信息基础设施的运营者在境内运营中收集和产生的个人信息和重要数据应当在境内存储；网络运营者应当对其收集的用户信息严格保密，并建立健全用户信息保护制度。

◇欧盟规定数据的控制者、处理者应该采取适当的措施防止数据泄露，如果发生泄露应及时告知监管机构，监管机构可以对违规行为处以罚款。

加强数据安全保护：


- ①将导致科技企业成本的增加，扭转经济全球化趋势
- ②是因为国家安全利益是国家的最高利益，数据安全事关国家安全
- ③需要平衡处理技术进步、经济发展与保护国家安全和公共利益的关系
- ④需要在全球数据安全领域的国际合作中发挥欧盟等国际组织的主导作用

A.①③

B.①④

C.②③

D.②④



(2023.北京) 15.“长安复携手，丝路启新程。”中吉乌公路、中塔公路、中哈原油管道、中国—中亚天然气管道是今天的“丝路”，货运列车和直飞航班是当代的“驼队”……从2013年提出共建“丝绸之路经济带”倡议到2023年召开中国—中亚峰会，中国同中亚国家的关系进入一个崭新时代。这是因为，中国与中亚国家：

- ①有着深厚的历史渊源、广泛的现实需求、坚实的民意基础
- ②和平合作、开放包容、互学互鉴、互利共赢
- ③同为发展中国家，有结盟的利益诉求
- ④共同建立起了适应国际力量对比新变化的全球治理体系

A.①②

B.①④

C.②③

D.③④

A

(2023.北京) 1. 1848年2月,《共产党宣言》问世,这是人类思想史上的一个伟大事件,它科学论证了资本主义的必然灭亡和社会主义的必然胜利,号召全世界无产者联合起来,建立共产主义新社会。由此可见,《共产党宣言》()

- ①是科学社会主义产生的客观前提
- ②科学洞见了人类社会发展的客观规律
- ③阐述了建立无产阶级政党的必要性
- ④实现了社会主义从理论到实践的伟大飞跃

A . ①③ B . ①④ C . ②③ D . ②④

C



(2023.海南) 13 . 2023年4月 , 第三届中国国际消费品博览会在海口举行。本届消博会以 “共享开放机遇、共创美好生活” 为主题 , 共有65个国家和地区的382消费精品品牌参展 , 超5万名各类采购商和专业观众云集 , 进场观众超32万人次。由此可见 , 消博会 ()

①以提振世界经济为出发点

②让世界共享海南自贸港发展机遇

③旨在提升各国参展品牌的知名度

④见证了中国对外开放的坚定步伐

A . ①③ B . ①④ C . ②③ D . ②④

D




(2023.海南) 14. 漫画往往具有深刻寓意, 下图漫画《近视眼》(自漫画新闻网改编)讽刺了某些国家(

D

- ①以“民主”之名, 将世界划分为两大对立阵营
- ②不顾国际准则, 固守基于实力的世界贸易旧秩序
- ③为了本国利益不惜挑起战乱, 损害他国合理利益
- ④“选择性近视”, 奉行霸权主义和强权政治的真面目

A. ①② B. ①④ C. ②③ D. ③④



(2023.江苏) 7. 马克思和恩格斯在《德意志意识形态》中指出：“国家内部的一切斗争——民主政体、贵族政体和君主政体相互之间的斗争，争取选举权的斗争等等，不过是一些虚幻的形式……在这些形式下进行着各个不同阶级间的真正的斗争。”对此理解正确的是

- A . 国家是阶级矛盾不可调和的产物和表现**
- B . 政权组织形式是多种因素综合作用的结果**
- C . 各种形式政体都服务于统治阶级根本利益**
- D . 利益集团无法从根本上解决不同阶级间的矛盾**

C



(2023.江苏) 8. 《里斯本条约》规定, 欧盟的任何举措都不能影响成员国的权利, 涉及欧盟的重大决议需要由政府间机构和成员国来制定。俄乌冲突爆发后, 欧盟委员会推进能源自主和绿色转型的努力一方面受到“美国优先”的制约, 另一方面受到成员国不同的能源结构、内部政策分歧等因素的影响, 欧盟的共同能源和气候政策呈现出矛盾性的特征。材料说明

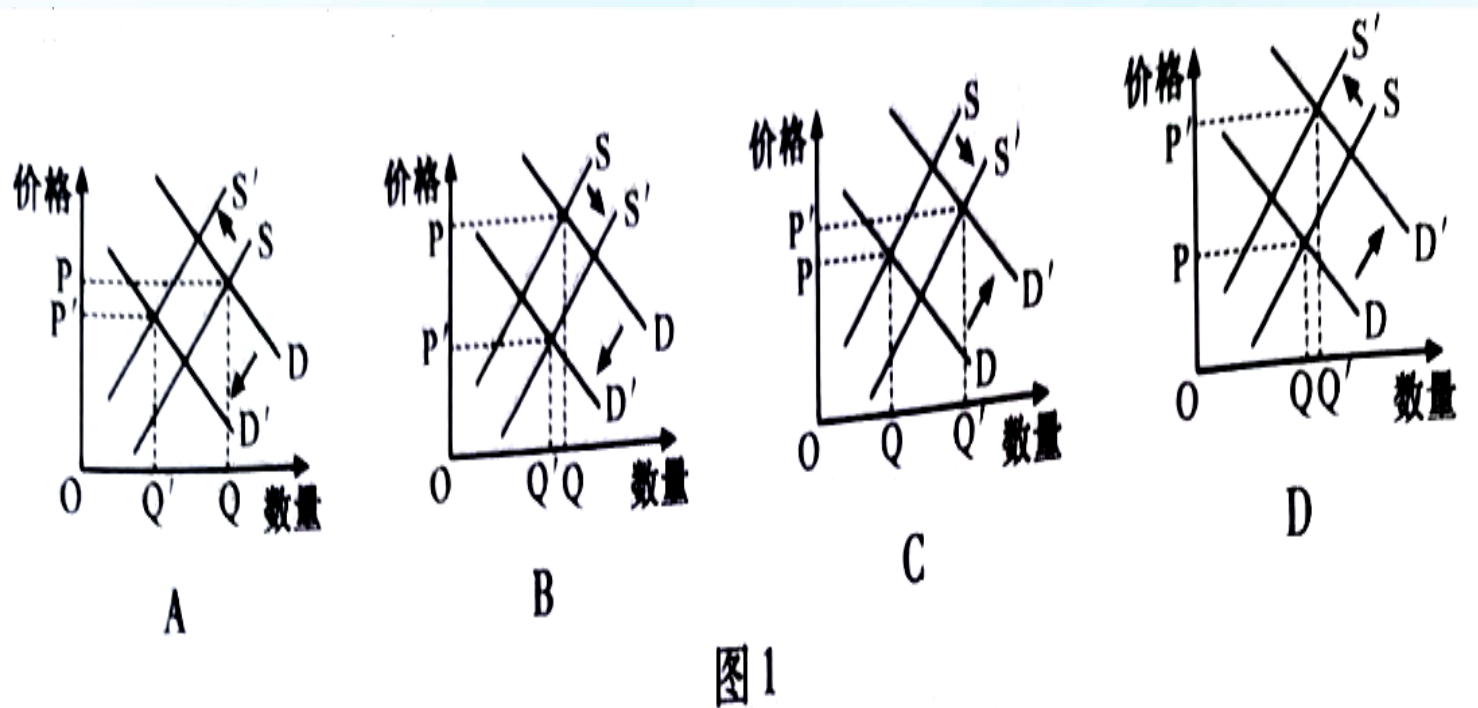
- A . 国际组织参与国际事务受诸多因素制约而有局限性**
- B . 以和平的方式解决国际争端是世界发展的前提条件**
- C . 国际组织可以促进国际社会在各个领域开展合作**
- D . 强大的国家综合实力是维护国家利益的有力保障**

A



(2023.江苏) 9. 近年来,为应对一些西方国家挑起的“芯片战”,我国芯片企业积极进行科技攻关。伴随着国产芯片技术的进步和国产替代进程的加速,芯片企业业绩普遍好转。在其他条件不变的

情况下,图1中(D、S分别代表需求曲线和供给曲线,P、Q分别代表价格和数量)能够反映



C

我国国产芯片市场变化结果的是

(2023.新课标) 20. 据商务部统计，2023年1~3月，全国实际使用外资4084.5亿元人民币，同比增长4.9%。高技术产业实际使用外资1567.1亿元人民币，同比增长18%。其中，电子及通信设备制造、科技成果转化服务、研发与设计服务、医药制造领域引资分别增长55.7%、50.3%、24.6%和20.2%。据此可以判断（ ）

- ①中国经济加快转型升级，利用外资质量提升
- ②中国金融市场更加成熟，外商投资风险降低
- ③中国营商环境具有优势，对外资吸引力不减
- ④中国经济受外部冲击减弱，对外开放水平提高

A. ①② **B. ①③** C. ②④ D. ③④

B



(2023.新课标) 21. 1993年至2023年1月，中国累计派出援助圭亚那医疗队18期263人次，在当地乔治敦公立医院、林登地区医院等开展医疗援助。为了帮助更多圭亚那民众，医疗队多次组织对偏远地区或弱势群体的义诊活动，向孤儿院捐赠物资、赠送玩具和文具，为福利院儿童进行全面健康体检。开展对圭亚那的医疗援助（ ）

- ①增进了中圭两国的文化交流**
- ②有助于改善圭亚那民生状况**
- ③强化了中圭两国的同盟关系**
- ④创新了南南国家的合作形式**

A. ①② B. ①③ C. ②④ D. ③④

A



(2024.浙江.1月) 18.在学习《当代国际政治与经济》第一单元的综合探

究活动中，小张同学搜集了《人民日报》相关信息并做了文摘。

D

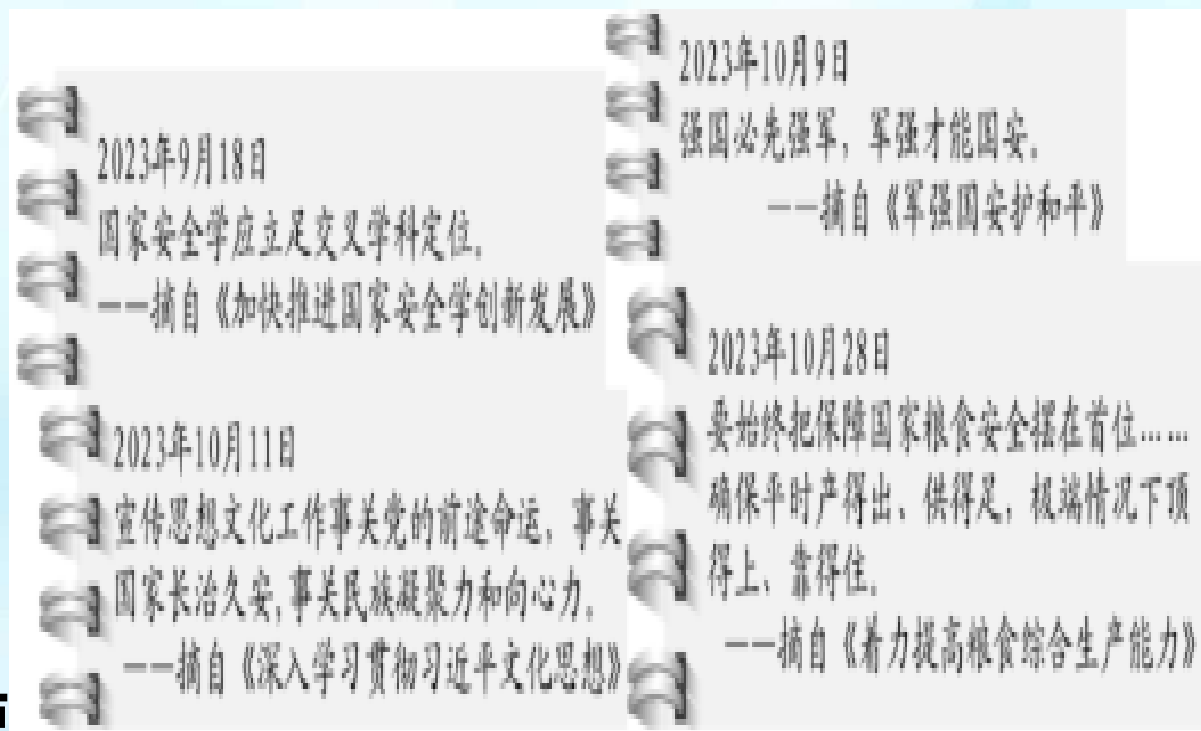
从上述文摘内容可知：

A.国家安全利益是国家的最高利益

B.粮食安全和军事安全比文化安全更重要

C.学习国家安全学，应优先学习农业和军事知识

D.坚持总体国家安全观，必须综合考虑多方面安全



(2024.浙江.1月) 19.十年来，共建“一带一路”的实践不仅增强了国与国的联系，而且带动发展中国家摆脱贫困、走向现代化，进而使经济全球化突破发达国家主导的1.0版，走向2.0版。由此可见：

A.共建“一带一路”是经济全球化深入发展的必然结果

B.共建“一带一路”推动经济全球化朝着平衡方向发展

C.经济全球化1.0版不符合经济规律，造成全球两极分化

D.经济全球化2.0版符合经济规律，进一步深化了国际分工

B

(2024.浙江.1月) 20.2023年10月7日巴以冲突爆发以后，联合国安理会迟迟不能达成共识。中国成为安理会轮值主席后，积极协调各方，终于促成安理会于11月15日通过第2712号决议，呼吁在加沙实现停火，建立人道主义走廊。由此可见：

- ①联合国安理会现有议事规则不利于各成员表达诉求
- ②联合国安理会对维护世界和平与安全负有重要责任
- ③中国践行多边主义，积极推动地区冲突走向和平解决
- ④中国勇担大国责任，是联合国改革的倡导者和支持者

A.①③

B.①④

C.②③

D.②④



(2023.河北.) 12.历史上的今天：1955年6月9日，毛泽东为人民英雄纪念碑正面的碑心石题写“人民英雄永垂不朽”八个大字，深切缅怀英烈。抗日战争是近代以来我国牺牲最多的民族解放斗争，是世界反法西斯战争的重要组成部分。战争的惨烈教训让世界人民痛定思痛，建立了以联合国为主体的全球治理框架。以下说法错误的是：

- A.抗日战争胜利奠定了中国作为联合国创始会员国和安理会常任理事国的地位**
- B.恢复新中国在联合国的合法席位使联合国的权威性显著增强**
- C.中华人民共和国代表是中国在联合国的唯一合法代表**
- D.联合国是具有全球权威性的政府组织**

(2023.福建) 7.中国发起成立金砖国家职业教育联盟，以职业教育破解“金砖+”国家发展不平衡不充分问题，为推进更高质量、更有效率、更加公平、更可持续、更为安全的全球发展铺设“金砖快线”。这体现了中国：

- ①努力构建与其他金砖国家牢固的同盟关系**
- ②在国际组织中发挥重要的建设性作用**
- ③为解决发展中国家的发展问题提供中国智慧**
- ④积极推动国际政治秩序朝着公正合理的方向发展**

A.①② B. ①④ C.②③ D.③④



(2023.山东) 7.2023年2月，欧洲议会通过了《2035年欧洲新售燃油轿车和小货车零排放协议》。协议的目标是2035年开始在欧盟27国范围内停售新的燃油轿车和小货车。中国新能源车企纷纷通过投资建厂、品牌收购等方式进一步扩大在欧洲市场布局。据材料，下列说法正确的是（
）

- ①欧盟通过实施经济一体化政策推动欧洲绿色发展
- ②欧洲议会通过行使最高决策权维护欧盟整体利益
- ③中国新能源车企在欧投资建厂有助于克服贸易壁垒
- ④国际新能源汽车市场竞争加剧不利于全球资源配置

A. ①③

B. ①④ C. ②③

D. ②④

A

(2023.山东) 8.2022年6月，国际电信联盟第八届世界电信发展大会在卢旺达首都基加利举行，来自100多个国家和地区的千余名代表与会，会议通过了《基加利宣言》和《基加利行动计划》两份文件，呼吁各方加速弥合数字鸿沟，助力落实联合国2030年可持续发展议程。材料表明（
）

- ①作为世界性国际组织，国际电信联盟是全球数字治理的重要载体
- ②数字鸿沟已成为数字时代阻碍发展中国家可持续发展的主要障碍
- ③国际电信联盟推动国际多边合作以应对全人类面临的共同课题
- ④《基加利行动计划》为推动南北问题的解决提供了路线图

A. ①②

B. ①③ C. ②④

D. ③④

B

(2023.广东) 14.近年来，中国与上海合作组织各成员国一道，不断拓展合作新空间。中国—上海合作组织地方经贸合作示范区、中国—上海合作组织法律服务委员会等多边合作平台扎根落地，合作成果惠及各国人民。上述平台的运行（ ）

- ①加快了东南亚区域经济一体化进程
- ②旨在加强反恐合作，维护地区安全与稳定
- ③促进了中国与中亚的商贸往来与司法合作
- ④推动了成员国之间的交流互鉴和成果共享

A. ①② B. ①④ C. ②③ D. ③④

D

(2023.湖南) 11.2022年A国大选中，工党获得联邦议会多数席位，击败了自由党-国家党联盟。在获得A国总督任命后，工党党首成为新一任总理。此前，A国某州政府曾与B国签订了合作文件，但最终被自由党-国家党联盟主导的联邦政府以违反《对外关系法案》为由否决。工党成功执政有望缓和与B国关系、恢复该合作。由此可推断出 ()

- ①A国在国家结构形式上采用的是复合制
- ②A国实行多党制，更能以民主方式保障阶级利益
- ③A国实行君主立宪制，在实际运行中与民主共和制大体相同
- ④A国政府领导人的更替是A国和B国关系可能变化的主要原因

A. ①② B. ①③ C. ②④ D. ③④

A

(2023.湖南) 12.2023年是“一带一路”倡议提出十周年，世界大多数国家认可“一带一路”倡议并签署了合作协议。十年间，“一带一路”打造了可靠的“朋友圈”，强化了全球互联互通网络，助力全球治理体系的建设与改革，极大提升了我国对外开放的广度与深度。这体现出（ ）

- ①主权国家具有独立权和平等权
- ②国家利益是国家合作的基础
- ③中国方案在全球治理中发挥重要作用
- ④公共外交是解决全球发展失衡问题的首要手段

A. ①③ B. ①④ C. ②③ D. ②④

A

(2023.湖南) 5. 当前，碳中和共识正在全球范围内加速形成，碳中和将重构产业和地区竞争规则，“零碳竞争力”由此成为提升国家核心竞争力的重要因素。世界各主要国家纷纷加大零碳产业投资，围绕能源转型和减少二氧化碳排放展开技术革新。国内一些大型企业积极转型，“零碳工厂”“零碳标准”持续涌现。提升“零碳竞争力”（

- ① 助推能源行业结构性变革
- ② 旨在构建人类命运共同体
- ③ 能够培育国际竞争新优势
- ④ 重塑世界经济发展新格局

A. ①②

B. ①③

C. ②④

D. ③④

B

(2023.湖南) 6. 联合国2023年水事会议在纽约举行，共同讨论缓解全球水危机的方案。联合国秘书长古特雷斯呼吁，各国政府必须制定和实施计划，确保所有人都能够公平获得水资源，并积极开展水资源相关对话，携手合作，共同管理这一宝贵资源。这表明（ ）

- ①国际社会应立足共同利益，深化水资源治理的交流与合作
- ②联合国在促进全球水资源治理的国际合作中发挥重要作用
- ③各国应以全球发展为出发点，制定水资源管理政策和计划
- ④世界各国能够加强对话合作，确保水资源分配的公平公正

A. ①② B. ①④ C. ②③ D. ③④

(2023.辽宁) 11. 2023年2月, 全球多个主要经济体公布2022年对华贸易年报, 韩国、德国、英国和欧盟对华投资较上年增幅分别为64.2%、52.9%、40.7%和92.2%。结合材料及下表(数据来源: 新华社), 可以推断出()

A

- ① 外资对中国经济发展前景保持乐观
- ② 中国在全球贸易中的地位日益上升
- ③ 中外经贸投资合作近三年持续共赢
- ④ 欧盟已经成为中国最大贸易伙伴

A. ①③ B. ①④ C. ②③ D. ②④

项目 年份	中国货物贸易进出口总额(美元)	中国全行业对外直接投资(美元)	中国实际使用外资额(美元)
2020年	4.65 万亿	1329.4 亿	1443.7 亿
2021年	6.05 万亿	1451.9 亿	1734.8 亿
2022年	6.31 万亿	1465.0 亿	1891.3 亿

(2023.辽宁) 12 . 缺乏互信的两国开展合作 , 现有甲、乙两个项目。其中 , 甲需两国合力完成 , 但收益巨大 ; 乙可两国合力 , 也可一国独立完成 , 但整体收益远低于甲的一半。因资金有限 , 在同一时期两国只能选择一个项目投资且无法撤资 , 合力完成项目后收益两国均分。对于两国决策者来说 , 对国家最有利的选择是 ()

- ①防范对方失信行为
- ②开展两国对话协商
- ③向大型项目甲投资
- ④向小型项目乙投资

A. ①→③

B. ①→④

C. ②→③

D. ②→④

C

(2024.浙江6月) 22. 2023年3月15日，在中国共产党与世界政党高层对话会上，中共中央总书记习近平发表主旨讲话，阐述中国共产党关于人类社会现代化道路的认识，向各方发出共同追求和平、发展、公平、正义、民主、自由等的全球文明倡议。这一讲话意味着（ ）

- ①政党通常有明确的思想主张
- ②人类拥有共同的价值追求
- ③政党有崇高的政治目标
- ④人类找到了应对各种挑战的策略

A. ①②

B. ①③ C. ②④

D. ③④

A

(2024.浙江6月) 23. 乌克兰危机爆发一年多来，全球能源与粮食供需结构受到严重冲击。世界各国开始改变对全球安全形势的评估，并着手调整安全策略。由此可见（ ）

C

- A. 世界不同力量中心展开全面较量
- B. 传统国际体系即将发生深刻变化
- C. 地区安全形势恶化影响世界经济发展
- D. 粮食安全和能源安全成为全球性问题

以上内容仅为本文档的试下载部分，为可阅读页数的一半内容。如要下载或阅读全文，请访问：
<https://d.book118.com/065243240314011201>