

2025 年华东师大版七年级地理上册阶段测试试卷含答案

考试试卷

考试范围：全部知识点；考试时间：120 分钟

学校：_____ 姓名：_____ 班级：_____ 考号：_____

总分栏

题号	一	二	三	四	五	六	总分
得分							

评卷人	得分

一、选择题(共 9 题，共 18 分)

1、下列四种现象；不能说明地球形状的是（ ）

- A. 日食现象。
- B. 海边望船：先见桅杆。
- C. 月食现象。
- D. 麦哲伦船队环球航行成功。

2、纬度位置最高、跨经度最多的大洲和大洋分别是（ ）

- A. 亚洲、太平洋
- B. 北美洲、大西洋
- C. 南极洲、北冰洋
- D. 欧洲、印度洋

3、我们亚洲，河像热血流”听到这首《亚洲雄风》的歌曲，我们的脑海中会涌现出亚洲山河的壮丽画卷。下列有关亚洲景观的描述正确的是（ ）

- A. 青藏高原是世界上最高的高原
- B. 喜马拉雅山是最长的山脉
- C. 长江是世界第一长河
- D. 贝加尔湖是世界上面积最大的淡水湖

4、

2015 年元旦，合肥的一个经贸代表团赴东南亚采购货物，并观光考察。回答 14-15 题。

下列旅游景点中，他们最有可能游览过的是（ ）

- A. 富士山
- B. 大金塔
- C. 泰姬陵
- D. 红场

5、

俄罗斯最重要的运输方式是（ ）

- A. 铁路、管道
- B. 铁路、公路
- C. 海运、航空
- D. 管道、海运

6、中国面积最大的省级行政区是（ ）

- A. 内蒙古自治区
- B. 新疆维吾尔自治区
- C. 西藏自治区
- D. 青海省

7、

珠穆朗玛峰从古海洋变成世界高峰，主要是由于（ ）

- A. 堆积作用
- B. 搬运作用
- C. 板块碰撞挤压
- D. 板块张裂运动


8、

珠江三角洲独特的土地利用景观是（ ）

- A. 耕地、林地、草地交错分布
- B. 山地、平原、盆地交错分布
- C. 农业、工业、交通、建筑用地交错分布
- D. 建筑用地、林地、草地交错分布

9、

读等高线地形图如图，回答 28-29 题



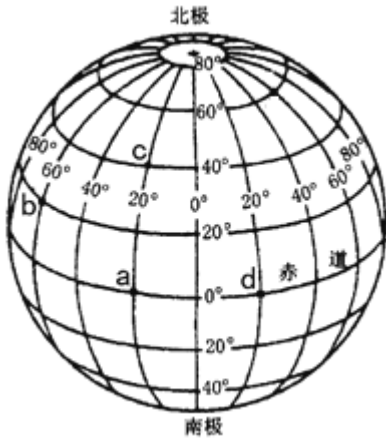
以上四幅等高线图所代表的地形中，表示盆地的是（ ）

- A. A 图
- B. B 图
- C. C 图
- D. D 图

评卷人	得分

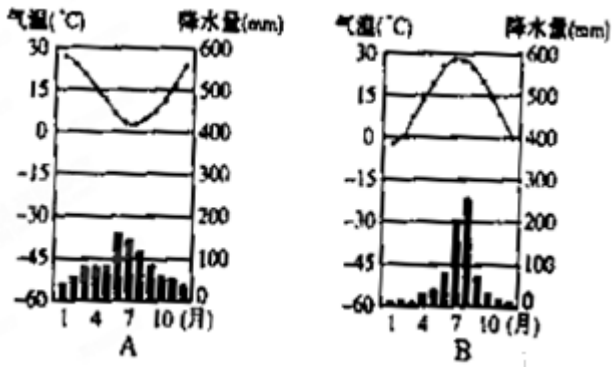
二、填空题(共 6 题, 共 12 分)

- 10、南方地区主要粮食作物是____，北方地区主要粮食作物是_____。
- 11、印度是____面积最大的国家，首都是_____
- 12、____是我国使用人数最多的语言，____是我国使用最广泛的语言。
- 13、读经纬网示意图； 回答下列问题。



- (1) 写出图中 b 点的经纬度；经度：____；纬度：_____。
- (2) 图中 a、b、c、d 四个地点中，没有阳光直射的是____；位于中纬度的是____；位于西半球的是____；
- (3) 图中 c 点在 a 点的____方向。
- 14、地图的基本要素是：、、、。

- 15、读图完成下列问题。



- (1) A地最高气温出现在____月，B地降水最多的月份是_____月。
- (2) A、B两地气温年较差最大的是_____地。
- (3) A、B两地降水相对集中的是_____地。
- (4) 在南北半球中，A地在____半球，B地在_____球。
- (5) 影响气温和降水的主要因素是_____、_____、_____。

评卷人	得分

三、判断题(共 8 题, 共 16 分)

- 16、北京是我国大陆地区铁路运输的中心。() (判断对错)
- 17、中国是最大的发展中国家。(判断对错)
- 18、全球气候有变暖的趋势，其主要原因是大气中尘埃日益增多。() (判断对错)
- 19、空气污染指数反映空气被污染的程度，指数越大，空气污染越严重。
- 20、中东的范围是指除阿富汗以外的西亚。(判断对错)
- 21、水稻和玉米是印度的主要粮食作物。() (判断对错)
- 22、亚马孙平原属于热带雨林气候 () (判断对错)
- 23、欧洲西部居民饮食以牛羊肉及乳制品为主和当地发达的畜牧业密切相关

评卷人	得分

四、连线题(共 3 题, 共 12 分)

- 24、请将下列热带经济作物与国家用线连起来。

-
- | | |
|----------|---------------|
| A. 菲律宾 | ①世界最大的天然橡胶生产国 |
| B. 缅甸 | ②世界最大的蕉麻生产国 |
| C. 马来西亚 | ③世界重要的稻米出口国 |
| D. 印度尼西亚 | ④世界最大的，棕榈油生产国 |
| E. 泰国 | ⑤世界最大的椰子生产国 |



loading...

25、把下列物产的生产和出口状况与相应的国家用线连接起来：

- | | |
|-------------|----------|
| ①世界最大的橡胶生产国 | A. 印度尼西亚 |
| ②世界最大的油棕生产国 | B. 菲律宾 |
| ③世界最大的椰子生产国 | C. 泰国 |
| ④世界最大的椰子出口国 | D. 马来西亚 |

26、

- | | |
|------------------|--------------|
| A 白令海峡 | a 亚洲和欧洲洲界线 |
| B 直布罗陀海峡 | b 亚洲和北美洲州界线 |
| 【题文】连线题 C 大高加索山脉 | c 非洲和欧洲洲界线 |
| D 苏伊士运河 | d 北美洲和南美洲洲界线 |
| E 巴拿马运河 | e 亚洲和非洲洲界线 |

评卷人	得分

五、简答题(共 4 题, 共 40 分)

27、东南亚位于亚洲和大洋洲; 太平洋和_____洋之间的“十字路口”。

28、四川盆地的成都平原历来被称为“天府之国”; 在“新天府”的评选中荣登首位。你认为成都平原被称为“天府之国”的优越条件表现在哪些方面?

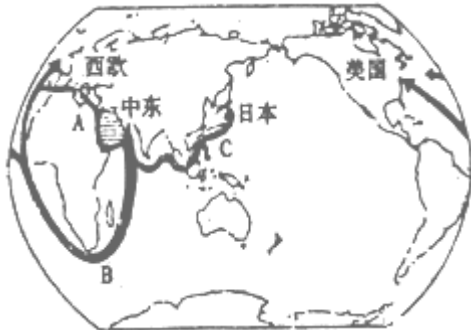
29、读中东石油输出路线图回答问题。

- (1) 中东地区的石油资源十分丰富; 集中分布在_____及其沿岸地区, 但本区_____资源及其匮乏。
 (2) 完成下列运油路线的空格。

航线	经过的主要海洋、海峡、运河	到达的国家和地区
A	波斯湾 → 阿拉伯海 → _____ → 苏伊士运河 → _____	西欧各国和 _____

	- - - →直布罗陀海峡→大西洋	
B	波斯湾→阿拉伯海→ - - →好望角→ - - -	西欧各国和 - - -
C	波斯湾→阿拉伯海→印度洋→ - - - →	- - -

太平洋




30、将人种与其分布地区用直线连接起来。
 白种人 欧洲；美国、非洲北部。
 黑种人 非洲大部；美洲局部。
 黄种人 亚洲东部。

评卷人	得分

六、综合题(共 2 题，共 16 分)

31、

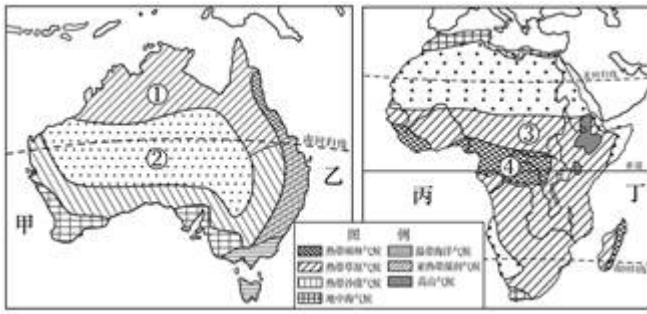
【题文】读经纬网地图；回答下列问题（每空 1 分，共 10 分）



- (1) A 地经度是____，纬度是____；
- (2) C 地所处的经线是____度经线；
这条经线又被称为____；
- (3) B 地在 A 地的____方向，B 地在 C 地的____方向；
- (4) D 点在东西半球的____半球；
D 点所在的纬线又是____半球的分界线；
- (5) B 地所处的纬度属于高中低纬度的____纬；
随着地球自转一周，A,B 两地经过距离较长的是____地。

32、

读非洲与澳大利亚气候分布图，回答下列各题。



- (1) 甲乙丙丁四处所在的大洋中，属于同一大洋的是_____两处。
- (2) 从图中可以看出，澳大利亚和非洲分布有相同的气候类型，当①地正值高温多雨的湿季时，③地正值_____季。
- (3) 与澳大利亚相比，非洲缺少的气候类型是亚热带湿润气候和_____气候，该气候的最大分布区位于_____洲。
- (4) ②、④两地都是人口分布的稀疏区，其原因分别是_____。

参考答案

一、选择题(共 9 题，共 18 分)

1、A

【分析】

日食现象不能证明地球的形状；该现象看到的是月亮的影子。

故选：A。

【解析】

【答案】能证明地球形状是球体的例子很多；如站得高，才能看得远；麦哲伦环球航行、出海船只的桅杆、人造卫星拍摄的地球照片、月食现象等，其中地球的卫星照片最直观的说明地球是个球体。

2、C

【分析】

【解析】

试题分析：纬度位置最高、跨经度最多的大洲和大洋分别是南极洲、北冰洋，亚洲是面积最大、跨纬度最多，东西距离最长的大洲，太平洋是面积最大的大洋。

考点：本题考查大洲大洋的知识。

【解析】

【答案】

C

3、A

【分析】

试题分析：青藏高原平均海拔在四千米以上，被称为“世界屋脊”是世界上最高的山脉；世界上最长的山脉是安第斯山脉；世界最长河是尼罗河；世界上最大的淡水湖是苏必利尔湖。因此 A 正确。

考点：该题考查亚洲地形、河湖。

【解析】

【答案】

A

4、B

【分析】

解：富士山位于日本；缅甸仰光的大金塔位于，泰姬陵位于南亚的印度，红场位于俄罗斯。

故选：B。

东南亚位于亚洲的东南部。有丰富的热带自然景观；众多美丽的沙滩和岛屿；以及许多名胜古迹和独特的风土人情，成为该地区丰富的旅游资源，吸引着世界各地的旅游者。如缅甸仰光的大金塔、印度尼西亚的婆罗浮屠、柬埔寨的吴哥窟、泰国曼谷的水上市场、越南的下龙湾、花园城市-新加坡等。

本题考查东南亚的旅游业，熟记课本知识点比较记忆即可。

【解析】

B

5、A

【分析】

解：俄罗斯交通运输便利；其主要的运输方式是铁路和管道。

故选：A。

俄罗斯地跨亚欧两大洲；是重要的工业大国，交通发达，能源；钢铁等部门地位突出，主要的运输方式是铁路和管道。

本题主要考查俄罗斯的交通运输方式，熟记课本知识点解答即可。

【解析】

A

6、B

【分析】

【分析】新疆维吾尔自治区简称新，位于中国西北边陲，面积 166 万平方公里，占中国国土总面积的六分之一，是中国陆地面积最大的省级行政区，故选 B。

7、C

【分析】

解：珠穆朗玛峰从古海洋变成世界高峰；位于亚欧板块和印度洋板块的交界处，是两大板块长年累月的碰撞挤压产生的。根据题意。

故选：C。

两大板块相向运动；碰撞挤压，常形成山脉或海洋面积缩小。喜马拉雅山脉位于亚欧板块和印度洋板块的交界处，是两大板块长年累月的碰撞挤压产生的。

分析时运用板块运动学说的观点解释。

【解析】

C

8、C

【分析】

以上内容仅为本文档的试下载部分，为可阅读页数的一半内容。如要下载或阅读全文，请访问：<https://d.book118.com/075134031302012043>