

2024 年北京市第二次普通高中学业水平合格性考试

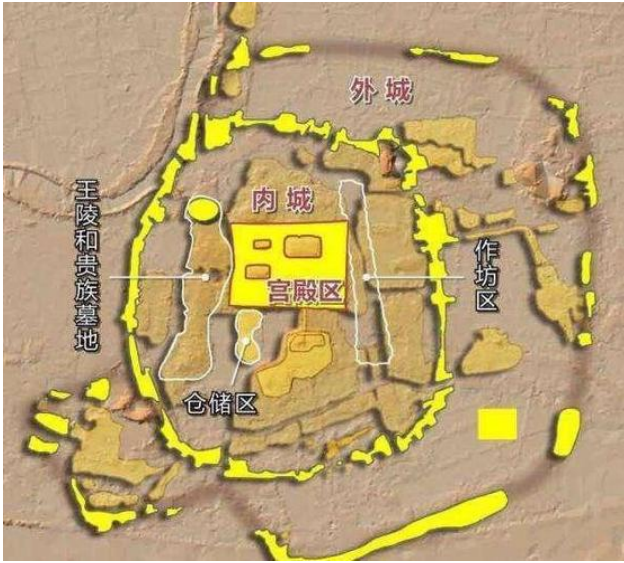
历史试卷

本试卷共 10 页,分为两部分。第一部分为选择题,40 小题(共 60 分),第二部分为非选择题,2 小题(共 40 分)。

第一部分(选择题)

本部分共 40 小题,每小题 1.5 分,共 60 分。在每小题列出的四个选项中,选出最符合题目要求的一项。

1. 下图为良渚古城遗址平面示意图。考古工作者发现良渚古城有宫殿区,内城和外城,内城中有仓储区和作坊区,贵族墓地出土了透雕冠状器,龙首镯等高等级玉器。上述考古发现可以证明良渚文化()



- A. 具备了国家的初始形态
B. 出现了高度成熟的文字
C. 青铜铸造技术最为发达
D. 中央集权国家已经建立
2. 战国时期,各国为了富国强兵,纷纷开展政治,经济,军事,社会制度改革,变法运动成为潮流。以下选项体现这一变法潮流的是()

- ①“天子建国,诸侯立家” ②“食有劳而禄有功”
③“集小都乡邑聚为县” ④“废井田,开阡陌”
- A. ①②③ B. ①②④ C. ①③④ D. ②③④

3. 秦朝推行的某项制度为以后历朝的地方行政制度开创了基本模式,这一制度是()

- A. 内外服制 B. 分封制 C. 郡县制 D. 郡国并行制

4. 下表内容为汉武帝推行的一系列措施,其主要作用是()

政	颁布“推恩
治	令”

经济	铸币权收归中央
思想	尊崇儒术
军事	北击匈奴

- A. 巩固和发展了大一统国家
 B. 结束了国家长期分裂局面
 C. 缓和了民族矛盾
 D. 减轻了人民负担
5. 下图所反映的历史现象的影响是 ()



- A. 推动了陆上丝绸之路的兴盛
 B. 促进了民族交融和江南开发
 C. 结束了南北朝对峙局面
 D. 完成了经济重心的南移
6. 以下是史学家钱穆对隋唐制度的总结, 横线处应填 ()

论中央政府之组织: 结束了上半段历史上的三公九卿制, 而开创了下半段的尚书六部制。

论选贤与能: 结束了上半段的乡举里选制, 而开创了下半段的_____。

论租税制度: 结束了上半段的田租, 力役, 土贡分项征收制, 而开创了下半段的单一税收制。

- A. 宗法制 B. 察举制 C. 九品中正制 D. 科举考试制

7. 有人描述某朝制度时指出：“有县令,有郡守,有转运使,以大系小,丝牵绳联,总合于上。”据此判断该朝代是 ()

- A. 秦朝 B. 汉朝 C. 隋朝 D. 宋朝

8. 元朝在边疆地区设立岭北,辽阳,云南等行省,“皆赋役之,比于内地”。这反映了元朝 ()

- A. 对不同民族设置不同职官 B. 沿用女真民族的管理系统
C. 加强了对边疆地区的管理 D. 对不同民族采取差别对待

9. 魏晋和隋唐时期择偶重视“阀阅”,宋朝则不再关心祖先名望,出现了“将娶妇,先问资装之厚薄,将嫁女,先问聘财之多少”的现象。这反映出 ()

- A. 程朱理学受到官方尊崇 B. 崇文抑武的方针效果显著
C. 传统门第观念渐趋淡化 D. 国家放松了对社会的控制

10. 明太祖在《皇明祖训》中提到:“今我朝罢丞相,设五府,六部,都察院,通政司,大理寺等衙门,分理天下庶务,彼此颃颥,不敢相压。事皆朝廷总之,所以稳当。”据此分析,明太祖“罢丞相”意在 ()

- A. 削弱中央集权 B. 制约内阁
C. 提高行政效率 D. 加强皇权

11. 下表所列清朝时期历史事件所反映的主题是 ()

时间	事件
1684年	设台湾府
1689年	签订《尼布楚条约》
1727年	开始派遣驻藏大臣
1957年	彻底击败漠西蒙古准噶尔部
1762年	设伊犁将军

- A. 中外的交流 B. 经济的发展
C. 疆域的奠定 D. 危机的初显

12. 黄宗羲在《明夷待访录》中指出“为天下之大害者,君而已矣”“缘夫天下之大,非一人之所能治,而分治之以群工”。由此可知黄宗羲 ()

- A. 提倡格物致知 B. 倡导个性自由
C. 批判君主专制 D. 主张工商皆本

13. 中国古代科学技术成就斐然。下列科技成果,同属医学领域的是 ()

- A. 《九章算术》和《齐民要术》 B. 《黄帝内经》和《本草纲目》

C. 《授时历》和《天工开物》

D. 《梦溪笔谈》和《农书》

14. 以下历史事件和影响对应正确的是（ ）

	事件	影响
A	太平天国运动	推动中国民族资本主义的发展和新思想的传播,在一定程度上冲击了旧式官僚体制。
B	洋务运动	引进了资本主义国家的机器生产技术,是中国早期现代化的尝试。
C	戊戌维新运动	具有强烈的反帝爱国倾向,使列强认识到“瓜分一事,实为下策”。
D	义和团运动	结束了中国两千多年的君主专制制度,传播了民主共和理念。

A. A

B. B

C. C

D. D

15. 20世纪初,清政府被迫与列强签订了中国近代史上主权丧失最严重,赔款数目最庞大的不平等条约,使中国完全陷入半殖民地半封建社会的深渊。该不平等条约是（ ）

A. 《南京条约》

B. 《北京条约》

C. 《马关条约》

D. 《辛丑条约》

16. 学者金冲及评价 1911 年湖北革命党人的行动时指出:“他们在当时无论从社会地位和声望看,都是一些小人物,却做出了惊天动地的大事情。”这里的“大事情”应是（ ）

A. 中国同盟会成立

B. 黄花岗起义

C. 武昌起义

D. 护国战争

17. 为了纪念某史事,学生制作了板报,其中有以下关键词:《青年杂志》,“赛先生”,白话文。据此判断该史事是（ ）

A. 二次革命

B. 护法运动

C. 新文化运动

D. 国民革命

18. 下表是某学生整理的一位历史人物的部分经历。这位历史人物是（ ）

1921 年	1927 年	1945 年	1949 年
出席中国共产党第一次全国代表大会	率领部队到达井冈山,创建第一个农村革命根据地	在中共七大上作《论联合政府》的政治报告	指出党的工作重心必须由乡村转移到城市

- A. 孙中山 B. 宋教仁 C. 李大钊 D. 毛泽东

19. 中国共产党在抗日战争中发挥了中流砥柱的作用,具体体现在

- ①推动抗日民族统一战线的建立和巩固②制定和执行全面抗战路线
③开辟的敌后战场逐渐成为抗战主战场④派遣中国远征军赴缅作战

- A. ①②③ B. ①②④ C. ①③④ D. ②③④

20. 《人民画报》创刊于解放战争时期,第8期(下图)集中报道了“刘邓大军挺进大别山”这一重大事件,该事件()



- A. 粉碎了国民党的全面进攻 B. 揭开了战略进攻的序幕
C. 摧毁了国民党主要军事力量 D. 推翻了国民党的反动统治

21. 1954年,我国初步建立了社会主义的政治制度体系。下列属于我国根本政治制度的是()

- A. 中国共产党领导的多党合作和政治协商制度 B. 人民代表大会制度
C. 民族区域自治制度 D. 基层群众自治制度

22. 新中国成立后,外交领域不断取得突破。其中,“中华人民共和国恢复在联合国的一切合法权利”“中美关系开始走向正常化”“中日正式建交”等成就的取得是在()

- A. 20世纪50年代 B. 20世纪60年代 C. 20世纪70年代 D. 20世纪80年代

23. 从1979年到1984年,我国农业总产值年均增长8.9%,人均占有粮食从1978年的318.74公斤增加到1984年的392.84公斤。这主要得益于()

- A. 推广家庭联产承包责任制 B. 设立经济特区
C. 实施西部大开发战略 D. 加入世界贸易组织

24. 2022年,中共二十大报告指出:“新时代十年的伟大变革,在党史,新中国史,改革开放史,社会主义发展史,中华民族发展史上具有里程碑意义。”下列成就属于“新时代十年”的是()

- ①中国对香港,澳门恢复行使主权 ②推动构建人类命运共同体
③形成习近平新时代中国特色社会主义思想 ④全面建成小康社会

- A. ①②③ B. ①②④ C. ①③④ D. ②③④

25. 下图的楔形文字泥版文书记录了苏美尔人神庙每天分发食物的情况,这一文物可以直接用于研究()



- A. 古代西亚文明
- B. 古代埃及文明
- C. 古代印度文明
- D. 古代美洲文明

26. 2 世纪的演说家阿利斯提德宣称：“所有的货物,所有现存的和曾经存在的东西, 贸易, 航海, 农业, 金属加工, 任何曾经创造出来或者生长出来的东西, 都在这里（指罗马）汇合。”这段材料反映了罗马帝国（ ）

- A. 商业空前繁荣
- B. 农耕技术发达
- C. 文化广泛传播
- D. 社会陷入危机

27. 帝国的出现促进了文明的交流。下列帝国中兴起于亚洲并最终扩展至亚非欧三大洲的是（ ）

- A. 亚历山大帝国
- B. 阿拉伯帝国
- C. 孔雀帝国
- D. 印加帝国

28. 1493 年, 某航海家完成远洋航行回到西班牙, 献给国王和王后的礼品中有一包金黄的玉米粒, 这是玉米果实首次传入欧洲。这位航海家应是（ ）

- A. 迪亚士
- B. 哥伦布
- C. 达·伽马
- D. 塔斯曼

29. 以下是美国 1787 年宪法的部分内容, 其所践行的启蒙思想家的政治主张是（ ）

令 本宪法授予的全部立法权, 属于由参议院和众议院组成的合众国国会

令 行政权属于美利坚合众国总统

令 合众国的司法权属于最高法院和国会随时规定和设立的下级法院

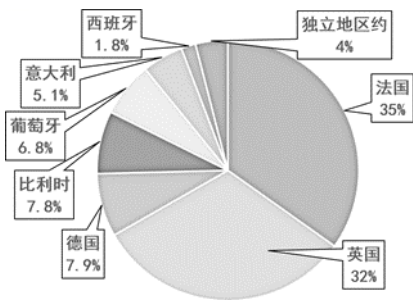
- A. 君主立宪
- B. 保护私有财产
- C. 三权分立
- D. 法律面前人人平等

30. 下图是社会主义运动的理论及实践的示意图。空白处应为（ ）



- A. “空想社会主义”出现
- B. 《共产党宣言》发表
- C. “第一国际”成立
- D. 列宁主义形成

31. 1876 年, 列强在非洲的殖民地占非洲总面积的 10.8%, 到 1914 年占到 96%。以下是 1914 年各国在非洲所占殖民地面积的比例示意图。由此可知（ ）



- A. 列强对非洲殖民侵略始于 1876 年
 B. 英国在非洲所占殖民地的面积最大
 C. 20 世纪初非洲已全部沦为欧洲列强的殖民地
 D. 19 世纪末 20 世纪初列强掀起瓜分非洲的狂潮

32. 下图为 1930 年委内瑞拉为纪念解放者先驱玻利瓦尔逝世 100 周年而铸造的肖像徽章。玻利瓦尔的主要功绩是 ()



- A. 开拓了横跨太平洋的贸易
 B. 领导拉丁美洲独立运动
 C. 领导埃塞俄比亚抗意战争
 D. 发起非暴力不合作运动

33. 第一次世界大战后成立的某一国际组织,是第一个由主权国家组成的世界性国际组织,其宗旨是促进国际合作和实现世界和平与安全。这一国际组织是 ()

- A. 国际联盟
 B. 世界反法西斯同盟
 C. 联合国
 D. 国际货币基金组织

34. 1921 年,苏俄政府通过粮食税等市场机制建立工农联盟,同时允许私营企业有一定程度的发展,并以租让制等形式在一些经济部门引入外国资本。上述举措属于 ()

- A. 战时共产主义政策
 B. 新经济政策
 C. “社会主义工业化”
 D. “农业集体化”


35. 下表列出了第二次世界大战时期的部分重大历史事件,这些事件整体上反映了 ()

时间	事件
1931 年	日本制造九一八事变,中国人民开始局部抗战

1939 年	德国闪击波兰, 英法被迫对德宣战
1941 年	德国入侵苏联, 苏联红军英勇抗击德军
1941 年	日本挑起太平洋战争, 美国对日宣战

- A. 第二次世界大战从局部战争发展到全球战争
- B. 欧洲各国在第二次世界大战中遭到致命打击
- C. 苏联战场成为抵抗德国法西斯军队的主战场
- D. 中国为世界反法西斯战争胜利作出重要贡献

36. 下图是 1948 年英国人吉尔伯特创作的时事漫画《西边吹来的风》, 画中的西风神 (指马歇尔计划) 正鼓起双腮, 向寓意欧洲的大风车吹来劲风, 大风车转动起来, 周围呈现出一片忙碌的景象。该漫画寓意马歇尔计划 ()



- A. 彻底打败了德国法西斯
- B. 促进了西欧经济的恢复
- C. 推动民族解放运动高涨
- D. 激化了美欧之间的矛盾

37. 以下是某学生学习笔记的内容, ①处应填写 ()

标题: <u> ① </u> 令□□两极格局的形成与演变 令□□资本主义的宏观调控和“福利国家” 令□□社会主义国家的建设与改革 令□□世界殖民体系的瓦解与新兴国家的发展

- A. 20 世纪下半叶世界的新变化
- B. “北约”与“华约”的对峙
- C. 科学技术的新发展
- D. 发展中国家的成就

38. 二战后, 苏联领导人赫鲁晓夫, 勃列日涅夫试图对旧体制进行改革。其共同点在于 ()

- A. 对计划经济体制进行了一定调整
- B. 建立了社会主义市场经济体制
- C. 改变了国民经济比例失调的局面
- D. 导致了局势失控和国家的解体

39. 现代社会很多人居家办公, 学生在家用手机或电脑也能上网课, 观看“空中课堂”, 享受优质教育资源。办公和学习方式的变革反映出当今世界发展的趋势之一是 ()

- A. 世界多极化
- B. 经济全球化
- C. 社会信息化
- D. 文化多样性

40. 对下表内容理解正确的是 ()

成立时间	组织	作用
1999 年	二十国集团	协调各国宏观经济政策, 促进世界经济增长
2001 年	上海合作组织	有利于维护欧亚地区的安全
2009 年	金砖国家	维护新兴市场国家和发展中国家共同利益

- ①南北差距和贫富分化得到了解决
- ②不同层次的国际治理组织不断出现
- ③中国积极参与全球治理体系变革
- ④合作共赢成为当今世界的发展潮流

- A. ①②③
- B. ①②④
- C. ①③④
- D. ②③④

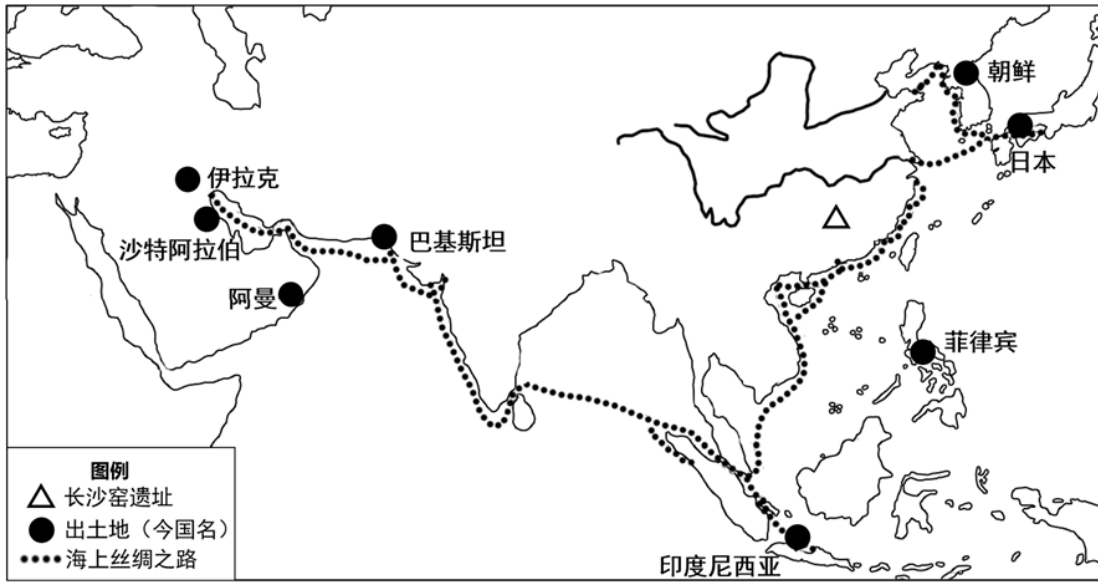
第二部分 (非选择题)

本部分共 2 小题, 共 40 分。

41. 文明的交流与互鉴

长沙窑是唐代著名外销瓷窑, 工匠们将釉下多彩和诗词绘画等多种装饰艺术运用于瓷器制作, 同时注重吸收域外的各种文化要素, 如西亚人喜爱的葡萄, 胡人乐舞等图案, 阿拉伯人感兴趣的抽象几何图形和阿拉伯文字, 以及南亚特产椰子树等植物题材, 极具活力和异国风采。

——摘编自宾娟《唐代长沙窑瓷器上的外来纹饰》



出土唐代长沙窑瓷器的遗址（部分）分布示意图

(1) 依据图文材料，概括唐代长沙窑外销瓷器制造及销售的特点，并分析其原因。

明朝后期，西方传教士来到中国，与徐光启等人大力协作，撰写，翻译了大量介绍西方科学技术的著作。清朝前期，为帮助清廷掌握确切的边疆地理信息，有效控制国家政区，传教士运用欧洲测绘技术绘制各省地图，在全国统一了丈量尺度，固定了里的长度单位，并沿用至后世。与此同时，传教士撰写，翻译了大量介绍中国历史文化的著作，如用拉丁文译的《孝经》等儒家经典，在欧洲广为流传。法国启蒙思想家将中华文明视为非宗教的高度理性文明的典范，成为他们推进反封建神学蒙昧主义的强大动力。

——摘编自张国刚《中西文化关系通史（下）》等

(2) 依据材料，分析 17-18 世纪中西文化交流的影响。

1920 年，李大钊等人在北京大学成立马克思学说研究会，依据英文“共产主义”的音译，将活动场所称为“亢慕义斋”。2021 年中国国家广播电视总台拍摄的纪录片《百炼成钢：中国共产党的 100 年》第一集《亢慕义斋》中指出：“回首中国共产党的 100 年，要从亢慕义斋说起。”以下是有关“亢慕义斋”的史料：

① 守常先生（李大钊）领导我们建立的“亢慕义斋”，既是图书室又是翻译室，还做学会办公室，党支部与青年团和其它一些革命团体常在这里集会活动……我们努力翻译和介绍马克思主义的书籍，宣传马克思主义。

——罗章龙《亢斋回忆录》

②



③



“亢慕义斋”旧址 北京市东城区沙滩后街 55 号院	19 位马克思学说研究会发起人合影（部分）， 其中有 16 人后来成为早期中国共产党党员
------------------------------	---

(3) 分别指出①②③的史料类型,并依据史料说明为什么“回首中国共产党的 100 年,要从亢慕义斋说起”。

2023 年是共建“一带一路”倡议提出十周年。10 月 10 日,国务院新闻办发布《共建“一带一路”构建人类命运共同体的重大实践》白皮书。以下为白皮书相关内容:

序号	成就(部分)
①	肯尼亚蒙内铁路采用中国标准,技术,装备和运营管理,2017 年开通运营以来,对肯尼亚经济社会发展和民生改善产生了积极影响
②	2013—2022 年,中国与共建国家进出口总额累计 19.1 万亿美元,年均增长 6.4%
③	2016 年以来,中国在亚非欧三大洲的 20 多个共建国家合作建设一批鲁班工坊,开设了工业机器人,新能源,物联网等 70 多个职业教育专业
④	中国与 135 个国家和地区签订了双边投资协定,与 112 个国家和地区签署了避免双重征税协定
⑤	“汉语桥”夏令营项目累计邀请 100 余个共建国家近 5 万名青少年来华访学,支持 143 个共建国家 10 万名中文爱好者线上学习中文,体验中国文化
⑥	截至 2022 年,中国在澜湄国家(柬埔寨,老挝和缅甸等国)共计建成农村供水安全保障技术示范点 62 处

(4) 从上表中任选两个成就,写出序号,提炼一个主题,并对主题进行说明。

42. 城市发展与社会变迁

希腊城邦的公民大多数躬耕陇亩,住在乡村。由于实行公民轮番执政,城邦中不存在城市与乡村的对立,“城市连同属于它的土地是一个经济整体”。城市既是民选的官员施政的中心,也是全体公民集会,参政和举行各种社会活动的场所。城邦国家一般只有一个本土中心城市,它是城邦国家之根本。城市在战争中具有很强的军事功能,一旦失守,就意味着城邦的灭亡。

——摘编自张南,周伊《春秋战国城市与古典希腊城市比较论》

(1) 依据材料,概括古代希腊城市的特点。

中古时期西欧的城市特许状是由国王或大封建主颁发给城市 and 市民的法律意义上的权利认可证书。

特许状	内容(节选)
-----	--------

序号		
①	12 世纪上半叶,法国国王路易六世颁发给洛里斯城镇的特许状	任何人只要在城里平安生活一年零一天,便可获得自由,以前的主人不得对他提出任何权利主张
②	1130 年,英国国王亨利一世颁发给伦敦的特许状	伦敦市民享有充分的权力任命他们所愿的伦敦市民为市长,并任命任何一人或他们所愿的伦敦市民为法官
③	1175 年,法国特尔瓦伯爵亨利颁发给塞纳河大桥附近市镇的特许状	手工艺匠和商人每年交纳一笔定额地租,即有权在市内居住和包租郊区农田,亦有权自由出售房屋,葡萄和租地
④	1200 年,法国国王菲利普二世颁发给巴黎大学的特许状	官员不得以防卫为理由对学者动手,不能把他们关进监狱。除非学者犯了罪,应受到逮捕。拘捕学者时,决不能打他

(2) “城市的空气使人自由”是中古时期形容西欧城市的一句谚语。从表格中任选两个特许状作为证据,说明你对该谚语的理解。

19 世纪,英国领导了世界城市化的浪潮。1800 年,大约五分之一的英国人居住在城镇,城镇规模大约 1 万多人。而接下来的一个世纪中,庞大的乡村生活被城市化了,英国有三分之一的人口在城里工作和生活。欧洲大陆,美国,日本以及其他国家也是同样的模式。到 1900 年,工业化国家中至少有 50% 的人口生活在城镇中。1800 年,欧洲人口达 10 万的大城市仅有 20 座,西半球一座也没有。到 1900 年,欧洲和北美的大城市超过 150 座。

——摘编自[美]杰里·本特利等《新全球史》

(3) 依据材料概括 19 世纪世界城市的发展变化,结合所学分析其原因。

二战后,法德两国试图实现和解。两国地方上自发的友好城市活动,恰好是对国家政治层面的补充。1948 年,法德市长圆桌会议召开,提出要在和解的精神下发起积极的交流活动。同年,法德建立了第一组友好城市关系。20 世纪 50 年代,法德友好城市已经达到 130 例。1963 年,《法德友好合作条约》签订,进一步加强了双方的合作。1963—1969 年,法德友好城市增加到 400 多例。

——摘编自卢睿《战后国际友好城市的发端与发展(1945—1969)》

(4) 依据材料并结合所学,指出法德友好城市建立的时代背景,并就法德友好城市的发展谈谈你的看法。

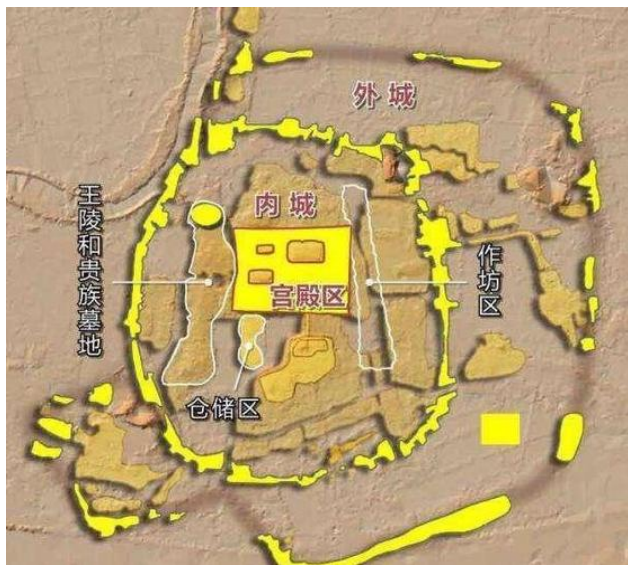
2024 年北京市第二次普通高中学业水平合格性考试

历史试卷

第一部分（选择题）

本部分共 40 小题, 每小题 1.5 分, 共 60 分。在每小题列出的四个选项中, 选出最符合题目要求的一项。

1. 下图为良渚古城遗址平面示意图。考古工作者发现良渚古城有宫殿区, 内城和外城, 内城中有仓储区和作坊区, 贵族墓地出土了透雕冠状器, 龙首镯等高等级玉器。上述考古发现可以证明良渚文化 ()



- A. 具备了国家的初始形态
B. 出现了高度成熟的文字
C. 青铜铸造技术最为发达
D. 中央集权国家已经建立

【答案】A

【详解】本题是单类型单项选择题。据本题主题干的设问词, 可知这是推断题。据本题时间信息可知准确时空是: 距今约 5300-4300 年 (中国)。据题干“良渚古城有宫殿区, 内城和外城, 内城中有仓储区和作坊区, 贵族墓地出土了透雕冠状器, 龙首镯等高等级玉器”并结合所学知识可知, 良渚文明已出现社会阶级分化, 社会组织复杂, 具备了国家的初始形态, A 项正确, 材料图文信息未提及文字的存在, 并且这时期还未出现成熟的文字, 排除 B 项, 良渚文明处于新石器时代晚期, 主要的生产生活工具是石器, 这时期还未出现技术发达的青铜铸造, 排除 C 项, 秦朝时, 中央集权国家建立, 排除 D 项。故选 A 项。

2. 战国时期, 各国为了富国强兵, 纷纷开展政治, 经济, 军事, 社会制度改革, 变法运动成为潮流。以下选项体现这一变法潮流的是 ()

- ①“天子建国, 诸侯立家” ②“食有劳而禄有功”
③“集小都乡邑聚为县” ④“废井田, 开阡陌”
- A. ①②③ B. ①②④ C. ①③④ D. ②③④

【答案】D

【详解】本题是组合选择题。时空是战国时期 (中国)。根据材料可知, “食有劳而禄有功”

即根据功劳和才能选拔任用官吏,这一措施废除了传统的世卿世禄制,打击了旧贵族,维护了新兴地主阶级的政治利益,“集小都乡邑聚为县”即推行县制,有利于加强中央集权,“废井田,开阡陌”即废除井田制,建立封建土地私有制,有利于封建经济的发展。②③④符合题意,D项正确,“天子建国,诸侯立家”属于分封制的内容,①不符合题意,排除ABC项。故选D项。

3. 秦朝推行的某项制度为以后历朝的地方行政制度开创了基本模式,这一制度是()

- A. 内外服制 B. 分封制 C. 郡县制 D. 郡国并行制

【答案】C

【详解】本题是单类型单项选择题。根据材料主题干的设问词可知本题是推断题。根据材料时间信息可知准确时空是：秦(中国)。根据材料概况可知：秦朝推行的地方行政制度是郡县制,后世基本沿袭了此项制度,在此基础上进行继承和发展,C项正确,内外服制度是商朝时期实行的,与材料信息不符,排除A项,分封制是西周时期实行的,春秋战国时期逐渐瓦解,排除B项,郡国并行制度是汉朝实行的,与题干信息不符,排除D项。故选C项。

4. 下表内容为汉武帝推行的一系列措施,其主要作用是()

政治	颁布“推恩令”
经济	铸币权收归中央
思想	尊崇儒术
军事	北击匈奴

- A. 巩固和发展了大一统国家 B. 结束了国家长期分裂局面
C. 缓和了民族矛盾 D. 减轻了人民负担

【答案】A

【详解】本题是单类型单项选择题。据本题主题干的设问词,可知这是影响题。据本题时间信息可知准确时空是：汉代(中国)。据题干“汉武帝推行的一系列措施”,并结合所学知识可知,汉武帝在政治上颁布“推恩令”,设置刺史,经济上将铸币权收归中央,思想上尊崇儒术,军事上反击匈奴侵扰,这些措施有利于加强中央集权,巩固国家统一,A项正确,秦朝的建立结束了春秋战国时期长期分裂的局面,排除B项,C项是关于民族关系方面,而表格中的政治,经济,思想和军事措施的作用共同巩固了大一统国家,排除C项,汉武帝巩固大一统的措施加重了人民的负担,排除D项。故选A项。

5. 下图所反映的历史现象的影响是()



- A. 推动了陆上丝绸之路的兴盛
 B. 促进了民族交融和江南开发
 C. 结束了南北朝对峙局面
 D. 完成了经济重心的南移

【答案】B

【详解】本题是单类型单项选择题。据本题主题干的设问词，可知这是影响题。据本题时间信息可知准确时空是：西晋（中国）。该示意图是西晋末年内迁少数民族分布与北方流民南迁的示意图，北方少数民族大量内迁到黄河流域，促进了各民族的发展和民族大融合，北方人口南迁，带来劳动力和先进的生产技术，经过南北方劳动人民的共同努力，促进了江南经济的开发。此外，北方汉人南迁也推动了和南方少数民族的交融，B项正确，隋唐时期，经济繁荣，文教昌明，既是陆上丝绸之路全面发展的黄金时代，也是海上丝绸之路开始兴盛的重要时期，不符合题干时间，排除A项，589年，杨坚派遣大军灭了偏安的南陈，于是南北朝对峙局面正式结束，中国再一次进入了大一统时代，不符合题干，排除C项，中国完成全国经济重心南移是在南宋，排除D项。故选B项。

6. 以下是史学家钱穆对隋唐制度的总结，横线处应填（ ）

论中央政府之组织：结束了上半段历史上的三公九卿制，而开创了下半段的尚书六部制。

论选贤与能：结束了上半段的乡举里选制，而开创了下半段的_____。

论租税制度：结束了上半段的田租，力役，土贡分项征收制，而开创了下半段的单一税收制。

- A. 宗法制
 B. 察举制
 C. 九品中正制
 D. 科举考试制

【答案】D

【详解】

以上内容仅为本文档的试下载部分，为可阅读页数的一半内容。如要下载或阅读全文，请访问：<https://d.book118.com/075202020011011342>