

2024年04月河南省新蔡县2024年春季通过校园招聘公

开引进高层次人才和其他专业技术人才笔试历年典型

考题与考点剖析含答案详解

(图片大小可自由调整)

一、单项选择题(共125题)

1、

速度：时间：距离

- A.利率：本金：利息
- B.质量：品种：数量
- C.利润：成本：产值
- D.收入：支出：剩余

解析：

参考答案：A

[解析] 距离等于速度乘以时间；利息等于利率乘以本金。

2、

- ①1911年10月10日，武昌起义枪响，辛亥革命拉开序幕
 - ②中国如何另开新面，是一百年前那代人的挑战
 - ③让我们更公允地回看那段历史
 - ④所以，知史需有襟怀，如此方可鉴未来
 - ⑤同样是当代人的挑战
 - ⑥有一百年的时间，足够可以拉开时间与空间距离
- 将以上6个句子重新排列，语序正确的是_。

- A.①⑥③②⑤④
- B.①③⑥②⑤④
- C.⑥①③②⑤④
- D.⑥①③④②⑤

解析：

参考答案：A

[解析]

首先根据文段和选项确定首句，因为⑥是根据①来确认距今一百年时间的，所以①在⑥前，为文段的首句，谈论辛亥革命的爆发。⑥③之间是因果关系，因为事隔一百年，所以人们才能公允地看待那段历史。根据语句的连贯性原则，②⑤为一组，谈论前人和我们当代人都需要开创未来。④明显是对文段的总结。故本题正确选项为A。

3、

根据《专利法》的有关规定，下列四种情况中可授予专利权的是_。

- A.甲发明了高仿真文物制作设备
- B.乙发明了苹果树新品种的生产方法
- C.丙发明了对高血压特有的治疗方法
- D.丁发明了某数学定理的演变规则

解析：

参考答案：B

[解析]

《专利法》第5条第1款规定：“对违反法律、社会公德或者妨害公共利益的发明创造，不授予专利权。”故排除A。《专利法》第25条规定：“对下列各项，不授予专利权：(一)科学发现；(二)智力活动的规则和方法；(三)疾病的诊断和治疗方法；(四)动物和植物品种；(五)用原子核变换方法获得的物质；(六)对平面印刷品的图案、色彩或者二者的结合作出的主要起标识作用的设计。对前款第(四)项所列产品的生产方法，可以依照本法规定授予专利权。”故B项正确。

4、

精通：掌握

- A.原因：缘故
- B.梦想：理想
- C.传播：传媒
- D.崇拜：尊重

解析：

参考答案：D

[解析] 精通比掌握的程度深；崇拜比尊重的程度深。

5、

股份合作制是人民群众在改革中自发创造的，是具有中国特色的公有制的实现形式。其特点表现为劳动者的劳动和劳动者的资本联合。企业职工既是劳动者，又是投资人，即在按劳取酬的同时，又参与按股分红。由于这种形式适合我国农村的现时生产力水平，于是在广大乡镇广泛发展实行开来，并被作为国有小企业改革可采取的一种模式，在实践中取得了较好的效果。

这段话的中心思想是_。

A.股份合作制的特点

B.企业职工按劳取酬，又参与按股分红

C.股份合作制适合我国现时农村生产力水平

D.股份合作制是人民群众创造的适合农民现时生产力水平的公有制的实现形式

解析：

参考答案：D

文中第一句话“股份合作制是人民群众在改革中自发创造的，是具有中国特色的公有制的实现形式”是中心句，全文属于“总→分”关系。

6、

关于英仙座流星雨，下列说法正确的是_____。

A.英仙座流星雨基本在每年7—8月发生

B.它是由坦普尔·塔特尔彗星的碎片坠落到地球大气层里造成的

C.英仙座流星雨数量大，但是对非专业流星观测者来说并不是观测的首选

D.英仙座流星雨的特点是速度快，在极盛年代数量很大，被称为“流星雨之王”

解析：

参考答案：A

[解析] 英仙座流星雨基本在每年7—

8月发生，它是由斯威夫特·塔特尔彗星的碎片坠落到地球大气层里造成的，是最活跃、最常被观测到的流星雨，是对非专业流星观测者来说也是最好的流星雨，为全年三大周期性流星雨之首，故A项表述正确，B、C两项错误。D项是对狮子座流星雨的描述。故本题选A。

7、

从表面看，曹七巧不过是遗老家庭里的一种牺牲品，_____的宗法社会里_____的渣滓。但命运偏偏要教渣滓当续命汤，不但要做她儿女的母亲，还要做她媳妇的婆婆，把旁人的命运交在她手里。

填入画横线部分最恰当的一项是：_____

A.迂腐 不屑一顾

B.传统 不值一提

C.没落 微不足道

D.落后 可有可无

解析：

参考答案：C

[解析]

第二空，“不屑一顾”为动词，不能做定语修饰“渣滓”，排除A。第一空，“传统”与“现代”相对，侧重守旧，保守；“没落”与“新兴”相对，侧重衰败，趋向灭亡；“落后”与“先进”相对，侧重发展水平低。由“遗老家庭”“续命汤”可知，宗法社会即将走到尽头，“没落”填入更恰当。故本题选C。

8、

为解决道德滑坡问题，亚当·

斯密的《道德情操论》试图将“富之路”与“德之路”协调、统一起来。不过，他不是着眼于道德本身，而是将道德问题放到经济和政治大环境中考察的，因为道德的确立，不能脱离现实。今天，道德与经济、政治依然相互影响。因此，我们要重塑道德，就要从制度上做文章，为重塑社会道德创造良好的制度环境。这就要在政治上十分注重社会的公平正义，着力建设一个公平竞争的良好环境，同时加快推进分配制度改革，努力缩小贫富差距，改变人们扭曲、浮躁的心态，从而改变道德滑坡的局面。

这段文字意在强调：

A.道德、经济与政治三者之间的关系

B.重塑道德，需从制度着手

C.扭曲、浮躁的心态是道德滑坡的根本原因

D.止住道德滑坡应跳出道德本身

解析：

参考答案：B

[解析]

文段先引用亚当·斯密解决道德滑坡问题的观点，说明道德的确立不能脱离现实，然后由“因此”引出文段的主旨——

重塑道德。要从制度上做文章，其后内容是对制度建设的具体阐述。D项迷惑性较强，作者强调的是如何解决道德滑坡问题，D项并未给出具体方案。本题答案为B。

9、

国务院早就要求沿淮企业必须限期停止向淮河排放污水，可这个工厂的领导却一直置若罔闻、拖延推诿，_____。

填入横线处最恰当的是：

A.既不传达上级指示，也不购置污水处理设备，以致污染问题越来越严重，环保工作没人管

B.既不购置污水处理设备，也不传达上级指示，以致污染问题越来越严重，环保工作没人管

C.既不传达上级指示，也不购置污水处理设备，以致环保工作没人管，污染问题越来越严重

D.既不购置污水处理设备，也不传达上级指示，以致环保工作没人管，污染问题越来越严重

解析：

参考答案：C

“今天”的改革，已经具有了凝聚最后的社会信任的性质，只能成功，不能失败。它必须真正突破“既得利益格局”的_____，而绝不能_____或变形走样，否则，将充满玩不下去的风险。

依次填入划横线部分最恰当的一项是_____。

- A.限制 南辕北辙
- B.局限 停滞不前
- C.阻碍 浅尝辄止
- D.框架 半途而废

解析：

参考答案：C

[解析]

由“必须真正突破”可知，句中说的是改革必须抓住关键问题，不能走形式主义或者变形走样。第二空中只有“浅尝辄止”能与“真正突破”相对应。第一空中“阻碍”也与“突破”搭配恰当。本题答案为C。

11、

如果2003除以一个两位数后所得余数最大，则这个两位数为_____。

- A.92
- B.82
- C.88
- D.96

解析：

参考答案：D

[解析] $2003 \div 99 = 20 \dots 23$

$$23 + 20 \times 3 = 83$$

所以商是20时，余数最大是83，此时除数是 $99 - 3 = 96$ 。

$$2003 \div 95 = 21 \dots 8$$

$$8 + 21 \times 3 = 71$$

所以商是21时，余数最大是71，此时除数是 $95 - 3 = 92$ 。

$$2003 \div 91 = 22 \dots 1$$

$$1 + 22 \times 3 = 67$$

所以商是22时，余数最大是67，此时除数是 $91 - 3 = 88$ 。

$$2003 \div 87 = 23 \dots 2$$

$$2 + 23 \times 3 = 71$$


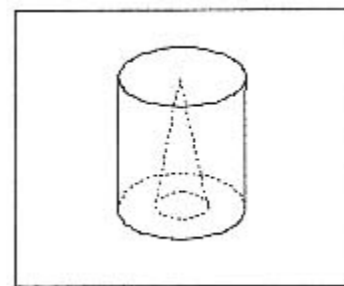
所以商是23时，余数最大是71，此时除数是 $87 - 3 = 84$ 。

当除数小于84时，余数小于83。

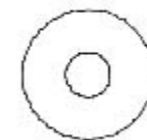
综上所述，余数最大是83，此时除数。

12、

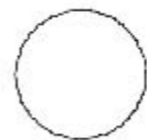
一圆柱体如图所示从中挖掉一个圆锥体，然后从任意面剖开，下面哪一项不可能是该立体图形的截面？



A.



B.



C.

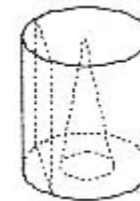
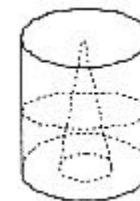


D.

解析：

参考答案：C

[解析] 按下图所示的三种切割方式，可以得到选项A、B、D所示的剖面图。



13、

宗法观念，是指伴随着古代中国以血缘为纽带、以地缘为基础、以家族为基本结构的宗法社会的产生和发展而形成的观念，强调父权、血亲、家族至上。

根据上述定义，下列不涉及宗法观念的是_____。

- A.君叫臣死，臣不得不死；父叫子亡，子不得不亡
- B.妇人，从人者也，幼从父兄，嫁从夫，夫死从子
- C.事，孰为大？事亲为大；守，孰为大？守身为大
- D.《尚书·咸有一德》有云：“任官唯贤才”

解析：

参考答案：D

[解析]

单定义判断否定。宗法观念强调“父权、血亲、家族至上”；A、B项强调“父权”，涉及宗法观念。C项，意思为“君子，以侍奉双亲为大事”，强调的是“血亲”关系，涉及宗法观念。D项，“任官唯贤才”指只选择德才兼备的人为官，不涉及宗法观念。故选D。

14、

下列选项不属于信息产业特点的是__

- A.与第一产业关系不密切
- B.与第二产业关系密切
- C.与第三产业关系密切
- D.与军事工业关系密切

解析：

参考答案：A

15、

木材：石料__

- A.猫：虎
- B.钢笔：写字
- C.球拍：打球
- D.声音：空气

解析：

参考答案：A

[解析]

本题主要考查类比推理中的并列关系

解题要点:

同一类属下的两个并列概念

[答案与解析]

木材和石料都是建筑材料，是并列关系。A项，猫和虎都是猫科动物，为并列关系；B项，钢笔是用来写字的，是工具与其作用的关系；C项，球拍是用来打球的，是工具与其作用的关系；D项，声音在空气里传播，是物体与其运动空间的关系。故选A。

16、

公众注意力是公众对外界信息的选择性关注，在一定程度上体现了公众的意愿和诉求。善于把握和引导

公众注意力，有利于达成治理者与公众诉求之间的“最大公约数”，促进国家长治久安。当前，互联网已经成为舆论的集散地，对公众注意力有着很大影响。这就要求各级党委和政府加强网络时代的公众注意力管理，及时评估公众注意力集中在哪些方面，积极引导公众关注需要关注的信息，设法限制和防止不良信息的入侵和干扰，从而使党和政府与公众之间形成良性互动。

以上文字意在说明的是：

- A.要加强网络时代的公众注意力管理
- B.公众注意力反映公众的意愿和诉求
- C.互联网对公众注意力具有集聚作用
- D.净化网络环境方能促进社会的和谐

解析：

参考答案：A

[解析]

文段首先指出公众注意力一定程度上体现了公众的意愿和诉求，所以要善于把握和引导公众注意力；接着指出，当前互联网成为舆论的集散地，对公众注意力影响很大；最后得出结论，各级党委和政府要加强网络时代的公众注意力管理。B、C两项非文段主旨所在，D项无中生有，均可排除。故答案选A。

17、

某商户进了一批货，按照50%的利润定价，结果卖出了40%。此时，该商户发现该商品进价下跌20%，于是又进了第二批货，数量与第一批相同。与此同时，为了资金快速回笼，剩余的货物全部打折销售，并最终获利40%。问后期打折的力度为多少？

- A.七折
- B.八折
- C.九折
- D.九三折

解析：

参考答案：B

[解析]

设最初进价为1元，每批货物数量为100，则第一次进货的成本为100元，每个货物的定价为 $1 \times (1 + 50\%) = 1.5$ 元。售出了 $100 \times 40\% = 40$ 个货物，还剩下60个，售出的货款为 $1.5 \times 40 = 60$ 元。第二次的进价为 $1 \times (1 - 20\%) = 0.8$ 元，成本为 $0.8 \times 100 = 80$ 元。两次总成本为 $100 + 80 = 180$ 元，故两次售出的总货款为 $180 \times (1 + 40\%) = 252$ 元，后期卖了 $252 - 60 = 192$ 元，故后来的定价为 $192 \div (100 + 60) = 1.2$ 元，折扣为 $1.2 \div 1.5 = 0.8$ 。

18、

某城市出租车的价格为每次乘坐起步价10元加每千米2.5元，共享单车的租用价格为每10分钟0.2元(超过1分钟不足10分钟按10分钟计算)。小王中午13点从宾馆出发，去24千米外的会场参加14点开始的会议。他骑行共享单车的速度为12千米/时，出租车的行驶速度为60千米/时。问：小王如果选择共享单车和出租车结合的交通方式，他在保证不迟到的情况下至少要花费多少元交通费用?_____

A.38.5

- B.45.8
- C.48.5
- D.50.2

解析：

参考答案：C

[解析]

由于出租车的速度快，可以使小王提前到达会场，但共享单车每千米的花费少，所以如果采用共享单车和出租车混合出行的办法恰好按时到会场，则骑共享单车的距离最长，此时花费最少。设骑共享单车x小时，则乘出租车(1-x)小时，根据题意可列方程， $12x+60(1-x)=24$ ，解得 $x=\frac{3}{4}$ ，即骑车45分钟行驶9千米，乘出租车15分钟行驶15千米，共花费 $5\times 0.2+10+15\times 2.5=48.5$ 元。故本题选C。

19、

爱因斯坦：相对论

正确选项为_。

- A.牛顿：万有引力
- B.爱迪生：电视机
- C.贝多芬：鸡蛋
- D.达芬奇：钢琴

解析：

参考答案：A

[解析] 题干中的两个词是人物与其提出的理论的关系。“万有引力”是“牛顿”的一个理论，故选A。

20、

走读老人指由几个儿女轮流赡养，定时定期辗转于各个儿女家生活的老人。

下列最有可能属于走读老人的是_____。

- A.赵老太操劳一生抚养了5个儿女，如今儿女们都在外地工作，儿女们对她很孝敬，她每年绝大多数时间都在子女家度过
- B.肖大爷今年78岁，有3个子女，但3个子女一个也不愿赡养他。经法院判定，每个子女每月出赡养费230元，把老人送到敬老院安度晚年，他的3个子女对此判决无异议
- C.严老汉今年69岁，共有2个儿子，都已成家，严老汉的儿子很孝顺，都争着要赡养他，老汉为了平衡关系，每年每家都呆一段时间，自己也独自生活一段时间
- D.陈太太前年中风，生活不能自理，她的4个女儿都有自己的工作和自己的家，为了能照料好老母亲，每家每年照应3个月

解析：

参考答案：D

[解析]

“走读老人”定义的关键词是：定时定期、轮流赡养。选项A没有体现赵老太被儿女定时定期赡养，不符合定义；选项B中肖大爷没有在儿女家生活，不符合定义；选项C中严老汉自己也独自生活一段时间，也不符合定义。故答案选D。

21、

某招聘会在入场前若干分钟就开始排队，每分钟来的求职人数一样多，从开始入场到等候入场的队伍消失，同时开4个入口需30分钟，同时开5个入口需20分钟。如果同时打开6个入口，需多少分钟?_____

- A.8
- B.10
- C.12
- D.15

解析：

参考答案：D

[解析]

设每个人口每分钟入场的人数为1，根据题目条件，可利用“牛吃草”的核心公式，求得每分钟新增排队的人数为 $(30\times 4\times 1-20\times 5\times 1)\div(30-20)=2$ ；入场前已排队等候的人数为 $30\times 4\times 1-30\times 2=60$ 。如果同时打开6个人口，从开始入场到队伍消失时，需要 $60\div(6\times 1-2)=15$ 分钟。

22、

把下面的六个图形分为两类，使每一类图形都有各自的共同特征或规律，分类正确的一项是：



- A.①③④，②⑤⑥
- B.①②⑥，③④⑤
- C.①③⑤，②④⑥
- D.①⑤⑥，②③④

解析：

参考答案：A

[解析] ①③④中圆圈都靠近图形的最长边；②⑤⑥中圆圈都靠近图形的最短边。

23、

出个门，还要如此这般_____，不明_____的人，恐怕要笑话了。然而这风格放在梁存秀身上，却也正是人事相宜。搞了大半辈子形而上的哲学，所奉守的，不外“真我”二字。他既要真我无亏，行起事儿来，一举一动便都不能_____。

填入划横线部分最恰当的一项是：

- A. 小心谨慎 事理 马虎
- B. 敷衍了事 就是 疏忽
- C. 郑重其事 就里 苟且
- D. 一丝不苟 低细 苟同

解析：

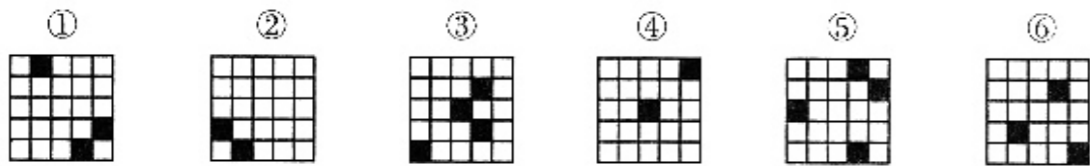
参考答案：C

[解析]

第一句话的意思是不清楚状况的人，可能就要笑话了。“不明事理”与句意不符，排除A。由题干可知，梁存秀是一个做事严谨的人，故第一空填“敷衍了事”也不合句意，排除B。“苟同”意为轻率地表示同意，与句意不符，排除D。故本题答案为C。

24、

把下面的六个图形分为两类，使每一类图形都有各自的共同特征或规律，分类正确的一项是_____。



- A. ①④⑤, ②③⑥
- B. ①④⑥, ②③⑤
- C. ①③④, ②⑤⑥
- D. ①②⑤, ③④⑥

解析：

参考答案：D

[解析]

考查元素位置关系。①②⑤中，小黑色正方形都位于大图形的边缘；③④⑥中，小黑色正方形都位于大图形的两条对角线上。故选D。

25、

最近有一个调查表明一半以上申请离婚的夫妇都把金钱列为他们婚姻的主要问题。小张从该调查材料中得出了一个结论：“财政问题是造成高离婚率的主要问题和重要因素。”但是，尽管表面上金钱是离婚的原因，实际上夫妇经常把其他种种婚姻上的挫折归咎于金钱。因此该调查材料不能确定金钱问题是婚姻的主要问题。

下列准确地表达了上述文字的主要观点的是_____。

- A. 小张所依据的调查材料是不可靠的
- B. 财政问题不是造成离婚率升高的主要因素
- C. 小张过于简单地得出了结论
- D. 通过非物质方面的调解来解决婚姻问题可以降低离婚率

解析：

参考答案：C

[解析]

“但是”连接了两个转折关系的句子，前句阐述了小张得出的结论，后句则证明了小张得出的结论是不合理的，进而得出正确的结论：“该调查材料不能确定金钱问题是婚姻的主要问题”。因此全段意在证明“小张过于简单地得出了结论”，而不是调查材料。故选C。

26、

我国国内首个以浮动车轨迹作为数据基础的“互联网+信号灯”落地济南经十路，经过一段时间的使用，已显示出一定的成效，经十路早晚高峰期间的交通延误时间均下降超过10%。下列有关“互联网+信号灯”的说法错误的是：

- A. “互联网+信号灯”可以通过分析数据，针对实时路况，精确计算与评估区域内的车流量，优化红绿灯的合理使用
- B. “互联网+信号灯”可以利用监控到的车流数据调节交通运行，但仍然是一种断面检测
- C. “互联网+信号灯”改变了以往依赖市民报警和警力巡查发现问题路口的状况
- D. “互联网+信号灯”可以实现自动调控，它的监控范围比普通信号灯要大得多

解析：

参考答案：B

[解析]

“互联网+信号灯”可以利用监控到的车流数据，使车多的路口显示绿灯的时间较长，车少的路口显示的红灯时间较长。原来传统的交通信号控制是一种断面检测，B说法有误。故本题答案选B。

27、

只有钓鱼技术高超的人才能加入钓鱼协会；所有钓鱼协会的人都戴着太阳帽；有的退休老同志是钓鱼协会会员；某街道的人都不会钓鱼。

- A. 有的退休老同志戴有太阳帽
- B. 该街道上的人都不是钓鱼协会会员
- C. 该街道上有的人戴着太阳帽
- D. 有的退休老同志钓鱼技术高超

解析：

参考答案：C

[解析]

本题有4个陈述。由陈述2、3可知A正确；由陈述1、4可知B正确；由陈述1、3可知D正确。只有C不能确认。

28、

取甲种硫酸300克和乙种硫酸250克，再加水200克，可混合成浓度为50%的硫酸；而取甲种硫酸200克和乙种硫酸150克，再加上纯硫酸200克，可混合成浓度为80%的硫酸。那么，甲、乙两种硫酸的浓度各是多少？

- A.75%， 60%
- B.68%， 63%
- C.71%， 73%
- D.59%， 65%

解析：

参考答案：A

[解析] 设甲、乙两种硫酸的浓度分别为x%、y%，由题意可得到方程组

$$\begin{cases} 300x\%+250y\%=(300+250+200)\times 50\% \\ 200x\%+150y\%+200=(200+150+200)\times 80\% \end{cases}$$

联立解之，得到x%=75%，y%=60%。

也可将选项中数据代入方程组中，只有A中的数据可以使方程中左边式子的值为整数，应选择A。

29、

让我们都来_____纸张，不要在它身上写几笔就抛弃，为了_____公共道德，让我们把这样的告示传遍校园吧。

填入划横线部分最恰当的一项是_____。

- A.珍惜 保护
- B.爱惜 维护
- C.节约 伸张
- D.节省 宣传

解析：

参考答案：B

[解析]

“保护”的是弱小的一方，“伸张”的是正义、正确的理念，“宣传”的是某种精神，而“公共道德”应该与“维护”搭配，所以本题应该选择B。

30、

一种收录机，连续两次降价10%后的售价是405元，那么原价是()。

- A.490
- B.500元
- C.520元
- D.560元

解析：

参考答案：B

[解析] 由题意可知连续两次降价10%后的价格为原来的81%，所以原来的售价为：405÷0.81=500(元)。

31、

①也许，除了反思民众的文化素质，不妨再问问，是什么绊住了百姓走向正规医院的脚步?是什么促使百姓寄希望于那些“神医”?

②解决这些问题，也是防止“神医现象”再现的关键所在。

③可是怎样既在社会制度层面、民生层面，又在精神领域顺利完成这种“现代性转换”，这是一个系统工程。

④实际上，作为一个转型中的拥有悠久传统文化的古国，出现张悟本、李一等“神医现象”也算是一种“必然”。

⑤除了医疗资源严重不足的原因，我们对病患及其家属的精神关怀是否充分?有没有将以人为本落到实处?

将以上5个句子重新排列，语序正确的是：

- A.①⑤④③②
- B.①⑤④②③
- C.④③②①⑤
- D.④③①⑤②

解析：

参考答案：D

[解析]

本题的关键在于两个指示代词。由①句中的“那些‘神医’”中的“那些”可知，①句前应出现了关于神医的描述，故④句应排在①的前面。由此可排除A、B。由②句中的“解决这些问题”中的“这些”可知，②前应出现了关于“这些问题”的具体描述，故①和⑤句应排在②的前面。由此排除C。故答案选D。

32、

孙某丈夫外出做买卖五年未归，也没有任何音讯，孙某欲改嫁，下面说法正确的是_____。

- A.孙某丈夫视为死亡，孙某可以直接改嫁
- B.孙某丈夫不论是生还是死，孙某均可以改嫁
- C.孙某丈夫经人民法院宣告失踪后，孙某可以改嫁
- D.孙某丈夫经人民法院宣告死亡后，孙某可以改嫁

解析：

参考答案：D

解析：宣告死亡是指经利害关系人申请，由法院宣告下落不明一定期间的自然人为死亡人的制度。根据《民法通则》和《民通意见》的相关规定可知，公民下落不明满四年的，利害关系人可以向人民法院申请宣告他死亡，宣告死亡与自然死亡具有相同法律后果。被宣告死亡的人与配偶的婚姻关系，自死亡宣告之日起消灭。

本题中，孙某丈夫外出做买卖五年未归，也没有任何音讯，因此孙某可以向人民法院申请宣告他死亡，且经人民法院宣告死亡后，孙某可以改嫁。故本题答案为D。

33、

彼得原理：是美国学者劳伦斯·彼得在对组织中人员晋升的相关现象研究后得出的一个结论，即在各种组织中，由于习惯于对在某个等级上称职的人员进行晋升提拔，因而雇员总是趋向于晋升到其不称职的地位。彼得原理有时也被称为“向上爬”原理。

下列现象中符合彼得原理的是_____。

- A.张教授的课很受大家欢迎，最近被提升为校长，从此他忙得焦头烂额
- B.作为优秀的体操运动员的他，退役后被国家体操队聘为教练，工作很快得到大家的认可
- C.小王一直是公司的营销人员，业绩很好，最近被提升为业务主管
- D.小李因其舅舅是公司的总经理，很快就被提升到了管理阶层，他干得很吃力

解析：

参考答案：A

[解析]

彼得原理的要点是：①对某个等级上称职的人进行晋升提拔；②雇员趋向晋升到其不称职的地位。B项只提到工作的聘用，C项提到晋升但没有不称职的表现。D项并不是由于在某个等级上称职而被提拔。A项中张教授原来受欢迎，但晋升为校长后忙得焦头烂额，是不称职的表现，因此A是正确答案。

34、

法人，是指具有民事权利能力和民事行为能力，依法独立享有民事权利，承担民事义务的组织。法人需要具备四个条件：①法人必须依法成立；②法人必须有自主经营的财产；③法人必须有明确的组织机构、名称和场所；④法人必须能够独立地承担民事责任。根据上述定义，下列哪一个属于法人（）

- A.省政府
- B.某机械厂
- C.省公安厅
- D.红光中学

解析：

参考答案：B

35、

强制医疗，是指国家为避免公共健康危机，通过对患者疾病的治疗，以治愈疾病、防止疾病传播、维护公众健康利益，具有强制性、非自愿性、公益性的特点。

根据上述定义，下列不属于强制医疗的是：

- A.在防治传染性非典型肺炎的过程中，对非典患者实施强制的隔离治疗
- B.徐某好打抱不平，为邻居(残疾人)宅基地纠纷状告乡政府并“越级上访”，结果被关精神病院6年半
- C.王某因吸毒产生幻听、精神障碍持刀挟持店老板，有关部门对其采取强制戒毒措施
- D.冯某在精神病发病期间采用暴力方式对林某及其家属进行人身威胁，于是被送到医院

解析：

参考答案：B

36、

我国在向社会主义转变时期对资本主义工商业采取的策略是（）

- A.和平赎买
- B.强制征收
- C.共同经营
- D.任其发展

解析：

参考答案：A

37、

水坝是为了保障水量不受天气和环境的左右、并始终保持一定的数量而修建的建筑物。水坝式经营指在经营过程中，企业应随时保留一定的后备力量，即景气时要为不景气做准备的一种经营管理方式。

根据上述定义，下列不符合水坝式经营的是_____。

- A.未雨绸缪
- B.居安思危
- C.防微杜渐
- D.曲突徙薪

解析：

参考答案：C

[解析]

水坝式经营的关键在于提前做好准备。选项A，“未雨绸缪”是指趁着天没下雨，先修缮房屋门窗，比喻事先做好准备；选项B，“居安思危”是指处在安定的环境而想到可能会出现的危难；选项C，“防微杜渐”是指在错误或坏事萌芽的时候及时制止，而非提前准备防止错误或坏事发生；选项D，“曲突徙薪”是指提前把烟囱改建成弯的，把灶旁的柴禾搬走以防止火灾。故本题选C。

38、

惯性收视是指电视观众在选择电视频道时，出现习惯性的消费模式，导致电视的收视不均。即如常固定于单一电视频道，对其他电视频道的节目内容与品质就欠缺了解。此类情形也可延伸到其他领域。

根据上述定义，下列选项体现惯性收视的是_____。

A.大多数消费者常会受广告的影响而选择购买某品牌的化妆品，但一段时间后觉得不适合自己，便改换成了其他品牌

B.小丽觉得套装商品便宜，只要有套装产品，不论什么品牌的她都会去购买，但有时遇上单品促销时她也会去抢购

C.小李是个典型宅男，自网店兴起后，家里的物品一律网购而不再去实体店

D.小白一家对某品牌牛奶特别信赖，每次买牛奶都只购买这一种品牌

解析：

参考答案：D

[解析]

惯性收视的定义关键点是“固定”“对其他.....欠缺了解”。A项的“更换其他品牌”，B项的“但有时遇上单品促销时她也会去抢购”，C项的“不再去实体店”说明小李在网店兴起之前是去实体店购物，均不符合定义关键点“固定”。D项，“只购买这一种品牌”符合定义。故答案为D。

39、

123，456，789，_

A.1122

B.10112

C.11112

D.100112

解析：

参考答案：A

[解析]

从形式上可以得到规律，123，456，789，那么空缺项会不会是101112呢?其实这时应该想到等差数列第一项为123，第二项456，第三项为789，三项中相邻两项的差都是

333，所以应把上面数列看作是一个等差数列，那么未知项应该是789+333=1122，故正确答案为A。

40、

①我最初只看到满眼繁花，多半是叫不出名字，只是_____而已。

②大作家的出现，往往不是_____的。在他的同时，或稍前，或稍后，总有一批才华横溢的作家围绕着他，宛若群星之与北斗，相互辉映着，布成灿烂的星空。

③在冬天做客的雪往往是鹅毛大雪，这种通常是需要呼啸的风声鸣锣开道的，需要鹤犍鸾车_____的。

填入画横线部分最恰当的一项是：

A.眼花缭乱 孤立 虚张声势

B.目不暇接 偶然 相映成趣

C.眼花缭乱 偶然 渲染烘托

D.目不暇接 孤立 交相辉映

解析：

参考答案：A

41、

(1)南征北战，解放中国，成为开国元勋

(2)南昌起义，加入中国工农红军

(3)参加北伐战争，作战勇猛，战功赫赫

(4)抗日战场逞英豪，八路军中树威名

(5)爬雪山，过草地，克服重重险恶

A.2—3—5—4—1

B.4—2—5—3—1

C.3—2—5—4—1

D.2—5—3—1—4

解析：

参考答案：C

[解析] 此题讲述的是一位共和国开国元勋的战斗史，注意各个事件的时间顺序，即北伐战争—南昌起义—长征—抗日战争—解放战争。

42、

大自然能给我们许多启示：青松不惧风雪，是在告诉我们做人要坚毅刚强；成熟的稻穗低着头，那是在启示我们要谦虚；一群蚂蚁抬走骨头，那是在启示我们要_____。

填入画横线部分最恰当的一项是_。

A.共同努力

B.自食其力

C.齐心协力

D.尽心尽力

解析：

参考答案：C

[解析]

文末提到的是一群蚂蚁抬走骨头，据此可排除B、D两项；文中的一群蚂蚁抬走骨头的寓意启示我们在生活中需要有合作精神，互相协调一致，“齐心协力”不仅有共同努力之意，还强调了思想的一致，所以用“齐心协力”更恰当。故选C。

43、

植入式广告是指将产品或品牌及其代表性的视觉符号甚至服务内容策略性地融入电影、电视剧或者电视节目内容中，通过场景的再现，让观众留下对产品及品牌的印象，继而达到营销的目的。

根据上述定义，下列不属于植入式广告的是：_____

- A.电影《手机》中男主角用的M牌商务手机的多次特写
- B.春节联欢晚会的小品中多次出现某品牌白酒的镜头
- C.电影放映前荧幕上播放某品牌新推出的非油炸食品广告
- D.某育儿题材的电视剧中频繁出现某品牌的婴幼儿配方奶粉

解析：

参考答案：C

[解析]

植入式广告定义的关键信息：在电影、电视剧或者电视节目内容中策略性地融入广告。C项是在电影放映前播放广告，不符合定义；其余三项均符合定义。故本题选C。

44、

拼图：纸板

- A.窗户：玻璃
- B.汽油：石油
- C.集装箱：不锈钢
- D.粉笔：石膏

解析：

参考答案：C

[解析]

本题考查对应关系。有些拼图是用纸板制成的，有些集装箱是用不锈钢制成的。注意D项是一一对应关系，故不选。本题正确答案为C。

45、

全国法院坚持问题导向，梳理原因，对症下药，精准执行，形成了一个“党委领导、人大监督、政府支持、政法委协调、法院主办、部门配合、社会各界参与”的执行工作大格局，_____了一套完善的执行工作体制机制，_____了一批完备的执行政策措施，_____了一支精明强干的执行工作队伍。

填入画横线部分最恰当的一项是：_____

- A.树立 制订 打造
- B.设立 制定 建造
- C.建立 制定 锻造
- D.创立 制订 塑造

解析：

参考答案：C

[解析]

第一空，“树立”一般与榜样、典型等搭配。“设立”一般与机构、基金会等搭配。二者与“体制机制”搭配不当，排除A、B。第二空，“制定”一般搭配法律法律、政策等。“制订”多搭配计划。对应“执行政策措施”，“制定”更恰当，排除D。验证第三空，“锻造队伍”表述无误。故本题选C。

46、

“松绑”是20世纪80年代中期企业改革的代名词，反映了当时国有企业改革的原则是_____。

- A.政企分开，所有权和经营权适当分离
- B.对民族资本进行和平赎买
- C.实行全面公私合营
- D.对企业进行股份制改造

解析：

参考答案：A

[解析] 时间是“20世纪80年代中期企业改革”，其他事件和时间不符。故选A。

47、

长诗《长恨歌》的作者是 ()

- A.李白
- B.杜甫
- C.白居易
- D.杜牧

解析：

参考答案：C

48、

人工智能：能够模仿人的智能和行为，在复杂多变的未知环境中能够感知环境和决策规划，从而主动地执行任务或者完成设定的目标。按照定义，下列属于人工智能范畴的是 ()。

- A.全自动洗衣机在使用者把衣服加进去之后，能够自动地完成注水、洗衣、换水和甩干等一系列的洗衣流程
- B.装配线机器人能够根据工程师预先设定的参数，完成不同机器设备的不同零部件的装配工作
- C.性格测试软件能够根据测试者的各种输入参数，按照设计好的算法进行计算，从而给出被测试者的性格描述
- D.日本索尼公司新研制的机器狗，能够根据人的穿着和外貌特征识别出男女，分别用“先生您好”和“小姐您好”和不同的人打招呼

解析：

参考答案：D

[解析]

由定义可知人工智能应用的环境应该是复杂多变的未知环境。A、B、C项所处的都是简单环境，都是按照预先设定的程序操作，在任何环境中都一样，只有D项是针对复杂多变的未知环境研制出来的人工智能产品。故正确答案为D。

49、

伐木 之于 _____ 正如 _____ 之于 草原

- A.破坏 保护
- B.森林 放牧
- C.木工 牧民
- D.大树 割草

解析：

参考答案：B

[解析] 利用遣词造句法。在森林中伐木，在草原上放牧，逻辑关系一致。故选B。

50、

某国近年来放松了对销售民用枪支的管制，枪击案发生率快速上升。据统计，大多数枪击案与合法购置的民用枪支被滥用有关，所以有人提出为减少该国的枪击案发生率，政府应该加强销售民用枪支的限制。

下列哪项最能支持以上论述?_____

- A.该国走私枪支的数量远远大于合法购置的枪支
- B.目前对枪击案罪犯的严厉惩罚没有足够的威慑力
- C.大多数在该国销售的民用枪支的杀伤力并不大
- D.严格限制销售民用枪支能得到国民的支持

解析：

参考答案：B

[解析]

论点是“为减少该国的枪击案发生率，政府应该加强销售民用枪支的限制”。如果目前对枪击案罪犯的严厉惩罚已经有足够的威慑力了，就没必要限制民用枪支销售了，因此B选项是需要限制民用枪支销售的前提。故本题选择B选项。

51、

人类历史上，技术革命往往和社会发展的_____相互作用，互为因果。今天，以微博为代表的互联网技术应用正_____着它推进社会生活各个领域发生变化的巨大潜能。

填入划横线部分最恰当的一项是：

- A.步伐 实现
- B.变革 释放
- C.速度 发挥
- D.方向 挖掘

解析：

参考答案：B

[解析]

由句意可知，第二句是对第一句的例证解说。“技术革命”与“以微博为代表的互联网技术”相呼应，“社会发展的_____”与“社会生活各个领域发生变化”相对应。与“变化”呼应的词语只能是“变革”。故本题答案为B。

52、

火车驶过长900米的铁路桥，从车头上桥到车尾离桥共用1分25秒，紧接着列车又穿过一条长1800米的隧道，从车头进隧道到车尾离开隧道用了2分40秒，则火车车身长为_____。

- A.120米
- B.100米
- C.80米
- D.90米

解析：

参考答案：A

[解析]

设车身长度为x米，则从车头上桥到车尾离桥火车行驶距离为(900+x)米，从车头进隧道到车尾离开隧道行驶距离为(1800+x)米，列方程(900+x)÷85=(1800+x)÷160，解出x=120米。

53、

一家珠宝店的珠宝被盗，经查可以肯定是甲、乙、丙、丁中的某一个人所为。审讯中，甲说：“我不是罪犯。”乙说：“丁是罪犯。”丙说：“乙是罪犯。”丁说：“我不是罪犯。”经调查证实四人中只有一个人说的是真话。

根据已知条件，下列哪个判断为真?_

- A.甲说的是假话，因此，甲是罪犯
- B.乙说的是真话，丁是罪犯
- C.丙说的是真话，乙是罪犯
- D.丁说的是假话，丁是罪犯

解析：

参考答案：A

[解析] 做这样的题可以用代入法，A项，如果甲说的是假话，那么甲就是罪犯，恰恰选A。

54、

下列做法符合宪法或者法律规定的是：

- A.省人民代表大会常务委员会制定地方性法规
- B.市人民代表大会撤销市长职务
- C.国务院各部部长连续任职超过两届
- D.县人民政府设立秘书长

解析：

参考答案：A

[解析]

根据《立法法》第六十三条，省、自治区、直辖市的人民代表大会及其常务委员会根据本行政区域的具体情况和实际需要，在不同宪法、法律、行政法规相抵触的前提下，可以制定地方性法规，A项正确；根据《宪法》第一百零一条，市人民代表大会对市长享有罢免权而非撤销权，B项错误；根据《宪法》第八十七条，总理、副总理、国务委员连续任职不得超过两届，C项错误；根据《政府组织法》第四十四条，县级以上的地方各级人民代表大会常务委员会根据省长、自治区主席、市长、州长、县长、区长的提名，决定本级人民政府秘书长、厅长、局长、委员会主任、科长的任免，报上一级人民政府备案，D项错误。所以选择A选项。

55、

下列关于推进“十二五”期间资源节约和环境保护的表述，不正确的是__。

- A.我国耕地资源有限，要加大耕地保护工作的力度
- B.提高森林蓄积量和覆盖率是“十二五”期间的重要任务
- C.提高化石能源消费的比重，以降低能耗总值和排放水平
- D.坚持保护优先和自然修复为主，加大生态保护和建设力度

解析：

参考答案：C

[解析]

“十二五”规划纲要中指出要加强资源节约和管理，提高资源保障能力，加大耕地保护、环境保护力度，加强生态建设和防灾减灾体系建设，全面增强可持续发展能力。非化石能源占一次能源消费比重提高到11.4%，单位国内生产总值能耗和二氧化碳排放分别降低16%和17%，可见，降低化石能源消费的比重，才是“十二五”期间要做的。故选C。

56、

中国游客成为世界“金主”、“土豪”疯狂购物的新闻____，世界各国商业街专门挂出中文路标、配备中国导购更是____。可是，在美国地面上升国旗、唱国歌、大合影、狂购物，样样出新、件件破格____。如果把它归结成一场简单的爱国之旅，疯狂刷出的人民币则可以解释成用消费征服美国。

填入划横线部分最恰当的一项是：

- A.习以为常 司空见惯 绝无仅有
- B.屡见不鲜 见怪不怪 实属罕见
- C.屡见不鲜 家常便饭 实属罕见
- D.习以为常 不足为奇 绝无仅有

解析：

参考答案：B

57、

外在动机是指人为了某些外在结果而从事某项活动的动机。内部动机是指动机的满足在活动之内，不在活动之外，它不需要外界的诱因、惩罚来使行动指向目标。

根据上述定义，以下属于内部动机的是_____。

- A.为了赢得父母的赞赏而去学习法语
- B.为了不被同学说不合群而参加社团活动
- C.因为想要提高自己的学习成绩而报补习班
- D.因为想要得到老师的肯定而积极发言

解析：

参考答案：C

[解析]

本题中“内部动机”定义的关键点是动机影响因素的来源为活动本身。A项中赢得父母的肯定、B项中不被同学说不合群、D项中得到老师的肯定都是外部的因素，而非活动内的因素，因此属于外部动机。故本题的正确答案为选项C。

58、

环境化学效应是指在环境条件的影响下，物质之间的化学反应所引起的环境效果。

以下现象属于环境化学效应的是_____。

- A.水体和土壤的酸化
- B.过量开采地下水，引起地面下沉
- C.大型车辆通过带来的噪声和振动
- D.工业“三废”排入江河，使水生物受到危害

解析：

参考答案：A

[解析]

以上内容仅为本文档的试下载部分，为可阅读页数的一半内容。如要下载或阅读全文，请访问：<https://d.book118.com/075324022332011343>