

2019年福建省泉州市晋江市中考地理模拟试卷（4月份）

单选题

1. (2分) 读图“某新闻网站某日发布的天气预报图”，完成1—2题。

今日： 02月23日周五 农历正月初八			周一	周二
	周六	周日	42月24日	02月27日
	02月24日	02月25日		
17-7				
11-17℃	12-20℃	12-20℃	11-WC	12-21℃
东北风	东北风	东风	东北风	东风

该日的天气为()

- A. 晴天 B. 多云 C. 阴天 D. 雷雨

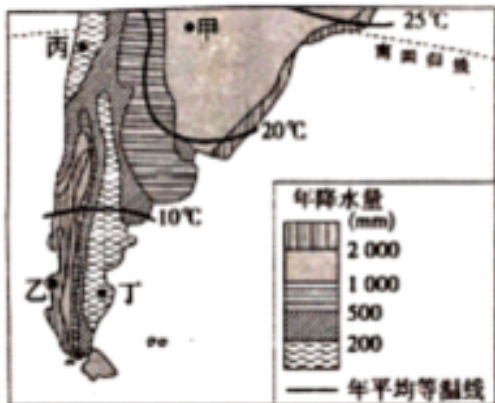
2. (2分) 读图“某新闻网站某日发布的天气预报图”，完成1—2题。

今日，02月23日周五 农历正月初八			周一	周二
	周六	周日	42月26日	02月27日
	02月24日	02月25日		
1				
11-17℃	13-20℃	12-20℃	18-W0	12-21℃
东北风	东北风	东风	东北风	东风

预报的后四天中气温日较差最大的是()

- A. 周六 B. 周日 C. 周一 D. 周二

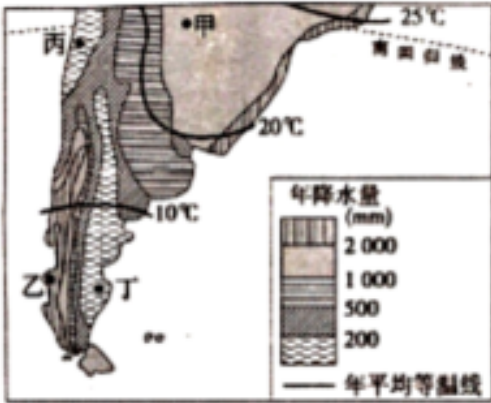
3. (2分) 读图“南美洲某区域年降水量分布与年平均等温线分布图”，完成3—5题。



导致甲、丁两地气温差异的主要因素是()

- A. 纬度位置 B. 海陆位置 C. 地形因素 D. 人类活动

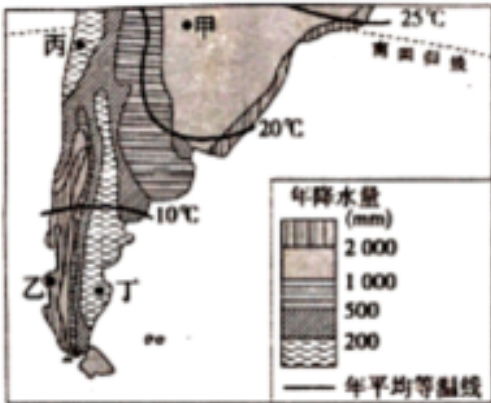
4. (2分) 读图“南美洲某区域年降水量分布与年平均等温线分布图”，完成3-5题。



关于乙丁两地降水与风向的描述，正确的是()

- A. 乙地为迎风坡降水多 B. 乙地为背风坡降水多 C. 丁地为迎风坡降水多
D. 丁地为背风坡降水多

5. (2分) 读图“南美洲某区域年降水量分布与年平均等温线分布图”，完成3-5题。



丙地的气候类型为()

- A. 热带草原气候 B. 热带雨林气候 C. 热带沙漠气候 D. 热带季风气候

6. (2分) 读漫画, 完成6-7题。



近年来，我国人口年龄结构发生了显著变化。图中漫画反映了我国（ ）

- ①人口出生率较低
- ②人口老龄化加剧
- ③人口死亡率较高
- ④人口自然增长率较高

- A. ①②
- B. ①③
- C. ②③
- D. ②④

7. (2分) 读漫画，完成6-7题。



有关我国人口、民族的说法，正确的是（ ）

- A. 人口分布西多东少
- B. 漠河—腾冲一线是我国人口分界线
- C. 三月三歌节是维吾尔族的传统节日
- D. 民族分布具有“大散居、小聚居、交错杂居”的特点

8. (2分) 随着全球变暖 and 冰川融化，穿越北冰洋，连接大西洋和太平洋的海上航道已具有商业开发价值。据此完成8-9题。

商业货船执行航行任务的时间应选择在（ ）

- A. 1-2月
- B. 4-5月
- C. 8-9月
- D. 11-12月

9. (2分) 随着全球变暖 and 冰川融化，穿越北冰洋，连接大西洋和太平洋的海上航道已具有商业开发价值。据此完成8-9题。

北冰洋沿岸通航期间，商船可能遇到的最大危险来自（ ）

- A. 暴风雪
- B. 冰山
- C. 严寒
- D. 海啸

10. (2分) 马铃薯又名土豆，原产地位于南美洲西部安第斯山区海拔高于30000 米的地区。东北地区是我国马铃薯的主产区。完成10-11题。
据材料判断，影响马铃薯生长最主要的条件是()

- A. 丰富的水源 B. 肥沃的黑土 C. 温凉的气候 D. 平坦的地形

11. (2分) 马铃薯又名土豆，原产地位于南美洲西部安第斯山区海拔高于30000 米的地区。东北地区是我国马铃薯的主产区。完成10-11题。
仅考虑自然条件，东北平原最适宜马铃薯生长的时间是()

- A. 11、 12、 1月 B. 3、 4、 5月 C. 6、 7、 8月 D. 7、 8、 9月

12. (2分) 如图是小云和爸爸暑假期间观光旅游时拍摄的照片，根据照片及相关介绍，完成12-13题。



小云：神奇的雪域高原，
壮观的布达拉宫

小云所说的“雪域高原”指的是()

- A. 青藏高原 B. 内蒙古高原 C. 云贵高原 D. 黄土高原

13. (2分) 如图是小云和爸爸暑假期间观光旅游时拍摄的照片，根据照片及相关介绍，完成12-13题。



小云：神奇的雪域高原，
壮观的布达拉宫

小云发现藏南谷地为该区农田、城市最集中的区域，藏南谷地最大优势是()

- A. 纬度较低，交通便利 B. 地形平坦，交通便利 C. 海拔较低，热量较充足

D. 距海较近，水分较充足

14. (2分) 读图“我国某城市简图”，完成14-15题。



图中城市呈东西向带状分布的主要影响因素是()

- A. 气候 B. 人口 C. 河流 D. 工业

15. (2分) 读图“我国某城市简图”，完成14-15题。



在城区内可以见到些带十字架的尖顶宗教建筑，这种建筑与哪种宗教有关()

- A. 伊斯兰教 B. 基督教 C. 佛教 D. 道教

16. (2分) 读图西气东输路线图”，完成16--17题。



图中西气东输工程的运输方式是()

- A. 铁路运输 B. 公路运输 C. 河流运输 D. 管道运输

17. (2分) 读图西气东输路线图”，完成16--17题。



图中西气东输工程不穿越的地形区是()

- A. 河西走廊 B. 黄土高原 C. 东北平原 D. 长江中下游平原

18. (2分)徐霞客生志在四方，“达人所之未达，探人所之未知”，被称为“千古奇人”。《徐霞客游记》开篇日5月19日被国务院确定为“中国旅游日”，据此完成18-20小题。

徐霞客在考察了广西、贵州、云南后，对这一带的地貌作了总结：“峭峰离立，分行竞颖”。说明当地地形特点是()

- A. 远看成山，近看成川 B. 地形破碎，山道崎岖 C. 地势低平，河网密布
D. 千沟万壑，支离破碎

19. (2分)徐霞客生志在四方，“达人所之未达，探人所之未知”，被称为“千古奇人”。《徐霞客游记》开篇日5月19日被国务院确定为“中国旅游日”，据此完成18-20小题。

云南腾冲一带“架竹为巢，下畜牛豕，而上托囊(cuan)卧(上方是架锅烧火和睡觉的地方)”。这种建筑反映了该地区的气候()

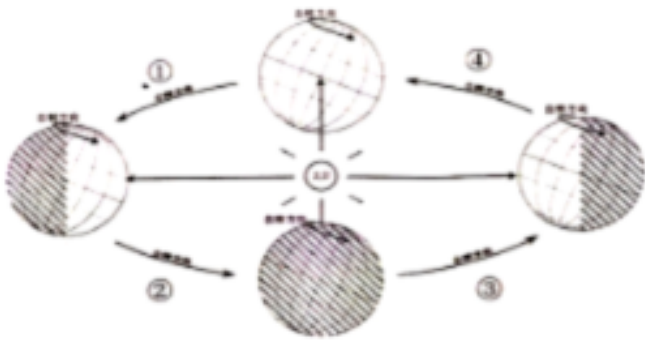
- A. 降水较多 B. 干燥少雨 C. 四季分明 D. 长冬无夏

20. (2分)徐霞客生志在四方，“达人所之未达，探人所之未知”，被称为“千古奇人”。《徐霞客游记》开篇日5月19日被国务院确定为“中国旅游日”，据此完成18-20小题。

云南各地自然条件差异大，民族众多，风俗各异，《徐霞客游记》中记载了当地少数民族的许多风俗习惯和生活场景。下列属于该地区少数民族风俗的是()

- A. 开斋节 B. 那达慕大会 C. 泼水节 D. 元宵节

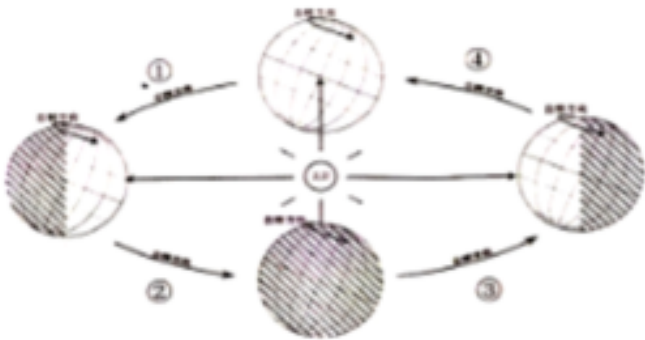
21. (2分) 2019年1月11日，我国嫦娥四号着陆器与玉兔二号巡视器完成两器互拍，达到工程既定目标，标志着嫦娥四号任务圆满成功。读图“地球公转示意图”，完成21-22题。



嫦娥四号着陆器与玉兔二号巡视器完成两器互拍，地球在公转轨道上所处的位置是()

- A. ① B. ② C. ③ D. ④

22. (2分) 2019年1月11日，我国嫦娥四号着陆器与玉兔二号巡视器完成两器互拍，达到工程既定目标，标志着嫦娥四号任务圆满成功。读图“地球公转示意图”，完成21-22题。



此时，晋江市昼夜长短的状况是()

- A. 昼短夜长 B. 昼长夜短 C. 昼夜等长 D. 无法判定

23. (2分) 寒假贝贝全家去福建省旅游，领略了当地优美的自然风光和人文景观，结合所学知识完成23-25小题。贝贝提前搜集了有关福建的风土人情资料，与事实不符的是()

- A. 福建省简称闽，行政中心福州 B. 福建省大部分地区为亚热带季风气候
C. 福建省南隔琼州海峡与海南省相望 D. 福建省地形以山地、丘陵为主

24. (2分) 寒假贝贝全家去福建省旅游，领略了当地优美的自然风光和人文景观，结合所学知识完成23-25小题。贝贝全家在福建可能游览了()

- A. 滇池 B. 西湖 C. 武夷山 D. 武陵源

25. (2分) 寒假贝贝全家去福建省旅游，领略了当地优美的自然风光和人文景观，结合所学知识完成23-25小题。如图蚵壳厝是福建沿海独特的古民居，它的墙壁由海蛎壳和砖石砌成。该民居最有可能位于()



- A. 泉州市 B. 三明市 C. 南平市 D. 宁德市

综合题

1. (9分) 北京和张家口联合举办2022年冬奥会。读图1“张家口某滑雪场等高线图”，回答下列问题。

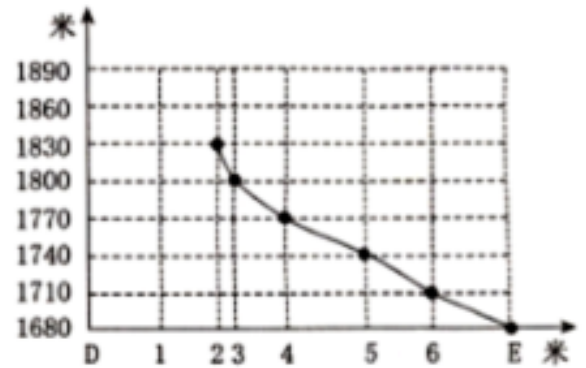


图1

图2

- (1) 从地形类型上看，该滑雪场所在的地区主要是_____。
- (2) 滑雪赛道L2是沿_____ (地形部位名称) 而建，而服务大厅则建在_____处 (地形部位名称)。A、B两点的图上距离为2厘米，则实际距离是_____米。
- (3) 滑雪者在L3赛道上滑行，下滑行进方向大致是_____。
- (4) 从安全的角度出发，在三条赛道中较适合初级滑雪爱好者的赛道是_____，说明理由_____。
- (5) 为满足冬奥会的需求，拟在图示区域中修建条高速公路，其中1至2段工程建设的需求是_____。



A. 架设桥梁



B. 开凿隧道



C. 开盘山道



D. 修立交桥

- (6) 工程需要绘制DE段地形剖面图，请将图2中缺失的地形剖面线补充完整。

以上内容仅为本文档的试下载部分，为可阅读页数的一半内容。如要下载或阅读全文，请访问：<https://d.book118.com/078135120024007011>