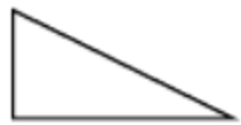


卷一

一、填空。

1. 下面的图形各是几边形？各有几个角？是直角的要画上标记。



() 边形

() 个角



() 边形

() 个角



() 边形

() 个角

边形

个角

2. 在() 里填上合适的长度单位。



3. (1) 389 里面有() 个百、() 个十和() 个一。

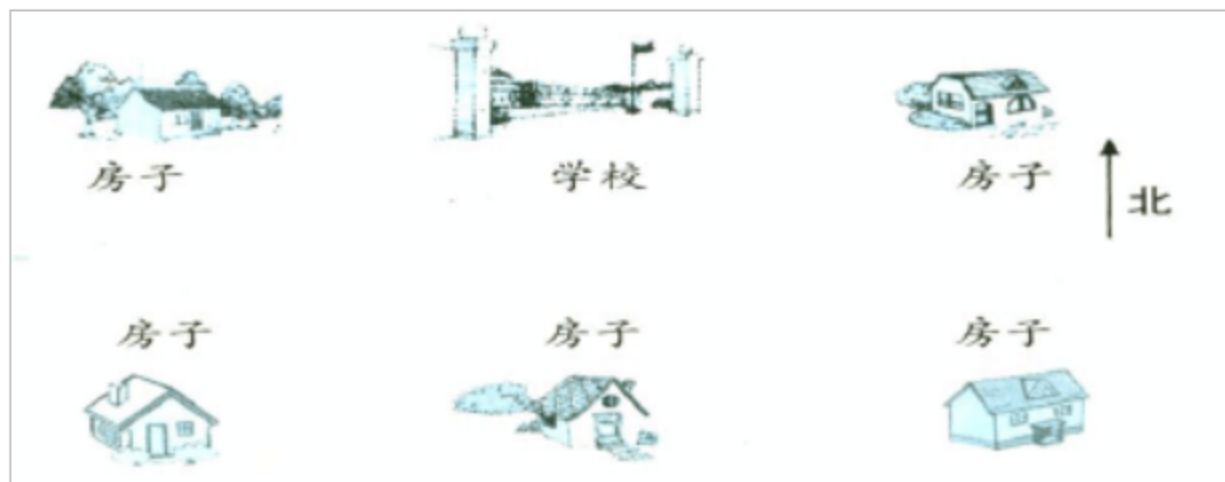
(2) 30 个十是() ；6 个百和 4 个一合起来是() 。

4. 在○里填>、<或=。

403 ○ 430 535 ○ 353 8 米 ○ 80 分米 90 毫米 ○ 9 分米

59 × 8 ○ 95 × 8 7 × 73 ○ 73 × 7 365 + 197 ○ 600 632 - 198 ○ 400

5. 你能帮小朋友找到各自的家吗？在每幢房子旁边写上小朋友的名字。



- (1) 玲玲家在学校的东南面，萍萍家在学校的南面，红红家在学校的西南面。

(2) 萍萍家的东北面是冬冬家，萍萍家的西北面是婷婷家。

6. (1) 画一条长 15 毫米的线段。

(2) 画出一条长 1 分米的线段。

二、计算。

1. 口算。

$$170 - 70 = \quad 40 + 500 = \quad 900 \quad - 300 = \quad 40 \quad \div 8 = \quad 130 \quad - 80 =$$

$$60 + 90 = \quad 800 + 20 = \quad 1000 \quad - 400 = \quad 7 \quad \times 9 = \quad 45 \quad \div 5 =$$

2. 用竖式计算。

$$57 \times 6 = \quad 3 \quad \times 49 = \quad 78 \quad \times 5 = \quad 32 \quad \div 7 =$$

$$72 \div 8 = \quad 41 \quad \div 9 = \quad 475 + 227 = \quad 380 - 83 =$$

4. 在结果小于 500 的算式后面的□里画“√”。

$$960 \quad - 398 \square \quad 751 \quad - 98 \square \quad 203 + 304 \quad \square \quad 195 + 207 \quad \square$$

三、解决问题。

1.

上午浇了 436 盆花, 下午浇了 275 盆, 还剩下 164 盆没浇。

已经浇了多少盆花?


一共有多少盆花?

2.

白菜 15 筐

萝卜的筐数比白菜的 3 倍少 7 筐。

萝卜有多少筐?



(1) 二年级收集的电池节数比一年级和三年级收集的总和少 199 节，二年级收集了多少节？

(2) 三年级再收集多少节就和一年级收集的同样多？

(3) 三个年级一共收集废旧电池多少节？

(4) 自己提出一个数学问题并且解答出来。

卷二

一、口算下面各题。

$300+400=$	$430-30=$	$80+600=$	$650-600=$	$200+800=$
$900-500=$	$160-100=$	$700+80=$	$50+70=$	$60+80=$
$70+40=$	$80+90=$	$180-90=$	$130-60=$	$150-70=$
$110-80=$	$45 \div 9=$	$1000-300=$	$8 \times 9=$	$400+600=$
$40 \times 4=$	$60 \times 8=$	$60 \times 5=$	$90 \times 3=$	$33 \times 2=$
$4 \times 21=$	$2 \times 13=$	$13 \times 3=$	$40 \div 7=$	$81 \div 9=$

二、填空题。

1. 动物标本小组收集了 35 只蝴蝶，平均放在 4 个盒里，每盒放() 只，还剩() 只。

2. 读一读，写一写。

七百八十六_____ 四百二十_____ 九百零三_____

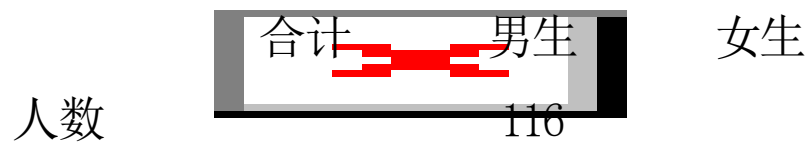
78 ÷ 8 = 4 × 82 = 56 × 9 = 97 × 2 =

四、下面是中山小学低年级、中年级和高年级参加运动会的人数统计。

1. 请你把这份统计表填写完整。

- (1) 中年级参加运动会的人数是低年级的 2 倍；
- (2) 高年级参加运动会的人数比低年级的 3 倍少 27 人。

	合计	低年级	中年级	高年级
人数		38		



五、操作题。

1. 画一条比 4 厘米少 5 毫米的线段。 2. 添一条线，增加两个直角。



六、解决问题。

1.

我分得糖的块数比你的 3 倍少 8 块

我分了 28 块糖



明明 兰兰

- (1) 兰兰分得多少块糖？ (2) 明明和兰兰一共分得多少块糖？

2.



大雁 37 只。

鸭的只数是大雁的 3 倍

鹅比鸭多 89 只

鸭和鹅各有多少只？

3.



8 元 24 元 19 元 4 元

- (1) 买 6 副羽毛球拍要多少钱？
- (2) 买 8 副乒乓球拍要多少钱？
- (3) 买 43 根跳绳和 17 个皮球一共要多少钱？

卷三

1 . 填上合适的长度单位。

- (1) 教室长大约 8()
- (2) 写字台宽 6()
- (3) 铅笔盒长 17()
- (4) 数学书厚 6()

2 . 6 个百和 4 个一组成的数是() 30 个十是()

3 . 最大的三位数比最小的四位数少() 。

4 . 按规律填数。

301 、 302、 303、 ____、 ____ 469 、 459、 449、 ____、 ____

5 . 40 厘米=() 毫米 30 分米=() 厘米

1 分米=() 毫米 50 分米=() 米

6 . 按从短到长的顺序排列

10 厘米 1 米 70 毫米 8 厘米 5 毫米

7 . $37 \div 6 = () \dots\dots () () \quad \div 5 = 4 \dots\dots 4$

8 .



图中共有() 个角,
有() 个直角, () 个锐角, () 个钝角。

二、计算。

1 . 口算。

$170 - 70 =$ $40 + 500 =$ $7 \text{ 米} \times 9 =$ $45 \div 5 =$

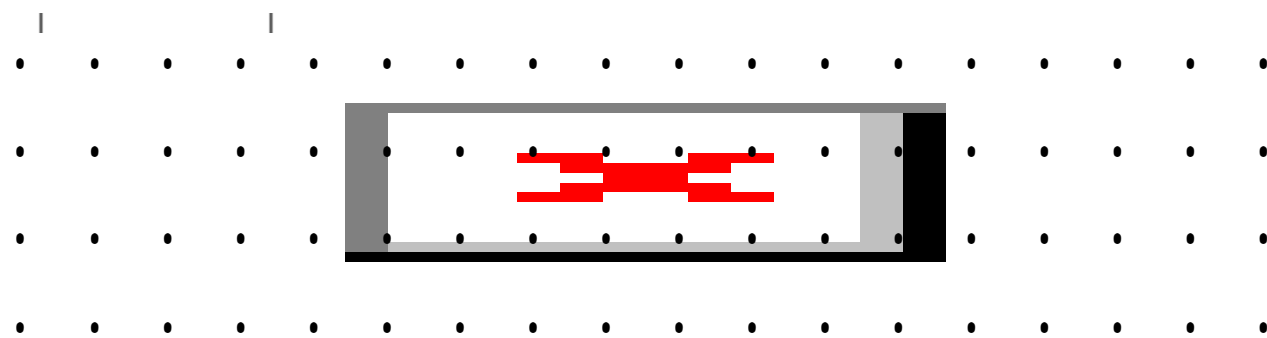
$1000 - 400 =$ $800 + 20 =$ $40 + 500 =$ $20 \div 3 =$

2 . 用竖式计算。(带*的要验算)


$57 \times 6 =$ $41 \div 9 =$ $*600 - 532 =$ $*195 + 207 =$

三、操作。

1 . 先量一量下面线段的长度, 再画一条比它长 25 毫米的线段。



3. 在下面两个钟面上画出两个直角。



四、解决实际问题。

1. 二年级有学生 150 人，其中男生 78 人，女生有多少人？女生比男生少多少人？

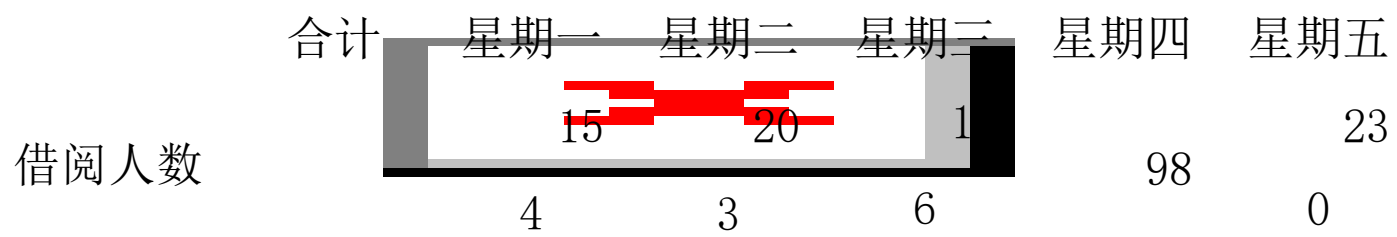
2. 三年级学生分成 8 个小组学游泳，每组 9 人，其中已经学会游泳的有 58 人，没学会的有多少人？

3.



4.





- (1) 本周中，星期() 借书的人最多，星期() 借书的人最少。
- (2) 根据每天借书的人数按从大到小的顺序排一排。
- (3) 算出上表中的合计数，再把下表填写完整。

	合计	男生	女生
借阅人数		407	

卷四


一、填空。 39分(其余每空1分)

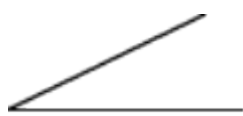
1、从 2、0、8、1 中选出三个数字组成不同的三位数。 其中最大的数是()，最小的数是()，它们的差是()。 4分

2、一个酒瓶高 30()，一枝铅笔长 180()，一棵大树高 7()。

3、一个数比最大的两位数多 45，这个数是()。 2分

4、10 分米=()厘米 300 厘米=()米 40 毫米=()厘米

5、下面的角分别是什么  写出来。



()



()

()

6、8 个十、5 个百和三个一组成的数是()。804读作()。二百四十九写作()。



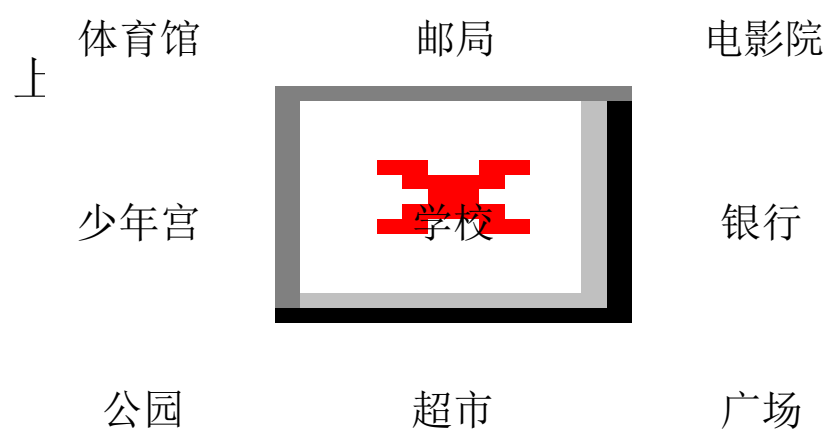
() ÷ () = () (束) …… () (个)

8、调换加数的位置，和()。()同()相加，结果等于被减数。

9、一个角有()个顶点，()条边。角的大小与()没有关系。

10、36 的 3 倍是()，比 22 的 3 倍少 7 的数是()。4 分

12、看图填空。



学校 600 米，小华和小红家在同一条直线上()米。2 分

从图中可以看出：(1)学校的南面广场的西北面有是()，公园的东面是()，()，学校的东南面是()，邮局的西面是()。(2)从学校到电影院可以向()到()，再向()就到。

二、选择。 8 分(将正确答案的序号填在括号里)

1、75 × 4 下面的三个得数()个可能是正确的。 (1)280 (2)300 (3)320

2、在有余数的除法中，商比除数()。 (1)大 (2)小 (3)不能比

3、与东南方向相反的是() (1)东北 (2)西北 (3)西南

4、我们的三角板上的直角与黑板上的直角()

(1)黑板上的直角大 (2)三角板上的直角小 (3)两个一样大

三、用竖式计算。前 3 小题要验算。 11 分

$$50 \div 7$$

$$536 + 289$$

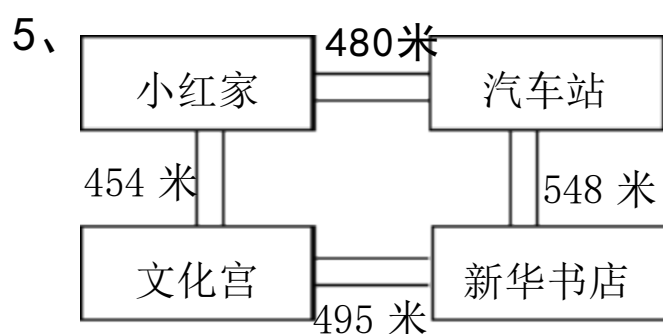
$$810 - 568$$

$$56 \times 8$$

四、解决问题。 42 分

1、书店运来一批科技书，卖了 3 天，每天卖了 96 本，还剩 342 本，运来科技书多少本？

- 2、一本故事书有 100 页，我看了 9 天，还剩 55 页，我每天看了多少页？
- 3、小军家养了 24 只母鸡， 母鸡的只数是公鸡的 3 倍， 小军家养了多少只鸡？
- 4、12 元买了 3 瓶饮料， 买 5 瓶饮料需要多少元呢？



小红要去新华书店买书， 哪条路最近， 近多少米？

- 6、王明最爱吃的一种钙片， 一瓶装有 48 片， 按规定每天两次， 每次三片， 这瓶该片能吃几天？
- 7、小明有 8 元钱， 小红有 14 元钱， 小红应该给小明多少元钱， 两人的钱数才一样多？
- 8、小红有 18 张纸， 比小华少 2 张。 他俩一共有几张纸？

卷五

一、填空。

- 1、八百九十九写作_____， 它后面的三个数分别是_____、_____、_____。

以上内容仅为本文档的试下载部分， 为可阅读页数的一半内容。 如要下载或阅读全文， 请访问：
<https://d.book118.com/087025000134006066>