

# 2025 年人教版（2024）九年级地理上册阶段测试试卷 25

## 考试试卷

考试范围：全部知识点；考试时间：120 分钟

学校：\_\_\_\_\_ 姓名：\_\_\_\_\_ 班级：\_\_\_\_\_ 考号：\_\_\_\_\_

### 总分栏

题号	一	二	三	四	五	六	总分
得分							

评卷人	得分

### 一、选择题(共 8 题，共 16 分)

1、关于南亚地形的描述不正确的是（ ）

- A. 南亚自北向南可分为三大地形区
- B. 北部是高大的山地
- C. 中部为平原
- D. 南部德干高原东高西低

2、长江最上源称（ ）

- A. 通天河
- B. 沱沱河
- C. 卡日曲
- D. 金沙江

3、亚洲是世界第一大洲；主要原因是（ ）

①跨纬度最广 ②面积最大 ③周围被大面积海洋包围 ④东西距离最长。

- A. ①②
- B. ②④
- C. ①②③
- D. ①②④

4、有一位建筑师，想要建造一座房子，房子四面的窗户都对着北方，应当说这样的房子是可能的，你认为应该建在（ ）

- A. 北极点上
- B. 南极点上
- C. 赤道和 0 度经线的交叉点上
- D. 赤道和 180 度经线的交叉点上

5、当漫步在新马泰海滨；扑面而来的是温暖的热带气息。令人神往的海滩，茂盛的橡胶园和油棕树，浓郁的宗教文化和众多的佛教建筑 无不吸引着旅游爱好者。据此，回答 9--10 题。

材料中提到的“新马泰”指的是（ ）

- 
- A. 新加坡、马来西亚、泰国
  - B. 新加坡、马六甲、泰国
  - C. 新西兰、马六甲、泰国
  - D. 新加坡、马尔代夫、泰国

6、关于亚洲地理位置的叙述，正确的是（ ）

- A. 跨热、温、寒三带
- B. 全部位于北半球
- C. 跨经度最广的大洲
- D. 大部分位于高纬度

7、东南亚地区旅游资源丰富，小红的爸爸游览该地区后给，把一些国家的景点照片让小红整理。下列整理结果与事实符合的是（ ）



吴哥窟



花园城市



水上市场



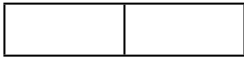
下龙湾

8、下列关于我国夏季气温分布的叙述，正确的是（ ）

- A. 我国夏季南北温差大
- B. 漠河由于纬度高，是我国夏季气温最低的地方
- C. 我国大多数地方普遍高温，南北温差不大
- D. 夏季气温最高的地方是我国纬度最低的曾母暗沙

评卷人	得分
-----	----

 二、多选题(共 7 题，共 14 分)



9、(多选) 香港在国际上的地位是 ( )

- A. 最繁忙的航空港之一
- B. 最大的工业城市
- C. 人口最多的城市
- D. 世界进出口船舶最多的商港之一

10、关于澳门的叙述正确的是 ( )

- A. 位于珠江东侧，北与珠海接壤
- B. 面积约 16 平方千米，人口 400 万
- C. 经济以赌博业和旅游业为主
- D. 1999 年 12 月 20 日回归祖国

11、美洲经济发展很不平衡，其中最发达的两个国家是: ( )

- A. 美国
- B. 巴西
- C. 加拿大
- D. 阿根廷

12、关于欧洲西部说法正确的是 ( )

- A. 大多数国家是发达国家
- B. 工业以进口原材料，出口工业制成品为主
- C. 农业发达，在国民经济中的比重很大
- D. 旅游业发达

13、被誉为“塞上江南”的两大平原是 ( )

- A. 华北平原
- B. 东北平原
- C. 宁夏平原
- D. 河套平原

14、下列有关国家、河流、河流注入的海洋、首都、气候类型对应正确的一组是 ( )

- A. 越南--湄南河--太平洋--河内--热带雨林气候
- B. 缅甸--伊洛瓦底江--印度洋--内比都--热带季风气候
- C. 马来西亚--湄公河--印度洋--吉隆坡--热带雨林气候
- D. 泰国--湄南河--太平洋--曼谷--热带季风气候

15、有关世界气温、降水的分布规律叙述正确的是 ( )

- A. 低纬度气温低，高纬度气温高
- B. 同纬度，陆地气温高于海洋
- C. 赤道降水多，两极降水少
- D. 南北回归线附近，大陆东岸降水多，西岸降水少

评卷人	得分

### 三、填空题(共 5 题, 共 10 分)

16、读俄罗斯图(图 1) 填空:



图1



图2

(1) 俄罗斯是世界上面积最大的国家, 地跨亚欧两洲, 是传统上的\_\_\_\_(大洲) 国家。  
俄罗斯的首都是\_\_\_\_\_。

(2) 河流: ⑨\_\_\_\_; 铁路: ⑦\_\_\_\_\_。

以俄罗斯“第二大城市和重要港口”为中心的工业区是\_\_\_\_\_。

(3) 读日本地图(图 2) 和俄罗斯地图(图 1); 比较日本和俄罗斯的工业区分布的差异。

(4) 该国的河流大多注入哪片海洋? 说说这些河流的流向与地形地势之间的关系。

17、读图回答:

(1) 第 16 届亚运会于 2010 年 11 月 12 日至 27 日在中国广州举行。广州是图中\_\_\_\_省(填字母)的行政中心, 该省简称\_\_\_\_, 南部濒临\_\_\_\_海。

(2) 上海世界博览会(Expo2010) 于 2010 年 5 月 1 日到 10 月 31 日, 在中国举行, 上海位于图中\_\_\_\_处(填字母), 它的简称是\_\_\_\_或\_\_\_\_\_。

(3) 2010 年 4 月 14 日青海省玉树发生了 7.1 级地震, 截止 5 月 30 日下午 18 时, 玉树地震已造成 2598 人遇难, 失踪 270 人。青海省位于图中\_\_\_\_处(填字母), 行政中心是\_\_\_\_\_。

(4) 我国纬度最高的省区是\_\_\_\_(填字母), 它的北部与\_\_\_\_(国家) 相邻。



18、我国陆上邻国中, 面积最大的国家是\_\_\_\_, 人口最多的国家是\_\_\_\_\_。

19、从经济发展水平看, 亚洲大部分国家属于\_\_\_\_ 国家。

20、读中国部分区域图; 结合资料回答下列问题。

材料: 图 1 中阴影部分东西狭长; 南北窄小, 像一条带子缠绕在渭河北部, 以干旱严重闻名, 被称为“旱腰带”。该地地形破碎, 起伏大, 属于水土保持重点治理区。这里人口密集, 且贫困人口多, 是扶贫开发重点区。

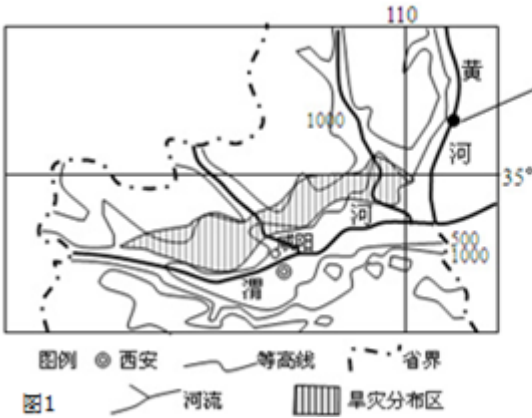


图2

- (1) 图2中照片拍摄的是黄河著名的\_\_\_\_瀑布；位于高原腹地的两省交界处。
- (2) 图1中西安是\_\_\_\_省的行政中心。
- (3) 图1中阴影部分地形破碎，起伏大，是形成这一自然景观的主要原因。请你给出这里生态建设的合理化建议\_\_\_\_（一条即可）。
- (4) 黄河流域是我国重要的能源基地，图示地区煤炭资源丰富，\_\_\_\_省是我国煤炭产量最大的省。

评卷人	得分

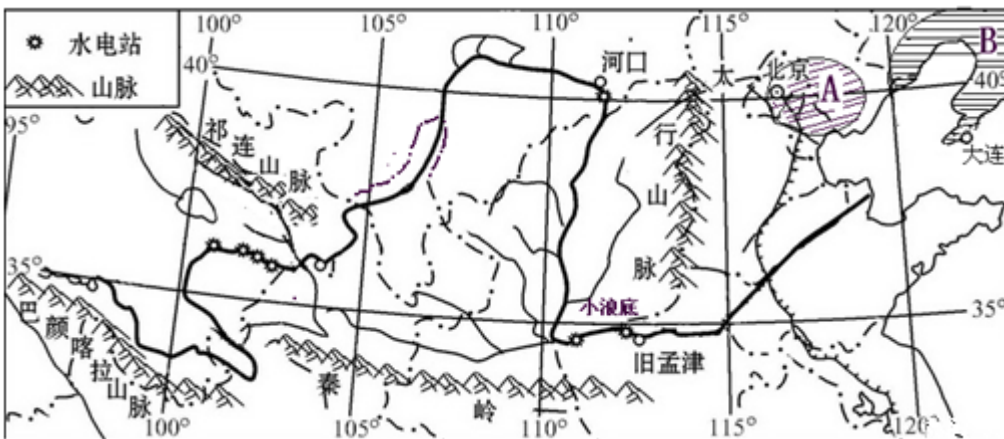
#### 四、判断题(共4题，共12分)

- 21、一般说来，低纬度气温低，高纬度气温高\_\_\_\_。（判断对错）
- 22、方位角是由标准方向线北端或者南端开始顺时针方向到某一直线的夹角。\_\_\_\_。
- 23、地球的赤道周长约4万千米\_\_\_\_。（判断对错）
- 24、我国是亚洲西部，太平洋东岸的国家。\_\_\_\_（判断对错）

评卷人	得分

#### 五、简答题(共4题，共16分)

25、读黄河流域图；回答问题。



- (1) 黄河发源于\_\_\_\_高原；大致呈“几”字形自西向东注入\_\_\_\_海。从黄河的流向可以看出，图示区域内的地势特征是\_\_\_\_\_。

(2) 黄河上游的两大支流分别是湟水和\_\_\_\_\_；图中所示的小浪底水电站位于黄河的\_\_\_\_\_游；从图中呈现的地理信息可以看出：黄河下游接纳的支流很少，其主要原因是泥沙淤积，河床抬高，形成了\_\_\_\_\_河。

(3) 太行山脉是我国一条重要的地理分界线；它既是山西省与\_\_\_\_\_省的分界线，也是黄土高原与\_\_\_\_\_平原的分界。

(4) 图中 A、B 两工业基地的名称分别是\_\_\_\_\_和\_\_\_\_\_；它们能成为工业基地的优势条件是\_\_\_\_\_、\_\_\_\_\_（两个即可）。

26、根据图文资料完成下列问题：

我国地区差异巨大；各地依托不同条件，既可以发展具有不同特色的经济，也可以加强区域之间的联系，发挥各自的优势，分工合作，获得最大效益。

(1) 参考图中对 A 地区的描述；在空白框中完成对 B 地区的描述。

(2) 分析 B 地区成为我国重要的商品粮基地的条件有哪些？（任写两点即可）

(3) A 地区有我国最大的综合性工业基地，该工业基地发展的有利条件有哪些？（任写两点即可）针对其发展中的不利条件采取了什么措施？



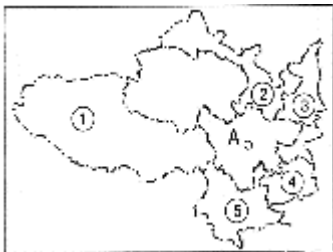
27、美国东北部地区是美国资本主义发展最早的地区，根据你所学过的知识概括其工业发展的有利条件：（请从地理位置，工业发展基础，自然资源，技术劳动力等方面分析）

28、读图；回答问题：

(1) A 省名称是\_\_\_\_\_；其行政中心为\_\_\_\_\_。

(2) 与 A 省相邻的省级行政单位名称及其简称：

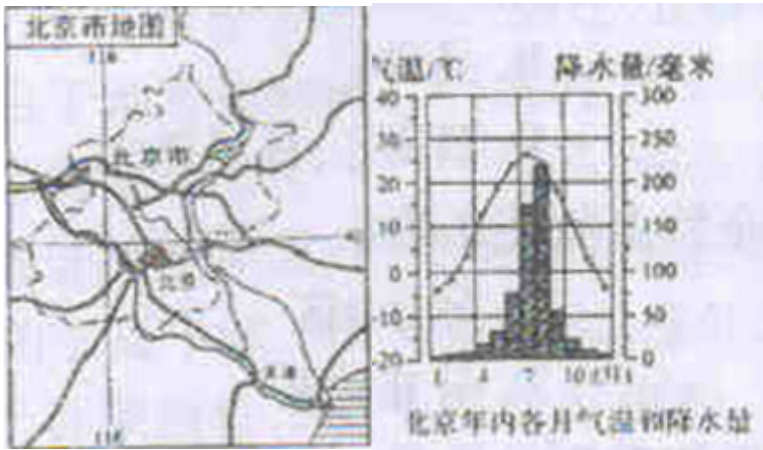
- ①名称\_\_\_\_\_；简称\_\_\_\_\_；
- ②名称\_\_\_\_\_；简称\_\_\_\_\_；
- ③名称\_\_\_\_\_；简称\_\_\_\_\_；
- ④名称\_\_\_\_\_；简称\_\_\_\_\_；
- ⑤名称\_\_\_\_\_；简称\_\_\_\_\_。



评卷人	得分

六、连线题(共 2 题，共 10 分)

29、读下面三幅图，回答下列问题。



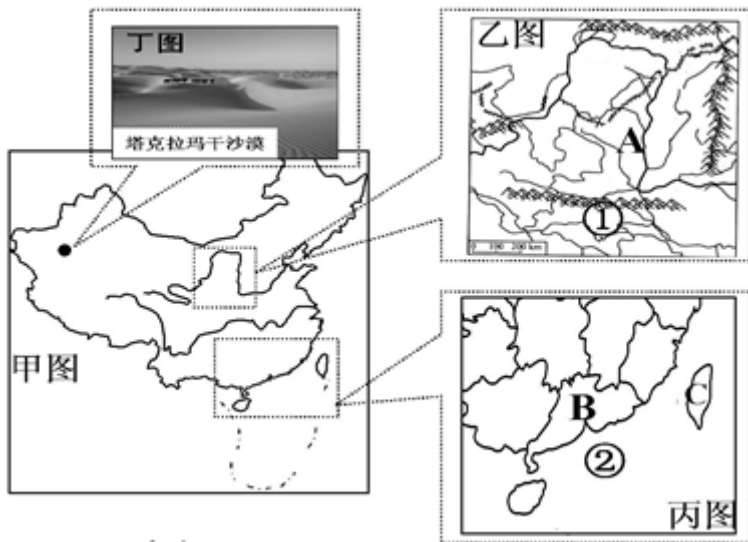
- (1) 北京地势由\_\_\_\_\_向\_\_\_\_\_倾斜。
- (2) 北京的主要城市职能是全国的\_\_\_\_\_、\_\_\_\_\_中心，还是\_\_\_\_\_中心，上方最右图是北京奥运会的主场馆建筑，名称是\_\_\_\_\_。
- (3) 北京大致位于 40°N，属\_\_\_\_\_气候，气候特点是夏季\_\_\_\_\_，冬季\_\_\_\_\_。
- (4) 如果有机会去北京，你最想参观哪三个名胜古迹\_\_\_\_\_、\_\_\_\_\_、\_\_\_\_\_。



loading...

30、

读下图，完成下列各题。(每空 1 分，共 5 分)



- (1) A 处位于 (地形区), 该地区植被破坏严重。
- (2) 简要说明 A 地和 B 地发展农业生产共同有利的气候条件:。
- (3) B 地所在的珠江三角洲以型经济为主。
- (4) 丁图景观反映我国的西北地区的自然环境特征是, 造成这一自然环境特征的主要原因是。

loading...

---

# 参考答案

## 一、选择题(共 8 题, 共 16 分)

1、D

【分析】

【分析】南亚北部是喜马拉雅山脉, 中部是印度河平原和恒河平原, 南部是德干高原。

【解析】

【解答】解: 南亚自北向南可分为三大地形区; 地势特点是南北高; 中间低, 南亚北部是喜马拉雅山脉, 中部是印度河平原和恒河平原, 南部是德干高原。德干高原的河流自西向东注入孟加拉湾, 故地势西高东低; 故 D 符合题意。

故选: D.

2、B

【分析】

【分析】长江发源于青藏高原唐古拉山脉主峰各拉丹冬峰, 干流先后流经青海、西藏等 11 个省级行政区域单位, 最终注入东海。长江全长 6300 多千米, 流域面积 180 多万千米<sup>2</sup>, 年径流量约 10000 亿米<sup>3</sup>, 占全国河流年径流量的  $\frac{1}{3}$  以上, 是中国长度最长、水量最大、流域面积最广的河流。

【解析】

【解答】解: 沱沱河发源于唐古拉山脉的主峰各拉丹冬雪山西侧姜根迪如雪山的冰川; 是长江的最上源。

故选: B.

3、D

【分析】

【分析】亚洲面积约 4400 万千米<sup>2</sup>, 是世界第一大洲。从半球位置来看, 亚洲主要位于东半球和北半球。从纬度位置来看, 亚洲北部深入北极圈内, 南部延伸到赤道以南。从海陆位置来看, 亚洲东、北、南三面分别濒临太平洋、北冰洋和印度洋, 西与欧洲相连, 西南与非洲为邻, 东北隔白令海峡与北美洲相望。

---

【解析】

以上内容仅为本文档的试下载部分，为可阅读页数的一半内容。如要下载或阅读全文，请访问：<https://d.book118.com/088076035124007026>