

一年级下册数学解决问题 100 道

一. 解答题(共 100 题, 共 534 分)

- 12 个同学去爬山, 已经有 4 名同学到达山顶了, 还有多少个同学没到达山顶?
- 一(2)班共有 15 个小朋友参加表演, 其中有 8 个小朋友合唱, 还有几个小朋友表演其他节目?
- 小敏有 1 元 7 角, 买一袋小金鱼要 2 元, 小敏的钱够吗? 还缺多少?
- 小敏有 4 个硬币, 共计 1 元 7 角, 猜猜他有哪些硬币。
- 看图回答。



- (1) 买 1 支铅笔和 1 本书一共花_____钱。
- (2) 上衣比雨伞贵_____元。
- (3) 红红有 10 元钱, 要买一本书, 应找回_____钱。
- (4) 你能自己提出一些数学问题并解答吗?

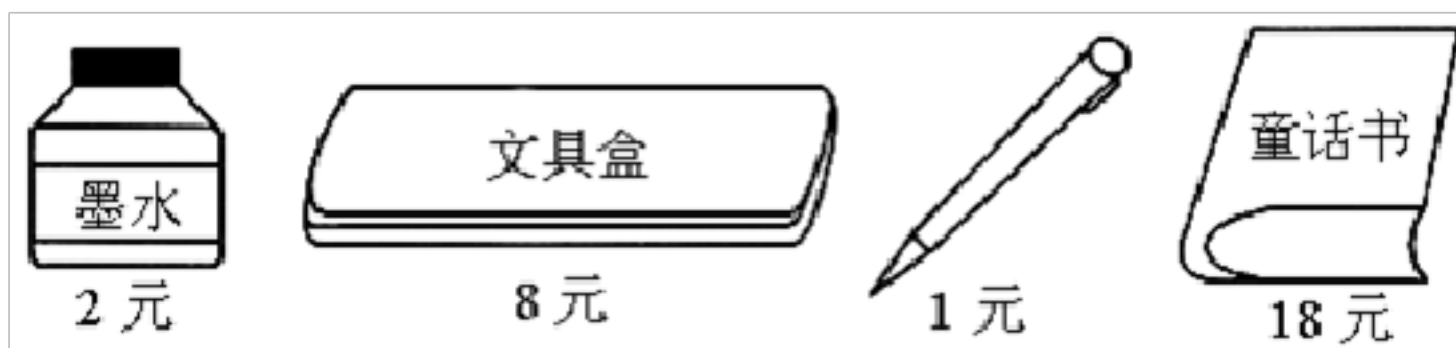
6. 看图回答。



(1) 哥哥看了多少页？

(2) 姐姐看了多少页？

7. 想一想，算一算。



(1) 买一瓶墨水和一个文具盒应付多少钱？

(2) 买一本童话书和一瓶墨水应付多少钱？

(3) 买一支铅笔和一个文具盒应付多少钱？



(4) 小明用 10 元钱去买一个文具盒，应找回多少钱？

8. 图书馆里有 15 本《数学故事》，借走了 8 本。还剩多少本？

9. 图书馆有 13 本《数学大王》，已经借走了 5 本。还有多少本？

10. 买东西。



(1) 如果小华要买一副  和一辆  ，一共需要多少元？

$\square \bigcirc \square = \square$ (元)

(2) 小亮用 80 元钱买了一个  ，找回 6 元，一个  多少元？

$\square \bigcirc \square = \square$ (元)

11. 停车场上的汽车先开来 18 辆，又开走了 9 辆，现在有多少辆？

12. 动物园里有大猴 8 只，有小猴 18 只，小猴比大猴多多少只？

13. 一起逛逛商场吧！



(1) 买一件衣服和一顶帽子一共需要多少钱？

$$\square \circ \square = \square \quad (\quad)$$

答：买一件衣服和一顶帽子一共需要 () 元钱。

(2) 请你提出一个数学问题并列式计算。

问题：

列式计算：



14. 光明小学一共有 45 个班，每个班发一个篮球，最后有 7 个班没有发到篮球，一共有多少个篮球？

15. 果园里有 68 筐苹果，运走了一些，还剩 20 筐。运走了多少筐？

16. 解决问题。



(1) 买一块  和一支  ，一共要 () 元 () 角。

(2) 买一本  和一支  ，一共要 () 元，付给售货员 10 元，应找回

() 元。

(3) 14 元正好可以买哪两种物品？

(4) 你还能提出什么数学问题?

17. 14 个小朋友玩老鹰捉小鸡的游戏, 已经捉住了 9 只小鸡, 还剩下几只?

18. 有 58 个学生, 6 位教师去春游。每人一顶凉帽, 买 65 顶够吗?

19. 有 18 个小朋友跳绳, 其中女生有 8 人, 男生有多少人?

20. 一箱苹果 36 元, 一串香蕉 9 元, 一盒草莓 8 元, 一箱梨 20 元

(1) 一箱梨比一盒草莓贵多少元?

(2) 一箱苹果和一串香蕉一共多少元?

(3) 你还能提出什么问题?

21. 圆珠笔每支 2 元, 钢笔每支 4 元, 墨水每瓶 3 元, 尺子每把 1.9 元。用 10 元钱买东西:

(1) 可以买 () 支圆珠笔.

(2) 可买 3 支钢笔还少 () 元.

(3) 买 2 瓶墨水可以找回 () 元.

(4) 请你估计一下, 大约可以买 () 把尺子.

(5) 1 支钢笔的价钱比买 2 把尺子的钱多 () 角.

22. 苹果有 56 个, 梨的个数比苹果多 7 个, 梨有多少个?

23. 看图回答。



(1) 小红买一个不倒翁和一把雨伞一共花 () 钱。

(2) 明明买一个足球和一桶茶叶一共花 () 钱。

(3) 你能自己提出几个数学问题并解答吗?

24. 小丽植了 14 棵树，小文植了 7 棵树，小丽比小文多植多少棵树？小文比小丽少植了多少棵树？



(1) 买一副羽毛球拍和一副乒乓球拍，需要多少钱？

(2) 付给售货员 100 元，应找回多少元？

(3) 你还能提出什么问题？

26. 音乐书有 35 本，美术书有 20 本，再买多少本美术书就和音乐书同样多了？
27. 购物。



(1) 大伟有 60 元钱，可以买哪三件玩具？

(2) 一把玩具手枪比一个洋娃娃便宜多少钱？

(3) 大明买一辆玩具汽车，售货员找回 5 元，大明付了多少元？

(4) 小军的钱正好买一辆汽车，你猜猜，他最多有多少张 10 元的？

28. 张生种了 6 棵树，加上王力种的一共 15 棵，王力种了多少棵？

29. 苏苏和晓晓去摘苹果，苏苏摘了 13 个，如果她给晓晓 4 个，两人的苹果就一样多了，你知道晓晓摘了多少个苹果吗？
30. 原来有 17 个气球，被吹走的 8 个，还剩下多少个？
31. 七巧板由 7 个图形构成，请观察一下组成七巧板的七个图形里最多的是什么图形？



32. 藤上原来有 15 条黄瓜，掉了 8 片叶子，李叔叔摘下了 9 条黄瓜。

藤上还有多少条黄瓜？



$$\square \circ \square = \square ()$$

33. 小红和小明一共做了 15 面小旗。小明做了 8 面小旗，用了 20 分钟。小红做了多少面小旗？
34. 爷爷在河边钓鱼，上午钓了 12 条，下午只钓了 9 条。爷爷上午比下午多钓了多少条鱼？
35. 停车场停了 50 辆自行车，又推来了 9 辆，一共有多少辆？
36. 妈妈买来 11 个苹果，吃了一些后，还剩 5 个，吃了多少个？
37. 17 个小朋友在玩老鹰捉小鸡游戏，有 8 只小鸡被捉，还剩多少只？
38. 丽丽和明明一起剪纸花比赛，丽丽剪了 38 朵，明明剪了 20 朵，丽丽比明明多剪了几朵纸花？

$$\square \circ \square = \square ()$$

答：丽丽比明明多剪了（ ）朵纸花。

39. 萍萍和丽丽一共折了 16 只纸鹤。其中萍萍折了 7 只，丽丽折了多少只？

40. 原来草地上有 12 只兔子，现在还有 3 只，跑了几只？



41.



(1) 有 30 元钱，买 3 盒巧克力够吗？

(2) 有 10 元钱，买一块蛋糕和一袋薯片够不够？

42. 商店有红灯笼 60 个，卖出去 8 个，还剩多少个？

43. 小明作业一共有 11 页，他做完了 3 页，请问还有多少页要做？



44.

(1) 小东比小明少射中多少个？

$$\square \bigcirc \square = \square \quad (\quad)$$

(2) 你还能提出什么问题并解答。

$$\square \bigcirc \square = \square \quad (\quad)$$

45. 想一想。



还需要几把椅子才能全部配成套? $\underline{\quad} - \underline{\quad} = \underline{\quad}$

46. 小文和小东比踢毽子，小文踢了 18 下，小东踢了 9 下。

(1) 小文比小东多踢了多少下?

(2) 小东比小文少踢了多少下?

47. 一(1)班有 46 人，如果每人发一个口罩，还差 3 个。我们班有多少个口罩?

$$\square \bigcirc \square = \square \quad (\quad)$$

答：我们班有 (\quad) 个口罩。

48. 卖了 16 盆鲜花，还剩  盆，原来一共有多少盆花?

49. 幼儿园里有 100 个苹果，分给小班 20 个，分给小班 30 个，分给大班 40 个，幼儿园里的苹果少了多少个?


50. 湖边现有 24 只船，划走了 8 只后，湖边还有几只船?

51. 看图列式解答。



52. 我们一共要植 15 棵树，再植 8 棵树就完成任务了，我们已经植了几棵树？

53. 小林要看一本 100 页的故事书，第一天看了 15 页，第二天看了 20 页，第三天小明要从第几页开始看起？

54. 汽车站有 40 辆 ，第一次开走 20 辆，第二次开走 10 辆，两次共开走多

少辆？

55. 根据题意作答。



56. 王奶奶养了 28 只母鸡，养的公鸡比母鸡少 9 只。公鸡有的多少只？



57. 树上原来有 25 只小鸟，先往东边飞走 8 只，后又往西边飞走 15 只，一共飞走了多少只？

58. 小明家养的家禽。

以上内容仅为本文档的试下载部分，为可阅读页数的一半内容。如要下载或阅读全文，请访问：<https://d.book118.com/088117100051007004>