

## 2024 年辽宁省大连市高考地理适应性试卷（5 月份）

一、选择题：本题共 16 小题，每小题 6 分，共 48 分。在每小题给出的四个选项中，只有一项是符合题目要求的。

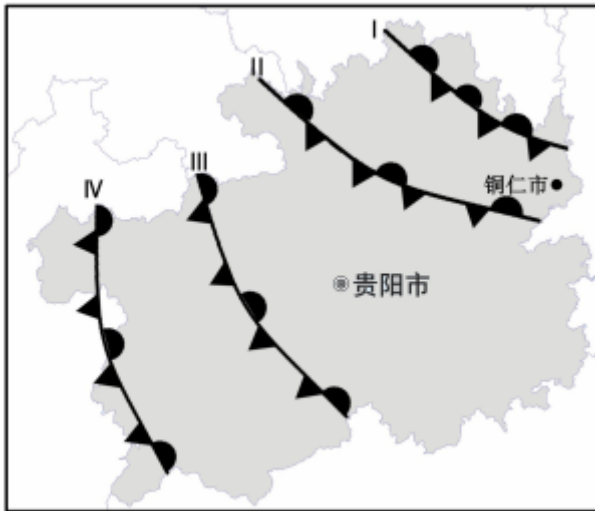
2024 年初国内白酒龙头 G 企业限量发售龙年生肖酒，其指导价高达 2499 元/瓶，但仍然是一瓶难求。G 企业又与知名咖啡、巧克力等企业合作推出多种年轻人喜爱的酒味产品，销售火爆。据此完成 1~2 题。

1. G 企业推出限量发售生肖酒的主要原因是（ ）
  - A. 企业生产能力不足
  - B. 国内市场需求大增
  - C. 宣传企业文化需要
  - D. 提升客户消费意愿
2. G 企业与咖啡、巧克力等企业合作推出酒味产品可以（ ）
  - A. 借其他企业提高白酒品质
  - B. 增加潜在消费群体
  - C. 提升白酒产品经济附加值
  - D. 降低白酒生产成本

2023 年 10 月 30 日，大连自贸片区国家管网 LNG 接收站专用码头开启北方首单 LNG 国际中转业务。LNG 是液化天然气的简称，指天然气经压缩、冷却至其凝点温度 - 161.5℃后变成液体。据此完成 3~4 题。

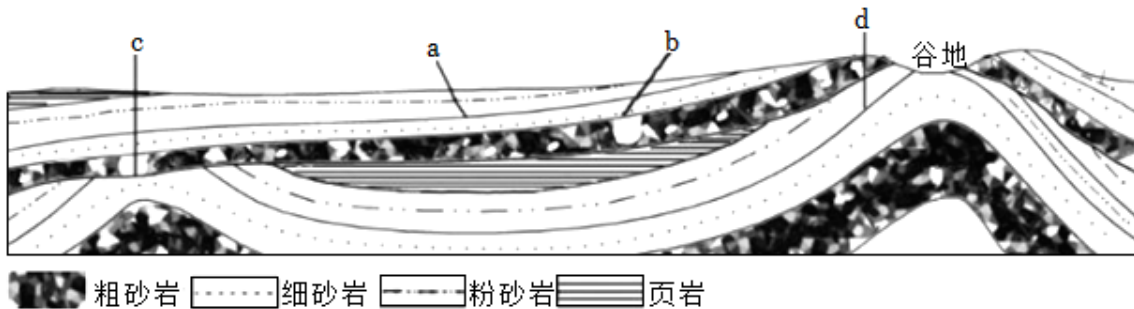
3. 大连自贸片区助力大连 LNG 公司拓展的国际市场最可能是（ ）
  - A. 日韩
  - B. 欧洲
  - C. 北美
  - D. 非洲
4. 大连 LNG 公司落户大连自贸片区的主导因素是（ ）
  - A. 交通便利
  - B. 技术先进
  - C. 政策支持
  - D. 设施完善

贵州省地处低纬高原，寒潮发生次数较少，但受准静止锋一侧气团的前期作用，局部地区寒潮产生几率增加。2023 年 12 月 15~16 日，受寒潮影响，贵州省铜仁市气温骤降，并产生冻雨（雨滴遇到温度低于 0℃的物体迅速冻结成冰）。如图示意该次贵州省准静止锋位置。据此完成 5~6 题。



5. 若只考虑锋面系统影响，铜仁市本次寒潮来临之前，准静止锋锋线位置可能为（ ）
- A. I                      B. II                      C. III                      D. IV
6. 冻雨发生时，该地对流层大气（ ）
- A. 近地面上升气流显著                      B. 保温作用增强
- C. 暖气团在冷气团下方                      D. 逆温现象显著

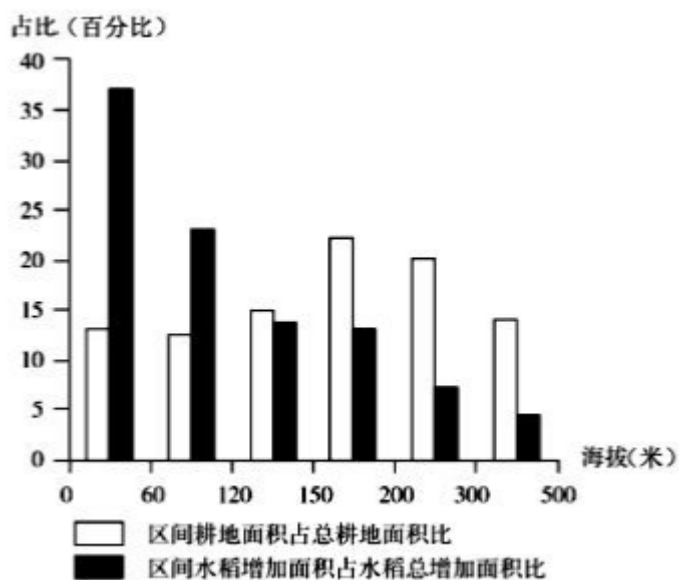
不整合接触是指上下两套岩层之间存在明显的地层缺失和风化剥蚀现象的不连续接触关系。两套岩层中间的不连续接触面，称不整合面。如图示意我国南方某地地层剖面图，地质历史时期该地构造运动频繁。据此完成 7~9 题。



7. 属于不整合面的是（ ）
- A. a                      B. b                      C. c                      D. d
8. 图示谷地附近发生褶皱的次数至少为（ ）
- A. 一次                      B. 两次                      C. 三次                      D. 四次
9. 下列描述准确的是（ ）
- A. 该地经历持续性构造抬升过程
- B. 谷地所在处岩层受挤压力易被侵蚀
- C. 多组地层形成的沉积环境一致

D. 图示接触面从老到新依次为 dcba

近年来黑龙江省水稻生产成本和价格均高于江苏省，但仍具有较强的市场竞争力。黑龙江省的水稻生产面临着日益加大的水土资源压力，表现为农业灌溉用水量大，主要依赖地下水；长期的土地高强度利用，部分耕地质量下降。如图所示示意 2001~2017 年东北地区不同海拔区间耕地面积和水稻增加面积占比统计图。据此完成 10~11 题。



10. 影响东北地区水稻种植面积扩张的主要因素为 ( )

- ①地形
- ②水源
- ③气候
- ④土壤

A. ①②                      B. ①③                      C. ②③                      D. ②④

11. 黑龙江省和江苏省水稻价格存在差异的原因是 ( )

- A. 江苏省纬度低水稻总产量更高
- B. 黑龙江灌溉机械投入费用较低
- C. 江苏省提高土壤肥力成本更高
- D. 黑龙江纬度较高水稻品质更好

海洋锋是温度、盐度等性质方面明显不同的两种或几种水体之间的狭窄过渡带。如图所示海域是北冰洋和大西洋之间最主要的海洋通道，大西洋水和极地水在此相遇，形成海洋锋，其强弱有明显的季节变化。7~9 月份是北极地区的暖季。据此完成 12~14 题。



	26° 14'38" N	失稳区	1500 - 1550	25	芸香草、扭黄毛	62.2
		堆积区	1450 - 1500	30	鬼针草	27.6
阳坡	103° 8'6" E	稳定区	1500 - 1600	25	扭黄毛、田箐、黄背草	92.1
		失稳区	1400 - 1500	30	扭黄毛、田箐、荩草	62.7
	26° 15'15" N	堆积区	1300 - 1400	40	荩草、铁苋菜	32.2

15. 该河谷稳定区与堆积区植被覆盖度差异较大的原因是 ( )

- A. 稳定区泥沙堆积, 利于多数植被生长
- B. 稳定区河流冲淤, 利于多数植被生长
- C. 堆积区焚风效应, 不利多数植被生长
- D. 堆积区砾石堆积, 不利多数植被生长

16. 该河谷阳坡较阴坡植被多样性更丰富的原因是 ( )

- A. 阳坡位于河谷以南, 热量条件更好
- B. 阳坡地质灾害频繁, 植被不断更替
- C. 阴坡太阳辐射弱, 水分条件更充足
- D. 阴坡乔木茂密, 抑制了草本的生长

**二、非选择题: 本题共 3 小题, 共 52 分。**

17. (16 分) 阅读图文材料, 完成下列要求。

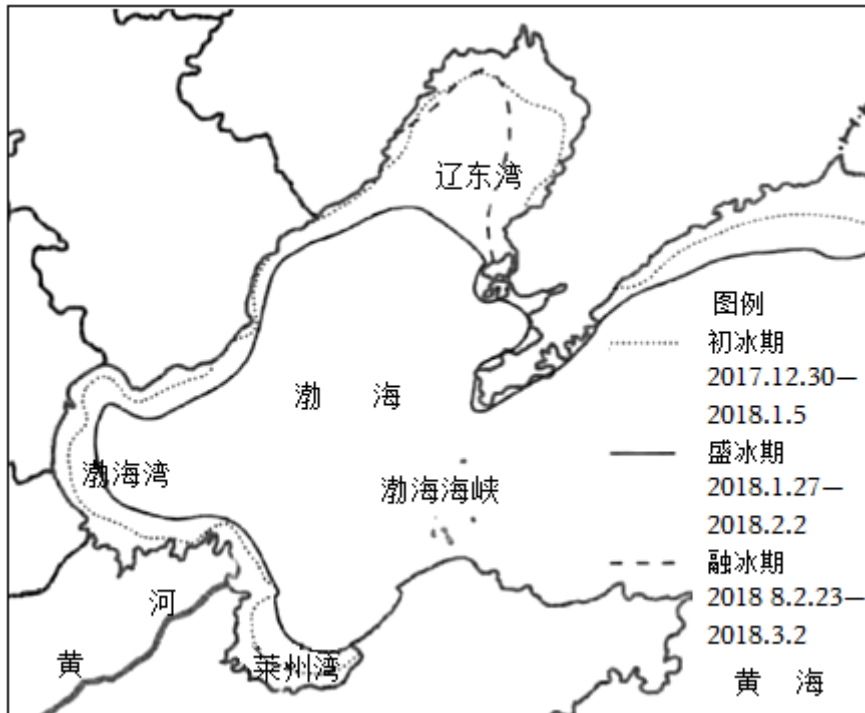
菲律宾是陆地面积约 30 万平方公里, 由 7000 多个岛屿组成的以山地为主的群岛国家。目前人口超过 1.1 亿, 仍在快速增长。受历史因素影响, 菲律宾优质耕地多用于经济作物生产, 粮食作物单产低。大多数农民没有自己的土地, 虽农业人口比重较大但每年仍需从国外进口大量粮食。如图示意菲律宾耕地分布。



- (1) 说明菲律宾人均耕地面积较小的原因。
- (2) 列举菲律宾粮食作物单产低的自然条件。
- (3) 从社会经济角度简述菲律宾粮食自给率低的原因。

18. (18分) 阅读图文材料，完成下列要求。

渤海是北半球纬度最低的结冰海区，每年冬季渤海都会有海冰发生，海冰的生消使渤海海域的海—气相互作用发生季节性变化。近年来，全球变暖导致渤海海冰面积减小。如图示意渤海海冰面积变化。



- (1) 指出影响渤海海冰分布的主要因素。
- (2) 说明辽东湾冬季海—气相互作用弱的原因。
- (3) 从大气受热过程角度，分析全球气候变暖导致渤海海冰面积减少原因。

19. (18分) 阅读图文材料，完成下列要求。

原创性新药经过对成千上万种化合物层层筛选和严格的临床试验才得以获准上市，整个过程通常投入数十亿资金和大量的时间。总部位于江苏省连云港市的H企业是集科研、生产和销售为一体的原创性新药上市企业。2000年，H企业在上海市建设了研发中心（图1）。近年，受国家对进口抗癌药实施进口零关税、鼓励创新药研发、协商降价成为医保用药等因素影响，H企业净利润变化明显（图2）。2023年，H企业授权多种自研新药于国外著名医药公司在全球生产和销售，获取了大量预付款。

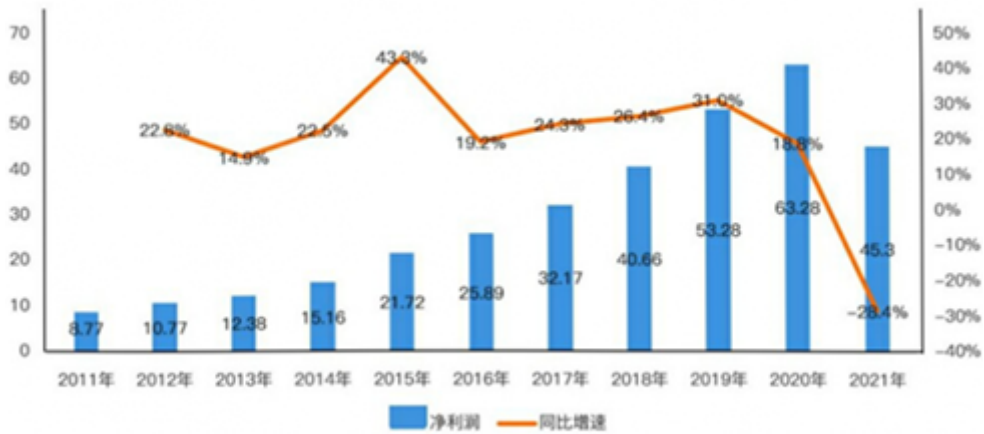


图2 H企业净利润及同比增速

- (1) 分析上海市吸引H企业建设研发中心的有利区位条件。
- (2) 指出2020年以后H企业净利润的变化趋势并分析其成因。
- (3) 推测H公司将自主研发原研药有偿授权国外公司全球销售的意义。

# 2024 年辽宁省大连市高考地理适应性试卷（5 月份）

## 参考答案与试题解析

一、选择题：本题共 16 小题，每小题 6 分，共 48 分。在每小题给出的四个选项中，只有一项是符合题目要求的。

2024 年初国内白酒龙头 G 企业限量发售龙年生肖酒，其指导价高达 2499 元/瓶，但仍然是一瓶难求。G 企业又与知名咖啡、巧克力等企业合作推出多种年轻人喜爱的酒味产品，销售火爆。据此完成 1~2 题。

1. G 企业推出限量发售生肖酒的主要原因是（ ）

- A. 企业生产能力不足
- B. 国内市场需求大增
- C. 宣传企业文化需要
- D. 提升客户消费意愿

**【解答】**解：由材料可知，G 企业推出限量发售生肖酒指导价高达 2499 元/瓶，但仍然是一瓶难求，说明该企业通过限量发售生肖酒提升客户消费意愿，D 正确。

企业生产能力不足、国内市场需求大增、宣传企业文化需要不是主要原因，ABC 错误。

故选：D。

2. G 企业与咖啡、巧克力等企业合作推出酒味产品可以（ ）

- A. 借其他企业提高白酒品质
- B. 增加潜在消费群体
- C. 提升白酒产品经济附加值
- D. 降低白酒生产成本

**【解答】**解：由材料可知，G 企业又与知名咖啡、巧克力等企业合作推出多种年轻人喜爱的酒味产品，销售火爆，说明该企业通过与咖啡、巧克力等企业合作推出酒味产品，增加潜在消费群体，B 正确。

借其他企业提高白酒品质、提升白酒产品经济附加值、降低白酒生产成本不是主要目的，ACD 错误。

故选：B。

2023 年 10 月 30 日，大连自贸片区国家管网 LNG 接收站专用码头开启北方首单 LNG 国际中转业务。LNG 是液化天然气的简称，指天然气经压缩、冷却至其凝点温度 -161.5℃后变成液体。据此完成 3~4 题。

3. 大连自贸片区助力大连 LNG 公司拓展的国际市场最可能是（ ）

- A. 日韩
- B. 欧洲
- C. 北美
- D. 非洲

**【解答】**解：根据所学知识结合材料信息可知，日韩地区经济发达，能源短缺，是世界上最大的 LNG 市场，同时又距离大连距离近，便于运输，故 A 正确。

以上内容仅为本文档的试下载部分，为可阅读页数的一半内容。如要下载或阅读全文，请访问：<https://d.book118.com/098042135063006075>