

2025年广东省河源市紫金县部分学校中考历史一模试卷

一、选择题：本大题共 30 小题，每小题 2 分，共 60 分。在每小题给出的四个选项中，只有一项是符合题目要求的。

1. (2 分) 在距今 5300 年左右的河南双槐树遗址中，出土的骨质蚕雕艺术品——牙雕蚕，其形状符合家蚕的生物特点；在距今 4000 多年的浙江钱山漾遗址中，发现了家蚕丝线、丝带和绢片。以上考古发现与“嫫祖养蚕缫丝”的远古传说，可以相互印证的是（ ）
- A. 远古传说中的嫫祖确有其人
- B. 中国的农桑文明已经开始
- C. 中国是纺织业的唯一发源地
- D. 农耕时代社会分工的精细
2. (2 分) 如表是西周中期一件青铜器的介绍，该青铜器最重要的历史价值在于（ ）

鸟尊	铭文	说明
		鸟尊的盖内和腹部铸有铭文“晋侯作向太室宝尊彝”（翻译：晋国君主制造的祭天宝物）。据考证，鸟尊是第一代晋侯燮所拥有的高规格祭祀礼器。

- A. 提供了研究晋国社会状况的实物史料
- B. 体现汉字的造字方法和造字特点
- C. 说明晋国是西周分封的第一个诸侯国
- D. 凸显晋国青铜铸造水平世界领先
3. (2 分) 人类可以利用自然、改造自然，但是这些活动必须建立在尊重客观规律的基础上。下列有关中国古代工程的论述，与上述观点相符的是（ ）

- A. 凿峭壁，现神佛
- B. 天下转漕，仰此一渠
- C. 深淘滩、低作堰
- D. 山川形便，犬牙相入

4. (2分) 柳宗元在《封建论》中指出：“秦之失在于政。”《汉书·景帝纪》中写道：“汉兴，扫除烦苛，与民休息。”以上两则材料说明 ()

- A. 秦汉的政治制度各有所长
- B. 汉朝完全摒弃秦朝的制度
- C. 法道两家的理念水火不容
- D. 国家治理政策应适时调整

5. (2分) 如图所示的局面，形成于 ()



- A. 西汉初年
- B. 东汉末年
- C. 三国时期
- D. 两晋时期

6. (2分) 《开元天宝遗事》中记载了百姓对姚崇的称赞“姚元崇为相，忧国如家，爱民如子。”这从侧面反映了唐玄宗统治前期 ()

- A. 注重文教
- B. 勤于政事
- C. 虚心纳谏
- D. 重用贤能

7. (2分) 五代时沿用《唐律》，把“谋大逆”（侵犯皇帝尊严的行为）和“谋叛”（策划背叛朝廷的行为）定为不赦之罪。据此推断，下列属于“谋大逆”“谋叛”的行为是 ()

- A. 玄奘私出边关西行
- B. 赵匡胤黄袍加身
- C. 寇准力劝皇帝亲征
- D. 王安石主持变法

8. (2分) 如表是不同史书中关于岳飞的记载，其中可以相互印证的历史信息是 ()

《宋史·岳飞传》	《建炎以来系年要录》
----------	------------

<p>(金朝将领)兀术怒，合龙虎大王、盖天大王与韩常之兵逼郾城。(岳)飞遣子云领骑兵直贯其阵，戒之曰：“不胜，先斩汝!”鏖战数十合，贼尸布野。飞进军朱仙镇，方指日渡河，而(秦)桧欲画淮以北弃之……言飞孤军不可久留，乞令班师。</p>	<p>绍兴十年六月：岳飞率兵攻金，收复颖昌。</p> <p>绍兴十年七月：岳飞与完颜宗弼(金兀术)战于郾城，败之。</p> <p>绍兴十年九月：秦桧主罢兵，召岳飞赴行在(宋高宗所在地方)。</p> <p>绍兴十一年十二月：下岳飞大理寺，赐死。</p>
--	---

- A. 岳飞在郾城大败金兵，秦桧主张罢兵
- B. 宋高宗召见岳飞
- C. 岳家军一鼓作气收复了颖昌和朱仙镇
- D. 大理寺赐死岳飞

9. (2分)《明神宗实录》中，对戚继光的评价是：“血战歼倭，勋垂闽浙，壮猷(俞大猷)御虏，望著幽燕(现北京一带)。”此评价提到戚继光的两项功绩是()

- A. 开凿灵渠，统一岭南
- B. 出使西域，北击匈奴
- C. 收复台湾，营建北京
- D. 平定倭患，镇守北方

10. (2分)《明史》记载：“医家《本草》，自神农所传止三百六十五种……(李时珍)乃穷搜博采，芟(消除)烦补阙，历三十年，阅书八百余家，稿三易而成书，曰《本草纲目》。增药三百七十四种，厘为一十六部，合成五十二卷。”可见，李时珍的《本草纲目》()

- A. 其部卷分类一直是世界最先进的药书编目
- B. 是对古代药物学成果的鉴别、整理和补充
- C. 吸收了中国历代农学家的成果和思想方法
- D. 收录的药物和药方解决了世界医学的难题

11. (2分)学者郑石桥指出：“宰相辅政制度的沿革趋势体现了皇帝专制权力欲望的不断膨胀和驾驭百官能力的不断提升。”此观点表明中国古代皇权与相权的演变趋势是()

- A. 皇权掌管中央机构，相权主管地方行政，两者互相监督

- B. 丞相为百官之首，是皇帝处理国家政务不可或缺的助手
- C. 皇权不断加强，相权不断被削弱，直至宰相制度被废除
- D. 宰相由充当皇帝顾问到主持朝政，最后完全架空了皇帝
12. (2分) 恩格斯在评论某次战争时指出：“如果我们将当时所缔结的各项条约比较一下，就不得不承认这样一件一目了然的事实：这次战争不是对英国和法国有利，而是对俄国有利。”恩格斯所评论的战争是指 ()
- A. 鸦片战争
B. 第二次鸦片战争
C. 甲午战争
D. 八国联军侵华战争
13. (2分) 郭嵩焘于 1875 年受命出使英国后，他把从上海到伦敦途中的见闻写成日记《使西纪程》，盛赞西方民主制度。该书少量印发给当朝官员阅读后遭遇众人口诛笔伐，朝廷将其书毁版。这表明 ()
- A. 传统夷夏观念是近代化的障碍
B. 清政府与英国外交关系的恶化
C. 洋务运动抵制外国资本的入侵
D. 中华民族反抗侵略的坚强意志
14. (2分) 1905 年，京师大学堂鉴于英、德、美、日诸国均“以体育为法，而养成国民气节”，特举办第一次运动会，希望造就“临事不辞职，事君不惜死”之人才。该运动会反映了 ()
- A. 新旧并存的救亡思想
B. 近代学制的完善
C. 师夷长技的自强精神
D. 革命道路的探索
15. (2分) 辛亥革命后，南京临时政府颁布《临时约法》，给予国民财产占有和人身安全的自由权利，解除之前强加给民族工业的各种限制；设立实业部，并通电各省都督设立实业公司。这些举措 ()
- A. 改善了近代经济的发展环境
B. 消除了官僚资本主义的压迫
C. 奠定了国家统一的物质基础

D. 推动了实业救国思潮的兴起

16. (2分) 某班同学为一些地方设计“历史名片”宣传语, 下列适用于井冈山的是 ()

A. 辛亥首义, 共和号角

B. 五四中心, 风云新途

C. 八一枪响, 军旗升起

D. 革命摇篮, 红军故乡

17. (2分) 中国共产党是全民族团结抗战的中流砥柱。以下为《中国共产党历史》(第一卷)第十三章的目录(缺第五小节标题)。该书第十三章第五节的标题应是 ()

第十三章 为建立抗日民族统一战线而斗争
一、抗日救亡运动的新高潮
二、抗日民族统一战线策略的制定
三、党在国民党统治区斗争策略的转变
四、东北抗日联军的艰苦斗争
五、
六、党为早日实现全民族抗战而斗争

A. 西安事变的和平解决

B. 革命统一战线的正式建立

C. 全民族抗战的最终实现

D. 敌后抗日根据地的广泛建立

18. (2分) 对于毛泽东的重庆之行, 民主人士柳亚子赋诗称颂为“弥天大勇”。重庆《大公报》发表社评说:“毛先生能够惠然肯来, 其本身就是一件大喜事。”这反映了当时 ()

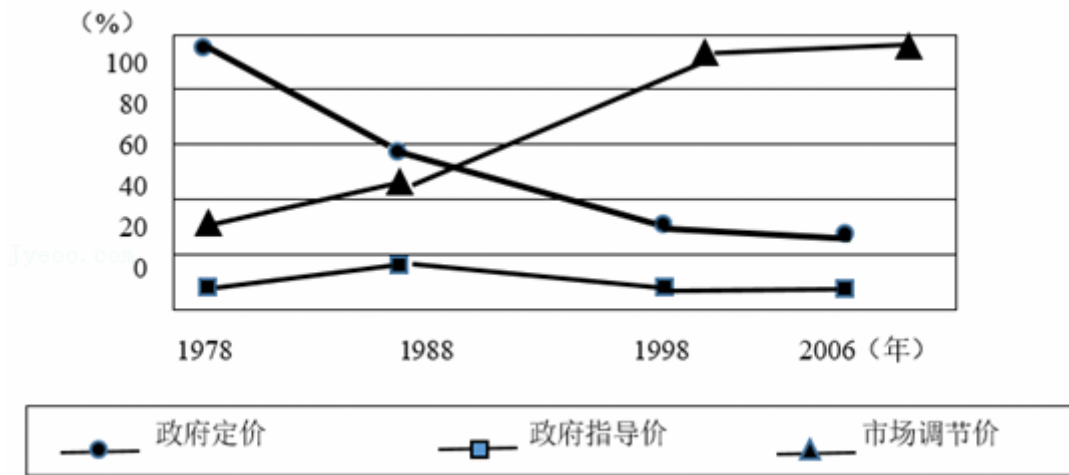
A. 国共力量对比出现逆转

B. 民主党派认同新民主主义革命纲领

C. 国家重建成为国人共识

D. 民族矛盾的上升推动国共走向和谈

19. (2分) 如图所示为1978 - 2006年商品零售环节三种价格形式的比重变化。据此可知, 我国 ()



- A. 多种所有制经济开始共同发展
- B. 由计划经济向社会主义市场经济转变
- C. 实现了与世界经济的全面接轨
- D. 政府完全放弃了对经济的干预和指导

20. (2分) 台湾诗人余光中说:“只要仓颉的灵感不灭, 美丽的中文不老, 那形象, 那磁石一般的向心力当必然长在。因为一个方块字是一个天地。”许多台湾有识之士也提出“中华文化应是两岸沟通的共同语言”。这说明 ()

- A. 海峡两岸的文化交流历史悠久
- B. 文化认同有助于实现两岸和平统一
- C. 中华传统文化具有持续创新力
- D. “一国两制”构想得到两岸广泛认可

21. (2分) 下表统计了新中国成立后的三个时间点与中国建交国家的数量。这说明新中国 ()

时间	建交的亚洲国家数量	建交的非洲国家数量	建交的欧洲国家数量	建交的美洲国家数量
1959年	14	5	15	2

1969 年	15	20	16	2
1979 年	28	39	29	17

- A. 摆脱了意识形态的羁绊
- B. 实行独立自主的和平外交政策
- C. 国际影响力的不断提高
- D. 已经适应了冷战后的世界格局

22. (2分) 在《汉谟拉比法典》中, 第 42 至 52 条是租借田地而出现的各种情形的规定; 第 114 至 119 条是对各种债权债务的规定; 第 242 至 243 条对牛的租赁价格做了明确规定。这些法律规定说明古巴比伦 ()

- A. 商品经济比较活跃
- B. 奴隶制度相当发达
- C. 种姓制度等级森严
- D. 民主政治达到高峰

23. (2分) 从 9 世纪开始, 一种新的农业经济组织形式——庄园在西欧逐渐流行开来。庄园大多以村庄为基础, 有住房、作坊、耕地、草地、林地、荒地、池塘。庄园以农业为主, 奶酪、火腿、蔬菜等食物均可满足庄园的日常需求, 鞋帽、衣服也自己制作, 很多庄园还有铁匠、金银匠等。据此可知, 庄园的特点是 ()

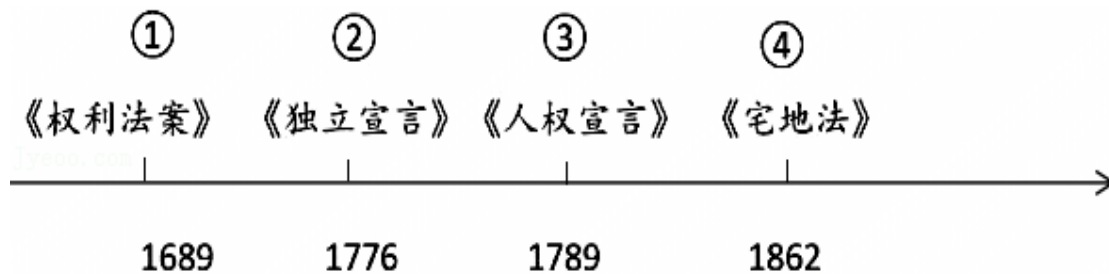
- A. 雇佣进行生产
- B. 面向市场
- C. 具有司法审判权
- D. 自给自足

24. (2分) 《蒙娜丽莎》是达·芬奇为佛罗伦萨一位商人的妻子所画的肖像画, 它以现实人物为主题, 人物形象神态自若, 嘴角含着一丝微笑, 显得恬静, 似乎又有点哀伤, 富有生命的活力。画家通过自己的作品想表达的思想是 ()



- A. 天赋人权 B. 自由主义 C. 民主科学 D. 人文主义

25. (2分) 时空观念是在特定的时间联系和空间联系中对事物进行观察、分析意识和思维方式。下列时间轴中，与③对应的事件是 ()



- A. 法国大革命 B. 美国独立战争
- C. 美国内战 D. 英国资产阶级革命

26. (2分) 1831年，英国科学家法拉第发现了电磁感应现象。后来，人们根据这一现象发明了早期的发电机。到19世纪70年代，经过不断完善的发电机进入生产领域，电力开始作为动力带动机器。随后在各国发明家的共同努力下，发电机、电动机、电焊机、电钻、电话、电车、电报等纷纷问世。由此，人类进入 ()

- A. 电气时代 B. 蒸汽时代 C. 信息时代 D. 铁路时代

27. (2分) 1914年6月，奥匈帝国皇储斐迪南大公为了向塞尔维亚炫耀武力，到波斯尼亚检阅军队。6月28日，斐迪南大公夫妇在萨拉热窝被塞尔维亚族青年普林西普刺杀。这一历史事件成为了 ()

- A. 第一次世界大战的导火线
- B. 第一次世界大战开始的标志
- C. 第一次世界大战的转折点

D. 第一次世界大战结束的标志

28. (2分) 1933年罗斯福在就职演说中提到：“我们最重大的首要任务，是使人民有工作可做……由政府本身直接募工，可以部分地完成这一任务，政府对待这项任务就像对待战争的紧急状态一样。”为此罗斯福采取的措施是（ ）

A. 推行“以工代赈”

B. 整顿金融体系

C. 建立社会保障制度

D. 调整农业政策

29. (2分) 从1947年开始到1951年结束，马歇尔计划共花出去了131.5亿美元，这些钱的相当部分以各种方式回到了美国企业家手里。从这些钱的用途来看，美国是通过马歇尔计划把国内过剩的产能转移到了欧洲，给自己培养了战后的新市场，并且让欧洲比过去更加依赖美元。这反映出马歇尔计划（ ）

A. 推进了冷战政策的实施

B. 导致了两极格局的形成

C. 消除了共产主义的影响

D. 阻碍了欧洲的经济恢复

30. (2分) 2023年10月7日以来，巴以冲突不断加剧。巴以冲突爆发以来，某一国际组织积极调解矛盾，致力于构建和平世界、维护世界安全，做出了巨大的努力。这一国际组织是（ ）

A. 世界贸易组织

B. 欧盟



C. 联合国

D. 七十七国集团

二、非选择题（本大题共3小题，共40分。）

31. (13分) “丝绸之路”绵延漫长的时间、穿行遥远的距离、跨越巨大的区域而长盛不衰。阅读下列材料，回答问题。

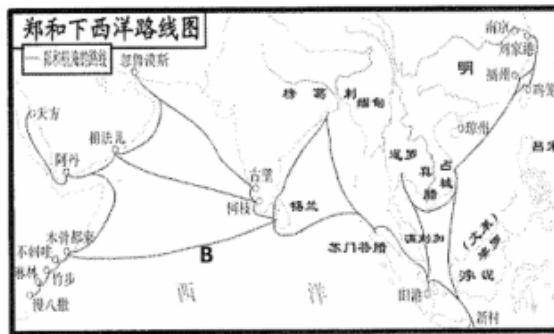
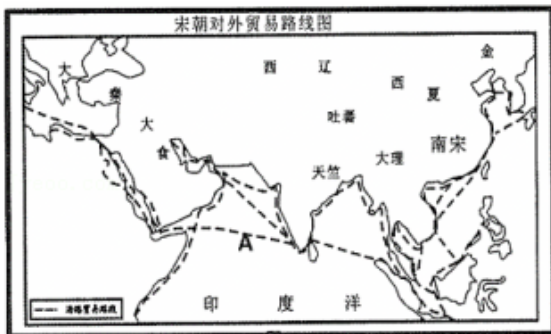
材料一 关于丝绸之路的开通，学界说法不一。第一种观点认为张骞出使西域开通了丝绸之路；第二种观点认为早在汉代之前就已经有了丝绸之路。	问题 (1) (4分) 若你支持第二种观点，应选择以下哪些史料作为证据？
---	---

<p>史料 A</p> <p>《穆天子传》</p> <p>“该文献出土于战国墓，记载了约三千年前周穆王西游至西域一带会见西王母的故事，并有周穆王送给西王母“锦纽百纯（匹）”的记录。</p>	<p>史料 B</p>  <p>新疆阿尔泰巴泽雷克墓出土的丝织品，（约公元前 5 世纪）</p>	<p>史料 C</p>  <p>东罗马金币，发现于西安何家村唐代陶罐</p>	<p>史料 D</p> <p>新闻报道</p> <p>2003 年，考古工作者在清理秦始皇兵马俑馆前的一处砖瓦窑址时，发现了百余具骨骸。DNA 检测显示，在提取的 15 个骨骸样本中，有一个属于比较典型的“欧亚西部 T 类群个体”。</p>
--	---	---	--

材料二 仔细观察题图，与宋代对外贸易路线 A 段相比，明代郑和航海路线 B 段有了新发展。

问题

(2) (4 分) 指出明代郑和航海路线 B 段新发展的具体表现，并结合所学，概括推动这一新发展的因素。



材料三 “丝绸之路”并非只是丝绸贸易的通道，也是东西方之间多元化、多层次、多维度的交流通道。

问题

(3) (5 分) 请你从“开放、创新、文明”等关键词中选择其一，并结合历史上丝绸之路的相关史实予以阐释。

32. (15 分) 20 世纪以来，世界和平与发展、战争与动荡并存。阅读下列材料，回答相关问题。

【一战后国际局势】

材料一 如表为关于“凡尔赛 - 华盛顿体系”的评论。

评论人	身份	评语
福煦	法国元帅	《凡尔赛和约》不是和平，而是 20 年的休战。
列宁	苏俄领袖	华盛顿会议为太平洋两岸的两个大国的下一场战争，埋下了第一批火种。

(1) (3 分) 请根据材料一的两则评论概括“凡尔赛 - 华盛顿体系”的特点，并用史实加以证明。

【二战后国际局势】

材料二 图 1 和图 2 是 20 世纪后期英国和苏联关于马歇尔计划的漫画。



图1 英国漫画



图2 苏联漫画

【注释】

英国漫画：英国妇女脚踩着高跷，两只高跷上分别写着“MARSHALL（马歇尔）”和“AID（援助）”，她前面的英文是“BETTER STANDARD OF LIFE（更美好的生活）”。

苏联漫画：马歇尔正在兜售套圈和军火。套圈上写着法国、德国（西德）、意大利、英国、荷兰等西欧国家的名称。

(2) (3 分) 材料二两幅漫画的含义有何不同？结合所学知识，分析导致两幅漫画含义不同的原因。

(3) (4 分) 请评价材料二两幅漫画对研究二战后国际局势的史料价值。

【当今国际局势】

材料三 苏联解体后，美国成为唯一的超级大国，企图凭借强大的经济、军事和科技力量，建立一个以美国为主导的“单极世界”。但是，欧盟、日本、中国和俄罗斯等一些具备较强综合实力的国家联盟或国家也在国际和地区事务中发挥着重要作用。

- - 摘编自人民教育出版社《世界历史》（九年级下册）

(4) (5分) 根据材料三，指出冷战结束后世界格局呈现的发展趋势。在这种趋势下，为构建当今世界和平与安全，我们应该秉持什么理念？

33. (12分) 阅读材料，完成下列要求。

材料：照片及说明

		
<p>照片一</p> <p>20世纪50年代，北京市丰台区东管头乡农民办理加入合作社手续</p>	<p>照片二</p> <p>1954年国庆节，游行群众抬着《中华人民共和国宪法》模型通过天安门</p>	<p>照片三</p> <p>1973年，袁隆平（左一）带着科研团队培育强优势杂交水稻</p>
		
<p>照片四</p>	<p>照片五</p>	<p>照片六</p>

1984 年国庆节，群众游行队伍中的“联产承包好”彩车		2022 年，第 24 届冬季奥运会在北京开幕
-----------------------------	--	-------------------------

(1) (6 分) 根据材料并结合所学知识，补充材料中照片五的说明。

(2) (6 分) 选择材料中至少两幅相互关联的历史照片，提炼一个观点，并结合所学知识加以论述。(要求：观点正确，史论结合，条理清楚，结构完整)

2025年广东省河源市紫金县部分学校中考历史一模试卷

参考答案与试题解析

一. 选择题（共30小题）

题号	1	2	3	4	5	6	7	8	9	10	11
答案	B	A	C	D	B	D	B	A	D	B	C
题号	12	13	14	15	16	17	18	19	20	21	22
答案		A	A	A	D	A	C	B	B	C	A
题号	23	24	25	26	27	28	29	30			
答案	D	D	A	A	A	A	A	C			

一、选择题：本大题共30小题，每小题2分，共60分。在每小题给出的四个选项中，只有一项是符合题目要求的。

- 1.（2分）在距今5300年左右的河南双槐树遗址中，出土的骨质蚕雕艺术品——牙雕蚕，其形状符合家蚕的生物特点；在距今4000多年的浙江钱山漾遗址中，发现了家蚕丝线、丝带和绢片。以上考古发现与“嫫祖养蚕缫丝”的远古传说，可以相互印证的是（ ）
- A. 远古传说中的嫫祖确有其人
 - B. 中国的农桑文明已经开始
 - C. 中国是纺织业的唯一发源地
 - D. 农耕时代社会分工的精细

【分析】本题考查炎帝和黄帝，掌握相关的基础知识。

【解答】在距今5300年左右的河南双槐树遗址中，出土的骨质蚕雕艺术品——牙雕蚕，其形状符合家蚕的生物特点；在距今4000多年的浙江钱山漾遗址中，发现了家蚕丝线、丝带和绢片。以上考古发现与“嫫祖养蚕缫丝”的远古传说，可以相互印证的是中国的农桑文明已经开始。ACD不符合题意。

故选：B。

2. (2分) 如表是西周中期一件青铜器的介绍，该青铜器最重要的历史价值在于()

鸟尊	铭文	说明
		鸟尊的盖内和腹部铸有铭文“晋侯作向太室宝尊彝”(翻译：晋国君主制造的祭天宝物)。据考证，鸟尊是第一代晋侯燮所拥有的高规格祭祀礼器。

- A. 提供了研究晋国社会状况的实物史料
- B. 体现汉字的造字方法和造字特点
- C. 说明晋国是西周分封的第一个诸侯国
- D. 凸显晋国青铜铸造水平世界领先

【分析】本题考查青铜器，掌握相关的基础知识。

【解答】根据所学可知，“鸟尊”是第一手资料，有助于对晋国历史的研究，故A符合题意；甲骨文能体现汉字的造字方法和造字特点，故B不符合题意；由材料“晋侯太室宝尊彝”可知，晋侯鸟尊是晋侯燮命人所铸，不能体现晋国是最早实行分封制的诸侯国，故C不符合题意；晋侯鸟尊体现了晋国的青铜铸造艺术，但体现不出“领先”，故D不符合题意。

故选：A。

3. (2分) 人类可以利用自然、改造自然，但是这些活动必须建立在尊重客观规律的基础上。下列有关中国古代工程的论述，与上述观点相符的是()

- A. 凿峭壁，现神佛
- B. 天下转漕，仰此一渠
- C. 深淘滩、低作堰
- D. 山川形便，犬牙相入

【分析】本题主要考查了都江堰的史实，都江堰建成之后，成都平原成为沃野，被称为“天府之国”。

【解答】根据所学可知“深淘滩、低作堰”是指都江堰修建指导思想，意思是将河内的淤泥尽可能深的掏出去，以便能够容纳更多的河水，战国时期李冰主持修建都江堰，成为利用自然，改造自然的典范，C项正确；A项是指在山上开凿石窟，必然破坏植被等，是不尊重客观规律的工程，排除；B项是指大运河的开凿，人工开凿运河会从个人主观意图出发，在一定程度影响周边自然河流的流向进行干扰或改变，没有尊重客观规律，排除B项；D项是中国行政区划的原则，与古代工程无关，排除。

故选：C。

4. (2分) 柳宗元在《封建论》中指出：“秦之失在于政。”《汉书·景帝纪》中写道：“汉兴，扫除烦苛，与民休息。”以上两则材料说明（ ）

- A. 秦汉的政治制度各有所长
- B. 汉朝完全摒弃秦朝的制度
- C. 法道两家的理念水火不容
- D. 国家治理政策应适时调整

【分析】本题考查秦的暴政、文景之治，掌握相关的基础知识。

【解答】两则材料说明国家治理政策应适时调整。秦朝实行暴政导致速亡，汉朝实行休养生息政策，国家繁荣富强。

故选：D。

5. (2分) 如图所示的局面，形成于（ ）



- A. 西汉初年
- B. 东汉末年
- C. 三国时期
- D. 两晋时期

【分析】本题考查了东汉末年的局势。曹操是东汉末年著名的政治家、军事家、诗人。

【解答】曹操是东汉末年人物，图示形成曹操、刘备、孙权三足鼎立。故如图所示的局面，形成于东汉末年，B符合题意。

以上内容仅为本文档的试下载部分，为可阅读页数的一半内容。如要下载或阅读全文，请访问：<https://d.book118.com/098137044140007050>