

四川遂宁市第二中学校数学七年级上册整式的加减必考点解析


考试时间：90 分钟；命题人：教研组

考生注意：

- 1、本卷分第 I 卷（选择题）和第 II 卷（非选择题）两部分，满分 100 分，考试时间 90 分钟
- 2、答卷前，考生务必用 0.5 毫米黑色签字笔将自己的姓名、班级填写在试卷规定位置上
- 3、答案必须写在试卷各个题目指定区域内相应的位置，如需改动，先划掉原来的答案，然后再写上新的答案；不准使用涂改液、胶带纸、修正带，不按以上要求作答的答案无效。

第 I 卷（选择题 20 分）

一、单选题（10 小题，每小题 2 分，共计 20 分）

1、某天数学课上老师讲了整式的加减运算，小颖回到家后拿出自己的课堂笔记，认真地复习老师在课堂上所讲的内容，她突然发现一道题目： $(2a^2 + 3ab - b^2) - (-3a^2 + ab + 5b^2) = 5a^2$  $- 6b^2$ ，空格的地方被墨水弄脏了，请问空格中的一项是（ ）

- A. $+2ab$ B. $+3ab$ C. $+4ab$ D. $-ab$

2、下列不能用 $4m$ 表示的是（ ）

- A. 葡萄的价格是 4 元/千克，买 m kg 葡萄的价钱
- B. 一个正方形的边长是 m ，这个正方形的周长
- C. 甲平均每小时加工 m 个零件， $4h$ 后共加工的零件个数
- D. 若 4 和 m 分别表示一个两位数中的十位数字和个位数字，表示这个两位数

3、若 $x + y = 2$ ， $z - y = -3$ ，则 $x + z$ 的值等于（ ）

- A. 5 B. 1 C. -1 D. -5

4、代数式 $3x^2y - 4x^3y^2 - 5xy^3 - 1$ 按 x 的升幂排列，正确的是（ ）

- A. $-4x^3y^2 + 3x^2y - 5xy^3 - 1$ B. $-5xy^3 + 3x^2y - 4x^3y^2 - 1$

C. $-1+3x^2y-4x^3y^2-5xy^3$

D. $-1-5xy^3+3x^2y-4x^3y^2$

5、下列是按一定规律排列的多项式： $-x+y$ ， x^2+2y ， $-x^3+3y$ ， x^4+4y ， $-x^5+5y$ ， x^6+6y ， \dots ，则第 n 个多项式是（ ）

A. $(-1)^n nx^n+ny$

B. $-1nx^n+ny$

C. $(-1)^{n+1}nx^n+ny$

D. $(-1)^n nx^n+(-1)^n ny$

6、 m 、 n 都是正整数，则多项式 $x^m+2y^n-3^{m+n}$ 的次数是（ ）

A. m

B. $m+n$

C. $2m+2n$

D. 不能确定

7、下列去括号错误的个数共有（ ）。

① $2y^2-(3x-y+3z)=2y^2-3x-y+3z$ ；

② $9x^2-[y-(5z+4)]=9x^2-y+5z+4$ ；

③ $4x+[-6y+(5z-1)]=4x-6y-5z+1$ ；

④ $-(9x+2y)+(z+4)=-9x-2y-z-4$ 。

A. 0 个

B. 1 个

C. 2 个

D. 3 个

8、如果 $xy \neq 0$ ， $\frac{1}{3}xy^2+axy^2=0$ ，那么 a 的值为（ ）

A. -3

B. $-\frac{1}{3}$

C. 0

D. 3

9、下列说法中，正确的是（ ）

A. 0 不是单项式

B. $\frac{\pi a}{2}$ 的系数是 $\frac{1}{2}$

C. xyz^2 的次数是 4

D. $2x^2-3x-1$ 的常数项是 1

10、式子 $x+yz$ ， $-2x$ ， ax^2+bx+c ， 0 ， $\frac{x^2y}{\pi-1}$ ， a ， $\frac{b}{x}$ 中，下列结论正确的是（ ）

A. 有 4 个单项式， 2 个多项式

B. 有 3 个单项式， 3 个多项式

C. 有 5 个整式

D. 以上答案均不对

第II卷（非选择题 80分）

二、填空题（10 小题，每小题 3 分，共计 30 分）

1、已知有理数 a 和有理数 b 满足多项式 A ， $A = (a-1)x^3 + x^{|b+2|} - x^2 + bx - a$ 是关于 x 的二次三项式，则 $a =$ _____， $b =$ _____；当 $x = -2$ 时，多项式 A 的值为_____。

2、 $-\frac{2\pi x^3 y}{5}$ 的系数是_____。

3、已知关于 x, y 的多项式 $xy - 5x + mxy + y - 1$ 不含二次项，则 m 的值为_____。

4、若 x 是不等于 1 的实数，我们把 $\frac{1}{1-x}$ 称为 x 的差倒数，如 2 的差倒数是 $\frac{1}{1-2} = -1$ ，-1 的差倒数为 $\frac{1}{1-(-1)} = \frac{1}{2}$ ，现已知 $x_1 = -\frac{1}{3}$ ， x_2 是 x_1 的差倒数， x_3 是 x_2 的差倒数， x_4 是 x_3 的差倒数， \dots ，依此类推，则 $x_{2022} =$ _____。

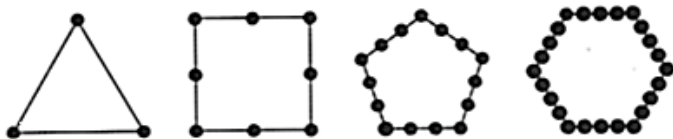
5、观察下列一系列数：

按照这种规律排下去，那么第 8 行从左边数第 14 个数是_____。

-1
 2 -3 4
 -5 6 -7 8 -9
 10 -11 12 -13 14 -15 16
 ...

6、一组按规律排列的式子： $-\frac{b^2}{a}, \frac{b^5}{a^2}, -\frac{b^8}{a^3}, \frac{b^{11}}{a^4}, \dots$ ($ab \neq 0$)，其中第 7 个式子是_____，第 n 个式子是_____ (n 为正整数)。

7、如图，把同样大小的黑色棋子摆放在正多边形的边上，按照这样的规律摆下去，则第 20 个图需要黑色棋子的个数为_____。



8、已知单项式 $2a^4 b^{-2m+7}$ 与 $3a^{2m} b^{n+2}$ 是同类型项，则 $m+n =$ _____。

9、如果多项式 $4x^3 - 2x^2 - (kx^2 + 17x - 6)$ 中不含 x^2 的项，则 k 的值为_____

10、多项式 $a^3b - a^2 + 3ab^2 - 4a^5 + 3$ 是_____次_____项式，按 a 的降幂排列的结果_____.

三、解答题（5 小题，每小题 10 分，共计 50 分）

1、已知多项式 $2x^2 + \frac{2}{5}x^3 + x - 5x^4 - \frac{1}{3}$.

(1) 请指出该多项式的次数，并写出它的二次项和常数项；

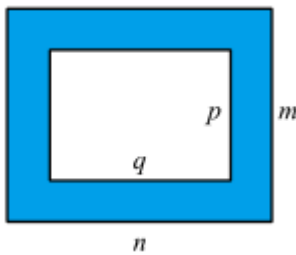
(2) 把这个多项式按 x 的指数从大到小的顺序重新排列.

2、已知 $|a-2| + |b+3| = 0$ ，试求：

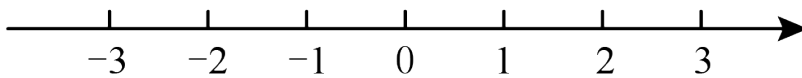
(1) $a+b$ 的值；

(2) $|a|+|b|$ 的值.

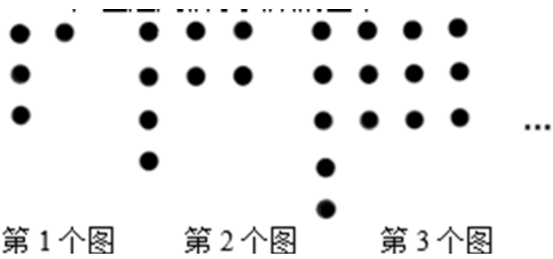
3、如图，用字母表示图中阴影部分的面积.



4、在数轴上点 A 表示数 a ，点 B 表示数 b ，点 C 表示数 c ，并且 a 是多项式 $-x^2 - 3x + 1$ 的二次项系数， b 是绝对值最小的数， c 是单项式 $-\frac{1}{2}x^2y$ 的次数. 请直接写出 a 、 b 、 c 的值并在数轴上把点 A 、 B 、 C 表示出来.



5、如图是用棋子摆成的图案：



根据图中棋子的排列规律解决下列问题：

(1) 第 4 个图中有_____颗棋子，第 5 个图中有_____颗棋子；

(2) 猜想第 n 个图案中棋子的颗粒(用含 n 的式子表示)。

-参考答案-

一、单选题

1、A

【解析】

【分析】

将等式右边的已知项移到左边，再去括号，合并同类项即可。

【详解】

解：依题意，空格中的一项是：

$$(2a^2+3ab-b^2) - (-3a^2+ab+5b^2) - (5a^2-6b^2) = 2a^2+3ab-b^2+3a^2-ab-5b^2-5a^2+6b^2=2ab.$$

故选 A.

【考点】

本题考查了整式的加减运算，熟练掌握移项的知识，同时熟记去括号法则，熟练运用合并同类项的法则解题的关键.

2、D

【解析】

【分析】

对选项逐个计算，查看是否为 $4m$ 即可.

【详解】

解：A. m 千克葡萄的价钱是 $4m$ ，不合题意；

B. 正方形的周长是 $4m$ ，不合题意；

C. 甲 $4h$ 后共加工 $4m$ 个零件，不合题意；

D. 这个两位数是 $4 \times 10 + m$ ，也就是 $40 + m$ ，符合题意.

故选D.

【考点】

此题考查了根据题意列代数式，解题的关键是理解题意.

3、C

【解析】

【分析】

将两整式相加即可得出答案.

【详解】

$$\because x+y=2, \quad z-y=-3,$$

$$\therefore (x+y)+(z-y)=x+z=-1,$$

$$\therefore x+z \text{ 的值等于 } -1,$$

故选：C.

【考点】

本题考查了整式的加减，熟练掌握运算是解本题的关键.

4、D

【解析】

【分析】

先分清多项式的各项，然后按多项式升幂排列的定义排列.

【详解】

解： $3x^2y-4x^3y^2-5xy^3-1$ 的项是 $3x^2y$ 、 $-4x^3y^2$ 、 $-5xy^3$ 、 -1 ，

按 x 的升幂排列为 $-1-5xy^3+3x^2y-4x^3y^2$ ，故 D 正确；

故选 D.

【考点】

考查了多项式，我们把一个多项式的各项按照某个字母的指数从大到小或从小到大的顺序排列，称为按这个字母的降幂或升幂排列. 要注意，在排列多项式各项时，要保持其原有的符号.

5、A

【解析】

【分析】

从三方面（符号、系数的绝对值、指数）总结规律，再根据规律进行解答便可.

【详解】

解：按一定规律排列的多项式： $-x+y$ ， x^2+2y ， $-x^3+3y$ ， x^4+4y ， $-x^5+5y$ ， x^6+6y ， \dots ，

则第 n 个多项式是： $(-1)^n nx^n+ny$ ，

故选：A.

【考点】

本题考查的是整式中的多项式的规律探究，掌握探究的方法是解题的关键.

6、解：“ a 的 2 倍与 3 的和”是 $2a+$

故选 B.

【考点】

此题考查列代数式，解决问题的关键是读懂题意，找到所求的量的数量关系，注意字母和数字相乘的简写方法.

3. D

【解析】

【分析】

多项式的次数是“多项式中次数最高的项的次数”，因此多项式 $x^m + 2y^n - 3^{m+n}$ 的次数是 m, n 中的较大数是该多项式的次数.

【详解】

单项式 x^m 的次数是 m ，单项式 $2y^n$ 的次数是 n ， -3^{m+n} 是常数项，

又因为未知 m 和 n 的大小，所以多项式的次数无法确定，

故选：D .

【考点】

此题考查多项式，解题关键在于掌握其定义.

7、D

【解析】

【分析】

根据整式加减的计算法则进行逐一求解判断即可.

【详解】

解：① $2y^2 - (3x - y + 3z) = 2y^2 - 3x + y - 3z$ ，故此项错误；

② $9x^2 - [y - (5z + 4)] = 9x^2 - y + 5z + 4$ ，故此项正确；

③ $4x + [-6y + (5z - 1)] = 4x - 6y + 5z - 1$ ，故此项错误；

④ $-(9x + 2y) + (z + 4) = -9x - 2y + z + 4$ ，故此项错误；

故选 D.

【考点】

本题主要考查了整式的加减运算，解题的关键在于能够熟练掌握相关知识进行求解.

8、B

【解析】

【分析】

根据同类项的定义可知， $\frac{1}{3}xy^2$ 和 axy^2 是同类项，两数和为 0，且 $xy \neq 0$ ，则系数 $\frac{1}{3}$ 和 a 互为相反数，求解即可.

【详解】

$\because xy \neq 0$ ， $\frac{1}{3}xy^2 + axy^2 = 0$ ，则 $\frac{1}{3}xy^2$ 和 axy^2 是同类项，

\therefore 系数互为相反数，

$$\therefore \frac{1}{3} + a = 0,$$

$$\text{即 } a = -\frac{1}{3},$$

故选：B.

【考点】

本题考查了同类项的定义，相反数的定义，熟记同类项的定义是解题的关键.

9、C

【解析】

【分析】

根据单项式和多项式的定义选出正确选项.

【详解】

以上内容仅为本文档的试下载部分，为可阅读页数的一半内容。如要下载或阅读全文，请访问：<https://d.book118.com/105043231233012022>