

小学二年级上册数学应用题 100 道

一. 解答题(共 100 题, 共 582 分)

1. 一根绳子对折后再对折是 9 米, 这根绳子长多少米?
2. 下面是洋洋、小春和小星在云顶会上得到的分数。

洋洋	小春	小星
18 分	36 分	40 分

- (1) 洋洋比小春少得多少分?
- (2) 小星比洋洋多得多少分?

3. 停车场有小汽车 8 辆, 大卡车的辆数是小汽车的 6 倍, 停车场有小汽车和大卡车多少辆?
4. 多少个苹果?



5. 小刚: 我家种了两行桃树, 一行 6 棵, 一行 4 棵。

小红: 我家种了两行桃树, 每行 6 棵。

- (1) 小红家一共种了多少棵桃树?
- (2) 小刚家一共种了多少棵桃树?

6. 一本 24 页的画册, 小丽每天读 3 页几天读完? 每天读 4 页呢?
7. 小明有 37 张邮票, 红红有 21 张邮票, 两人一共有多少张?
8. 一张桌子配一把椅子, 还差多少把椅子?




9. 二年级有 6 排座位，每排坐 7 个同学。一共可以坐几个同学？
10. 做一套衣服要用布 3 米，做 8 套这样的衣服一共要用布多少米？
11. 有 4 箱皮球，每箱 8 个，还有一箱有 7 个，一共有多少个皮球？
12. 龙虾游了 100 厘米，小鱼游了 3 米，小鱼比龙虾多游了多少米？
13. 图书角有 13 本故事书，科普书比故事书多 29 本。故事书和科普书一共多少本？
14. (1) 1 件衣服钉 5 粒纽扣，王师傅要做 9 件衣服，需要几粒纽扣？

$$\square \circ \square = \square \text{ (粒)}$$

- (2) 小明衣服上有 5 个扣子，小青衣服上有 6 个扣子，他们两个一共有多少粒扣子？

$$\square \circ \square = \square \text{ (粒)}$$

15. 小亚有几个面包？镜子里的小亚有几个面包？



16. 快餐店里香辣鸡腿堡原来 9 元 1 个，现在优惠促销 3 个 21 元。现在每个多少钱？比原来便宜多少钱？
17. 看图回答。




18. 有两盘苹果，甲盘有 8 个，如果从甲盘里拿出 2 个放入乙盘，那么两盘苹果同样多，乙盘原有多少个苹果？
19. 修车场停了 16 辆汽车，开走一些后，还剩 7 辆。开走了多少辆？

20. 一、二年级有 6 个班，每个班有 4 人参加舞蹈组，一共有多少人？后来，舞蹈组增加了 10 人，现在舞蹈组有多少人？
21. 现在车上有多少人？



22. 小青蛙甲一跳从 0 跳到了 7 刻度，小青蛙乙一跳从 2 跳到了 8 刻度，谁跳的比较远？
23. 1 件衣服需要 5 颗扣子，4 件这样的衣服需要多少颗扣子？(用两种方法解答)
24. 小明搬砖，每次可运 5 块。共有 25 块砖，需要几次才能搬完？
25. 1 张桌子 4 条腿，4 张桌子几条腿？
26. 小明和小芳一起跳绳，小明跳了 60 下，小芳跳了 48 下，小芳再跳多少下就和小明一样多？
27. 二年级手工课折“幸运星”，如果每班折 3 杯，6 个班一共能折多少杯？
28. 停车场里有小汽车 35 辆，公交车比小汽车少 8 辆，大卡车比公交车多 6 辆，有多少辆公交车？多少辆大卡车？
29. 这本书一共有多少页？




$$\square \bigcirc \square = \square \text{ (页)}$$

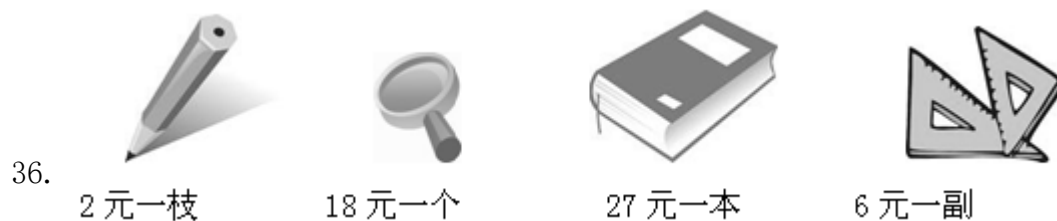
30. 奇奇拍了 62 下，小芳拍了 22 下。小红拍的比他们两个的和少 8 下。你知道小红拍了多少下？
31. 学校田径运动队，男生 52 人，女生 40 人，女生比男生少多少人？
32. 摘了 27 个桃子，吃了一些，还剩 6 个。吃了多少个桃？有小朋友算得吃了 24 个，他计算的对不对请你用加法检验，并写出检验过程。

33. 宁宁是个小书迷，她从图书馆借了一本《格林童话》，她每天看 9 页，6 天看多少页？还剩下 36 页没有看，这本书共有多少页？

34. 如图，每相邻两棵松树相隔 5 米，小兔从第 1 棵松树处跑到第 5 棵松树处，它跑了多少米？



35. 一件睡衣 25 元，一条裙子 48 元。妈妈买这两件衣服一共花了多少钱？



36.

2 元一枝

18 元一个

27 元一本

6 元一副

(1) 买一枝铅笔，一个放大镜和一本书，一共需要多少元？

(2) 40 元你可以同时买那三件商品，还剩下多少钱？

(3) 你能提出一个用乘法解决的问题，并解答吗？

37. 小巧有 36 张云南丽江的明信片，从中选出 4 张送给小亚。小巧还有多少张明信片？

38. 二（1）班有女生 13 人，男生 17 人，又转来 5 人，二（1）班现在多少人？

39. 有 24 条红金鱼、10 条黑金鱼和 6 条黄金鱼。再放多少条黄金鱼，就和红金鱼同样多？

40. 小军有 25 本故事书，妈妈又买来 8 本，小军一共有多少本？

41. 幼儿园小班有 20 辆玩具车，幼儿园中班有 30 辆玩具车，幼儿园大班有 52 辆玩具车。

- (1) 幼儿园大班和小班一共有多少辆玩具车？
 (2) 幼儿园小班几辆玩具车就和大班一样多？

42. 争星比赛。



- (1) 小红得了多少颗星？
 (2) 他们三人一共得了多少颗星？

43. 有4堆书，每堆5本，一共有多少本书？

44. 马小虎计算56加一个一位数时，把这个一位数加到十位上去了，结果是

96。正确的结果应是多少呢？

45. 商店原有钢笔74枝，卖出32枝，又购进49枝，现在商店有钢笔多少枝？

46. 一本书80页，小明第一天看了12页，第二天看了23页。

- (1) 第一天比第二天少看多少页？
 (2) 两天一共看了多少页？


47. 你能提出什么数学问题？解答出来。



48. 工艺品厂的小王1小时可以在8个花瓶上各画1只猫，小王从8:30开始工作到11:30，可以画多少只猫？

49. 用一根长18米的木棍量水深，木棍插到底后，露出水面部分是6米，水深多少米？

50. 每盒有 4 只苹果，小胖买了 3 盒；另外还有 2 只是昨天剩下的，现在小胖一共有几只苹果？



51. 逛超市。



(1) 明明买一个球和一辆玩具小汽车，共用了多少钱？

(2) 小力买了 5 辆玩具小汽车，共用了多少钱？

52. 小明有 35 本书，小丽有 20 本书。

(1) 小明比小丽少多少本书？

(2) 小丽比小明多多少本书？

(3) 两人一共有多少本书？

53. 小明要写 25 个字，已经写了 8 个，还要写几个才写完？

54. 买 8 枝找回 52 元，付了多少钱？



郁金香每枝 6 元

55. 每两棵树之间的距离是 4 米，小明从第一棵树跑到第七棵树，一共跑了多少米？



56.

(1) 红红有多少张图片？

(2) 军军有多少张图片？


57. 姐姐给小英 7 块糖，剩下的分给小丽。小英分得的块数是小丽的一半，给小丽多少块糖？

58. 看图回答。

美丽家园



数一数。

你能数出铺路石有_____个  ，共_____个角，有_____个



，共有_____个角。铺路石共有_____个角。

59. 把一根木头锯成 5 段，要锯几次？如果每锯一次用 3 分钟，一共要用多少分钟？

60. 白兔拔了 22 个萝卜，灰兔拔了 35 个萝卜，白兔比灰兔少拔了多少个萝卜？

$$\square \bigcirc \square = \square \quad (\quad)$$

61. 小黑猫钓了 9 条鱼，小白猫钓的鱼数是小黑猫的 3 倍，小灰猫比小白猫少钓 5 条，小灰猫钓了多少条鱼？

62. 画角。一个角由一个顶点两条边组成。

63. 学校食堂买来 24 棵大白菜，每筐装 4 棵，可以装几筐？

64. 排球 65 元，足球比排球贵 9 元，篮球比排球便宜 16 元。

(1) 一个足球要多少元？

(2) 你还能提出什么问题？并解答。

问题:

列式:

65. 小红、小华、小英一起做红花, 每人做了 8 朵, 一共做了多少朵?



66. 文具店里 1 个笔袋卖 22 元, 一盒水彩笔卖 16 元, 小刚买了 1 个笔袋和一盒水彩笔, 付给售货员 45 元钱, 应找回多少元钱?

67. 小明今年 8 岁, 爷爷今年 72 岁, 爸爸的年龄是小明的 6 倍。

(1) 爸爸今年多少岁?

(2) 爷爷比爸爸大多少岁?

68. 摆一摆, 说一说.

第一行摆 5 根  , 第二行摆的  比第一行多 4 根。

(1) 同样多的有几根?

(2) 第一行比第二行少几根?

(3) 第一行和第二行相差几根?

69. 操场上跳绳的有 4 人, 踢足球的人数是跳绳的 6 倍, 踢足球的有多少人?

70. 看图回答。



(1) 买一个台灯和一个乒乓球拍共需多少钱？

(2) 买录音机、牙膏、篮球共需多少钱？

(3) 买一支钢笔、一个闹钟和一个篮球，付了 100 元，应找回多少钱？

71. 一套《童话故事》共有 8 本，每本 7 元，小亮买一套，需要多少钱？

72. 小智有 50 元，小明有 40 元钱。



15 元



38 元



27 元



12 元

(1) 小智能买什么？剩多少元？

(2) 他们分别买三种玩具、钱够吗？怎么办？

73. 小小超市。





55 元



30 元



20 元

(1) 一架  比一艘  多多少元？

以上内容仅为本文档的试下载部分，为可阅读页数的一半内容。如要下载或阅读全文，请访问：

<https://d.book118.com/107116160051010032>