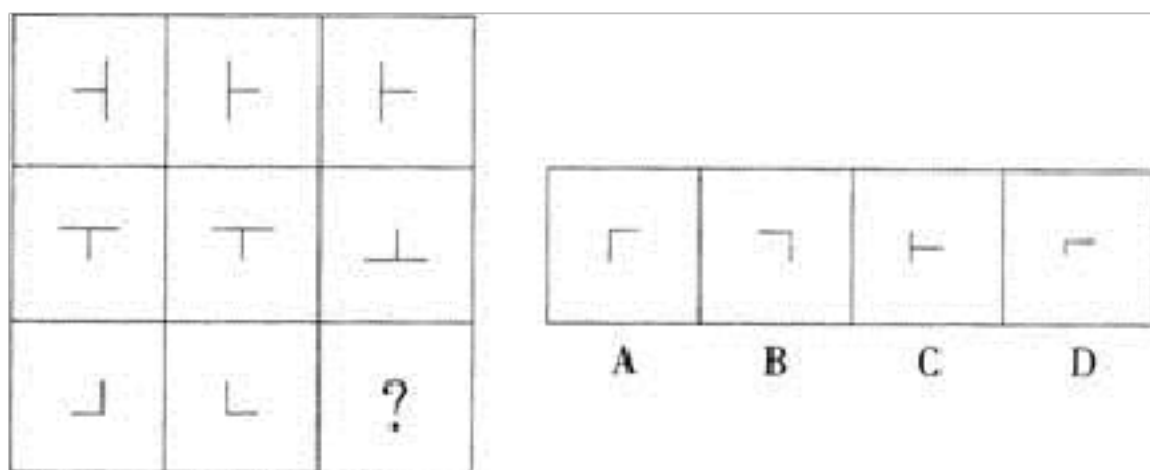


# 2021 年安徽省六安市公务员省考行政职业能力测验真题二卷(含答案)

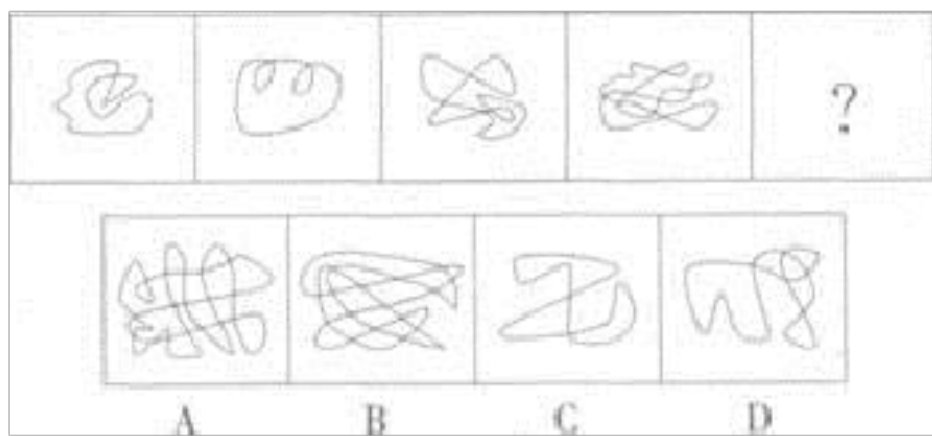
学校：\_\_\_\_\_ 班级：\_\_\_\_\_ 姓名：\_\_\_\_\_ 考号：\_\_\_\_\_

## 一、图形推理(6题)

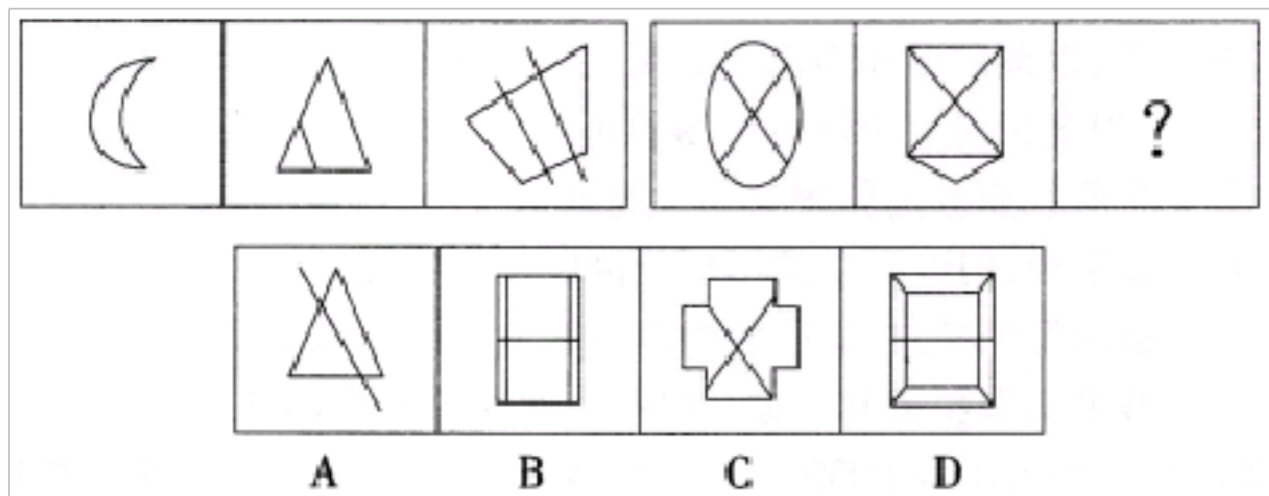
1.从所给的四个选项中，选择最合适的一个填入问号处，使之呈现一定的规律性：



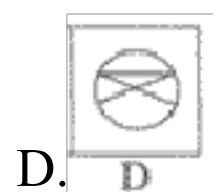
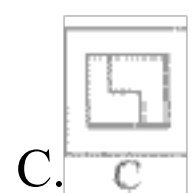

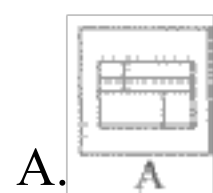
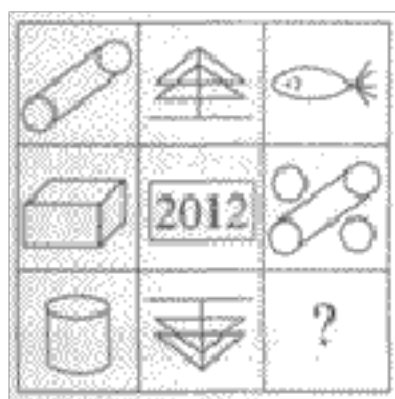
2. 从所给的四个选项中，选择最合适的一个填入问号处，使之呈现一定的规律性：




3.从所给的四个选项中，选择最合适的一个填入问号处，使之呈现一定的规律性：



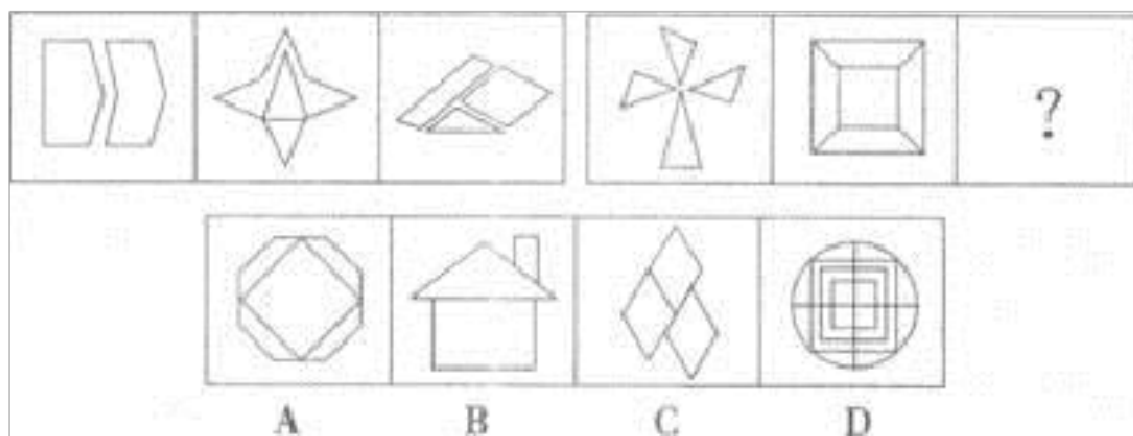
4.从所给的四个选项中，选择最合适的一个填入问号处，使之呈现一定的规律性。( )



5. 从所给的四个选项中，选择最合适的一个填入问号处，使之呈现一定的规律性。



6. 从所给的四个选项中, 选择最合适的一个填入问号处, 使之呈现一定的规律性:



## 二、定义判断(10题)

7. 对比效应是指自己与别人相比较时, 感觉到与比较目标的差距, 从而产生消极的情感体验。与之相对的是投射效应, 即在认知或对他人形成印象时, 以为他人也具备与自己相似的特性, 即推己及人的情形。根据上述定义, 下列属于对比效应的是()。

- A. 庞统去见孙权, 权见其人形容古怪, 心中不喜; 庞统又去见刘备, 刘备见统貌陋, 心中也不悦
- B. 一个长相中等的女性与一个她不认识的漂亮女性走在一起时觉得自己很难看

- C. 本性自卑的人，认为所有的人都很自卑，所以觉得生活很无聊
- D. 疑心重的人，认为别人老在怀疑自己

8. 替代效应是指当某种税的征收或税率变化影响相对价格或相对效益时，人们就选择另一种消费或活动来代替原先的消费或活动。

根据上述定义，下列不涉及替代效应的是（ ）。

- A. 我国加入 WTO 后，不少进口商品的税率降低，人们更多地选购这些商品
- B. 工资累进税率提高后，不少白领阶层选择用休息的方式来代替部分工作时间
- C. 1747 年英国曾征收窗户税，为了避免纳税，多数人纷纷将自家的窗户堵上
- D. 国家开始对工业锅炉烧用的原油征税以后，不少企业纷纷更新设备或改用其他原料

9. 意见领袖是指在人际传播网络中经常为他人提供信息，同时对他人施加影响的“活跃分子”，他们在大众传播效果的形成过程中起着重要的中介或过滤的作用，由他们将信息扩散给受众，形成信息传递的两级传播。

根据上述定义，下列属于意见领袖的是（ ）

- A. 某品牌手机用户都喜欢上该手机的论坛，他们认为这个论坛提供的消息最准确

B.在工作中，小曹任何事情都对领导的命令坚决执行，他认为服从领导是正确的的工作方法

C.王丽和赵雪是十多年的好朋友，王丽经常在时政问题上给赵雪以指导，但在流行时尚方面赵雪则是王丽的老师

D.小白对电脑一窍不通，他在电脑城里与很多卖家交流后，选择了一位看起来很亲切的卖家卖的电脑

10.

不作为，是指以消极的没有外部举动的方式表现出来的法律行为。根据上述定义，下列不属于不作为的是：

A.公安人员看到有人持枪抢劫银行却坐视不管

B.行政复议机关对老王的复议申请一直拖延，不作任何处理

C.李某因口角生恨而将迷幻药放入王某杯中

D.交警对出租车司机违章驾驶熟视无睹

11.印象管理：是指一个人通过一定的方式影响别人形成的对自己的印象的过程。它是自我调节的一个重要方面，也包括了与他人的社会互动，是自我认知观点的核心。人类的一种基本动机是，不论个体在组织内部还是组织外部，都渴望被别人积极看待，避免被别人消极看待。试图使别人积极看待自己的努力叫获得性印象管理；而尽可能弱化自己的不足或避免使别人消极地看待自己的防御性措施是保护性印象管理。

根据上述定义，下列属于保护性印象管理的是（ ）。

- A.林处长平易近人。总是以身作则。最近单位为灾区募捐，他捐的钱物最多
- B.小张新来单位，对老员工孟某的意见总是虚心接受，并常常表示自己很佩服他
- C.小李工作后朋友很少，但他对同事说，他在大学读书时，学习和体育非常好，朋友也很多
- D.公司领导分配小王一项任务，小王很久没有完成，领导催促他时，他说：“这段时间我很忙，我会尽快做。”

12.路径依赖:是指人类社会中的技术演进或制度变迁均有类似于物理学中的惯性的表现，即一旦进入某一路径就可能对这种路径产生依赖，在社会演进过程中的作用有好有坏。

根据上述定义，下列史实能体现路径依赖及其积极作用的是：

- A.义和团“扶清灭洋”抗击外来侵略
- B.洋务派“中体西用”发起洋务运动
- C.英国继承宪章运动的精神和平渐进改良政治
- D.法国发扬传统轰轰烈烈闹革命

13.朝阳行业就是刚刚兴起，正在发展阶段，而且有相当大的发展空间的行业。而夕阳行业则是指行业内竞争非常激烈，已经发展得很完善而且技术水平已相当高，发展上升的空间很小，正在走下坡路的行业。

根据上述定义，下列各项属于夕阳行业的一项是（ ）。

- A.电子信息行业
- B.汽车
- C.生物工程
- D.通信行业

14.弹性原理.是指管理必须要有很强的适应性和灵活性,用以适应系统外部环境和内部条件千变万化的形势,实现灵活管理。

根据上述定义,下列体现了弹性原理的是:

- A.尽管企业并无规定,但许多员工在工作繁忙时会自觉选择加班
- B.《公务员法》中明确规定了公务员的职级评定及晋升办法
- C.学校实行封闭式管理方式,所有学生在规定期间严禁离开校园
- D.考虑到未来可能出现的多种情况和风险因素,多准备几套备用方案

15.“钓鱼网站”是一种网络欺诈行为,指不法分子利用各种手段,仿冒真实网站的 URL 地址以及页面内容,或者利用真实网站服务器程序上的漏洞在站点的某些网页中插入危险的 HTML 代码,以此来骗取用户银行或信用卡账号、密码等私人资料。

根据上述定义,下列涉及钓鱼网站的是( )。

- A.甲点击网上书城页面上的友情链接,进入了一个小说网站,他下载了几本小说后发现自己的电脑中了病毒,许多重要文件被恶意删除
- B.乙按照发件人为某银行的电子邮件的系统升级要求,通过邮件链接进

- 入账户页面，更换了账户密码，不久乙发现其账户内的资金不知去向
- C.丙在网上搜索治疗糖尿病的特效药，他购买了排在某搜索引擎第一位的药，没有任何疗效，经工商部门调查这家网站所售商品全部为假冒伪劣产品
- D.丁在某网上购物商城购买了一双鞋子，付款后迟迟没有收到货，愤而打电话给该商城投诉，被告知她上的网站是假冒的山寨网站

16.

习得性无助是指人或动物经历了某种学习后，面对反复出现的不好的事件，感到难以控制从而学会放弃和感到无望的现象。下列选项中，不属于习得性无助的是：

- A.小明每次考试都不及格，于是产生了厌学情绪，上课开始不喜欢听讲，经常走神，有时还会捣乱课堂纪律
- B.小王每次都想把烟戒掉，但是每次总在关键时候又开始抽烟，因此他认为自己自制力太差，永远也不可能戒烟了
- C.由于没有完成公司的任务，小李认为自己肯定会被开除，因此感到非常的绝望
- D.把小狗关在笼里，每次铃声一响就电击它，小狗无法躲避电击。经过很多次以后，当把笼子的门打开，铃声再响起时，小狗也不会跑出笼子，而是等待电击

三、常识判断(10题)

17.第 97 题 下列不属于公务员的是：

- A.某县公安局刑警队队长 B.某省高级人民法院副院长 C.某市中学校  
长 D.某民主党派机关干部

18.哲学与具体科学之间的最主要区别是（ ）。

- A. 哲学是一门抽象的理性学说，具体科学是具体化感性学说  
B. 哲学研究世界发展最一般规律，具体科学研究世界单一领域或方面  
的规律  
C. 哲学具有民族性、阶级性，具体科学没有国界，是超阶级的学说  
D. 哲学思想源于理论斗争，具体科学研究源于实践需要

19. 下列“谦称”的说法，错误的是：

- A.愚，谦称自己不聪明 B.鄙，谦称自己学识浅薄 C.敝，谦称自己说话  
冒昧，多有得罪 D.卑，谦称自己身份低下

20.第 4 题 书写公文中的成文日期应使用（ ）。

- A. 阿拉伯数字  
B. 汉字  
C. 汉字大写  
D. 汉字与阿拉伯数字皆可

21.第 83 题 磁悬浮列车速度快、无噪声、无污染、无振动，它所使用的  
材料主要是（ ）。

- A. 信息材料
- B. 纳米材料
- C. 智能材料
- D. 超导材料

有时会发生煤气中毒,其原因是:

- A.煤不完全燃烧产生的一氧化碳会阻止人的血液与氧的结合
- B.煤燃烧产生的二氧化碳使人窒息
- C.煤炭燃烧后产生的气体有剧毒
- D.有些人对煤燃烧后的气体过敏

23.纳税人缴纳税款后,用骗取出口退税的方法,骗取所缴纳的税款的,应定( )

- A.骗取出口退税罪
- B.诈骗罪
- C.偷税罪
- D.逃避追缴欠税罪

24. [3]2008年测绘资质单位中民营企业数量约为水电类企业数量的4倍。

- A. [1][2]
- B. [2][3]
- C. [1][3]
- D. [1][2][3]

25.第72题 制度经济学认为,( )是同时包含“冲突、依存和秩序”这三种成分的“最小的单位”,是分析经济制度的基本范畴。

- A. 交易
- B. 价格
- C. 商品
- D. 风险

26. 党的建设是中国革命取得胜利的三大法宝之一。在党的建设历程中

开展的运动： 瓦窑堡会议，②六届六中全会，③延安整风运动，④古田会议，按时间先后顺序排列正确的是( )

A.④①③② B.④①②③ C.①④②③ D.①③④②

#### 四、数量关系(10题)

27.几位同学一起计算他们某次数学考试的平均分。如果他们的得分总和再提高 8 分，那么他们的平均分就达到 90 分；如果他们的得分总和降低 12 分，那么他们的平均分就只有 85 分。问他们实际的平均分是：

A.89 B.88 C.87 D.86

28.第 117 题 姐姐有 3 200 元钱，弟弟有 2 800 元钱，弟弟给姐姐多少钱后，姐姐的钱比弟弟的钱多 3 倍？ ( )。

A. 1 600  
B. 1 500  
C. 1 200  
D. 1 400

29.98 爸爸、哥哥、妹妹现在的年龄和是 64 岁。当爸爸的年龄是哥哥的 3 倍时，妹妹是 9 岁；当哥哥的年龄是妹妹的 2 倍时，爸爸 34 岁。现在爸爸的年龄是多少岁？

A. 34  
B. 39  
C. 40  
D. 43

以上内容仅为本文档的试下载部分，为可阅读页数的一半内容。如要下载或阅读全文，请访问：<https://d.book118.com/107154003004006052>