

第一单元第1课时《认识东、南、西、北》同步练习

一、填空题。

- 1、地图通常是按上（ ）、下（ ）、左（ ）、右（ ）绘制的。
- 2、太阳从____边升起，从____边落下。
- 3、早晨上学去，面向太阳走，前面是东，后面是____。
- 4、晚上，如果没有指南针，可利用北极星辨别方向，当我们面向北极星时，前面是____，后面是____，左面是____，右面是____。
- 5、上体育课时，同学们面向西，老师喊口令向左转，此时同学们面向____，左面是____方，后面是____。
- 6、要是你在野外迷了路，我们可以根据树叶的稀稠分辨方向，树叶稠的一面为____面。
- 7、电影院的南面是____，北面是____。



- 8、树的年轮较疏的向着南面，较密的向着____面。
- 9、树叶向北摆动，说明起的是_____。
- 10、四大发明中的_____是用来指示方向的。

二、单选题。

- 1、早晨，太阳从哪个方向升起？（ ）
A. 东 B. 南 C. 西 D. 北
- 2、与北方相对的方向是（ ）。

A. 东 B. 南 C. 西 D. 北

3、三(1)班教室的黑板在教室的西面，那么老师讲课时面向()面。

A. 东 B. 南 C. 西 D. 北

4、小明面向东，他背对着的方向是()。

A. 东 B. 南 C. 西 D. 北

5、傍晚，面向太阳，你的左手边是()。

A. 东 B. 南 C. 西 D. 北

6、如下图，影子在树的东边，那么太阳在树的()。



A. 东 B. 南 C. 西 D. 北

7、观察图片，傍晚时分，你的左面、右面、后面分别是哪一面？

A. 西、东、北 B. 西、东、南 C. 南、北、东 D. 南、东、北



8、指南针是我国的四大发明之一，不管把罗盘怎样转动，静止后，指针总是指向北方，另一方指向()。



A. 东 B. 南 C. 西 D. 北

9、秋天到了，大雁南飞，大雁的左侧是()。

A. 东 B. 南 C. 西 D. 北

10、清晨你面向太阳升起的方向，你的影子指向（ ）。

A. 东 B. 南 C. 西 D. 北

三、判断题。

1、当贝贝面向东面时，左手边是北面。（ ）

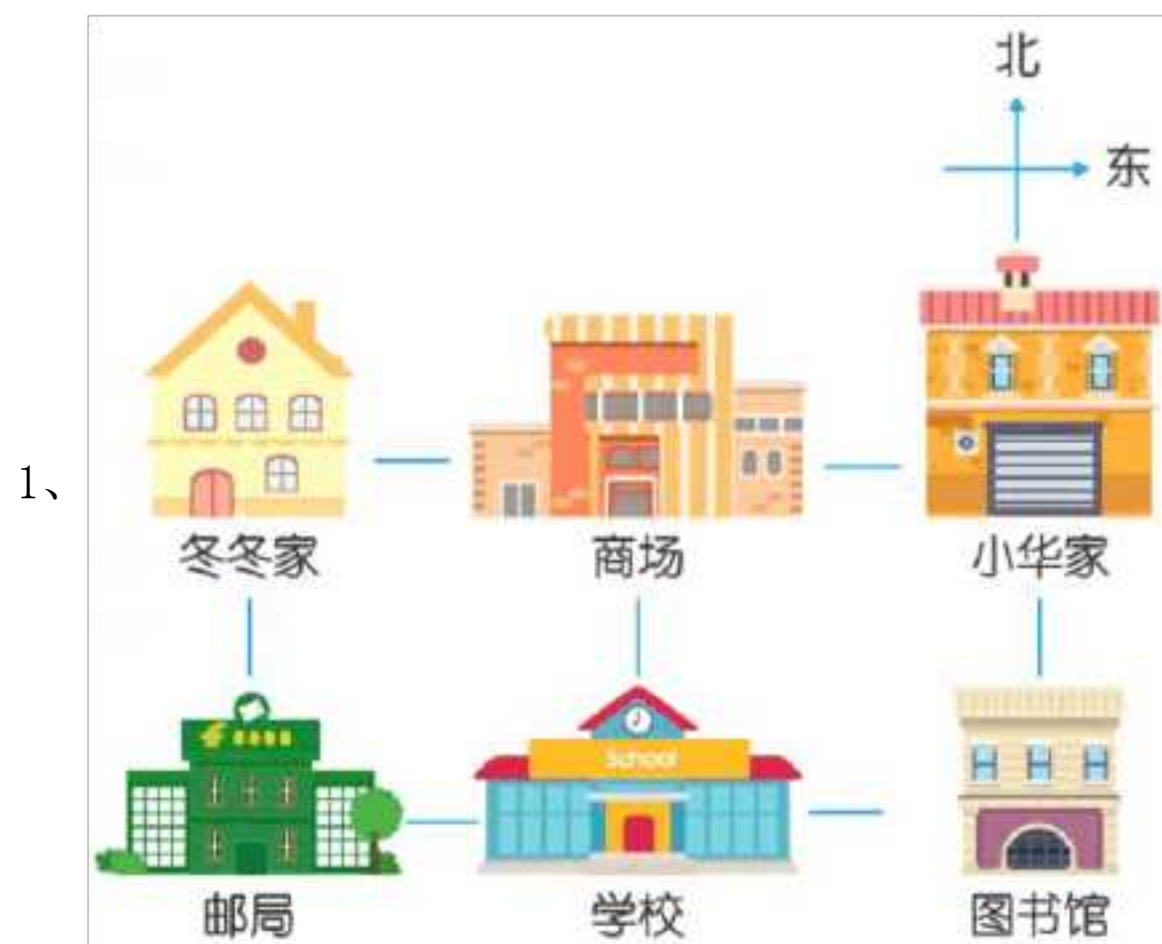
2、面对早晨的太阳，你的右边是北面。（ ）

3、晚上面对北极星时后面是北方。（ ）

4、当你看中国地图时，你的右边就是地图的西方。（ ）

5、红旗向北飘扬时，风从南边吹来。（ ）

四、解答题。



(1) 商场在学校的（ ），邮局在学校的（ ）面。

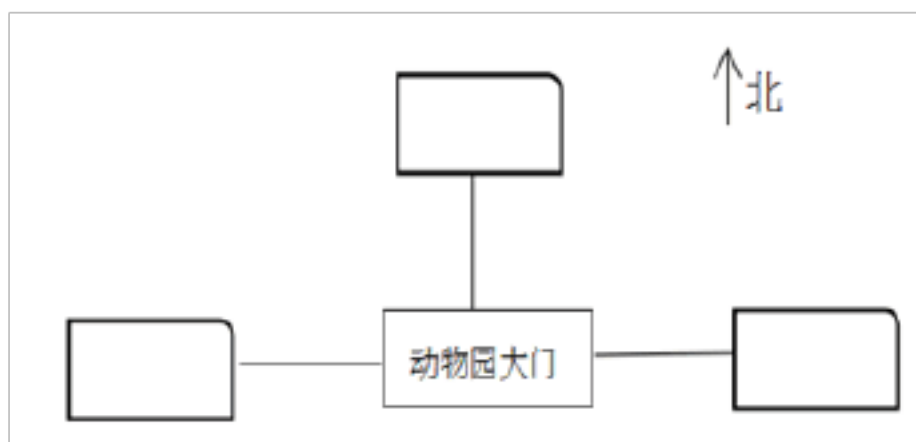
(2) 冬冬家在商场的（ ）面，小华家在图书馆的（ ）面。

(3) 图书馆在学校的（ ）面。

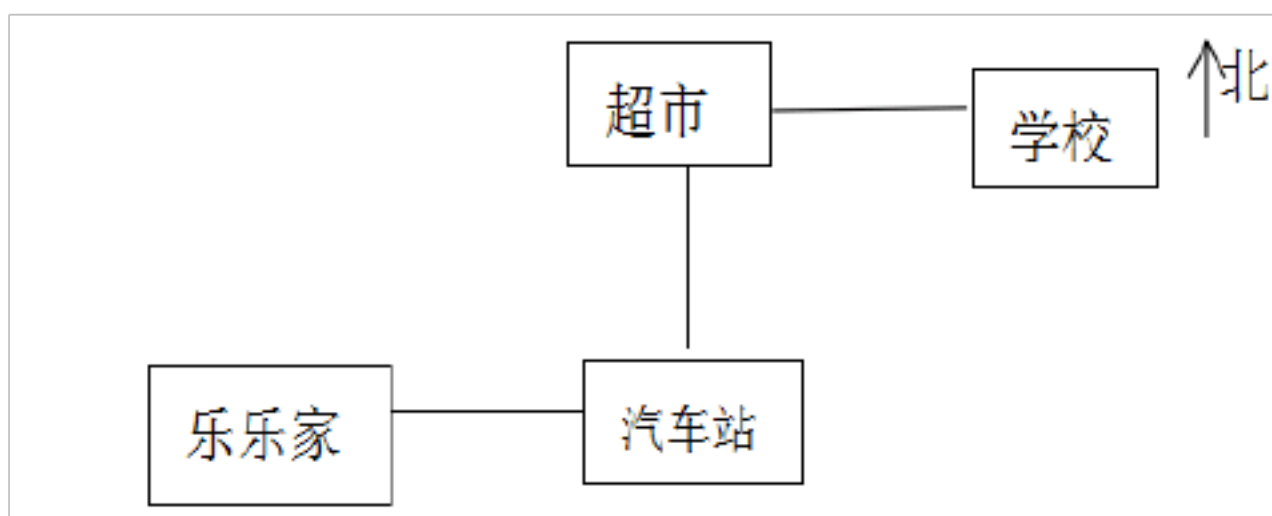
2、晶晶在校园示意图时，把上方定为西面。根据下面的示意图可以知道，教学楼和图书馆分别在校园的哪一面？



3、“走进动物园的大门，大门的正北面是熊猫，西面是长颈鹿，大门的东面是狮子。”请你根据描述，把这些动物填在适当的位置上。



4、根据下图说一说，乐乐从家到学校的路线。



第一单元第1课时《认识东、南、西、北》 参考答案

一、填空题。

1、地图通常是按上（ ）、下（ ）、左（ ）、右（ ）绘制的。

【答案】北、南、西、东

【解析】地图通常是按上北、下南、左西、右东的方向位置绘制的。

2、太阳从____边升起，从____边落下。

【答案】东；西

【解析】太阳是东升西落。

3、早晨上学去，面向太阳走，前面是东，后面是_____。

【答案】西

【解析】东与西相对。

4、晚上，如果没有指南针，可利用北极星辨别方向，当我们面向北极星时，前面是_____，后面是_____，左面是_____，右面是_____。

【答案】北；南；西；东

【解析】北与南相对，东与西相对。

5、上体育课时，同学们面向西，老师喊口令向左转，此时同学们面向_____，左面是_____方，后面是_____。

【答案】南；东；北

【解析】面向西，向左转，同学们将会面向南方，左边是东，后面是北。

6、要是你在野外迷了路，我们可以根据树叶的稀稠分辨方向，树叶稠的一面为_____面。

【答案】南

【解析】树都有向阳性，太阳照射的一面，树叶的光合作用强，生长就快，因此树叶稠密的一面是南面。

7、电影院的南面是_____，北面是_____。



【答案】公园；少年宫

【解析】地图通常按照上北下南，左西右东绘制的。

8、树的年轮较疏的向着南面，较密的向着_____面。

【答案】北

【解析】南与北相对。

9、树叶向北摆动，说明起的是_____。

【答案】南

【解析】因为树叶向北方摆动，所以风是由南方吹来，南方吹来的风就叫南风。

10、四大发明中的_____是用来指示方向的。

【答案】指南针

【解析】指南针是我们古代四大发明之一，指南针的磁针的北极指向北磁极，利用这一性能可以辨别方向。

【答案】

二、单选题。

1、早晨，太阳从哪个方向升起？ ()

A. 东 B. 南 C. 西 D. 北

【答案】A

【解析】根据生活常识回想得，早上太阳从东方升起，晚上太阳从西方落下。

2、与北方相对的方向是 ()。

A. 东 B. 南 C. 西 D. 北

【答案】B

【解析】回想位置与方向的知识，东与西相对，北与南相对；则得知与北方相对的方向是南方。

3、三(1)班教室的黑板在教室的西面，那么老师讲课时面向()面。

A. 东 B. 南 C. 西 D. 北

【答案】A

【解析】回想位置与方向的知识，东与西相对，北与南相对；则得知与西方相对的方向是东方；根据题意得知老师讲课时背对的是黑板，则得知老师背对的是教室的西面，面向的是教师的东面。

4、小明面向东，他背对着的方向是()。

A. 东 B. 南 C. 西 D. 北

【答案】C

【解析】根据题意得知，小明的前面是东；根据东方与西方向对；得知小明背对的方向是西方。

5、傍晚，面向太阳，你的左手边是()。

A. 东 B. 南 C. 西 D. 北

【答案】B

【解析】(1) 回想太阳从东方升起西方落下，得知傍晚，你面向太阳时，你的前面是西方；(2) 根据东西南北的位置关系，得知你的前面是西方，则你的左手边是南。

6、如下图，影子在树的东边，那么太阳在树的()。



A. 东 B. 南 C. 西 D. 北

【答案】C

【解析】(1) 根据影子的方向与太阳的方向得知，影子的方向与太阳的方向是相

对的；(2) 由题意得知，树的影子在东边，与东相对的方向是西，则得知太阳在西边。

7、观察图片，傍晚时分，你的左面、右面、后面分别是哪一面？

- A. 西、东、北 B. 西、东、南 C. 南、北、东 D. 南、东、北



【答案】C

【解析】傍晚时分，面对的是西，左手边是南、右面是北、右面是东

8、指南针是我国的四大发明之一，不管把罗盘怎样转动，静止后，指针总是指向北方，另一方指向（ ）。



- A. 东 B. 南 C. 西 D. 北

【答案】B

【解析】南与北相对。

9、秋天到了，大雁南飞，大雁的左侧是（ ）。

- A. 东 B. 南 C. 西 D. 北

【答案】A

【解析】大雁向南飞，左侧应该是东，后面是北。

10、清晨你面向太阳升起的方向，你的影子指向（ ）。

- A. 东 B. 南 C. 西 D. 北

【答案】C

【解析】太阳升起的方向是东边，影子的指向刚好相反，是西边。

三、判断题。

1、当贝贝面向东面时，左手边是北面。（ ）

【答案】 正确

【解析】当面向东面时，你的左边是北面，右面是南面，后面是西面。

2、面对早晨的太阳，你的右边是北面。（ ）

【答案】 错误

【解析】早晨面对太阳，前面是东，后面是西，左面是北，右面是南。

3、晚上面对北极星时后面是北方。（ ）

【答案】 错误

【解析】面对北极星就是面对北方，因为北极星在天的北面，后面是北的对面南，左面是西，右面是东。

4、当你看中国地图时，你的右边就是地图的西方。（ ）

【答案】 错误

【解析】因为在地图上的方向，一般是“上北下南，左西右东”来规定的，所以当你看中国地图时，你的右边就是地图的东方，据此判断。

5、红旗向北飘扬时，风从南边吹来。（ ）

【答案】 正确

【解析】风向是风吹来的方向，风来自北方叫做北风，吹北风时，红旗向南飘扬，吹南风时，红旗向北飘扬，据此判断。

四、解答题。



(1) 商场在学校的（ ），邮局在学校的（ ）面。

(2) 冬冬家在商场的()面, 小华家在图书馆的()面。

(3) 图书馆在学校的()面。

【答案】(1) 北; 西 (2) 西; 北 (3) 东

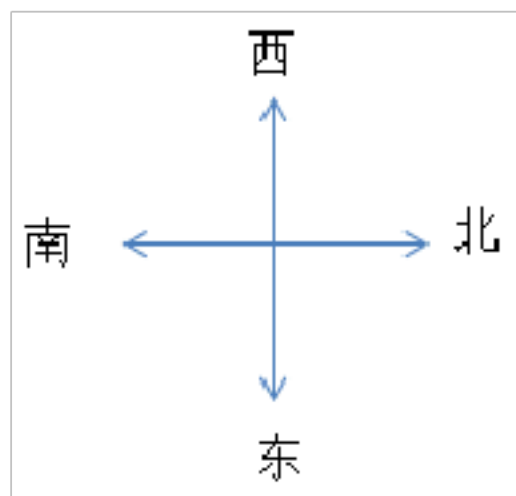
【解析】地图通常按照上北下南, 左西右东绘制的。据此解答。

2、晶晶在校园示意图时, 把上方定为西面。根据下面的示意图可以知道, 教学楼和图书馆分别在校园的哪一面?

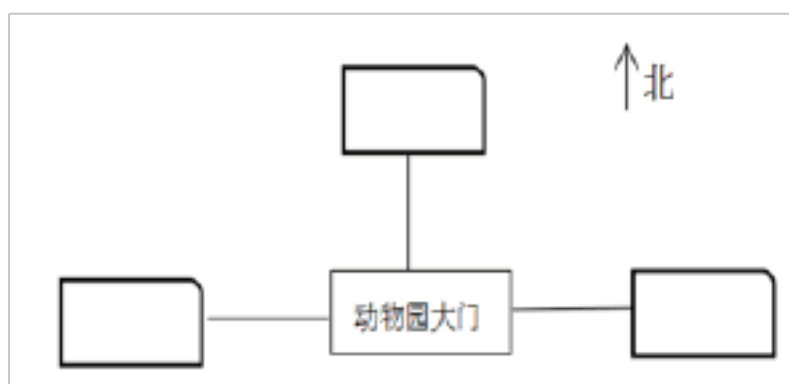


【答案】答: 教学楼在校园的北面, 图书馆在校园的东面。

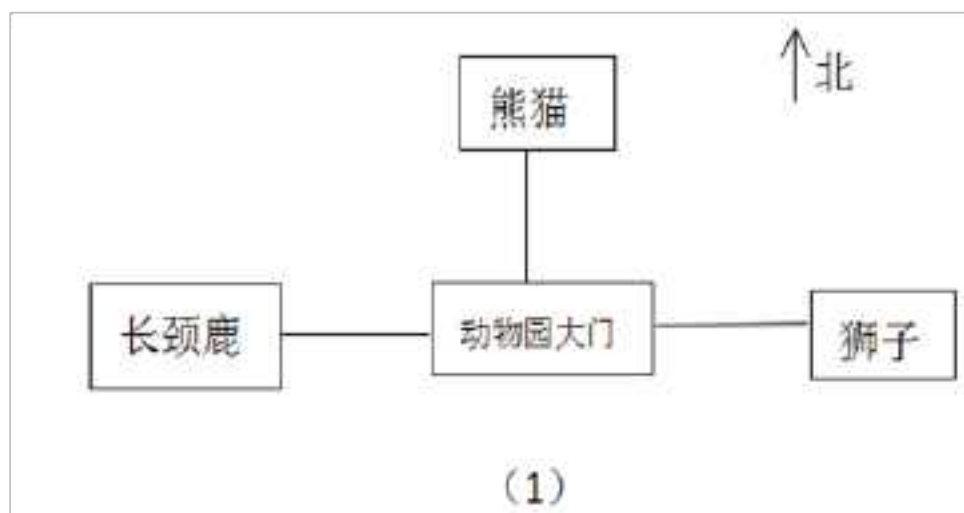
【解析】四个位置方向按照顺时针顺序是东南西北, 当把上方定为西面时, 其它三个方向依次是北、东、南, 如下图所示。



3、“走进动物园的大门, 大门的正北面是熊猫, 西面是长颈鹿, 大门的东面是狮子。”请你根据描述, 把这些动物填在适当的位置上。

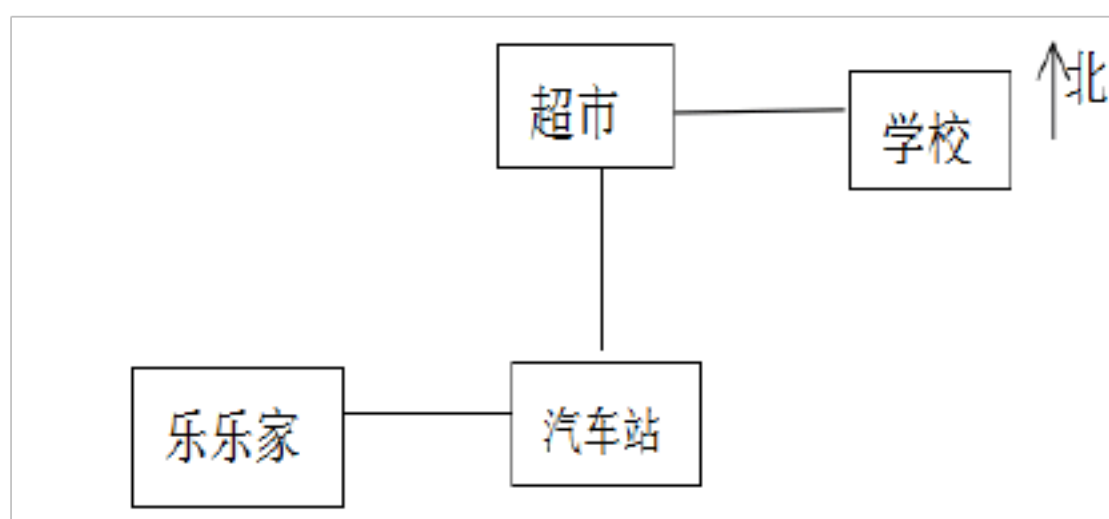


【答案】



【解析】根据题意得出熊猫、长颈鹿、狮子所在的位置如图（1）。

4、根据下图说一说，乐乐从家到学校的路线。



【答案】乐乐从家出发先向东行走到汽车站后再向北直到超市，再从超市向东直行即可到达学校。

【解析】（1）仔细观察上面的示意图得知，汽车站再乐乐家的东边，超市在汽车站的北边，学校在超市的东边；（2）乐乐从家到学校需经过汽车站与超市，则得知乐乐从家到学校的路线是从家出发先向东行走到汽车站后再向北直到超市，再从超市向东直行即可到达学校。

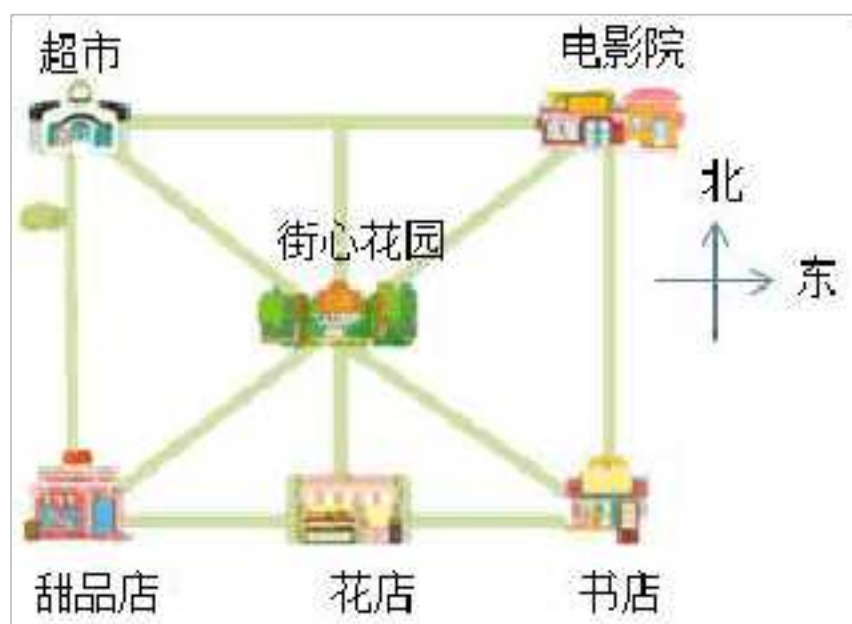
第一单元第2课时《认识东北、东南、西北、西南》同步练习

一、填空题。

- 1、小强面向东南方，他的背面是（ ）方。
- 2、小军在小慧的西北方向，那么小慧在小军的（ ）方向。
- 3、西和南之间的方向是（ ），和它相反的方向是（ ）。
- 4、学校在小月家的北面，小月家在学校的（ ）；书店在小月家的东北面，小月家在书店的（ ）面。
- 5、如果甲地在乙地的东南方向，那么乙地一定在甲地的（ ）方向。
- 6、下图是某小区的平面图，请根据平面图填空。



- 7、红红从花店出发去电影院，她可以先向（ ）走到街心花园，再向（ ）方向走到电影院。



二、单选题。

- 1、如果小明座位的西南方向是张强的座位，那么小明在张强的（ ）方向。
A. 东南 B. 西北 C. 东北
- 2、妈妈去公司上班要从家向西北走，下班后回家要从公司向（ ）走。

以上内容仅为本文档的试下载部分，为可阅读页数的一半内容。如要下载或阅读全文，请访问：<https://d.book118.com/115112201112011131>