

# 2024 年天津市滨海新区高考地理三模试卷

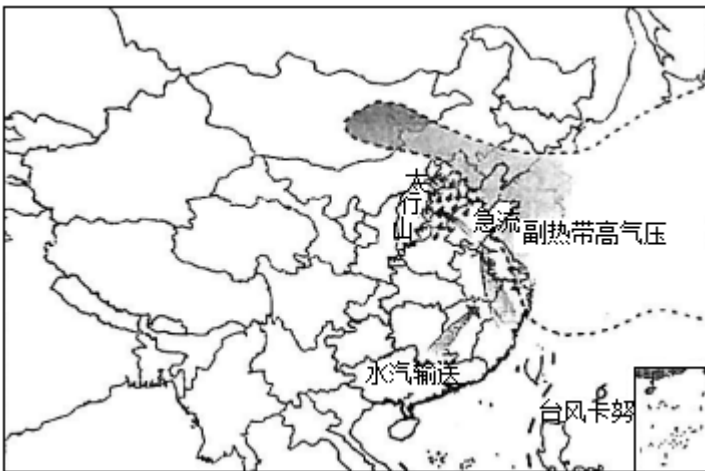
## 一、选择题（每题 3 分，共 45 分）

1.（3 分）随着人类社会进入海洋文明时代，天津作为沿海港口城市，其海洋文化进入快速发展时期。如图是滨海新区四地海洋文化景观图，体现了天津海洋文化（ ）



- A. 与海河位置密切相关
- B. 内容丰富，地域特色明显
- C. 产业经济效益显著
- D. 底蕴深厚，地域分布集中

如图为 2023 年 7 月 30 日大气运动形势图，据图回答 2~3 题。



2. 图中太行山以东地区暴雨如注，其主要原因是到达该地的气流（ ）

- ①受山体阻挡影响
- ②与东南信风叠加
- ③受地面增温影响
- ④带来海洋的大量水汽

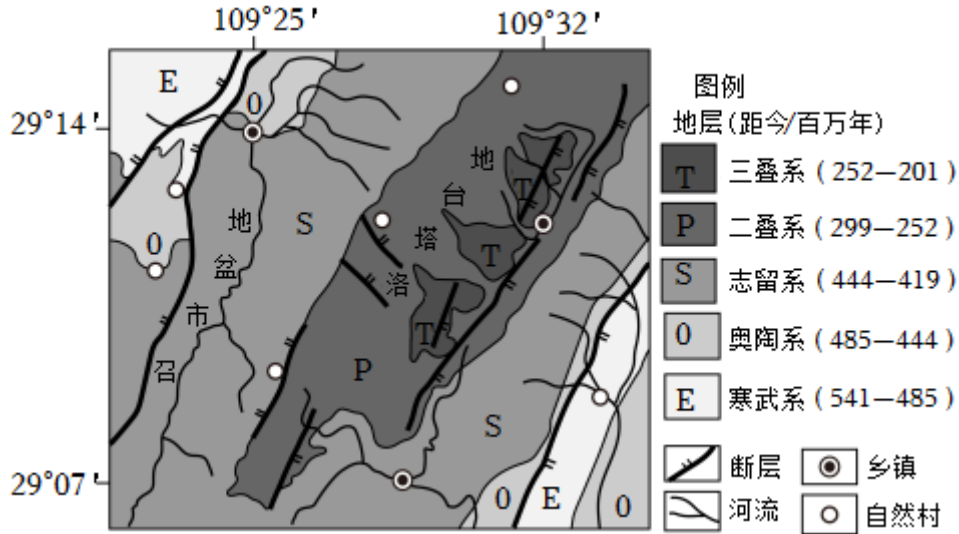
- A. ①②                      B. ②③                      C. ③④                      D. ①④

3. 据图可推理（ ）

- A. 江淮地区正值晴天
- B. 台风卡努正向东移动
- C. 黄海海域风浪较小

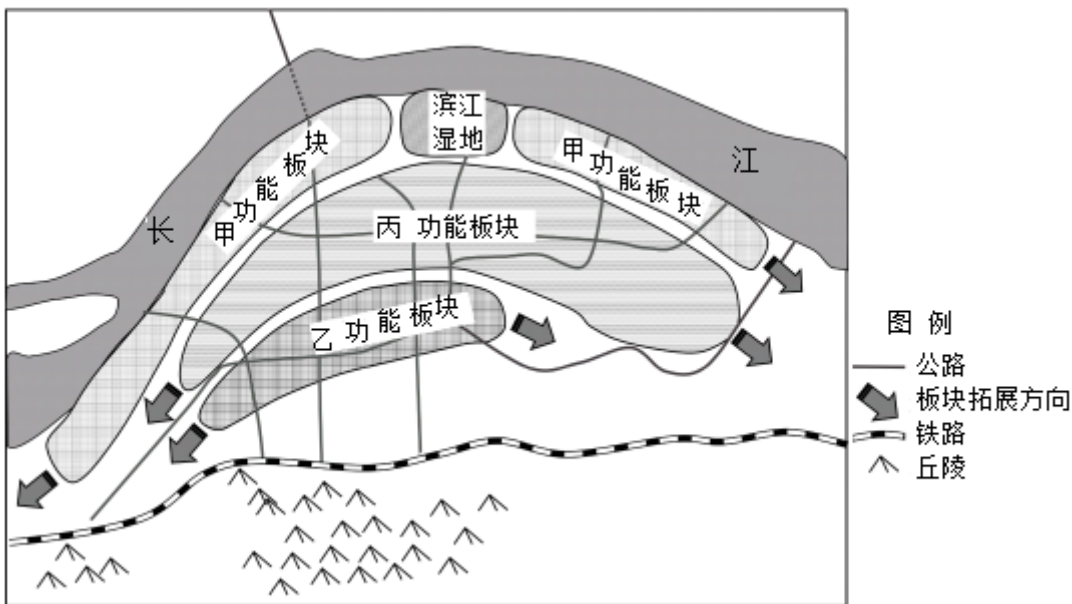
D. 辽宁省南部昼夜温差小

如图为我国某地平面地质图，该地石灰岩分布较广。读图完成 4~5 题。



4. 洛塔台地的构造地貌最可能是 ( )
- A. 背斜山                  B. 向斜山                  C. 背斜谷                  D. 向斜谷
5. 对图示区域推理正确的是 ( )
- A. 发育溶沟、溶洞等地貌景观
- B. 河流流量季节变化小
- C. 召市盆地比洛塔台地形成早
- D. 黄土广布，农业发达

龙潭新城位于南京主城区东约 35 公里，南京、镇江和扬州三市交界处，定位为长江国际航运物流服务中心。规划形成“横向布局、组团推进”的“港口、产业、城市服务”三大功能板块的弹性生长结构，构建“港产城”融合发展的总体空间格局。如图为龙潭新城空间布局结构图。据此完成 6~7 题。



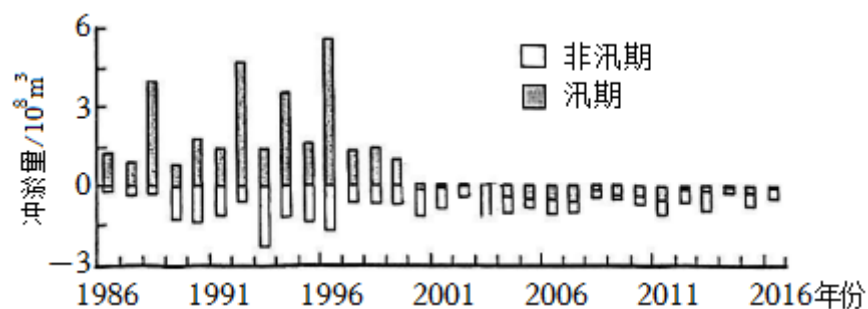
6. 推断甲、乙、丙三大功能板块名称分别是 ( )

- A. 产业、港口、城市服务
- B. 产业、城市服务、港口
- C. 城市服务、港口、产业
- D. 港口、城市服务、产业

7. 立足区位优势，龙潭新城最适宜发展的产业是（ ）

- A. 现代物流业
- B. 钢铁王业
- C. 现代农业
- D. 飞机制造业

黄河下游某段河床宽浅，洲滩密布，汊道交织，河床冲淤变化幅度大。图5为1986~2016年该河段汛期与非汛期冲淤量（正值表示发生淤积，负值表示发生冲刷）的变化过程统计。据此完成8~9题。



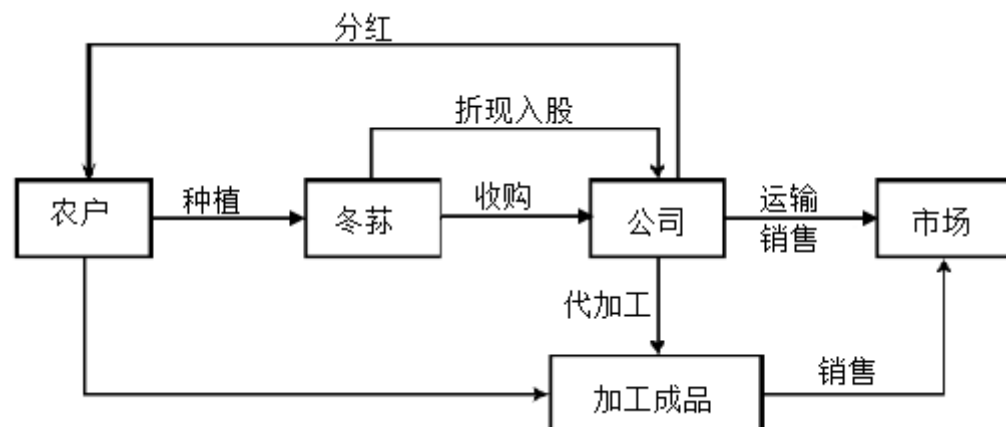
8. 1986 - 2016 年，该河段淤积、冲刷的变化情况是（ ）

- A. 汛期淤积，非汛期冲刷
- B. 先淤积，后冲刷
- C. 一直以冲刷为主
- D. 冲刷量逐年减少

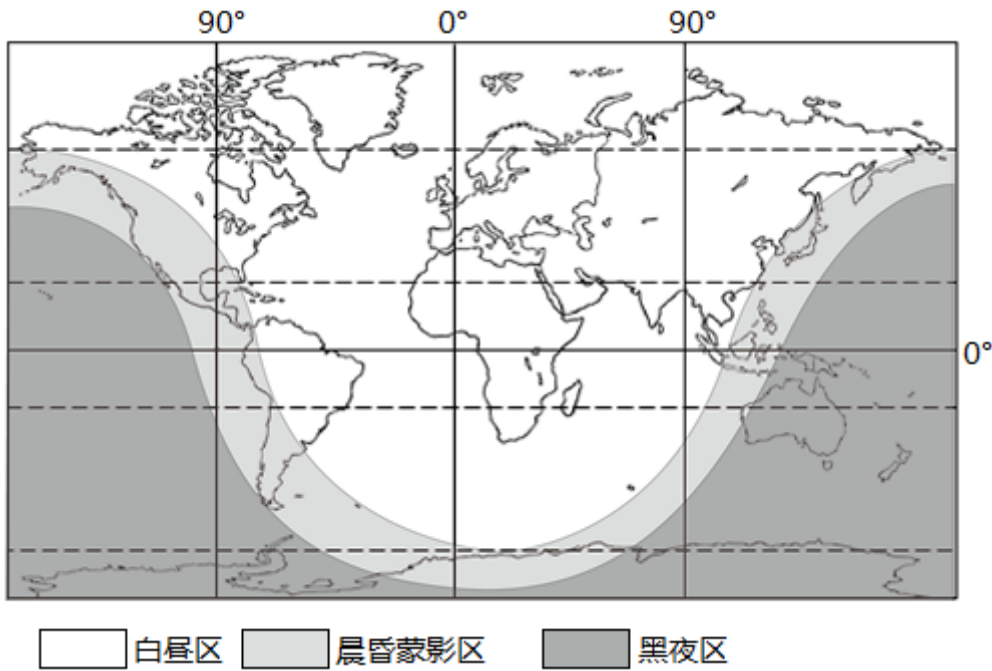
9. 2000 年之后，导致该河段冲淤量发生突变的主要原因是（ ）

- A. 流域植被覆盖率增加
- B. 上游农业结构调整
- C. 流域降水量整体减少
- D. 上游水利工程建设

贵州大方县森林资源丰富，林内产出药食价值极高的稀有野生菇类冬荪，但冬荪保鲜时间极短，不能大量产出，成为我国最贫困的山区县。2017 年该地建立“公司+农户+市场+分红”的生产模式，利用仿林下冬荪人工种植技术，带动贫困户抱团发展冬荪种植，并结合传统农业和地域文化打造观光旅游业，带头走好了一条农文旅融合道路。据此完成 10~11 题。







14. 图示时刻，北京时间最接近（ ）

- A. 1月8日7:00
- B. 1月8日19:00
- C. 7月8日7:00
- D. 7月8日19:00

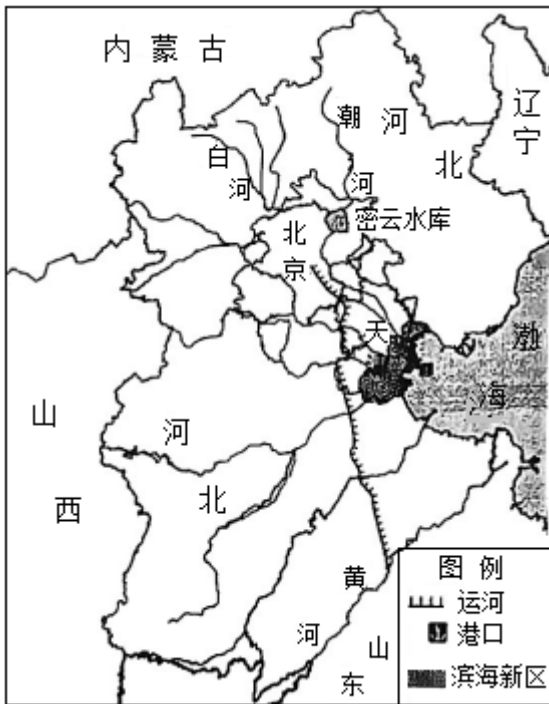
15. 此时图中飞机正自东向西飞行在中国的上空，机上的乘客可以观察到的现象（ ）

- A. 北极星将出现在飞机的右后方
- B. 比在地面上看到的太阳更大光线更柔
- C. 太阳将在飞机前进的右前方日落
- D. 比在地面上看到的日落时间更早

**二、非选择题（共55分）**

16. （19分）阅读材料，完成下列要求。

十年来京津冀协同发展推动了三地产业结构的优化升级，生态环境得到改善，整体城市化水平高于全国平均值，其中京津两地已经处于城镇化后期阶段，河北省城镇化进程较快。作为全国先进制造业基地的天津，近年来总部位于北京的中国空间设计研究院将超大型航天器研发生产基地落户天津滨海新区，占地1043亩。如图为京津冀地区分布图。



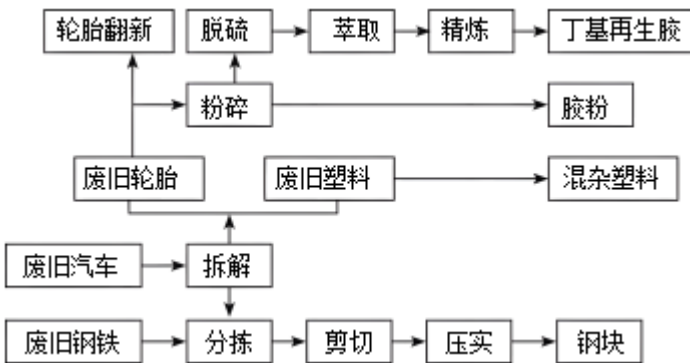
(1) 说明超大型航天器研发生产基地选址天津滨海新区的有利条件。

(2) 评价京津冀城镇化水平提高对当地农业的影响。

密云水库是北京市重要的饮用水源地，近年来，京冀联合在密云水库上游的潮河、白河流域广泛开展生态清洁小流域工程建设，各小流域从山顶到沟谷进行系统性一体化生态保护措施。

(3) 说明这种小流域工程措施的好处。

河北唐山工业实现转型升级，2022年6月再生资源循环利用科技产业因被列为国家“城市矿产”示范基地，为绿色发展提供了借鉴和启示。图为再生资源循环利用部分生产过程示意图。



(4) 简述该生产过程是如何促进唐山工业转型升级的。

17. (18分) 阅读材料，完成下列要求。

新疆地域辽阔，地形复杂多样。气候区域差异大。雪山、森林、草原、沙漠、绿洲等自然景观丰富多彩。如图所示新疆部分要素分布图。



南疆温室大棚



盐湖

(1) 说明新疆地形对气候区域差异的影响。

近年来，随着穿越天山隧道的建设和开通，联通南疆和北疆的高速公路发展迅速。南疆地区在政府、企业、农户的共同努力下，已建成蔬菜大棚近百万座，实现深冬以标准日光温室，春秋以大小双膜拱棚生产为补充的周年生产模式，告别了新鲜蔬菜大量依赖外调的局面，南疆已成为新疆最重要的设施蔬菜生产基地。

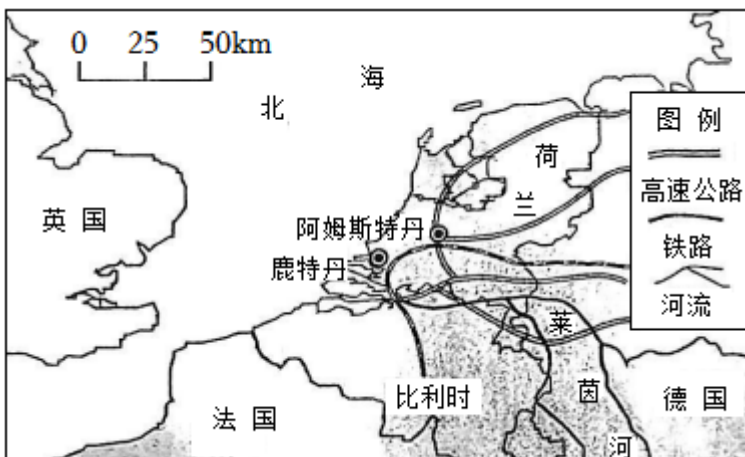
(2) 分析南疆成为新疆重要设施蔬菜生产基地的优势条件。

新疆的盐湖，大大小小有一百多处，是全国面积最大的盐湖分布区。有盐层厚达数米的罗布泊，富含钾、镁、钠、锂等多种盐类矿物；有湖水清澈，雪山草原环绕，景色迷人的巴里坤盐湖；还有随天气变化会发出不同颜色的炫彩湖等，美不胜收。

(3) 简述新疆盐湖的开发措施。

18. (18分) 读图文资料，完成下列要求。

“一带一路”桥头堡的荷兰位于莱茵河、马斯河和斯海尔德河三大河流入海口，地势低洼，河网交错，这里人口稠密，经济发达，第三产业是支柱产业，其中物流业占的比重最大。早在17世纪，欧洲90%以上的货物通过荷兰船只运输。但荷兰饱受水患的威胁。如图为荷兰及比利时地理位置图。



(1) 分析荷兰物流业发达的原因。

(2) 从地理位置和地形角度，说明荷兰水害多发的原因。

从各式海鲜贝类、新鲜乳肉、独特的巧克力、啤酒到各国美味，比利时人的“餐桌”十分丰富。

(3) 分析比利时成为“欧洲美食王国”的原因。

# 2024 年天津市滨海新区高考地理三模试卷

参考答案与试题解析

## 一、选择题（每题 3 分，共 45 分）

1.（3 分）随着人类社会进入海洋文明时代，天津作为沿海港口城市，其海洋文化进入快速发展时期。如图是滨海新区四地海洋文化景观图，体现了天津海洋文化（ ）



汉沽盐场

海洋博物馆

临港湿地公园

航母主题公园

- A. 与海河位置密切相关
- B. 内容丰富，地域特色明显
- C. 产业经济效益显著
- D. 底蕴深厚，地域分布集中

**【解答】解：**汉沽盐场体现了海洋盐业文化，海洋博物馆展示了海洋的历史、文化等多方面知识，临港湿地公园展现了海洋生态文化，航母主题公园则体现了与海洋军事相关的文化，这些不同类型的海洋文化景观充分表明天津海洋文化内容丰富，且每个景观都具有独特的地域特色，B 正确。

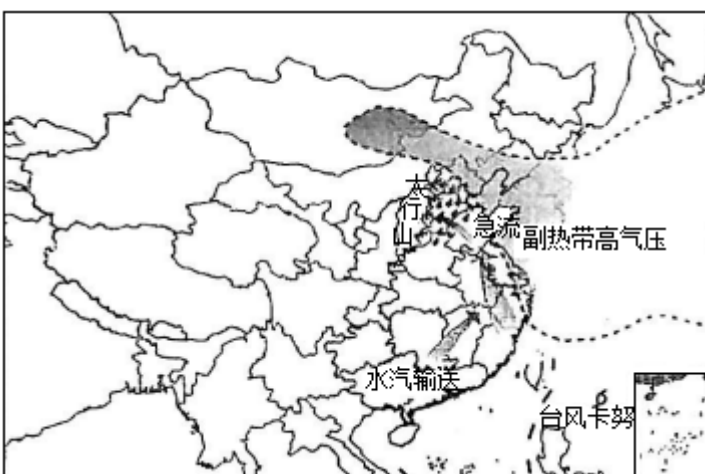
与海河位置密切相关在材料中体现不明显，A 错误。

产业经济效益在图中不能直接体现，C 错误。

地域分布集中不准确，滨海新区本身范围较大，且这些景观分布较为分散，不能说地域分布集中，D 错误。

故选：B。

如图为 2023 年 7 月 30 日大气运动形势图，据图回答 2~3 题。



2. 图中太行山以东地区暴雨如注，其主要原因是到达该地的气流（ ）

以上内容仅为本文档的试下载部分，为可阅读页数的一半内容。如要下载或阅读全文，请访问：<https://d.book118.com/118042141063006075>