

青海省 2024 年初中学业水平考试

道德与法治 历史（合卷）

注意事项：

1. 本试卷满分 120 分，道德与法治、历史各 60 分。考试时间为 120 分钟。
2. 本试卷为闭卷试题卷，请将答案写在答题卡上，否则无效。
3. 答卷前请将密封线内的项目填写清楚。


历史部分

一、单项选择题（本题共 14 小题，每小题 2 分，共 28 分）

1. 2024 年 2 月，青海省海西州都兰县夏尔雅玛可布遗址入围“2023 年度全国十大考古新发现”的终评。该遗址发现有石（城）墙、房屋建筑基址、（铜）冶铸遗存等重要遗迹，是研究青海历史的（ ）

- A. 口述史料 B. 实物史料 C. 文献史料 D. 二手史料

2. 文化是民族的精神血脉，龙是中华民族自强不息、奋斗进取的精神象征。以下是“龙”字不同的写法，其中已发现年代最早的是（ ）



- A. 甲骨文 B. 小篆 C. 楷书 D. 草书


3. 古诗“及第新春选胜游，杏园初宴曲江头”“春风得意马蹄疾，一日看尽长安花”“朝为田舍郎，暮登天子堂”都从侧面反映了（ ）

- A. 世袭制 B. 分封制 C. 郡县制 D. 科举制

4. 《东京梦华录》卷二记载北宋首都开封店铺林立，“屋宇雄壮，门面广阔，望之森然，每一交易，动即千万，骇人闻见”。材料主要反映了北宋时期（ ）

- A. 城市商业繁荣 B. 科学技术领先 C. 民族关系发展 D. 对外交流频繁

5. 根据下图所给出的信息，请你判断该历史事件是（ ）



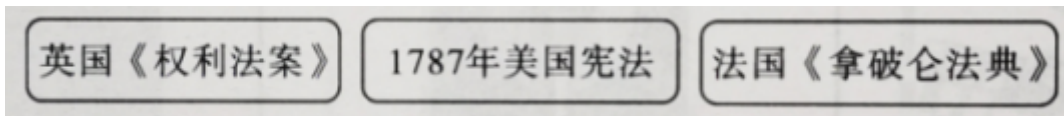
- A. 汉代海上丝绸之路 B. 唐朝时期对外交流
C. 宋朝时期海外贸易 D. 明朝的郑和下西洋

6. 某同学准备撰写题为“我心中的甲午战争英雄”历史小论文，可以参考的史实是（ ）


- A. 1839 年林则徐虎门销烟 B. 1875 年左宗棠收复新疆
 C. 1894 年邓世昌奋勇杀敌 D. 1950 年彭德怀抗美援朝
7. 巴黎和会中国外交失败的消息传来后，以青年爱国学生为先锋，工人阶级为主力，揭开中国新民主主义革命开端的标志性事件是（ ）
 A. 洋务运动 B. 戊戌变法 C. 辛亥革命 D. 五四运动
8. “南湖的船，党的摇篮”。一百多年前嘉兴南湖上的一艘游船，见证了中国共产党精神之源的诞生。这一“精神之源”是指（ ）
 A. 建党精神 B. 长征精神 C. 延安精神 D. 抗战精神
9. 歌曲是一代人的历史记忆。“保卫黄河，保卫华北，保卫全中国！”“把我们的血肉，筑成我们新的长城！”在当时的时代背景下，歌曲旨在（ ）
 A. 自强求富 B. 变法图强 C. 打倒军阀 D. 抗日救亡
10. 天安门是中国古典建筑的瑰宝，见证了中国历史的重要时刻。下图是 1949 年 10 月 1 日毛泽东在天安门城楼讲话的场景，与之相关的历史事件是（ ）



- A. 长征胜利会师 B. 解放战争胜利 C. 新中国的成立 D. 土地改革完成
11. 某校九年级历史课上，提到了青铜器、金字塔、楔形文字、《汉谟拉比法典》、阿拉伯数字。据此可知，他们学习的大单元主题是（ ）
 A. 欧洲庄园制度 B. 亚洲封建制度 C. 亚非文明成果 D. 西欧哲学成就
12. 欧亚大陆的橄榄和葡萄传入美洲，美洲的玉米和马铃薯传到了欧亚大陆，原产非洲的咖啡成为北美日常生活的重要部分。世界物种的交流，人们饮食的丰富直接得益于（ ）
 A. 资本主义发展 B. 早期殖民扩张 C. 两次工业革命 D. 新航路的开辟
13. 17~19 世纪，英、美、法等国先后颁布了一系列法律文献，其共同作用是（ ）



- A. 打击了封建统治 B. 巩固了资产阶级统治
 C. 推翻了殖民统治 D. 促进了民族解放潮流
14. 构建示意图是历史学习的重要方法之一。某校历史兴趣小组制作了一张“20 世纪国际格局的演变”示意图，其中？处应填入（ ）



- A. 多极化 B. 区域化 C. 信息化 D. 全球化

二、材料解析题（第 15 题 10 分，第 16 题 8 分，第 17 题 6 分，共 24 分）

15. 国家统一是历史发展的主流，是大势所趋，民心所向。阅读材料，回答问题。（10 分）

材料一 一法度衡石丈尺。车同轨。书同文字。

——司马迁《史记·秦始皇本纪》


材料二 唐太宗说：“自古皆贵中华，贱夷狄，朕独爱之如一。”当时，突厥、西域各族及回纥、吐蕃、南诏、靺鞨等，都曾在边疆地区建立过地方民族政权，推动了祖国历史的发展。唐朝与这些少数民族地方政权有着密切的联系，汉族人民和各少数民族之间也有着频繁的经济文化交流。

——摘编自朱绍侯等《中国古代史》

材料三 清朝是中华民族多元一体格局定型的重要时期，统治者秉承“修其教不易其俗，齐其政不易其宜”的理念，对边疆和多族群聚集地区进行了有效治理，为统一多民族国家的稳固发展奠定了基础。

——摘自潘岳主编《中华民族共同体概论》

材料四 中英香港交接仪式中葡澳门交接仪式



- (1) 根据材料一并结合所学知识，指出秦朝巩固统一的两项措施。（2 分）
- (2) 根据材料二并结合所学知识，指出唐朝的民族政策，并概述其影响。（3 分）
- (3) 根据材料三并结合所学知识，列举清朝对台湾地区的管辖措施。（2 分）
- (4) 根据材料四并结合所学知识，分析港澳成功回归的原因。综合上述材料，谈谈你对国家统一的认识。（3 分）

16. 科技推动社会发展，促进人类文明进程。九年级某班学生围绕“科技发展”开展了项目式学习。（8 分）

【再现古代科技辉煌】第一组同学以展览形式呈现了学习成果。

| 造纸术 | 指南针 | _____ |
|--|---|---|
|  <p style="text-align: center;">造纸工艺流程图</p> |  <p style="text-align: center;">司南（模型）</p> |  <p style="text-align: center;">泥活字版（模型）</p> |

(1) 请你补充泥活字版（模型）代表的中国古代科技成就的名称。（2分）

【探究近代科技变革】第二组同学以史料卡片形式呈现了学习成果。

| 主题一 蒸汽时代 | 主题二 电气时代 |
|---|---|
| 资料一：1785年，瓦特改进的蒸汽机投入使用，提供了更加便利的动力。后来，化工、冶金、采矿等许多生产部门都开始使用蒸汽机。 | 资料二：到19世纪70年代，美国发明家爱迪生利用电学研究的最新成果，发明了耐用的白炽灯泡、碱性蓄电池、电影摄影机和放映机等，他还在纽约建立了美国第一座火力发电站。 |

(2) 请你根据史料卡片内容并结合所学知识，概述近代科技变革对我们生活的影响。（2分）

【见证现代中国科技】第三组同学通过国家中小学智慧教育平台自主学习，制作了改革开放以来中国科技创新成果的手抄报。

| 科技创新成果 |
|---|
| 改革开放40多年来，中国科技创新走在世界前列。“复兴号”为代表的新一代高铁技术、“神威·太湖之光”超级计算机、“奋斗者号”全海深载人潜水器、载人航天和探月工程、国产民用大飞机C919、世界最大单口径球面射电望远镜FAST（天眼）等，都展示了中国自主研发和制造的实力。中国移动通信技术实现了4G同步、5G引领跨越的快速发展。 |

(3) 请你根据手抄报内容并结合所学知识，分析现代中国科技创新走在世界前列的原因。综合上述材料谈谈你对“科技创新”的认识。（4分）

17. 思想解放推动社会进步。阅读材料，回答问题。（6分）

材料一



材料二

| | |
|---|--|
| 民与君不两立，自由与专制不并存。 ——李大钊《民彝与政治》（《新青年》，1916年） | 我们现在认定只有这两位先生，可以救治中国政治上道德上学术上思想上一切的黑暗。 ——陈独秀《新青年》，1919年 |
|---|--|

材料三 人类社会每一次重大跃进，人类文明每一次重大发展，都以知识更新、思想解放为先导和动力。思想解放让人们从旧有观念、陈旧思想的束缚中摆脱出来，在更广的空间、更高的层次上进行创新创造，推动文明发展、社会进步。

——摘自《人民日报》（2023年8月16日）

(1) 根据材料一并结合所学知识，写出文艺复兴的核心思想。(1分)

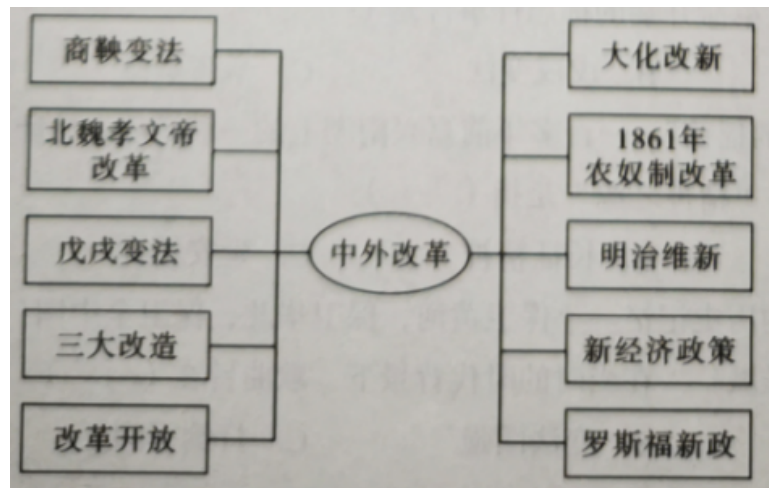
(2) 根据材料二并结合所学知识，指出新文化运动的口号以及影响。(3分)

(3) 综合上述材料并结合所学知识，举例说明思想解放和社会发展的关系。(2分)

三、综合感悟题 (8分)

18. 回溯中外改革，汲取历史智慧。

自人类社会产生以来，改革就与社会发展相伴而行，并成为社会进步的重要动力，以其独特的方式推动着社会进步。作为人类历史演进的重要组成部分，改革体现了不同时代、不同地域的人们顺应时代潮流，从国情出发，调整和变革生产关系，破解社会矛盾的智慧。从下图中任选两个及以上史实，结合所学知识，围绕“改革与发展”为主题，自拟题目，写一篇小论文。(要求:主题明确，史论结合，条理清晰，不少于150字)



历史部分解析

一、单项选择题（本题共 14 小题，每小题 2 分，共 28 分）

1. 2024 年 2 月，青海省海西州都兰县夏尔雅玛可布遗址入围“2023 年度全国十大考古新发现”的终评。该遗址发现有石（城）墙、房屋建筑基址、（铜）冶铸遗存等重要遗迹，是研究青海历史的（ ）

- A. 口述史料 B. 实物史料 C. 文献史料 D. 二手史料

【答案】B

【解析】

【详解】根据题干信息“该遗址发现有石（城）墙、房屋建筑基址、（铜）冶铸遗存等重要遗迹”，结合所学知识可知，第一手史料（原始史料）是指当事人、亲历者直接记录或留下的资料和遗物、遗迹等原始资料。材料中遗址发现有石（城）墙、房屋建筑基址、（铜）冶铸遗存等重要遗迹，是研究青海历史的实物史料，属于第一手史料，B 项正确；口述史料，是人们对往事的口头回忆而写成或整理成文字的史料，与题干信息“该遗址发现有石（城）墙、房屋建筑基址、（铜）冶铸遗存等重要遗迹”不符，排除 A 项；文献史料，是指记载在某载体上用来研究或讨论历史的根据，与题干信息“该遗址发现有石（城）墙、房屋建筑基址、（铜）冶铸遗存等重要遗迹”不符，排除 C 项；二手史料是指由历史学家或其它研究者从一手史料中提取的信息，通过对相应史料的编纂、编写和编著而形成的史料，与题干信息“该遗址发现有石（城）墙、房屋建筑基址、（铜）冶铸遗存等重要遗迹”不符，排除 D 项。故选 B 项。

2. 文化是民族的精神血脉，龙是中华民族自强不息、奋斗进取的精神象征。以下是“龙”字不同的写法，其中已发现年代最早的是（ ）



- A. 甲骨文 B. 小篆 C. 楷书 D. 草书

【答案】A

【解析】

【详解】根据所学知识可知，商代刻在龟甲和牛羊等兽骨上的文字被称为“甲骨文”，甲骨文主要记载了祭祀、战争、农牧业、管制、刑法、医药、天文历法等。是中国已发现的古代文字中年代最早、体系较完整的文字，A 项正确；秦始皇统一文字，制定笔画规整的小篆，作为通用文字颁行全国，在甲骨文之后，排除 B 项；曹魏时钟繇独创楷书书法，在甲骨文之后，排除 C 项；草书产生于汉代，在甲骨文之后，排除 D 项。故选 A 项。

3. 古诗“及第新春选胜游，杏园初宴曲江头”“春风得意马蹄疾，一日看尽长安花”“朝为田舍郎，暮登

天子堂”都从侧面反映了（ ）

- A. 世袭制 B. 分封制 C. 郡县制 D. 科举制

【答案】D

【解析】

【详解】依据题干信息“及第新春选胜游，杏园初宴曲江头”、“春风得意马蹄疾，一日览尽长安花”、“朝为田舍郎，暮登天子堂”可知，这些诗句反映的都是科举制。隋文帝时，开始用分科考试的方法来选拔官员，隋炀帝时，正式设置进士科，我国科举制度正式诞生，从此门第不高的读书人，可凭才学做官，D项正确；世袭制就是名号、爵位以及财产等按照血统关系世代传承，开始于夏朝，排除A项；分封制是中国古代分封诸侯的制度，开始于西周，排除B项；郡县制是分封制之后出现的地方管理行政制度，秦朝时期在地方实行郡县制，排除C项。故选D项。

4. 《东京梦华录》卷二记载北宋首都开封店铺林立，“屋宇雄壮，门面广阔，望之森然，每一交易，动即千万，骇人闻见”。材料主要反映了北宋时期（ ）

- A. 城市商业繁荣 B. 科学技术领先 C. 民族关系发展 D. 对外交流频繁

【答案】A

【解析】

【详解】根据题干材料“屋宇雄壮，门面广阔，望之森然，每一交易，动辄千万，骇人闻见”可知，北宋时期城市商业繁荣，店铺林立、门面宽广、交易数额大，A项正确；北宋时期有很多居于世界领先地位的科技成就，但材料没有涉及科学技术，排除B项；宋朝时期民族关系发展，民族政权并立、民族融合进一步加强，材料没有涉及民族关系，排除C项；材料反映北宋时期商业繁荣，店铺林立，贸易频繁，但没有体现对外交流频繁，排除D项。故选A项。

5. 根据下图所给出的信息，请你判断该历史事件是（ ）

| 最 广 | 最 先 进 | 最 多 | 最 早 |
|---------------|----------------|-----------|--------------|
| 地区先后到达三十多个国家和 | 风、技术以航海罗盘定向，用季 | 万七千多人 | 早从一四〇五年到一四三三 |
| | 、洋发海达，有效地利，造船 | 多一艘，随出海的有 | 半，比多世纪 |
| | | 一次出行海船多达两 | 年，比多世纪 |
| | | 百 | 早从一四〇五年到一四三三 |
| | | 人 | 半，比多世纪 |
| | | 多一艘，随出海的有 | 年，比多世纪 |
| | | 百 | 早从一四〇五年到一四三三 |
| | | 人 | 半，比多世纪 |

- A. 汉代海上丝绸之路 B. 唐朝时期对外交流

C. 宋朝时期海外贸易

D. 明朝的郑和下西洋

【答案】D

【解析】

【详解】根据图片“一四〇五年到一四三三年、两百多艘、先后到达30多个国家和地区”等关键信息可知，这是郑和下西洋。结合所学知识可知，1405—1433年，明成祖派郑和七次下西洋，经历亚非的30多个国家和地区，最远到达红海沿岸和非洲东海岸。郑和的远航，时间之长，规模之大，堪称世界航海史上的空前壮举，不仅增进了中国与亚非国家和地区的相互了解和友好往来，而且开创了西太平洋与印度洋之间的亚非海上交通网，为人类的航海事业作出了伟大贡献，D项正确；汉代从公元前202年—公元220年，与材料时间1405年—1433年不符，排除A项；唐朝从618年—907年，与材料时间1405年—1433年不符，排除B项；宋代从960年—1276年，与材料时间1405年—1433年不符，排除C项。故选D项。

6. 某同学准备撰写题为“我心中的甲午战争英雄”历史小论文，可以参考的史实是（ ）

A. 1839年林则徐虎门销烟

B. 1875年左宗棠收复新疆

C. 1894年邓世昌奋勇杀敌

D. 1950年彭德怀抗美援朝

【答案】C

【解析】

【详解】根据所学知识可知，1894年7月日本袭击中国运兵船。8月，清政府被迫对日宣战，历史上称这次战争为甲午中日战争，甲午中日战争的黄海海战中，致远舰管带邓世昌，在战舰受损严重且弹药不足情况下，下令开足马力，冲向日舰“吉野号”，准备与敌人同归于尽，不幸被敌人炮弹击中，200余名将士壮烈殉国。撰写题为“我心中的甲午战争英雄”历史小论文，可以参考的史实是1894年邓世昌奋勇杀敌，C项正确；1839年林则徐虎门销烟，发生在鸦片战争前，是英国发动鸦片战争的借口，排除A项；1875年左宗棠收复新疆，消灭侵占新疆的阿古柏势力，左宗棠收复新疆与甲午中日战争无关，排除B项；抗美援朝是中国人民支援朝鲜人民抗击美国侵略，抗美援朝与甲午中日战争无关，排除D项。故选C项。

7. 巴黎和会中国外交失败的消息传来后，以青年爱国学生为先锋，工人阶级为主力，揭开中国新民主主义革命开端的标志性事件是（ ）

A. 洋务运动

B. 戊戌变法

C. 辛亥革命

D. 五四运动

【答案】D

【解析】

【详解】根据所学知识可知，五四运动中广大青年学生首先行动起来，起了先锋作用，五四运动是一次彻底的反帝反封建的爱国运动；五四运动中，无产阶级登上了政治舞台，发挥了主力军的作用，是新民主主义革命开始的标志，D项正确；洋务运动是一次失败的封建统治者的自救运动，是近代化的开端，发生在旧民主主义革命时期，排除A项；戊戌变法是资产阶级性质的改良运动，在思想文化方面产生了广泛而持久

的影响，发生在旧民主主义革命时期，排除 B 项；辛亥革命是一次资产阶级民主革命，推翻了清王朝的反动统治，发生在旧民主主义革命时期，排除 C 项。故选 D 项。

8. “南湖的船，党的摇篮”。一百多年前嘉兴南湖上的一艘游船，见证了中国共产党精神之源的诞生。这一“精神之源”是指（ ）

- A. 建党精神 B. 长征精神 C. 延安精神 D. 抗战精神

【答案】A

【解析】

【详解】根据题干和所学知识可知中国共产党第一次全国代表大会在上海秘密召开期间，因受到法租界巡捕的干扰，后转移到浙江嘉兴南湖的一艘游船上，以游客泛舟为掩护，继续进行，最终完成会议议程。上海党的一大会址，嘉兴南湖红船，是中国共产党梦想起航的地方。中国共产党的建立，充分展现了开天辟地、敢为人先的首创精神，坚定理想信念、百折不挠的奋斗精神，立党为公、忠诚为民的奉献精神，这被称为红船精神。红船精神集中体现了中国共产党的建党精神，是中国共产党革命精神之源，昭示着中国共产党人的初心和使命，A 项正确；根据所学可知，长征精神，是在红军长征过程中形成的精神。长征精神，就是把全国人民和中华民族的根本利益看得高于一切，坚定革命的理想和信念，坚信正义事业必然胜利的精神；就是为了救国救民，不怕任何艰难险阻，不惜付出一切牺牲的精神；就是坚持独立自主，实事求是，一切从实际出发的精神；就是顾全大局、严守纪律、紧密团结的精神；就是紧紧依靠人民群众，同人民群众生死相依、患难与共、艰苦奋斗的精神，排除 B 项；根据所学可知，延安精神是毛泽东倡导的中国共产党及其领导的人民军队在延安时期形成的优良传统和作风。主要包括：坚定正确的政治方向，解放思想、实事求是的思想路线，全心全意为人民服务的根本宗旨，自力更生、艰苦奋斗的创业精神，排除 C 项；根据所学可知，抗战精神是在中国人民抗日战争的壮阔进程中，形成的伟大精神其基本内涵是：天下兴亡、匹夫有责的爱国情怀，视死如归、宁死不屈的民族气节，不畏强暴、血战到底的英雄气概，百折不挠、坚忍不拔的必胜信念，排除 D 项。故选 A 项。

9. 歌曲是一代人的历史记忆。“保卫黄河，保卫华北，保卫全中国！”“把我们的血肉，筑成我们新的长城！”在当时的时代背景下，歌曲旨在（ ）

- A. 自强求富 B. 变法图强 C. 打倒军阀 D. 抗日救亡

【答案】D

【解析】

【详解】根据材料“‘保卫黄河，保卫华北，保卫全中国’”“‘把我们的血肉，筑成我们新的长城’”结合所学可知，1937 年，爆发七七事变，全民族抗战开始，从长城内外到大江南北，激昂的乐章响彻中华大地，汇成时代的最强音——抗日。在抗日救亡运动的洪流中，聂耳创作了《义勇军进行曲》《毕业歌》等名曲，谱写了时代的最强音，冼星海在延安作曲的《黄河大合唱》体现了中国人民的勇敢、顽强和百折不

挠的拼搏精神。在当时的时代背景下，歌曲旨在抗日救亡，D项正确；自强求富是洋务运动的主张，为了救亡图存，资产阶级维新派掀起了戊戌变法，其主张是变法图强，北伐战争的目的是推翻帝国主义和封建军阀的统治，把革命推向全国。自强求富、变法图强、打倒军阀，均与题干歌曲所反映的时代背景——抗日救亡不符，排除ABC项。故选D项。

10. 天安门是中国古典建筑的瑰宝，见证了中国历史的重要时刻。下图是1949年10月1日毛泽东在天安门城楼讲话的场景，与之相关的历史事件是（ ）



- A. 长征胜利会师 B. 解放战争胜利 C. 新中国的成立 D. 土地改革完成

【答案】C

【解析】

【详解】根据材料“1949年10月1日毛泽东在天安门城楼讲话的场景”结合所学知识可知，1949年10月1日，在天安门召开开国大典，标志着新中国的成立，因此材料所述历史事件是新中国的成立，C项正确；长征胜利会师是会宁，与题干无关，排除A项；材料内容主要体现了1949年10月1日的新中国成立，而不是解放战争的胜利，排除B项；土地改革完成是在1952年，不符合题干，排除D项。故选C项。

11. 某校九年级历史课上，提到了青铜器、金字塔、楔形文字、《汉谟拉比法典》、阿拉伯数字。据此可知，他们学习的大单元主题是（ ）

- A. 欧洲庄园制度 B. 亚洲封建制度 C. 亚非文明成果 D. 西欧哲学成就

【答案】C

【解析】

【详解】根据题干和所学知识可知，青铜器是中国青铜文明最重要的载体，属于亚洲文明的重要组成部分。埃及金字塔是古埃及文明的杰出代表，体现了古埃及在建筑和工程方面的巨大成就，属于非洲文明的一部分。楔形文字是两河流域的苏美尔人很早就发明的文字，属于亚洲文明的一部分。《汉谟拉比法典》是古代巴比伦的法律文献，反映了古代西亚地区的法律体系和社会秩序，是亚洲文明的重要成果。阿拉伯数字是古印度人发明的，后由阿拉伯人传播到欧洲，是亚洲文明在数学和天文学领域的重大贡献。古代中国（亚洲）、古埃及（非洲）、古巴比伦（亚洲）和古印度（亚洲），这些文明都是古代亚非地区的代表，且各自在其领域内有着卓越的成就，C项正确；题干提到的文明成果皆不属于欧洲，排除AD项；题干中提到的文明

以上内容仅为本文档的试下载部分，为可阅读页数的一半内容。如要下载或阅读全文，请访问：<https://d.book118.com/118066112004006120>