

广东广州市第七中学数学七年级上册整式的加减单元测评

考试时间：90 分钟；命题人：教研组

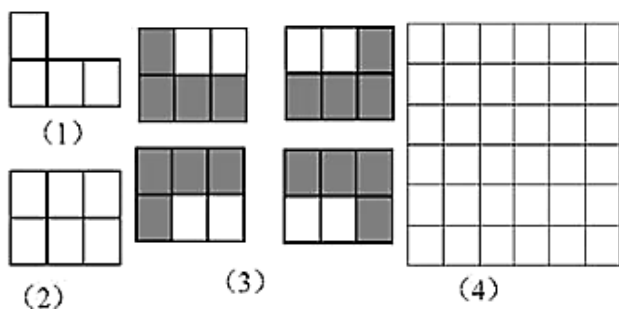
考生注意：

- 1、本卷分第 I 卷（选择题）和第 II 卷（非选择题）两部分，满分 100 分，考试时间 90 分钟
- 2、答卷前，考生务必用 0.5 毫米黑色签字笔将自己的姓名、班级填写在试卷规定位置上
- 3、答案必须写在试卷各个题目指定区域内相应的位置，如需改动，先划掉原来的答案，然后再写上新的答案；不准使用涂改液、胶带纸、修正带，不按以上要求作答的答案无效。

第 I 卷（选择题 20 分）

一、单选题（10 小题，每小题 2 分，共计 20 分）

- 1、下列图中所有小正方形都是全等的。图（1）是一张由 4 个小正方形组成的“L”形纸片，图（2）是一张由 6 个小正方形组成的 3×2 方格纸片。把“L”形纸片放置在图（2）中，使它恰好盖住其中的 4 个小正方形，共有如图（3）中的 4 种不同放置方法，图（4）是一张由 36 个小正方形组成的 6×6 方格纸片，将“L”形纸片放置在图（4）中，使它恰好盖住其中的 4 个小正方形，共有 n 种不同放置方法，则 n 的值是（ ）



- A. 160 B. 128 C. 80 D. 48

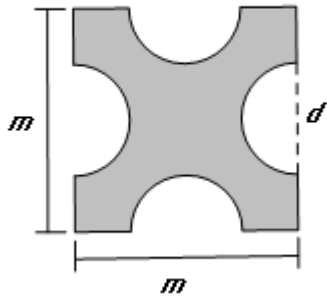
- 2、下列说法中正确的是（ ）

- A. $\frac{x+y}{2}$ 是单项式 B. $\frac{1}{x}$ 是单项式 C. $-\frac{2x}{3}$ 的系数为 -2 D. $-5a^2b$ 的次数是 3

- 3、代数式 $a^2 - \frac{1}{b}$ 的正确解释是（ ）

- A. a 与 b 的倒数的差的平方 B. a 与 b 的差的平方的倒数
- C. a 的平方与 b 的差的倒数 D. a 的平方与 b 的倒数的差

4、如图，边长为 m 的正方形纸片上剪去四个直径为 d 的半圆，阴影部分的周长是 ()



- A. $m^2 - \pi d^2$ B. $m^2 - \frac{1}{2}\pi d^2$
- C. $4m - \pi d$ D. $4m + 2\pi d - 4d$

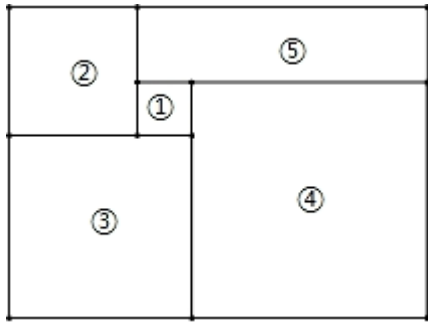
5、下列式子中不是代数式的是 ()

- A. $3a + 2b$ B. $5 + 2$ C. $a + b = 1$ D. $\frac{b}{a+1}$

6、下列表述不正确的是 ()

- A. 葡萄的单价是 4 元/kg， $4a$ 表示 a kg 葡萄的金额
- B. 正方形的边长为 a ， $4a$ 表示这个正方形的周长
- C. 某校七年级有 4 个班，平均每个班有 a 名男生， $4a$ 表示全校七年级男生总数
- D. 一个两位数的十位和个位数字分别为 4 和 a ， $4a$ 表示这个两位数

7、如图是一张长方形的拼图卡片，它被分割成 4 个大小不同的正方形和一个长方形，若要计算整张卡片的周长，则只需知道其中一个正方形的边长即可，这个正方形的编号是 ()



- A. ① B. ② C. ③ D. ④

8、若 $M = x^3 - 3x^2y + 2xy^2 + 3y^3$, $N = x^3 - 2x^2y + xy^2 - 5y^3$, 则 $2x^3 - 7x^2y + 5xy^2 + 14y^3$ 的值为 ().

- A. $M + N$ B. $M - N$ C. $3M - N$ D. $3N - M$

9、已知 a 、 b 、 c 在数轴上的位置如图, 下列说法: ① $abc > 0$; ② $c + a > 0$; ③ $c - b < 0$; ④ $\frac{c}{b} > 0$. 正确的有 ()



- A. 1 个 B. 2 个 C. 3 个 D. 4 个

10、代数式 $3x^2y - 4x^3y^2 - 5xy^3 - 1$ 按 x 的升幂排列, 正确的是 ()

- A. $-4x^3y^2 + 3x^2y - 5xy^3 - 1$ B. $-5xy^3 + 3x^2y - 4x^3y^2 - 1$
 C. $-1 + 3x^2y - 4x^3y^2 - 5xy^3$ D. $-1 - 5xy^3 + 3x^2y - 4x^3y^2$

第 II 卷 (非选择题 80 分)

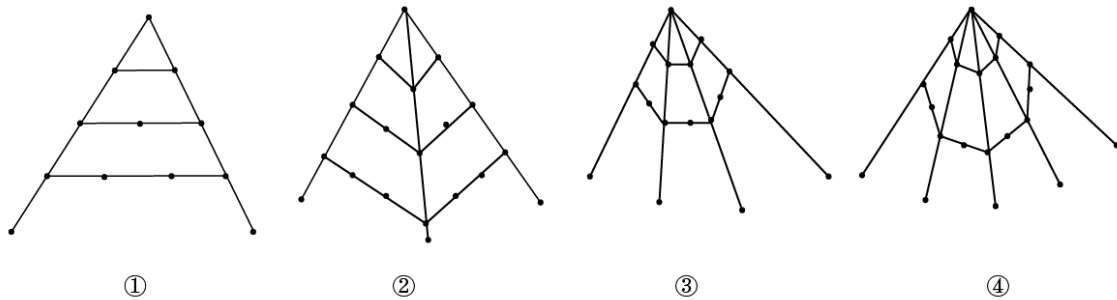
二、填空题 (10 小题, 每小题 3 分, 共计 30 分)

1、某厢式货车从物流中心出发, 向东行驶 2 小时, 速度为 a 千米/小时, 卸下一部分货后, 掉头以同样的速度向西行驶 5 小时后, 把其余货物卸掉, 接着向东再行驶 1 小时又装满了货, 问此时货车距离物流中心 _____ 千米.

2、古希腊的毕达哥拉斯学派对整数进行了深入的研究, 尤其注意形与数的关系, “多边形数”也称为“形数”, 就是形与数的结合物. 用点排成的图形如下: 其中: 图①的点数叫做三角形数, 从上至下第

一个三角形数是 1，第二个三角形数是 $1+2=3$ ，第三个三角形数是 $1+2+3=6$

，……图②的点数叫做正方形数，从上至下第一个正方形数是1，第二个正方形数是 $1+3=4$ ，第三个正方形数是 $1+3+5=9$ ，……由此类推，图④中第五个正六边形数是_____。



3、如果代数式 $a+8b$ 的值为 -5 ，那么代数式 $3(a-2b)-5(a+2b)$ 的值为_____。

4、如图所示的图形是按一定规律排列的。



则第 n 个图形中 O 的个数为_____。

5、若代数式 $x^2+ax-(bx^2-x-3)$ 的值与字母 x 无关，则 $a-b$ 的值为_____。

6、在多项式 $6x^2-4x+5-3x^2+8x-3$ 中， $6x^2$ 与_____是同类项， $-4x$ 与_____是同类项， -3 与_____也是同类项，合并后是_____。

7、若 m 为常数，多项式 $mxy+2x-3y-1-4xy$ 为三项式，则 $\frac{1}{2}m^2-m+2$ 的值是_____。

8、某书店新进了一批图书，甲、乙两种书的进价分别为4元/本、5元/本。现购进 m 本甲种书和 n 本乙种书，共付款 Q 元。

(1) 用含 m, n 的代数式表示 $Q=$ _____；

(2) 若共购进 5×10^3 本甲种书及 3×10^3 本乙种书， $Q=$ _____（用科学记数法表示）。

9、多项式 $a^3b - a^2+3ab^2-4a^5+3$ 是_____次_____项式，按 a 的降幂排列的结果_____。

10、

我国的《洛书》中记载着世界上最古老的一个幻方：将 1—9 这九个数字填入 3×3 的方格内，使三行、三列、两对角线上的三个数之和都是 15，如图所示幻方中，字母 m 所表示的数是_____.

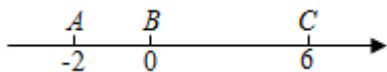
m		2
3	5	

三、解答题（5 小题，每小题 10 分，共计 50 分）

1、先化简，再求值

$$2(3a^2b-ab^2)-(ab^2+2a^2b)+3ab^2, \text{ 其中 } a=\frac{1}{2}, b=-6$$

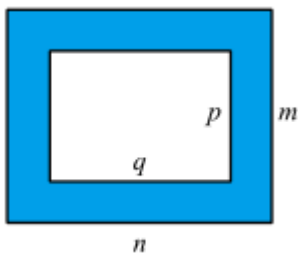
2、如图所示，在数轴上点 A, B, C 表示得数为 $-2, 0, 6$ ，点 A 与点 B 之间的距离表示为 AB ，点 B 与点 C 之间的距离表示为 BC ，点 A 与点 C 之间的距离表示为 AC .



(1) 求 AB, AC 的长；

(2) 点 A, B, C 开始在数轴上运动，若点 A 以每秒 2 个单位长度的速度向左运动，同时，点 B 和点 C 分别以每秒 3 个单位长度和 4 个单位长度的速度向右运动. 请问： $BC - AB$ 的值是否随着运动时间 t 的变化而变化？若不变，请求其值；若变化，请说明理由并判断是否有最值，若有求其最值.

3、如图，用字母表示图中阴影部分的面积.



4、如图，已知线段 $AB = m$ (m 为常数)，点 C 为直线 AB 上一点 (不与 A, B 重合)，点 P, Q 分别在线段 BC, AC 上，且满足 $CQ = 2AQ, CP = 2BP$.

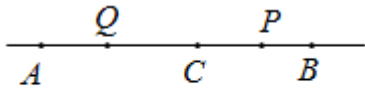


图 1

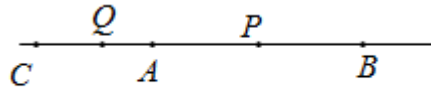


图 2

(1) 如图 1, 点 C 在线段 AB 上, 求 PQ 的长; (用含 m 的代数式表示)

(2) 如图 2, 若点 C 在点 A 左侧, 同时点 P 在线段 AB 上 (不与端点重合), 求 $2AP+CQ-2PQ$ 的值.

5、代数式 $(3a+2a^2-4a^3)-(a^2W-3a^3)$ 里的 “ W ” 是 “ $+$, $-$, \times , \div ” 中某一种运算符号.

(1) 如果 “ W ” 是 “ $+$ ”, 化简: $(3a+2a^2-4a^3)-(a^2W-3a^3)$;

(2) 当 $a=-1$ 时, $(3a+2a^2-4a^3)-(a^2W-3a^3)=-2$, 请推算 “ W ” 所代表的运算符号.

-参考答案-

一、单选题

1、A

【解析】

【分析】

先计算出 6×6 方格纸片中共含有多少个 3×2 方格纸片, 再乘以 4 即可得.

【详解】

由图可知, 在 6×6 方格纸片中, 3×2 方格纸片的个数为 $5\times 4\times 2=40$ (个)

则 $n=40\times 4=160$

故选: A.

【考点】

本题考查了图形类规律探索, 正确得出在 6×6 方格纸片中, 3×2 方格纸片的个数是解题关键.

2、D

【解析】

【分析】

根据单项式的定义，单项式系数、次数的定义来求解. 单项式中数字因数叫做单项式的系数，所有字母的指数和叫做这个单项式的次数.

【详解】

A. $\frac{x+y}{2}$ 是多项式，故本选项错误；

B. $\frac{1}{x}$ 不是整式，所以不是是单项式，故本选项错误；

C. $-\frac{2x}{3}$ 的系数为 $-\frac{2}{3}$ ，故本选项错误；

D. $-5a^2b$ 的次数是 3，正确.

故选：D.

【考点】

考查了单项式的定义. 确定单项式的系数和次数时，把一个单项式分解成数字因数和字母因式的积，是找准单项式的系数和次数的关键.

3、D

【解析】

【分析】

说出代数式的意义，实际上就是把代数式用语言叙述出来. 叙述时，要求既要表明运算的顺序，又要说出运算的最终结果.

【详解】

解：代数式 $a^2 - \frac{1}{b}$ 的正确解释是 a 的平方与 b 的倒数的差.

故选：D.

【考点】

用语言表达代数式的意义，一定要理清代数式中含有的各种运算及其顺序．具体说法没有统一规定，以简明而不引起误会为出发点．

4、D

【解析】

【分析】

根据题意，阴影部分的周长等于正方形的周长减去 $4d$ ，再加上 4 个半圆的周长，即可求得答案

【详解】

解：由题意可得：阴影部分的周长 $4m + 2\pi d - 4d$

故选 D

【考点】

本题考查了列代数式，根据题意求得周长是解题的关键．

5、C

【解析】

【分析】

根据代数式的定义：用基本运算符号（基本运算包括加减乘除、乘方和开方）把数或表示数的字母连接起来的式子，由此可排除选项．

【详解】

解：A、是代数式，故不符合题意；

B、是代数式，故不符合题意；

C、中含有“=”，不是代数式，故符合题意；

D、是代数式，故不符合题意；

故选 C．

【考点】

本题主要考查代数式的定义，熟练掌握代数式的定义是解题的关键.

6、D

【解析】

【分析】

根据“金额=单价×数量”、正方形的周长公式、“男生总人数=班级数×每班男生人数”、“两位数=十位数字×10+个位数字”逐项判断即可得.

【详解】

解：A、葡萄的单价是4元/kg， $4a$ 表示 akg 葡萄的金额，原表述正确；

B、正方形的边长为 a ， $4a$ 表示这个正方形的周长，原表述正确；

C、某校七年级有4个班，平均每个班有 a 名男生， $4a$ 表示全校七年级男生总数，原表述正确；

D、一个两位数的十位和个位数字分别为4和 a ， $40+a$ 表示这个两位数，原表述错误；

故选：D.

【考点】

本题考查了列代数式，正确理解各语句的意思是解题关键.

7、C

【解析】

【分析】

设正方形③的边长为 x ，正方形①的边长为 y ，再表示出正方形②的边长为 $x-y$ ，正方形④的边长为 $x+y$ ，长方形⑤的长为 $y+x+y=x+2y$ ，则可计算出整张卡片的周长为 $8x$ ，从而可判断只需知道哪个正方形的边长.

【详解】

解：设正方形③的边长为 x ，正方形①的边长为 y ，则正方形②的边长为 $x-y$ ，正方形④的边长为 $x+y$ ，长方形⑤的长为 $y+x+y=x+2y$ ，

所以整张卡片的周长= $2(x-y+x)+2(x-y+x+2y)=4x-2y+2x-2y+2x+4y=8x$ ，

所以只需知道正方形③的边长即可.

以上内容仅为本文档的试下载部分，为可阅读页数的一半内容。如要下载或阅读全文，请访问：<https://d.book118.com/127132134124010015>