

2025 年外研版 2024 九年级地理下册阶段测试试卷含答案

考试试卷

考试范围：全部知识点；考试时间：120 分钟

学校：_____ 姓名：_____ 班级：_____ 考号：_____

总分栏

题号	一	二	三	四	五	六	总分
得分							

评卷人	得分





一、选择题(共 6 题，共 12 分)

1、东西半球用（ ）组成的经线圈划分的。

- A. 20°W 和 160°E
- B. 20°E 和 160°W
- C. 0°经线和 0°纬线
- D. 0°经线和 180°经线

2、生产生活与天气；气候密切相关。天气现象复杂多变；地球表面冷热不均，降水差别很大，影响因素多种多样。根据所学知识，回答：

下列天气符号所代表的天气，与人们的户外活动最为适宜的一组是（ ）

- A. —体育锻炼
- B. —晾晒衣服
- C. —播种小麦
- D. —高空作业

3、

下列关于我国地理位置的表述，正确的是（ ）

- A. 我国主要位于热带
- B. 我国位于亚洲东部、太平洋西岸
- C. 我国位于南半球
- D. 我国位于西半球

4、地图的基本三要素是（ ）

- A. 比例尺、方向和图例
- B. 比例尺、大小和方向

- C. 比例尺、大小和注记
- D. 方向、大小和图例

5、台湾的经济是（ ）

- A. 以农业为主的经济
- B. 以博彩业为主的经济
- C. 以重工业为主的经济
- D. “进口—加工—出口”型的经济

6、下列与香港毗邻的经济特区是（ ）

- A. 珠海
- B. 澳门
- C. 深圳
- D. 广州

评卷人	得分

二、多选题(共 5 题，共 10 分)

7、香港和澳门均为我国的特别行政区，其相同的地理特征是（ ）

- A. 与广东省相邻
- B. 人多地狭
- C. 均为世界重要的金融中心
- D. 经济支柱都是博彩旅游业

8、阿拉法特经常以白色的长袍和头巾出现在荧屏上，其衣着的目的与地理环境的关系是（ ）

- A. 美观大方
- B. 反射阳光
- C. 遵守教规
- D. 抵挡风沙

9、下列有关地图说法正确的是（ ）

- A. 所有地图图上都是“上北下南，左西右东”
- B. 地图三要素是指地图上方向，比例尺，图例
- C. 地图上表示名称，山脉高度的文字和数字叫注记
- D. 地图上表示河流、道路等符号叫图例

10、欧洲部分国家与其特色产业相结合正确的一组是（ ）

- A. 荷兰-花卉种植
- B. 挪威-机器制造业
- C. 瑞典-海洋渔业
- D. 瑞士-畜牧业

11、读图：分析下列省级行政区中，容易发生黄河凌汛的一组是（ ）



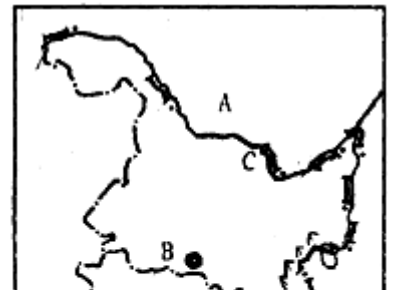
- A. 宁夏回族自治区
- B. 山东省
- C. 陕西省
- D. 山西省

评卷人	得分

三、填空题(共 6 题, 共 12 分)

12、读东北三省图; 回答下列问题。

- (1) 邻国: A_____.
- (2) B 所在省的行政中心是_____, 该省的作物熟制是_____.
- (3) 河流: C_____.
- (4) 山脉: D_____.
- (5) 本区是我国最大的_____(重、轻)工业基地.



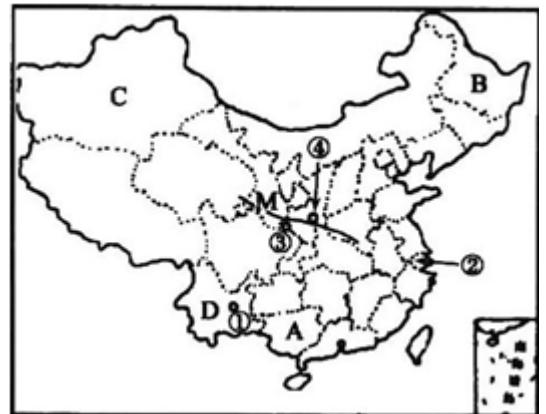
13、阅读材料. 完成下列各题.

材料一: 中国地图.

材料二: 暑假期间; 维吾尔族小姑娘吉米来到上海世博会参观中国馆, 了解改革开放 30 年历程, 以及参观其他各省的馆区.

(1) 吉米最可能来自_____(填字母)其全称是_____. 我国少数民族最多的省区为_____(填字母), 主要位于_____(地形区)上. 世博会所在省份_____(填序号)其简称是_____.

(2) 我国改革开放的有利位置, 从大洲、大洋位置来看: 它位于_____东部, _____西岸. 从纬度位置来看: 我国大部分位于_____带, 少部分位于_____带, 没有_____带. 从海陆位置来看: 是一个_____国家.



14、读中国行政区图; 回答问题.

(1) 写出下列数码所代表的省区名称:

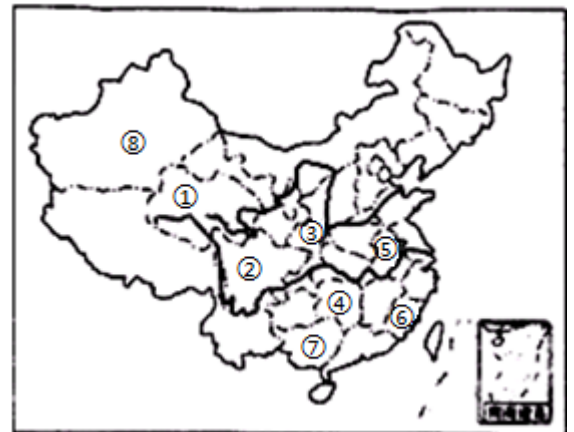
- ①_____, ②_____;
- ④_____, ⑥_____.

(2) ⑦⑧两省中, 面积较大的是_____; 北回归线穿过的是_____.(写出省区名称)

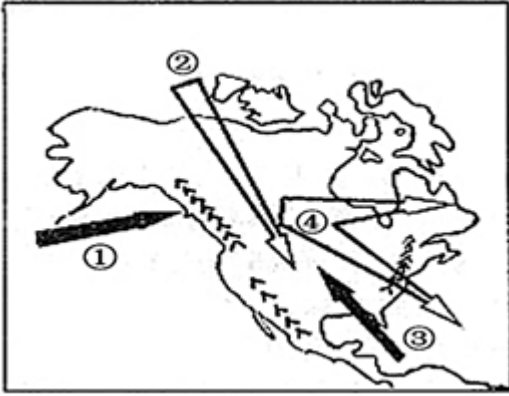
(3) 在图中相应位置填入序号.

A. 吉林省 B. 云南省.

(4) 我们学校所在的省是_____, 成语“秦晋之好”中秦所指省级行政区是_____.(填字母)



15、读右图; 完成下列提问:



- (1) 图中①表示___气流，在其影响下形成___气候。为什么这种气候只局限在沿海狭长的地区？___。
- (2) 图中②表示___（冷/暖）空气，在其影响下天气___。
- (3) 图中③表示___（冷/暖）空气，在其影响下天气___。
- (4) 图中②③两种气流为什么能在北美大陆中部长驱直入？

16、据材料按要求回答下列问题。

材料 1：2009 年 1 月-2 月国务院总理温家宝出访欧洲四国（英国；德国，瑞士，西班牙）和欧盟总部。

材料 2：欧洲西部图。



根据材料回答下列问题。

(1) 写出数字代表的地理事物。

①___海，②___（国家），③___海峡，④___河，⑤___海。

(2) 欧洲西部旅游业十分发达，请为出访欧洲四国的温总理推荐两处旅游胜地：法国___，西班牙___。

(3) 该地区北部挪威沿海幽深曲折的峡湾主要是受___作用形成的。

(4) 2012 年第 30 届奥运会在___国举办（填字母）。

(5) 在欧洲西部的畜牧业十分发达，当地居民餐桌上常见牛排、奶油、奶酪等食品，请你从气候等地理知识方面分析这里畜牧业发达的原因：___。

17、读图和甲；乙两幅景观图；完成下列各题。

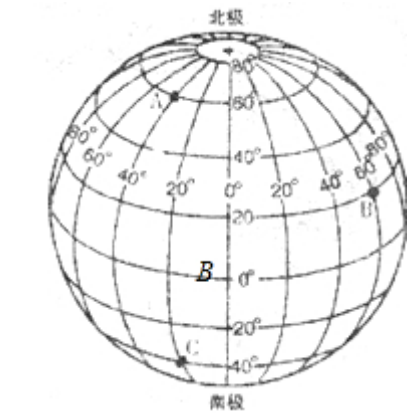


- (1) 甲、乙两幅景观图中，能正确反映图中阴影地区地表形态的是____图（填甲；乙）；请从该地区的土质和降水特点两方面，分析这种地表形态的成因。
- (2) 黄河流经 A、B、C 三个地点，河水含沙量较大的是____。D 地所处的干湿地区是____，该地自古以来被誉为“塞外江南”，主要是依靠____发展灌溉农业。
- (3) 凌汛往往发生在黄河干流的____河段（填上；中、下游）
- (4) 图中阴影地区是我国自然灾害多发区，主要的气象灾害是干旱、洪灾和____；最严重的生态环境问题是____，为治理该问题，当地人民采取的生物治理措施是____。
- (5) 淄博市某中学夏令营计划乘火车从淄博站去西安参观考察，假如你是导游，请你为该夏令营设计一条最便捷的铁路线路，并介绍图示阴影地区的民俗风情。

评卷人	得分

四、判断题(共 3 题，共 30 分)

- 18、运具和线路合一的交通运输方式是管道运输。____（判断对错）
- 19、B 指示的纬线圈是赤道____。
- 20、中国位于北半球，东半球。（）



评卷人	得分

五、连线题(共 4 题，共 8 分)

21、读南美洲略图，完成下列各题。(12分)



- (1) 南美洲北与____洲以巴拿马运河为界，南隔德雷克海峡与____洲相望。____
- (2) 河流 A 是____河，是世界第____长河。位于____平原。其流向是____，注入____。该地属于____气候。
- (3) B 地的主要气候类型是____。
- (4) C 是____，全长近 9000 千米，是世界上最长的山脉。
- (5) 据图描述南美洲的地势特征。(2分)



loading...

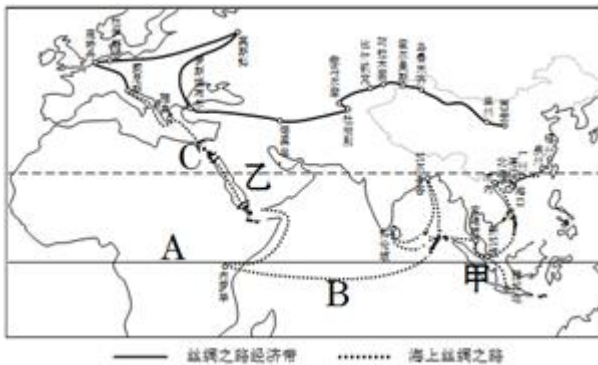
22、将特征与其所在地区连线对应起来。

(1) 江海交汇之地，地势低平，河湖密布 A、黄土高原 (2) 千沟万壑支离破碎 B、长江三角洲地区 (3) 石灰岩广布，喀斯特地形突出 C、东北平原 (4) 山环水绕 沃野千里 D、云贵高原



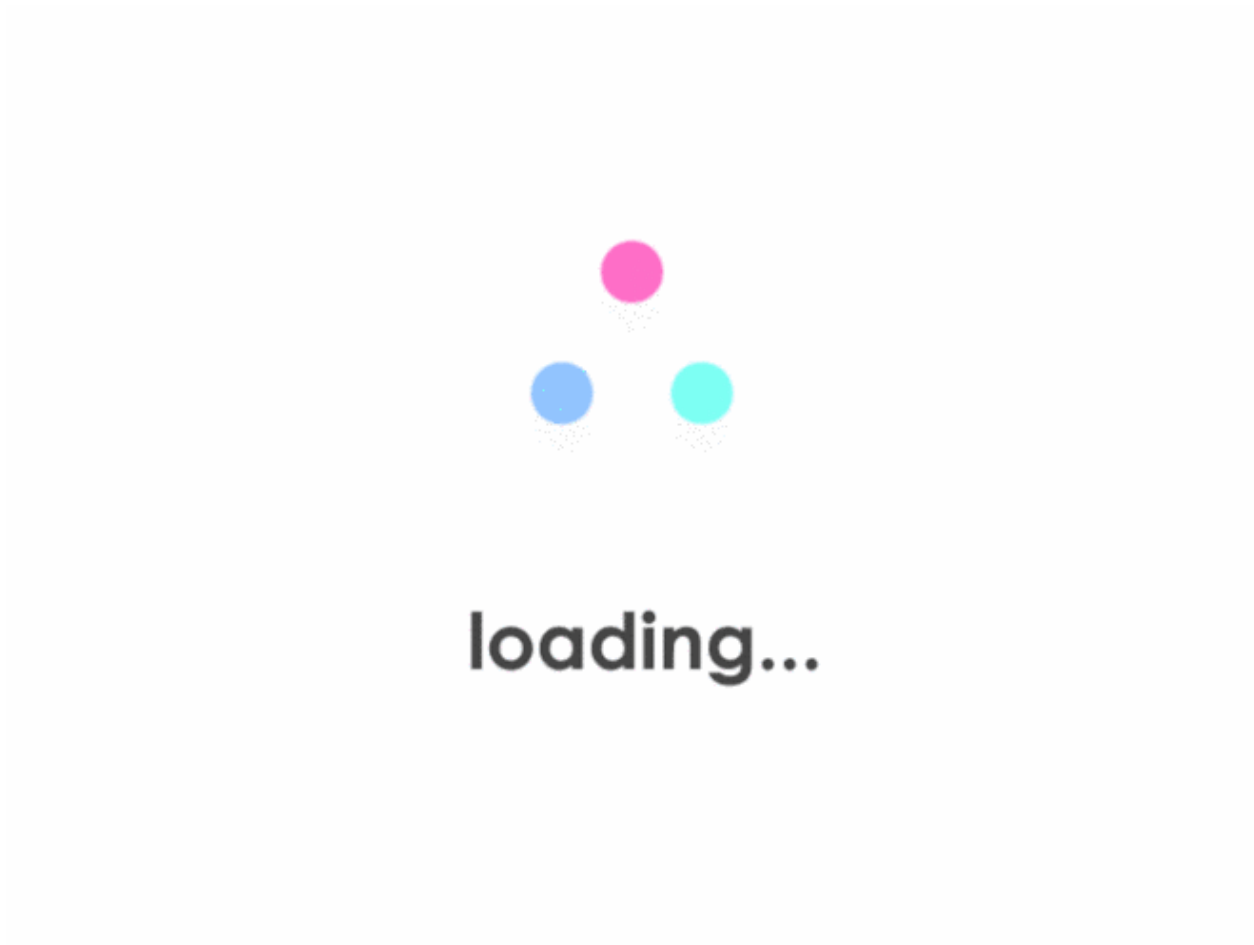
loading...

23、(7分) 近年；为推动区域经济一体化发展，我国提出了“一带一路”的国家发展战略。“一带一路”是“丝绸之路经济带”和“21世纪海上丝绸之路”的简称。读“一带一路”示意图，完成下列各题。



- (1) “丝绸之路经济带”横穿____大陆，该大陆沿北纬 30°纬线由西向东，地势呈现出“”的变化。
- (2) “海上丝绸之路”联系了三大洲，图中 A 大洲是。该线路经过大洋 B 和重要地理分界线 C 运河。
- (3) 下列关于图中“丝绸之路经济带”线路的叙述正确的是 ()
 - A. 越过青藏高原
 - B. 沿线受热带季风气候影响。
 - C. 穿过乌拉尔山脉
 - D. 途经面积广大的温带大陆性气候区
- (4) 杭州天堂伞业有限公司借海上丝绸之路经济带建设之机大力开拓海外市场，他们

发现雨伞在甲国十分畅销，而在乙国却销售困难，请从气候方面解释形成这种现象的原因：_____。



24、将下列景点与所在地连成线。

- ①武陵源
- ②岳麓山
- ③岳阳楼
- ④衡山
- ⑤袁山
- ⑥韶山
- ⑦桃花源

- a. 岳阳
- b. 张家界
- c. 长沙
- d. 邵阳
- e. 湘潭
- f. 常德
- g. 衡阳市

(6) 与印度相比，俄罗斯发展农业的不利条件是_____。

参考答案

一、选择题(共 6 题，共 12 分)

1、A

【分析】

【分析】东西半球分界线是 20°W 和 160°E 组成的经线圈， 20°W 以东、 160°E 以西为东半球， 20°W 以西、 160°E 以东为西半球。南北半球的划分是以 0° 纬线即赤道为界，赤道以北为北半球，以南为南半球。

【解析】

【解答】解：任何两条相对的经线（经度之和为 180° ）；都组成一个经线圈；任何一个经线圈，都把地球分成相等的两个半球。东经 180° 和西经 180° ，实际上重合为一条经线，即 180° 经线。国际上习惯用 20°W 和 160°E 这两条经线组成的经线圈，作为划分东西半球的界线，因为这个经线圈基本上是从海洋通过，避免了以 0° 和 180° 经线划界，将欧洲和非洲的一些国家分隔在两个半球上。依据题意。

故选：A。

2、B

【分析】

【分析】天气与人们的日常生产、生活有着密切的关系。依据对天气符号的认识我们判断不同的天气对生产生活的影 响，并对对应关系是否正确作出判断。

【解析】

【解答】解：A 选项中的天气符号代表的是降雨；不适合体育锻炼，故 A 错误；

B 选项中的符号代表的是晴天；适合晾晒衣服，故 B 正确；

C 选项的符号代表的是降雪；不适宜种植小麦，故 C 错误；

D 选项的符号代表的是雷雨；不适合高空作业，故 D 错误。

故选：B。

以上内容仅为本文档的试下载部分，为可阅读页数的一半内容。如要下载或阅读全文，请访问：<https://d.book118.com/135213123302012043>