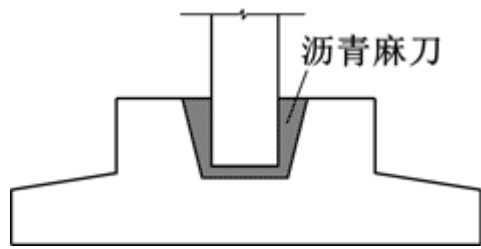


结构力学（上）-知到答案、智慧树答案

第一章单元测试

1、[选择题]: 图示预制混凝土柱插入杯型基础, 杯口的空隙中采用沥青麻刀填充, 构建结构力学计算简图时一



般视其为固定支座。

选项:

A:对

B:错

参考正确答案:【错】

2、[选择题]: 对于桥涵工程来说, 结构自重、覆盖在结构上的土压力以及水位不变的静水压力等都属于恒荷载。

选项:

A:对

B:错

参考正确答案:【对】

3、[选择题]: 超静定结构在任意荷载作用下, 反力和内力仅凭平衡条件就可以完全确定。

选项:

A:错

B:对

参考正确答案:【错】

4、[选择题]: () 横跨德夯大峡谷, 落差达400多米, 创造了四项世界记录, 其中包括大桥主跨1176m, 是跨峡谷悬索桥当今的世界第一。

选项:

A: 明石海峡大桥

B: 矮寨大桥

C: 港珠澳大桥

D: 金门大桥

参考正确答案:【矮寨大桥】

5、[选择题]: 图示的公路桥梁一般在结构力学分析时采用计算简图 ()。



选项:



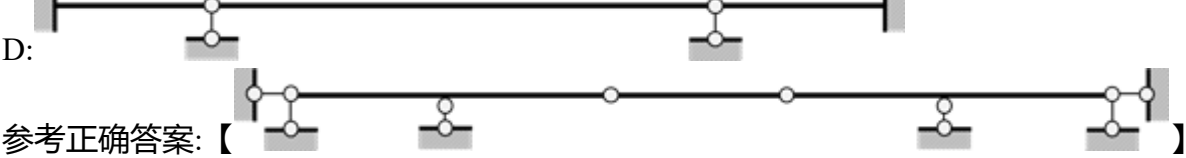
A:



B:



C:



6、[选择题]: 结构力学中, 杆件间的连接简化为结点, 一般不包括 ()。

- 选项:
- A: 活动结点
 - B: 组合结点
 - C: 铰结点
 - D: 刚结点

参考正确答案: 【 活动结点 】

7、[选择题]: 按几何特征分类, 结构一般可以分为 ()。

- 选项:
- A: 杆系结构
 - B: 薄膜结构
 - C: 实体结构
 - D: 板壳结构

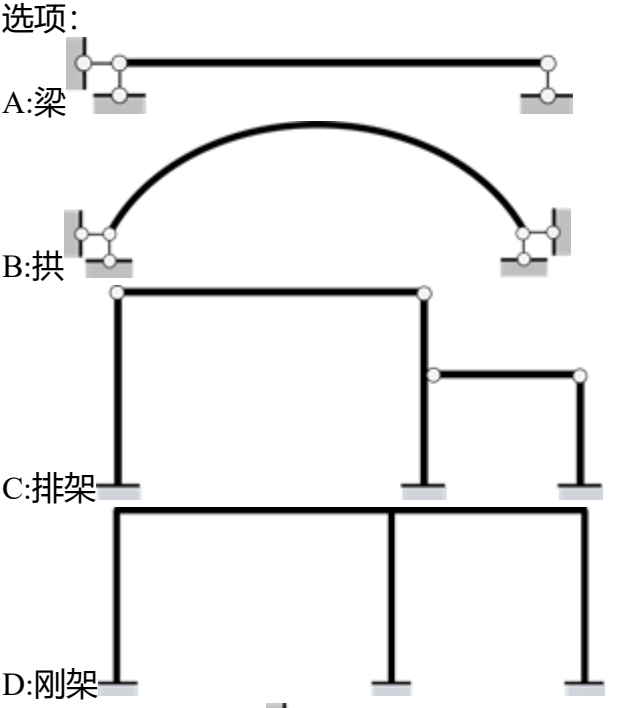
参考正确答案: 【 杆系结构 ;
薄膜结构 ;
实体结构 ;
板壳结构 】

8、[选择题]: 杆系结构按计算特点和求解方法可以分为 ()。

- 选项:
- A: 平面结构
 - B: 静定结构
 - C: 空间结构
 - D: 超静定结构

参考正确答案: 【 静定结构 ;
超静定结构 】

9、[选择题]: 以下 () 属于以受弯为主的结构。



参考正确答案: 【 梁 ;
 ;

以上内容仅为本文档的试下载部分，为可阅读页数的一半内容。如要下载或阅读全文，请访问：<https://d.book118.com/136040220102010100>