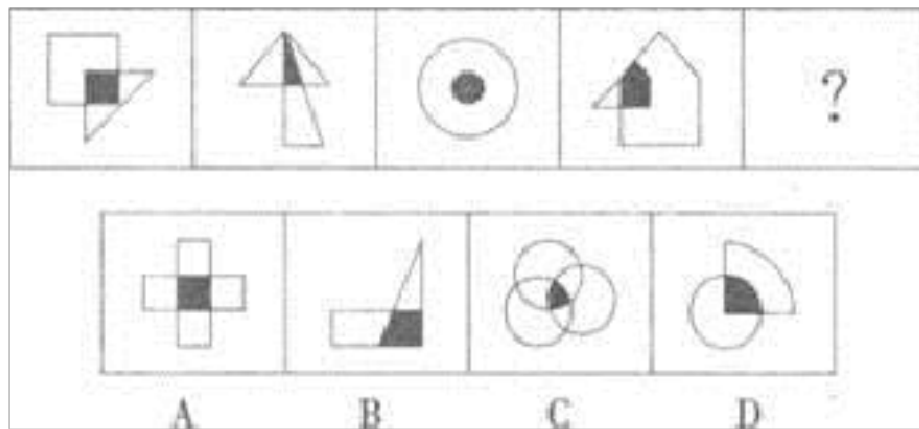


(备考 2023 年) 甘肃省嘉峪关市公务员省 考行政职业能力测验真题二卷(含答案)

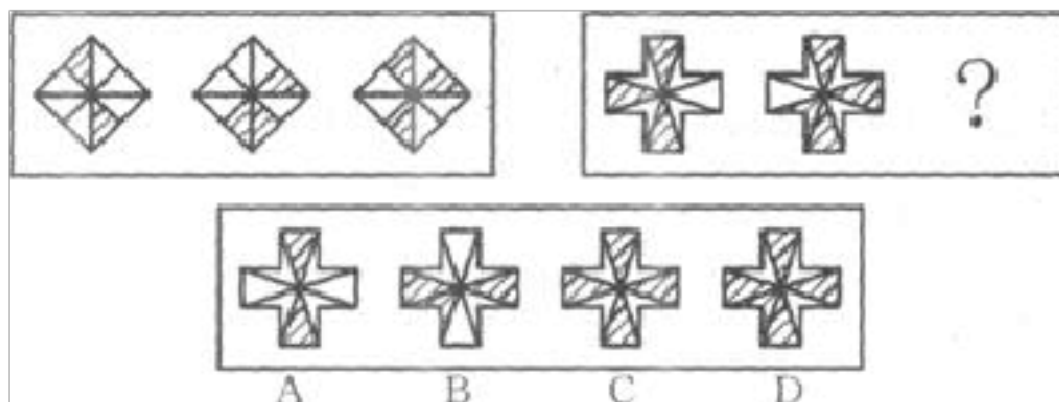
学校:_____ 班级:_____ 姓名:_____ 考号:_____

一、图形推理(6 题)

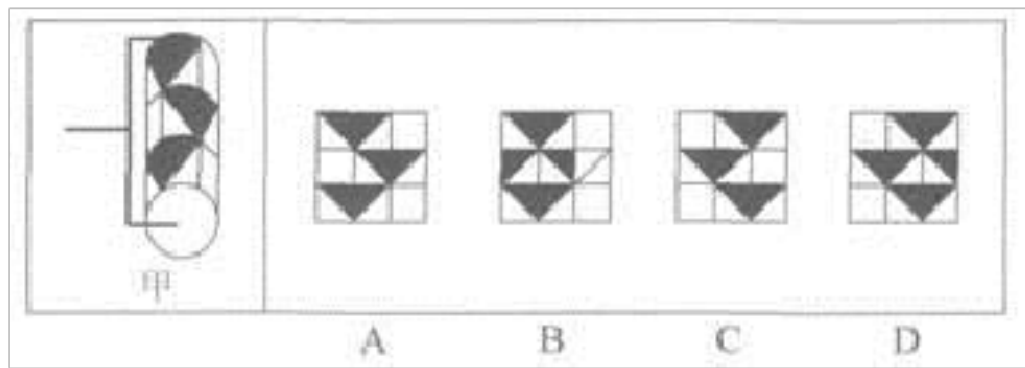
1.从所给的四个选项中, 选择最合适的一个填入问号处, 使之呈现一定的规律性。



2.

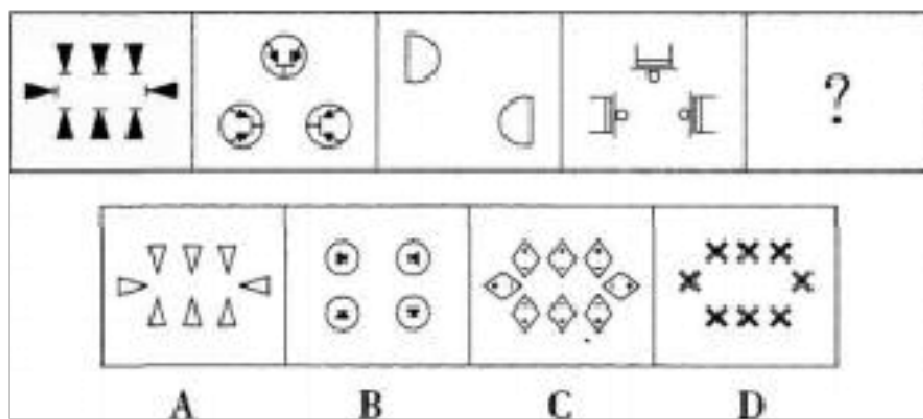


3. 小明用下图甲的胶辊沿着从左到右的方向将图案滚涂到墙上, 右边所给的四个图案中符合胶辊滚涂图案的是 ()。




- A. ①③④, ②⑤⑥ B. ①②⑤, ③④⑥ C. ①⑤⑥, ②③④ D. ①②⑥, ③④⑤

4. 从所给的四个选项中, 选择最合适的一个填入问号处, 使之呈现一定的规律性:

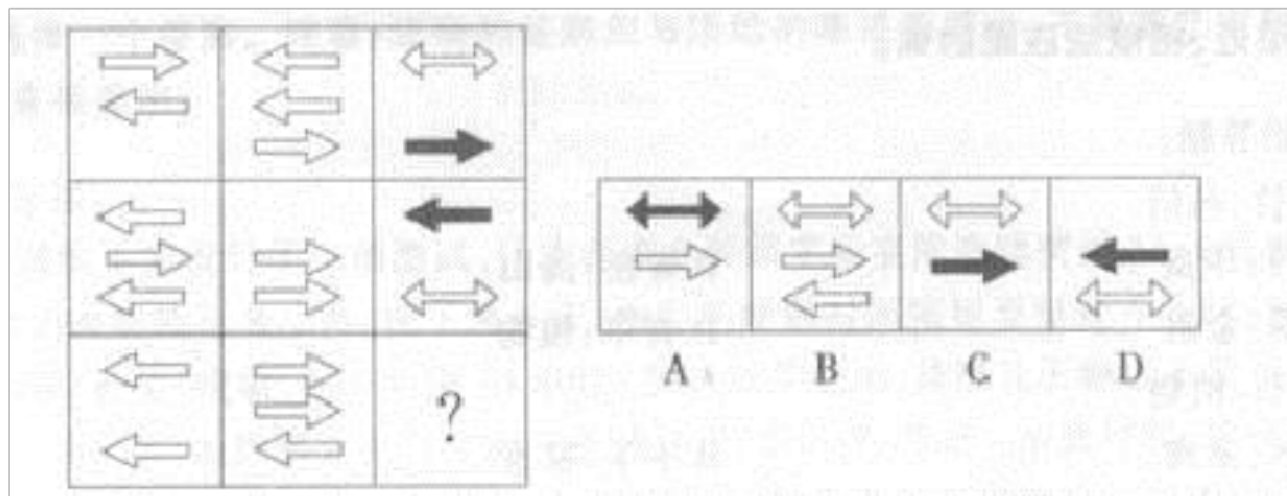


- A. 如上图所示 B. 如图所示 C. 如上图 D. 如图

5. 从所给的四个选项中, 选择最合适的一个填入问号处, 使之呈现一定的规律性。



6. 从所给的四个选项中, 选择最合适的一个填入问号处, 使之呈现一定的规律性。



- A. ①②③, ④⑤⑥ B. ①③⑥, ②④⑤ C. ①③⑤, ②④⑥ D. ①④⑤, ②③⑥

二、定义判断(10 题)

7. 在人群心理学中，人们把替罪羊引起的心理效应现象，称之为替罪羊效应。替罪羊原指古代犹太教在赎罪日用做祭品的羊，表示由它替人受罪，后比喻代人受过的人。

根据上述定义，下列属于替罪羊效应的是（ ）。

- A. 希特勒为了要掌握国内非常难以掌握的中产阶级，将一切集团里造成的矛盾、纠葛的原因及其后果都归咎于犹太人，所以集团里的对立就被暂时地压下来了，使当时德国国民精神得到了统一
- B. 小明今年 12 岁，在学校与同学小健打架过程中，失手打中小健头部致其昏迷，小明的父母要承担相应的赔偿责任
- C. 肖楠不小心将家里的花瓶打破了，妈妈问起，肖楠说不知道，妈妈查清事实后将其狠狠地训了一顿
- D. 甲和乙共同盗窃了某户人家的财物，之后甲由于害怕而主动自首，并将乙供出，警方顺利破案

8.辛普森悖论即在某个条件下的两组数据，分别讨论时都会满足某种性质，可是一旦合并考虑。却可能导致相反的结论。

根据上述定义，下列属于辛普森悖论的是：

- A.某校法学院和商学院均是男生录取率高，但总体录取率却是女生更高
- B.尽管某国喝牛奶和死于癌症的比例都很高，但这两者之间并不存在关联
- C.选举时，可能有人喜欢 A 胜过 B，喜欢 B 胜过 C，但这个人却更喜欢 C 而不是 A
- D.某企业平均工资 5000 元，但 5 名高管的工资就占了 80%，而 100 名普通员工的工资仅为 2000 元

9. 所谓文化暴发户，就是利用工作或其他途径掌握了话语权者，亦或者是因为财富而突然拥有了所谓的社会地位者，自认为是社会精英或者社会文化代言人，而实际文化素养、价值观以及审美并未达到一定层次的人。同时也可指那些没有学术修养，利用大众的求知欲望，以洗脑的方式开设学习班骗取钱财的人。

根据上述定义，下列选项不属于文化暴发户的是（ ）。

- A.某企业老总依靠炒房发家，由于文化修养不够觉得没面子，于是请枪手代写管理书籍，又雇佣所谓“读者”举办签售活动
- B.原本初中辍学的李某发现现今“国学”十分流行，于是自我包装成为“国学大师”。进行虚假宣传后到处演讲，骗取钱财
- C.徐某文笔优秀，立志成为文学家，无奈文化市场不景气，只好下海经

商，开办了软件公司，成名后在访谈节目中还特意谈起了年轻时的文学梦

D.兽医张某经过策划公司的大力宣传，在公众心目中成为了国内知名的养生专家，并著书立说，宣传其“豆腐”养生学

10. 差别定价：指企业根据市场的不同、顾客的不同而对企业生产的同一种产品采取不同的定价销售。

下列不属于差别定价的是（ ）。

A.旅游景点老年人票 2 折，儿童票 3 折，学生票 5 折，一般顾客全票

B.某酒厂生产的 52°白酒，批发价每瓶 102 元，零售价每瓶 128 元

C.电力公司对居民用电实行分时计价，6—12 点每度 0.9 元，12—24 点每度 1.5 元，0—6 点每度 0.3 元

D.某品牌手机内存 8GB 的售价 4888 元，16GB 的 5388 元，32GB 的 6288 元

11.安慰剂效应，又称假药效应，指的是病人虽然没有获得有效的治疗，但却“预料”或“相信”治疗有效，而让病患症状得到舒缓的现象。

根据上述定义，下列属于安慰剂效应的一项是（ ）。

A.老钱被医院检查出了癌症，几个月后死亡，后来发现是误诊，其实老钱并没有得癌症

B.小马得了流行性感冒，没有吃药在家休息了两天后，流感就好了

C.某公司采纳了专家的意见对公司制度进行改革后，改变了亏损的局面

D.牙痛患者一进牙医诊所，就感觉牙痛好多了

12.本土化是现代营销观念的反映，它的核心是：企业一切经营活动以消费者为核心，而不是以商家的喜好、习惯为准绳，企业规范必须随地区性变化引起的顾客变化而改变。

根据上述定义，下列适用于本土化营销的是（ ）。

A.某国内制作团队翻译了韩国某电视节目，使其采用韩文中字的方式在中国互联网上播放

B.某国外企业结合出口地的风俗习惯和用户偏好制定宣传方案，形成了新的特色产品

C.某跨国公司利用通用的广告营销方案推广产品，在一些地方大受欢迎，一些地方销售低迷

D.佛教从古印度传入中国，融汇儒家的“仁爱”和道家的“清静无为”思想，而发展出特有的中国佛教来

13.强制医疗，是指国家为避免公共健康危机，通过对患者疾病的治疗，以治愈疾病、防止疾病传播、维护公众健康利益，具有强制性、非自愿性、公益性的特点。依据上述定义，下列不属于强制医疗的是：

A.在防治传染性非典型肺炎的过程中，对非典患者实施强制的隔离治疗

B.徐某好打抱不平，为邻居（残疾人）宅基地纠纷状告乡政府并“越级上访”，结果被关精神病院6年半

C.王某因吸毒产生幻听、精神障碍，持刀挟持店老板，有关部门对其采

取强制戒毒措施

D.冯某在精神病发病期间采用暴力方式对林某及其家属进行人身威胁，于是被送到医院

14.

2030 失业现象是指 20-30 岁的大学毕业生或在职人士，他们不满自己的工作环境或待遇而宁愿失业，回家啃老的现象。根据上述定义，下列选项中属于 2030 失业现象的是()。

A.小王天生丽质，从小到大都有不少追求者，毕业后她和一个煤老板结了婚，不需要上班。每天在家享受

B.小李考研屡屡失利，都已经 29 岁了，还是坚持在家复习，不肯找工作，立志一定要考上 研究生

C.小张毕业后做过保险推销，做过股票经理人，但是一直觉得工作不理想，最后辞职回家，每天无所事事

D.小赵非常讨厌做朝九晚五的上班族，于是大学时就开始在网上连载小说，毕业后回家专心写作，不论家里人怎么劝她都不找工作

15.寄生：是指一种生物长期或暂时生活在另一种生物的体内或体表，并从后者那里吸取营养物质来维持其生活的一种种间关系。根据以上定义，下列属于寄生关系的是（ ）。

A.蘑菇、香菇、木耳、银耳、猴头、灵芝等大都生活在枯死的树枝、树根上或富含有机物的地方

B.小丑鱼居住在海葵的触手之间，这些鱼可以使海葵免于被其他鱼类食

用，而海葵有刺细胞的触手，可使小丑鱼免于被掠食，而小丑鱼本身则会分泌一种黏液在身体表面，保护自己不被海葵伤害

C.印首鱼会利用头部的吸盘状构造，吸附在其他的鱼类表面，但是不造成伤害，藉着被附着的个体的活动而行于水中

D.赤眼蜂把卵产在螟虫的卵内，孵化出的幼虫以螟虫的卵为食，而导致螟虫死亡

16.互补品是指两种商品之间存在着某种消费依存关系，即一种商品的消费必须与另一种商品的消费相配套。一般而言，某种商品互补品价格的上升，将会因为互补品需求量的下降而导致该商品需求量的下降。

根据上述定义，下列属于互补品的一项是：

A.随着数码相机的使用越来越广泛，胶卷这一产品正逐渐退出历史舞台

B.在物价不断上涨的今天，由于牛奶的价格上升得较快，许多人转而购买奶粉

C.某品牌的化妆品举行促销活动，买 100ml 该品牌乳液会赠送 50ml 洗面奶

D.将剃须刀以成本价或接近成本价的价格出售，目的是促使顾客在将来购买更多的、利润更高的替换刀片

三、常识判断(10 题)

17.第 106 题 下列关于《宪法》规定的表述准确的是 ()。

A.我国各经济领域内的个体经济、私营经济等非公有制经济，都是社会

主义市场经济的重要组成部分

B.公民的合法的私有财产神圣不可侵犯

C.土地使用权可以依照法律的规定转让

D.国家为了公共利益，可以依照法律规定对公民的私有财产实行征收并应给予补偿

18.第1题 为降低乘客的眩晕感，“高速列车”的车里安装了减速玻璃。下列关于减速玻璃和普通玻璃的表述不正确的是（ ）。

- A. 减速玻璃的平面度比普通玻璃更好
- B. 减速玻璃增强了光的折射作用
- C. 透过普通玻璃，窗外的物体运动的速度看起来和实际速度一致
- D. 透过减速玻璃，窗外的物体运动更模糊

19.劳动群众集体所有制经济是由（ ）共同占有生产资料的一种公有制形式。

- A. 经济组织内的劳动者
- B. 集体经济组织内的劳动者
- C. 社会组织内的劳动者
- D. 公有制经济组织内的劳动者

20.“上联：八百里洞庭凭岳阳壮阔；下联：两千年赤壁览黄鹤风流。”

这一对联表示的省区分别是（ ）

- A.江西、四川 B.湖南、四川 C.江西、湖北 D.湖南、湖北

21.

商店出售的移动电话的价值量大小主要是由：

A.供求关系决定的 B.生产者决定的 C.劳动生产率决定的 D.生产移动电话的社会必要劳动时间决定的

22. 根据我国《行政处罚法》的规定，关于行政处罚的实施程序，下列说法错误的是：

A.对公民 100 元以下的罚款可以适用简易程序
B.行政机关应当在听证的七日前，通知当事人举行听证的时间、地点
C.在简易程序中，行政处罚可以当场决定。
D.当事人要求听证的，应当在行政机关告知后三日内提出

23. () 是未成熟细胞，具有再生人体各种器官的功能，被医学界成为“万能细胞”。

A.干细胞 B.红细胞 C.白细胞 D.细胞核

24. 某省人民政府的规章与国务院某一部门的规章不一致，按照法律规定。下列做法正确的是：

A.由国务院裁决 B.由最高人民法院裁决 C.由国务院法制办公室裁决
D.由全国人民代表大会常务委员会对违法的规章予以撤销

25. 中国的传统绘画与诗歌、散文、楹联、书法以及篆刻相互影响、相互交融，形成了诗书画一体的艺术形式，成为与西方艺术风格迥异的东方艺术的表现形式之一。这表明 ()。

A.传统文化具有历史性 B.传统文化具有民族性 C.传统文化具有继承性 D.传统文化具有现代性

26.81 . 以下说法不正确的是() .

四、数量关系(10 题)

27.第 9 题 0, 7, 24, (), 80, 33

- A. 57
- B. 65
- C. 63
- D. 48

28.第 103 题 有 10 名学生参加某次数学竞赛, 已知前八名的平均成绩是 90 分, 第九名比第十名多 2 分, 所有学生的平均成绩是 87 分。问第九名学生的数学成绩是几分? ()

- A. 70
- B. 72
- C. 74
- D. 76

29.

从 A 地到 B 地的硬座票价为 175 元, 卧铺比硬座贵 105 元, 但是卧铺还要额外增加卧具清洗的成本 10 元, 现在如果将 108 座坐席的硬座票改为 72 位的卧铺票, 且车厢满员不超载 . 问能节约多少成本?

A.180 元 B.360 元 C.540 元 D.720 元

以上内容仅为本文档的试下载部分，为可阅读页数的一半内容。如要下载或阅读全文，请访问：<https://d.book118.com/147020152016006032>