

2024 年长春市初中学业水平考试

道德与法治·历史

本试卷分道德与法治和历史两部分，共 8 页。道德与法治满分 60 分，历史满分 60 分，共计 120 分。开卷考试，考试时间为 100 分钟。考试结束后，将本试卷和答题卡一并交回。

注意事项：

1. 答题前，考生务必将自己的姓名、准考证号填写在答题卡上，并将条形码准确粘贴在条形码区域内。
2. 答题时，考生务必按照考试要求在答题卡上的指定区域内作答，在草稿纸、试卷上答题无效。

道德与法治


一、选择题：本题共 15 小题，共 20 分。在每小题给出的四个选项中，只有一个是符合题目要求的。1~10 题每小题 1 分，11~15 题每小题 2 分。

1. 第 42 届亚奥理事会全体大会于 2023 年 7 月 8 日在泰国曼谷举行。经亚奥理事会执委表决通过，_____ 获得 2025 年亚洲冬季运动会举办权。（ ）
A. 北京市 B. 石家庄市 C. 沈阳市 D. 哈尔滨市
2. 2023 年 11 月 1 日，_____ 建设全面启动。该自贸试验区是我国西北沿边首个自贸试验区。（ ）
A. 辽宁自贸试验区 B. 上海自贸试验区 C. 新疆自贸试验区 D. 海南自贸试验区
3. 2023 年 12 月 22 日，第 78 届联合国大会协商一致通过决议，将_____ 确定为联合国假日。这一决议的通过促进了世界不同文明的交流互鉴。（ ）
A. 春节 B. 清明节 C. 端午节 D. 中秋节
4. 我国载人月球探测工程登月阶段任务已经启动实施，新一代载人飞船命名为“_____”，寓意载人月球探测承载中国人的航天梦，开启探索太空的新征程。（ ）
A. 神舟 B. 嫦娥 C. 揽月 D. 梦舟
5. 小春在朋友遇到困难的时候，总能伸出援手，以行动向朋友表达支持。这表明呵护友谊需要（ ）
A. 用心关怀对方 B. 恰当处理冲突 C. 学会尊重他人 D. 正确对待伤害
6. 日常生活中，我们要合理的饮食、有规律的作息和适量的运动。这告诉我们应（ ）
A. 热爱劳动，以礼待人 B. 关爱身体，守护生命 C. 丰富阅历，体味情感 D. 调节心理，接纳自己
7. 读图《保护》。图中条例制定的主要目的是



保护

- A. 避免未成年人遭遇网诈
B. 引导未成年人履行义务
C. 限制未成年人使用网络
D. 保障未成年人合法权益
8. 2023 年是国家宪法日设立 10 周年。吉林省开展了为期一周的以“大力弘扬宪法精神，建设社会主义法治文化”为主题的系列宣传活动。上述活动的开展（ ）
- A. 确立了宪法的最高地位
B. 有利于公民自觉践行宪法
C. 保障了公民的基本权利
D. 确保实现全民守法的目标
9. 近年来，我国陆续出台了《中华人民共和国反间谍法》《中华人民共和国粮食安全保障法》《中华人民共和国保守国家秘密法》等法律。这表明（ ）
- A. 危害国家安全的行为一定受到刑事处罚
B. 法律由国家强制力保证实施
C. 我国维护国家安全的法律体系不断完善
D. 国家行政机关坚持严格执法
10. 2023 年 11 月 5 日至 10 日，第六届中国国际进口博览会在上海举行。全球超 3400 家企业参展，世界 500 强和行业龙头企业参展数量 289 家，意向成交额 784.1 亿美元，创历届新高。进博会的“朋友圈”不断扩大，中国大市场成为世界大机遇。这表明（ ）
- A. 我国是世界最大的发展中国家
B. 我国始终是世界和平的建设者
C. 我国积极参与全球规则的制定
D. 我国奉行互利共赢的开放战略
11. 2024 年 5 月 15 日，在全国低碳日主场活动上，生态环境部公布了入围深化气候适应型城市建设试点名单，吉林省_____、_____名列其中。（ ）
- ①长春市 ②延边州 ③吉林市 ④松原市
- A. ①② B. ①④ C. ②③ D. ③④
12. 读图《榜样》。李桂科以实际行动（ ）



榜样


- ①印证了伟大在于创造和贡献
②践行了社会主义核心价值观
③表明了坚韧不拔一定能成功
④照亮了全体人民的人生道路
- A. ①② B. ①③ C. ②④ D. ③④

13. 为贯彻习近平总书记在新时代推动东北振兴座谈会上的重要讲话精神，长春市及时出台 2024 年“开门红”26 条政策措施，一季度全市生产总值实现 1534.4 亿元，同比增长 7.1%。这一成绩（ ）
- ①表明我市经济建设取得新突破
②意味着我市率先实现了高质量发展
③得益于中国共产党的正确领导
④标志中国特色社会主义进入新时代
- A. ①② B. ①③ C. ②④ D. ③④
14. 某区政府不断加大老旧小区改造力度，努力实现“政府主导，群众主角”。根据小区实际情况，鼓励居民参与问卷调查，开展现场意见征集，共商共议改造事宜，让改造工作满足群众所想所盼。上述材料体现了（ ）
- ①小区居民参与民主决策
②政府积极履行政治协商职能
③我国人民民主的真实性
④政府要以提升公信力为宗旨
- A. ①② B. ①③ C. ②④ D. ③④
15. 近日，教育部办公厅印发了关于开展义务教育阳光招生专项行动（2024）的通知，长春市政府严格落实通知要求，坚决整治“暗箱操作”“掐尖招生”等现象，严肃查处各类跟招生入学挂钩、关联的收费行为，健全公平入学长效机制。上述举措（ ）
- ①旨在保障学生的文化权利
②体现我国国家机构实行民主集中制
③有利于维护社会公平正义
④通过立法促进教育的优质均衡发展
- A. ①② B. ①④ C. ②③ D. ③④

二、非选择题：本题共 5 小题，共 40 分。

16. 阅读材料，完成下列要求。（7 分）

为充分发挥诚信典型的示范带动作用，大力弘扬诚信文化，积极推进诚信建设，我国已连续多次开展全国诚实守信道德模范、“诚信之星”评选活动。对此小吉发表了看法：



小吉

- (1) 你赞成小吉的看法吗？请运用所学知识说明理由。（5 分）
- (2) 践行诚信，从我做起。请列举两项中学生在日常生活中的诚信行为。（2 分）

17. 阅读材料，完成下列要求。（6 分）

习近平总书记强调，环境就是民生，青山就是美丽，蓝天也是幸福。吉林省把保护生态环境摆在优先位置，加强统筹监管，坚持科学治污、精准治污，分阶段推进各项重点工作。近一年来，空气质量继续保持在全国第一方阵、水环境质量再创历史最好水平，改善幅度位列全国第二。如今，花香和草香随风迎面扑来，人们幸福感倍增。蓝天白云、波光粼粼已成为吉林百姓日常生活的“标配”。

- (1) 依据材料，运用所学知识回答吉林省上述举措的意义。（4 分）
- (2) 作为中学生，你能为保护家乡环境做些什么？（2 分）

18. 传承红色基因，做新时代好少年。某学校开展了研学实践活动，请你参与。（7 分）

研学内容	研学任务
活动一全体同学参观东北抗联纪念馆，深入了解革命英	任务一革命英烈的感人事迹启示我们要正确处理国

烈的感人事迹，共同缅怀在抗日战争中英勇牺牲的仁人志士。	家利益与个人利益的关系。请回答如何正确处理二者关系？
活动二为进一步丰富研学活动内容，学校组织同学们搜集革命英雄人物事迹，并开展宣讲会，每班推荐一名同学参加。	任务二作为班级的代表，你会为同学们宣讲哪一位革命英雄人物？

(1) 请完成研学任务。(3分)

任务一：_____ (2分)

任务二：_____ (1分)

(2) 运用所学知识回答参加此次研学实践活动对中学生有哪些意义？(4分)

19. 2024年是西藏民主改革和百万农奴解放65周年。阅读材料，完成下列要求。(8分)

材料一 65年前，在中国共产党的领导下，西藏掀起波澜壮阔的民主改革，彻底废除了封建农奴制，使西藏社会制度发生了根本性变化。如今，从参加民主选举、参与基层协商，到成为全国人大代表、政协委员，通过各种途径和形式管理国家和社会事务，西藏人民的主人翁意识不断增强。

材料二 民族团结是西藏各族人民的生命线。像爱护自己的眼睛一样爱护民族团结，已成为西藏各族人民的共识。站在新的历史起点上，西藏各族儿女正昂首阔步走向美好未来。

(1) 西藏民主改革是我国社会主义民主政治建设的真实写照。请写出社会主义民主政治的本质属性。(2分)

(2) 西藏的和谐稳定得益于中国特色社会主义制度的有力保障。请写出两个在我国西藏实行的政治制度。(2分)

(3) 运用所学知识回答为什么要“像爱护自己的眼睛一样爱护民族团结”？(4分)

20. 2024年是新中国成立75周年。某班级开展了“中国何以‘新’”主题探究活动，请你参与。(12分)

新 天 地	开辟新天地
	中国共产党践行初心、担当使命，带领中国人民浴血奋战、百折不挠，完成新民主主义革命，建立了新中国；从一穷二白到全面小康，我们党正团结带领全国各族人民意气风发地向第二个百年奋斗目标进军。

(1) 初心如炬，使命如磐。请回答中国共产党的初心和使命。(2分)

(2) 材料中提及的第二个百年奋斗目标是什么？(2分)

新 发 展	赋能新发展
	科技创新是发展新质生产力的核心要素。加快推进科技创新，既需要破除阻碍科技创新的体制机制障碍，做到应改尽改，也需要加强创新人才自主培育、加大海外高层次人才引进力度，汇聚更多人才资源。

(3) 依据材料，运用所学知识回答我国如何加快推进科技创新？(4分)

新 形 象	彰显新形象
	习近平总书记指出：“中国不仅发展自己，也积极拥抱世界，担当大国责任。”中国从全人类共同福祉和自身实践出发，不断为破解全球性挑战提供良方，不断给世界带来新的惊喜和机遇。

(4) 运用所学知识回答材料中我国的做法对世界有什么意义？(2分)

(5) 发展自己、拥抱世界，当代中学生应该怎么做？(2分)

——历史——

一、选择题：本题共 25 小题，每小题 1 分，共 25 分。在每小题给出的四个选项中，只有一项符合题目要求。

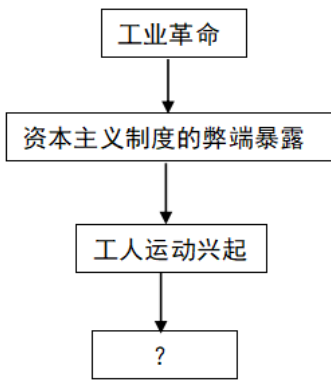
1. 下图文物出土于距今五六千年的红山文化遗址。对其研究，可以了解（ ）



红山文化玉龙

- A. 中华文明起源 B. 奴隶社会瓦解 C. 封建国家形成 D. 皇帝制度确立
2. 《荀子》记载：“（周公）兼制天下，立七十一国”，与此相关的制度是（ ）
- A. 禅让制 B. 分封制 C. 郡县制 D. 行省制
3. “旱则引水浸润，雨则杜（堵）塞水门”，使成都平原成为旱涝保收的“天府之国”。材料描述的是（ ）
- A. 都江堰 B. 灵渠 C. 大运河 D. 筒车
4. 西汉时期，对盐、铁实行统一生产和销售，利润为国家所有。实行这一政策的是（ ）
- A. 汉高祖 B. 汉文帝 C. 汉景帝 D. 汉武帝
5. 《史记》被后人赞誉：“其文直，其事核，不虚美，不隐恶”。这说明历史研究应（ ）
- A. 形式创新 B. 贯通古今 C. 秉笔直书 D. 彰显个性
6. 以下属于魏晋南北朝时期科技成果的是（ ）
- A. 《齐民要术》 B. 《农政全书》 C. 《天工开物》 D. 《本草纲目》
7. “北魏孝文帝改革”“文成公主入藏”“回族形成”，以上信息反映的共同主题是（ ）
- A. 社会经济繁荣 B. 市民生活丰富 C. 对外交流频繁 D. 民族交往交融
8. “瓷”与“词”是中华文明的代表。“瓷”有器型颜色纹饰，“词”有墨迹情怀精神，二者的辉煌时代均出现于（ ）
- A. 隋朝 B. 宋朝 C. 明朝 D. 清朝
9. 它是我国历史上第一个由少数民族贵族为主建立的全国性的统一王朝，与其“统一”直接相关的是（ ）
- A. 西夏建立 B. 辽宋议和 C. 金军南下 D. 元灭南宋
10. 清政府为了巩固东北边疆，采取的相关举措是（ ）
- A. 平定大、小和卓叛乱 B. 抗击荷兰侵略 C. 签订《尼布楚条约》 D. 设置伊犁将军

11. 西方侵略势力由东南沿海一带深入到长江中下游地区。导致这种变化的是（ ）
- A. 鸦片战争 B. 第二次鸦片战争 C. 甲午中日战争 D. 八国联军侵华战争
12. 中国历史上规模最宏大的一次农民战争是（ ）
- A. 大泽乡起义 B. 李自成起义 C. 太平天国起义 D. 义和团运动
13. 井冈山被誉为“革命的灯塔”，因为中国共产党在这里（ ）
- A. 确立建党建军原则 B. 始创人民军队 C. 开辟正确革命道路 D. 发动秋收起义
14. “漫漫征途，穿越 11 个省，跨越近百条江河，攀越 40 余座高山险峰，创造了气吞山河的人间奇迹。”材料描述的是（ ）
- A. 北伐战争 B. 红军长征 C. 淞沪会战 D. 渡江战役
15. “日军侵占东北后，又将侵略的魔爪伸向华北，中华民族面临亡国灭种的危险。”材料表述的是一二·九运动的（ ）
- A. 背景 B. 过程 C. 结果 D. 影响
16. “这次大会为争取抗日战争的胜利和实现中国的光明前途，提供了可靠的保证。”文中的“光明前途”是指（ ）
- A. 结束君主专制制度 B. 实现第二次国共合作 C. 推翻北洋军阀统治 D. 建立新民主主义中国
17. 毛泽东曾说：“延安是我们的，我们在这里开了窑洞，种了小米。”但 1947 年 3 月，中共中央却主动撤离延安。这一行动反映了我军（ ）
- A. 军事指挥策略灵活 B. 拉开战略进攻序幕 C. 配合正面战场作战 D. 取得战略决战胜利
18. “火车轮船，剪辫易服，洋酒西餐”，以上信息反映了（ ）
- A. 民族资本主义的兴起 B. 传统封建思想的根除
- C. 近代社会生活的变化 D. 教育文化事业的发展
19. 20 世纪 80 年代，钟少华先生抱着“抢救活史料”的强烈责任感，采访了百位年近古稀的科技专家。老人家的讲述与回忆，在史料分类上应属于（ ）
- A. 文献史料 B. 口述史料 C. 实物史料 D. 图像史料
20. 比较汉谟拉比和查士丁尼两位君主的历史功绩，正确的是（ ）
- A. 都推动人类法制进程 B. 都传承希腊、罗马文化
- C. 都强化封建君主权力 D. 都建立地跨欧亚非帝国
21. “宫廷政变宣告革命结束，《权利法案》彰显革命成果”，与材料相符的是（ ）
- A. 英国资产阶级革命 B. 法国大革命 C. 美国独立战争 D. 美国内战
22. 下侧思维导图“？”处应为（ ）



- A. 近代自然科学产生
B. 国际政治格局变动
C. 资本主义制度扩展
D. 马克思主义的诞生

23. 列宁说：“我们在 1921 年春天遭到了严重的经济危机。”为应对危机，苏俄政府实行（ ）

- A. 战时共产主义政策 B. 新经济政策 C. 第一个五年计划 D. 农业集体化

24. 下图漫画中，青年振臂高呼，迎接冲破黑暗的霞光。漫画反映的史实是（ ）



- A. 斯大林格勒战役 B. 诺曼底登陆战役 C. 德国签署投降书 D. 日本签署投降书

25. 法德两国曾是千年宿敌，二战后逐渐和解。这推动了（ ）

- A. 不结盟运动兴起 B. 联合国的成立 C. 两极格局的形成 D. 欧洲走向联合

二、非选择题：本题共 2 小题，共 35 分。

26. 商品贸易塑造人类历史。阅读材料，完成下列要求。

材料一 原始社会后期，随着社会分工、产品剩余及私有制的产生，出现了商业贸易。人类社会的商贸活动最初只是地方性行为，后扩大到国与国、洲与洲之间。

——摘编自部编版《历史·经济与社会生活》

(1) 依据材料一，指出商业贸易的产生背景和发展趋势。

材料二 罗马帝国的统一使得内部的区域性贸易和对外贸易空前兴旺发达。海上航路、内陆河道、陆上通道和古老商道，这些都有助于物资交流。2 世纪时，罗马市场上有波斯的挂毯、中国的丝绸。遥远东方古国的技艺、宝货、物产与文明信息源源不断地进入罗马，一些有关罗马的信息，也通过商人传到了中国。

——摘编自吴于廑、齐世荣《世界史》等

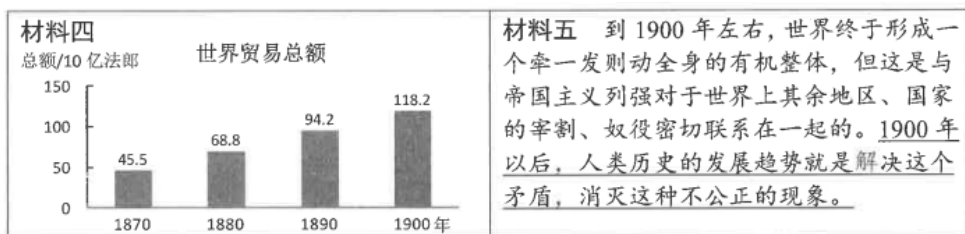
(2) 依据材料二，概括罗马帝国贸易活动的有利条件及影响。结合所学，写出此时期东西方往来的大动脉。

材料三



——摘自部编版初中历史教材

(3) 分别写出材料三中图片所示的贸易活动名称。结合所学比较二者的不同之处。_____



解读材料四的图表。依据材料四、五对世界贸易活动进行评价。

(5) 运用 20 世纪前期亚非拉国家的史实，对材料五划线部分进行例证。(两例即可)

材料六 当今，贸易自由化是世界经济发展和各国合作共赢的必然要求，以其为核心，世界经济呈现出不可阻挡的潮流。

——摘编自蔡昉《中国故事到中国智慧》

(6) 结合所学，谈谈你对材料六中“潮流”的认识。

27. 精神是一个民族赖以长久生存的灵魂。阅读材料，完成下列要求。

【古代——精神萌发，源远流长】

材料一 ①“愚公移山”——神话传说

②富贵不能淫，贫贱不能移，威武不能屈。——《孟子·滕文公下》

③“明水军与倭寇激战”（明代《倭寇图卷》中描绘的情景）

(1) 分析材料一，依次填写对应正确的序号。

精神品质	反抗侵略，不畏牺牲	锲而不舍，坚持不懈	明德修身，坚贞不屈
序号			

材料二 历史的脚步，告诉近代中国的爱国主义者，必须有了解世界、学习世界的眼光和心思，把外国的好东西作为改造中国的借鉴。

——摘自陈旭麓《中国近代史十五讲》

(2) 结合两例史实，对材料二观点加以说明。

【现代——承扬开新，使命担当】

材料三 新中国成立以来，中国共产党继续带领中国人民进行艰苦卓绝的奋斗。在新生政权的巩固中、在社会主义制度建立与社会主义建设的探索中、在中国特色社会主义道路的实践中，取得了举世瞩目的伟大成就，展现出雄浑的精神气象、磅礴的精神力量。

——摘编自沈壮海《增强实现中华民族伟大复兴的精神力量》

(3) 依据材料三，任选角度提炼一个观点，结合三例史实进行论述。(要求：观点明确，史论结合，逻辑清晰，字数 200 字左右。)

2024 年吉林省长春市中考

道德与法治 解析

一、选择题：本题共 15 小题，共 20 分。在每小题给出的四个选项中，只有一个是符合题目要求的。1~10 题每小题 1 分，11~15 题每小题 2 分。

1. 第 42 届亚奥理事会全体大会于 2023 年 7 月 8 日在泰国曼谷举行。经亚奥理事会执委表决通过，
_____ 获得 2025 年亚洲冬季运动会举办权。（ ）

- A. 北京市 B. 石家庄市 C. 沈阳市 D. 哈尔滨市

【答案】D

【解析】

【详解】本题考查时政，解析略。

2. 2023 年 11 月 1 日，_____ 建设全面启动。该自贸试验区是我国西北沿边首个自贸试验区。（ ）

- A. 辽宁自贸试验区 B. 上海自贸试验区 C. 新疆自贸试验区 D. 海南自贸试验区

【答案】C

【解析】

【详解】本题考查时政，解析略。

3. 2023 年 12 月 22 日，第 78 届联合国大会协商一致通过决议，将_____ 确定为联合国假日。这一决议的通过促进了世界不同文明的交流互鉴。（ ）

- A. 春节 B. 清明节 C. 端午节 D. 中秋节

【答案】A

【解析】

【详解】本题考查时政，解析略。

4. 我国载人月球探测工程登月阶段任务已经启动实施，新一代载人飞船命名为“_____”，寓意载人月球探测承载中国人的航天梦，开启探索太空的新征程。（ ）

- A. 神舟 B. 嫦娥 C. 揽月 D. 梦舟

【答案】D

【解析】

【详解】本题考查时政，解析略。

5. 小春在朋友遇到困难的时候，总能伸出援手，以行动向朋友表达支持。这表明呵护友谊需要（ ）

- A. 用心关怀对方
- B. 恰当处理冲突
- C. 学会尊重他人
- D. 正确对待伤害

【答案】A

【解析】

【详解】本题呵护友谊的方法。

A: 分析题文，朋友遇到困难时，小春能够伸出援手，用实际行动表达支持，这体现的正是对朋友的用心关怀；这种用心关怀能够让朋友感受到温暖和支持，增强彼此之间的信任和情谊，使得友谊更加深厚和牢固；故 A 符合题意；

BCD: 都不能在题干材料中体现出来；故 BCD 不符合题意；

故本题选 A。

6. 日常生活中，我们要合理的饮食、有规律的作息和适量的运动。这告诉我们应（ ）

- A. 热爱劳动，以礼待人
- B. 关爱身体，守护生命
- C. 丰富阅历，体味情感
- D. 调节心理，接纳自己

【答案】B

【解析】

【详解】本题考查守护生命。

B: 分析可知，合理饮食、规律作息和适量运动，这些都是关爱身体、注重健康的具体表现。通过这些方式，可以保持身体的良好状态，预防疾病，提高生活质量，守护生命的健康与安全；故 B 符合题意；

ACD: 观点都不符合题干的主旨；故 ACD 不符合题意；

故本题选 B。

7. 读图《保护》。图中条例制定的主要目的是



- A. 避免未成年人遭遇网诈
- B. 引导未成年人履行义务
- C. 限制未成年人使用网络
- D. 保障未成年人合法权益

【答案】D

【解析】

【详解】本题考查未成年人保护。

D: 分析题文，未成年人在网络环境中相对较为脆弱，可能会面临各种风险和侵害；制定《未成年人网络保护条例》可以为未成年人营造一个健康、安全、有益的网络环境；防止未成年人接触不良信息，避免网络沉迷，保护个人隐私等，从而保障他们在网络空间中的身心健康和合法权益；故D符合题意；

A: 避免未成年人遭遇网诈只是其中的一个方面，不能全面涵盖该条例的主要目的；故A不符合题意；

B: 引导未成年人履行义务并非此条例的主要出发点，其重点在于对未成年人的保护；故B不符合题意；

C: 并不能限制未成年人使用网络，而是要规范和引导未成年人合理、安全、有益地使用网络；故C错误；

故本题选D。

8. 2023 年是国家宪法日设立 10 周年。吉林省开展了为期一周的以“大力弘扬宪法精神，建设社会主义法治文化”为主题的系列宣传活动。上述活动的开展（ ）

- A. 确立了宪法的最高地位
- B. 有利于公民自觉践行宪法
- C. 保障了公民的基本权利
- D. 确保实现全民守法的目标

【答案】B

【解析】

【详解】本题考查增强宪法意识。

B: 分析题文, 吉林省开展以“大力弘扬宪法精神, 建设社会主义法治文化”为主题的系列宣传活动, 能够增强公民对宪法的认识和理解。通过各种形式的宣传, 让公民更加清楚宪法的重要性和权威性, 从而在日常生活中自觉遵守宪法、践行宪法; 故 B 符合题意;

A: 宪法的最高地位并非通过此类活动确立, 而是由宪法本身的性质和地位所决定的; 故 A 错误;

C: 此类宣传活动并不能直接说保障了公民的基本权利, 保障公民权利需要依靠完善的法律体系和有效的执行机制; 故 C 错误;

D: 虽然这样的活动有助于推进全民守法, 但不能确保实现全民守法的目标, 全民守法是一个长期而复杂的过程, 需要多方面的努力和持续的工作; 故 D 错误;

故本题选 B。

9. 近年来, 我国陆续出台了《中华人民共和国反间谍法》《中华人民共和国粮食安全保障法》《中华人民共和国保守国家秘密法》等法律。这表明 ()

A. 危害国家安全的行为一定受到刑事处罚

B. 法律由国家强制力保证实施

C. 我国维护国家安全的法律体系不断完善

D. 国家行政机关坚持严格执法

【答案】C

【解析】

【详解】本题考查全面依法治国。

C: 分析题文, 我国陆续出台一系列与国家安全相关的法律, 体现了国家对国家安全领域的重视和规范的不断加强, 这些法律的出台, 丰富和完善了我国维护国家安全的法律体系; 故 C 符合题意;

A: 危害国家安全的行为应根据其性质、情节等综合判定处罚方式, 不一定是刑事处罚; 故 A 错误;

B: “法律由国家强制力保证实施”, 这一表述本身没有错误, 但在此情境中并非重点突出强调的内容; 故 B 不符合题意;

D: 题干主要强调的是新法律的出台, 而非行政机关的执法行为; 故 D 不符合题意;

故本题选 C。

10. 2023 年 11 月 5 日至 10 日, 第六届中国国际进口博览会在上海举行。全球超 3400 家企业参展, 世界 500 强和行业龙头企业参展数量 289 家, 意向成交额 784.1 亿美元, 创历届新高。进博会的“朋友圈”不断扩大, 中国大市场成为世界大机遇。这表明 ()

A. 我国是世界最大的发展中国家

B. 我国始终是世界和平的建设者

C. 我国积极参与全球规则的制定

D. 我国奉行互利共赢的开放战略

【答案】D

【解析】

【详解】 本题考查中国与世界共享发展机遇。

D: 分析题文, 进博会吸引了全球众多企业参展, “朋友圈”不断扩大, 意向成交额创历史新高, 充分展示了中国积极开放的市场为世界各国提供了巨大的机遇, 这体现了中国不仅积极谋求发展, 还积极为世界经济增长作出贡献, 秉持着互利共赢的理念, 不断扩大对外开放; 故 D 符合题意;

A: 我国是世界最大的发展中国家, 这是我国的国情之一, 但进博会的事例主要强调的是我国的开放战略, 而非对国情的体现; 故 A 不符合题意;

B: 题干并没有体现我国始终是世界和平的建设者; 故 B 不符合题意;

C: 进博会主要体现的是经济领域的开放合作, 对于全球规则制定的体现相对不明显; 故 C 不符合题意;

故本题选 D。

11. 2024 年 5 月 15 日, 在全国低碳日主场活动上, 生态环境部公布了入围深化气候适应型城市建设试点名单, 吉林省_____、_____名列其中。()

①长春市 ②延边州 ③吉林市 ④松原市

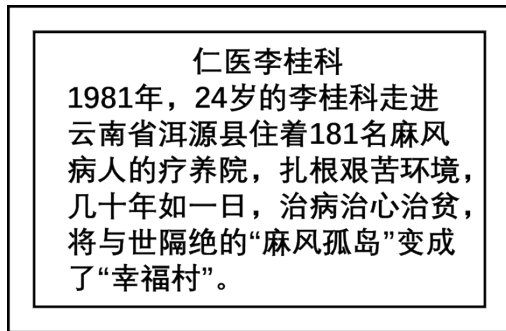
A. ①② B. ①④ C. ②③ D. ③④

【答案】 A

【解析】

【详解】 本题考查时政, 解析略。

12. 读图《榜样》。李桂科以实际行动 ()



榜样

①印证了伟大在于创造和贡献 ②践行了社会主义核心价值观

③表明了坚韧不拔一定能成功 ④照亮了全体人民的人生道路

A. ①② B. ①③ C. ②④ D. ③④

【答案】 A

【解析】

【详解】 本题考查生命的价值、践行社会主义核心价值观。

①②：分析题文，李桂科通过自己的努力和付出，为他人、为社会做出了积极的贡献，印证了伟大在于创造和贡献。他的行为也践行了社会主义核心价值观中的敬业、友善等价值观。他敬业奉献，全身心投入到自己的工作中，对他人友善关爱，帮助需要帮助的人；故①②符合题意；

③：坚韧不拔是成功的重要品质之一，但成功还受到许多其他因素的影响，如机遇、环境等；故③错误；

④：李桂科的行为具有榜样的力量，但不能说照亮了全体人民的人生道路，每个人的人生道路都是独特的，受到多种因素的影响和制约；故④错误；

故本题选 A。

13. 为贯彻习近平总书记在新时代推动东北振兴座谈会上的重要讲话精神，长春市及时出台 2024 年“开门红”26 条政策措施，一季度全市生产总值实现 1534.4 亿元，同比增长 7.1%。这一成绩（ ）

①表明我市经济建设取得新突破

②意味着我市率先实现了高质量发展

③得益于中国共产党的正确领导

④标志中国特色社会主义进入新时代

A. ①②

B. ①③

C. ②④

D. ③④

【答案】 B

【解析】

【详解】 本题考查我国发展成就、党的领导。

①③：分析题文，长春市一季度生产总值实现增长，这表明我市经济建设在新的时期取得了新的突破和进步。习近平总书记的重要讲话为东北地区的发展指明了方向，长春市贯彻落实相关精神，及时出台政策措施，推动了经济的增长，这说明能够取得这样的成绩，得益于中国共产党的正确领导；故①③符合题意；

②：一季度的经济增长成绩不能说明长春市率先实现了高质量发展，高质量发展是一个综合性、长期性的目标，需要在多个方面持续努力和不断完善；故②错误；

④：中国特色社会主义进入新时代不是由长春市的这一经济成绩标志的，而是基于我国发展的历史方位和社会主要矛盾的变化等多方面因素；故④错误；

故本题选 B。

14. 某区政府不断加大老旧小区改造力度，努力实现“政府主导，群众主角”。根据小区实际情况，鼓励居民参与问卷调查，开展现场意见征集，共商共议改造事宜，让改造工作满足群众所想所盼。上述材料体现了（ ）

①小区居民参与民主决策

②政府积极履行政治协商职能

③我国人民民主的真实性

④政府要以提升公信力为宗旨

A. ①②

B. ①③

C. ②④

D. ③④

【答案】B

【解析】

【详解】本题考查参与民主生活、社会主义民主的特点。

①③：分析题文，材料中鼓励居民参与问卷调查，开展现场意见征集，共商共议改造事宜，这体现了小区居民参与民主决策；某区政府不断加大老旧小区改造力度，努力满足群众所想所盼，这体现了我国人民民主的真实性；故①③符合题意；

②：政治协商是人民政协的职能，政府不履行政治协商职能；故②错误；

④：政府的宗旨是为人民服务，不是以提升公信力为宗旨；故④错误；

故本题选B。

15. 近日，教育部办公厅印发了关于开展义务教育阳光招生专项行动（2024）的通知，长春市政府严格落实通知要求，坚决整治“暗箱操作”“掐尖招生”等现象，严肃查处各类跟招生入学挂钩、关联的收费行为，健全公平入学长效机制。上述举措（ ）

①旨在保障学生的文化权利

②体现我国国家机构实行民主集中制

③有利于维护社会公平正义

④通过立法促进教育的优质均衡发展

A. ①②

B. ①④

C. ②③

D. ③④

【答案】C

【解析】

【详解】本题考查民主集中制、维护社会公平正义。

②③：分析题文，长春市政府严格落实教育部办公厅印发的通知要求，这体现了我国国家机构实行民主集中制原则，地方政府服从中央的统一部署和安排；坚决整治“暗箱操作”“掐尖招生”等现象，严肃查处各类跟招生入学挂钩、关联的收费行为，健全公平入学长效机制，这些举措旨在营造公平公正的教育招生环境，有利于维护社会公平正义；故②③符合题意；

①：题干的这些举措的目的主要是规范招生秩序，保障教育公平，而非旨在保障学生的文化权利；故①错误；

④：这并非是通过立法来促进教育的优质均衡发展，政府没有立法权，而是通过行政手段来落实和推动教育公平；故④错误；

故本题选C。

二、非选择题：本题共 5 小题，共 40 分。

16. 阅读材料，完成下列要求。

为充分发挥诚信典型的示范带动作用，大力弘扬诚信文化，积极推进诚信建设，我国已连续多次开展全国诚实守信道德模范、“诚信之星”评选活动。对此小吉发表了看法：

人无信不立，
国无信则衰。



- (1) 你赞成小吉的看法吗？请运用所学知识说明理由。
- (2) 践行诚信，从我做起。请列举两项中学生在日常生活中的诚信行为。

【答案】(1) 我赞成小吉的看法。

①“人无信不立”，诚信是一个人的安身立命之本，是我们融入社会的“通行证”。一个人真诚老实、笃守诺言，无论走到哪里都能赢得信任。相反，如果弄虚作假、口是心非，就会处处碰壁，甚至无法立身处世。

②“国无信则衰”，诚信促进社会文明、国家兴旺。国与国之间的交往也需要诚信，提高国家的形象和声誉，增强国家的文化软实力。

- (2) ①考试时独立完成，不抄袭作弊。②答应同学的事情，努力做到，不失信于人。

【解析】

【分析】考点考查：诚信。

能力考查：运用所学知识分析材料，解决问题的能力。

核心素养：道德修养。

【小问 1 详解】

第一步：审设问，明确主体、作答范围及作答角度。

本题的设问主体为公民，需要运用诚信的有关知识，从体现类习题的角度进行作答。

第二步：审材料，提取关键词，链接教材知识。

关键词①：人无信不立→可链接诚信是一个人的安身立命之本；

关键词②：国无信则衰→可链接诚信促进社会文明、国家兴旺；

第三步：整合信息，组织答案。

【小问 2 详解】

以上内容仅为本文档的试下载部分，为可阅读页数的一半内容。如要下载或阅读全文，请访问：<https://d.book118.com/156222222004010212>