

2025 年冀少新版八年级地理上册阶段测试试卷含答案

考试试卷

考试范围：全部知识点；考试时间：120 分钟

学校：_____ 姓名：_____ 班级：_____ 考号：_____

总分栏

题号	一	二	三	四	五	六	总分
得分							

评卷人	得分

一、选择题(共 9 题，共 18 分)

1、

该山脉所在省区有我国“四大工程”之一的（ ）

- A. 南水北调
- B. 西电东送
- C. 青藏铁路
- D. 西气东输

2、

下列搭配中，正确的是（ ）

- A. 西亚--白种人--佛教--发展中国家
- B. 巴西--黄种人--西班牙语--发展中国家
- C. 美国--白种人--基督教--发达国家
- D. 日本--黄种人--日语--发展中国家

3、下列自然景观描述与其对应地形区的组合，正确的是（ ）

- A. 崎岖不平--黄土高原
- B. 开阔坦荡--内蒙古草原
- C. 冰川广布--云贵高原
- D. 千沟万壑--青藏高原

4、中国的四大工业区由北向南依次为（ ）

- A. 京津唐工业区、辽中南工业区、珠江三角洲工业区、沪宁杭工业区
- B. 沪宁杭工业区、珠江三角洲工业区、辽中南工业区、京津唐工业区
- C. 珠江三角洲工业区、京津唐工业区、辽中南工业区、沪宁杭工业区
- D. 辽中南工业区、京津唐工业区、沪宁杭工业区、珠江三角洲工业区

5、秦岭-淮河是我国重要的地理分界线；它是（ ）

- ①亚热带和暖温带的分界线。
- ②半湿润和半干旱地区的分界线。
- ③季风区和非季风区的分界线。
- ④落叶阔叶林和常绿阔叶林的分界线。

A. ①②

B. ②③

C. ①④

D. ②④

6、下列工程中，以解决我国地区水资源分布不平衡问题为主要目的是

- A. 西电东送工程
- B. 西气东输工程
- C. 南水北调
- D. “三北”防护林体系工程

7、我国人口地理界线（ ）

- A. 以黑龙江省的黑河市与云南省的腾冲县的连线为界
- B. 以秦岭—淮河一线为界
- C. 以长江为界
- D. 以黑龙江省的漠河至海南的海口一线为界

8、下列关于我国地理位置的叙述，正确的是（ ）

- A. 位于东半球，亚洲东部，西临太平洋
- B. 领土最南端在曾母暗沙，最北端在帕米尔高原
- C. 北回归线穿过我国南部
- D. 从经度看，我国全部属于东经度；从纬度看，全部属于低纬度

9、

下列海域属于我国内海的是（ ）

- A. 渤海
- B. 黄海
- C. 东海
- D. 南海

评卷人	得分

二、填空题(共 9 题, 共 18 分)

10、四川省、浙江省的行政中心分别是成都和南京_____.

11、我国历史上著名的四大米市长沙、_____、九江、_____.

12、读我国农业地区分布图; 回答下列问题.



- (1)A 区农业以_____为主; 本区有我国四大牧区, 它们是_____ ; _____、_____、_____.
- (2)A 区的种植业只分布在有_____的平原; 河谷和_____.
- (3)B 区是我国种植业; 林业、渔业的主要区; 其中种植业主要分布在东部的_____平原地区, 林业集中分布在_____和_____的天然林区以及_____的人工林区, _____地区是我国海洋捕捞和海洋养殖的基地, _____地区是我国淡水渔业最发达的地区之一.
- (4)本图表现了我国农业分布的_____ ; _____差异.
- (5)农业是支持国民经济建设与发展的_____.



loading...

13、天津市简称_____，位于_____平原的东北部，东濒_____



海.

loading...

14、北京是我国的_____、_____中心，也是国际交往中心。_____是党中央和国务院的所在地。

15、与深圳相邻的特别行政区是_____，台湾被称为“亚洲的天然植物园”，_____产量居世界首位。

16、我国沿海航线一般以福建_____为界，分为北方沿海航线和_____沿海航线。

17、青藏地区的大致分布范围是：_____。

18、北京人均水资源占有量为全国人均占有量的_____。

评卷人	得分

三、判断题(共 8 题，共 16 分)

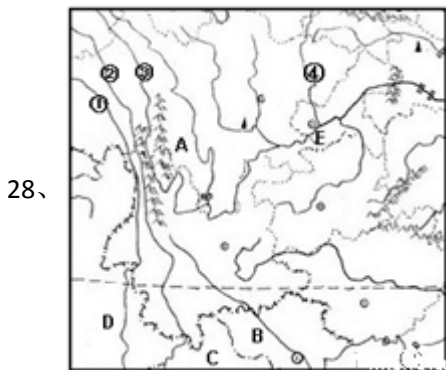
19、南水北调的西线方案是把黄河上游的水调到长江上游。()

- 20、黄土高原水土流失严重，是自然因素造成的，与人为因素无关。
- 21、三江平原分布着亚洲最大的淡水湿地，其具有涵养水源、调节气候等作用。（ ）
- 22、可再生资源是取之不尽，用之不竭的，因此可以尽情使用（ ）（判断对错）
- 23、三江平原分布着亚洲最大的淡水湿地，其具有涵养水源、调节气候等作用。
- 24、我国的草地主要分布在西部干旱、半干旱区，主要发展畜牧业。
- 25、降水就是指降雨，气象部门把降雨划分为小雨、中雨、大雨等不同等级。（ ）（判断对错）
- 26、澳门的经济支柱有对外贸易、金融、加工制造业、房地产业及服务业等（ ）（判断对错）

评卷人	得分

四、简答题(共 3 题, 共 18 分)

27、夏季气温最低地方_____原因是_____.



28、阅读材料和地图（如图）；分析回答：

2003 年 7 月 2 日；在巴黎召开的联合国教科文组织第二十七届遗产大会上，中国云南的“三江并流”自然景观被列入《世界遗产名录》。

(1) 这里的三江分别是：①_____ ②_____ ③_____

(2) 图中地理事物名称：

邻国：B_____ C_____ D_____

城市：E_____

河流：④_____

(3) 有关“三江并流”景观所在的 A 地区的山脉叙述错误的是：_____

- A. 为南北走向 B. 位于青藏高原的东南部。
C. 是我国的三大林区之一 D. 是世界上海拔最高的山脉。

(4) “三江并流”地区最有可能发生的地质灾害有_____。“三江并流”地区的自然环境至今保存完好的自然原因是_____。

29、读我国农业地区分布图；回答下列问题。



(1) A区农业以_____为主；本区有我国四大牧区，它们是_____；_____、_____、_____。

(2) A区的种植业只分布在有_____的平原；河谷和_____。

(3) B区是我国种植业；林业、渔业的主要区；其中种植业主要分布在东部的_____平原地区，林业集中分布在_____和_____的天然林区以及_____的人工林区，_____地区是我国海洋捕捞和海洋养殖的基地，_____地区是我国淡水渔业最发达的地区之一。

(4) 本图表现了我国农业分布的_____；_____差异。

(5) 农业是支持国民经济建设与发展的_____。

评卷人	得分

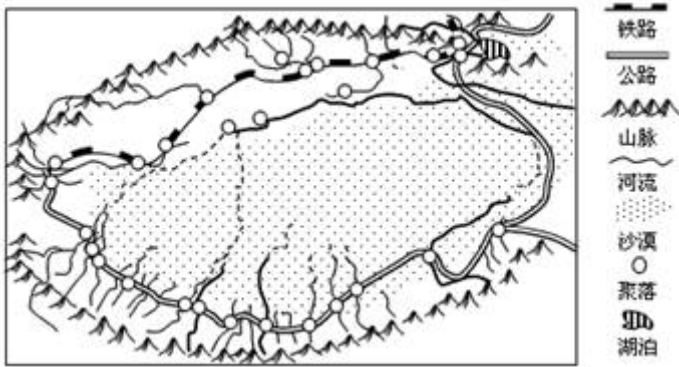
五、连线题(共2题，共6分)

30、连线题（10分）

- A 山东 a 黑 ① 广州
 B 黑龙江 b 鲁 ② 昆明
 C 云南 c 陇 ③ 哈尔滨
 D 广东 d 滇 ④ 济南
 E 甘肃 e 粤 ⑤ 兰州

31、

读塔里木盆地聚落、交通线分布示意图，回答下列问题。（15分）




(1) 说出塔里木盆地主要城镇的分布特点。(3分)

(2) 塔里木盆地的绿洲主要分布在哪里？(3分)

(3) 制约塔里木盆地绿洲、城镇和交通线分布的主要因素是什么？(3分)

(4) 塔里木盆地蕴藏着丰富的油气资源，开发的不利条件有哪些？(3)

(5) 西气东输工程实施后，将为东西部带来哪些好处？(3)



评卷人	得分

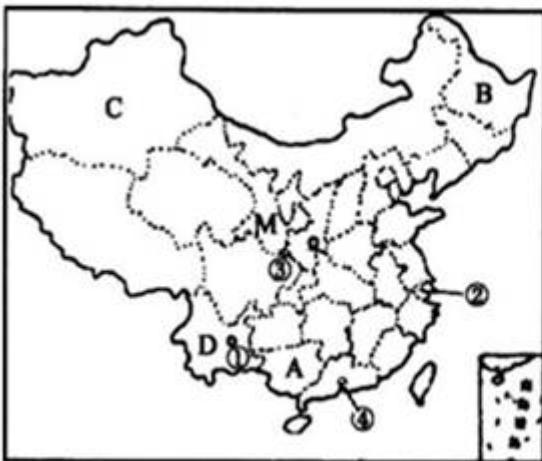
六、材料题(共 2 题, 共 20 分)

32、材料一：2010 年以来，西南地区持续干旱，受旱面积占到全国的 83%，这是西南五省市百年一遇的特大旱灾。截至 3 月 30 日，中国耕地受旱面积 1.16 亿亩，有 2425 万人、1584 万头大牲畜因旱饮水困难。

材料二：2008 年中国第一条具有世界先进水平的高速铁路—京沪高速铁路正式开工建设。

材料三：第十六届亚运会于 2010 年 11 月 12 日至 27 日在我国广州市成功举办。

材料四：中国政区图和京沪高铁路线图



中国政区图



京沪高铁路线图

(1)

2010年西南地区旱灾发生的省区主要有川、滇、黔、渝、桂等省区。其中___省（填全称）少数民族最多，在图中的字母是___。

(2)___族是我国人口最多的少数民族，主要分布在_省区(填字母)。

(3)在中国政区图上的①②③④四个城市中,2010年举办亚运会城市___（填数字）

(4)张敏想去我国日出最早的地方旅游，最好到 ABCD 四省中的___省区(填字母)。

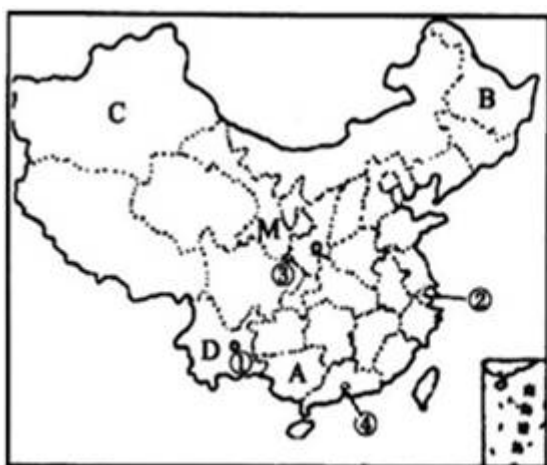
(5)京沪高速铁路沿途经过的直辖市有___个，既临渤海又临黄海的是___省。

33、材料一：2010年以来，西南地区持续干旱，受旱面积占到全国的83%，这是西南五省市百年一遇的特大旱灾。截至3月30日，中国耕地受旱面积1.16亿亩，有2425万人、1584万头大牲畜因旱饮水困难。

材料二：2008年中国第一条具有世界先进水平的高速铁路—京沪高速铁路正式开工建设。

材料三：第十六届亚运会于2010年11月12日至27日在我国广州市成功举办。

材料四：中国政区图和京沪高铁路线图



中国政区图



京沪高铁路线图

(1) 2010年西南地

区旱灾发生的省区主要有川、滇、黔、渝、桂等省区。其中___省（填全称）少数民族最多，在图中的字母是___。

(2)___族是我国人口最多的少数民族，主要分布在_省区(填字母)。

(3)在中国政区图上的①②③④四个城市中,2010年举办亚运会城市___（填数字）

(4)张敏想去我国日出最早的地方旅游，最好到 ABCD 四省中的___省区(填字母)。

(5)京沪高速铁路沿途经过的直辖市有___个，既临渤海又临黄海的是___省。

参考答案

一、选择题(共9题，共18分)

1、D

【分析】

解：分析题干“我国某东西走向的山脉；其南北两侧各有一盆地，南面盆地面积大，气候干旱，有我国面积最大的沙漠”可知，该山脉是天山山脉，该省区是新疆维吾尔自治区，有我国“四大工程”之一的西气东输。

故选：D。

新疆的地形特征为三山夹两盆；三山指阿尔泰山；天山、昆仑山，两盆为准噶尔盆地和塔里木盆地。西气东输工程包括天然气资源开发、输气管道铺设、城市管道和工业利用等相关工程。工程将铺设两条直径 1.5 米的主干输气管道，西起新疆塔里木的轮南气田，往东直通南京、上海，成为横贯中国的能源大动脉。

本题考查我国的四大工程及省区的地理特征，理解答题即可。

【解析】

D

2、C

【分析】

解：A；西亚--白种人--伊斯兰教--发展中国家；故错误；

B；巴西--黑种人--西班牙语--发展中国家；故错误；

C；美国--白种----基督教--发达国家；故正确；

D；日本--黄种人--日语--发达国家；故错误；

故选：C。

发达国家主要分布在北美洲；欧洲、大洋洲；发展中国家主要分布在亚洲、非洲和拉丁美洲。

本题主要考查了世界主要人种以及发展中国家的分布，注意结合地图掌握主要的发展中国家，属于基础题。

【解析】

C

3、B

【分析】

解：“冰川广布”描述的是青藏高原的景观；“千沟万壑，支离破碎”描述的是黄土高原的景观，“开阔坦荡”描述的是内蒙古草原的景观；“崎岖不平”是云贵高原的景观。

故选：B。

以上内容仅为本文档的试下载部分，为可阅读页数的一半内容。如要下载或阅读全文，请访问：<https://d.book118.com/158030074075007020>