

2024年北师大版八年级地理上册阶段测试试卷含答案

考试试卷

考试范围：全部知识点；考试时间：120分钟

学校：_____ 姓名：_____ 班级：_____ 考号：_____

总分栏

题号	一	二	三	四	五	总分
得分						

评卷人	得分

一、选择题(共8题，共16分)

1、某旅游团赴台湾旅游前查阅到台湾的相关资料，你认为符合事实的是

- A. 森林覆盖率高，生物资源丰富
- B. 人口和城市主要分布在东南沿海
- C. 河流短小，水能资源贫乏
- D. 居民97%为高山族

2、

下列国家中，陆地上与我国不相邻的是（ ）

- A. 美国
- B. 巴基斯坦
- C. 印度
- D. 尼泊尔

3、我国缺水最为严重的地区是（ ）

- A. 华北和西北地区
- B. 东北和西北地区
- C. 华南和西南地区
- D. 东南和东北地区

4、下列各组地形名称中；全部位于北方地区的是（ ）

- A. 华北平原 辽东丘陵。
- B. 云贵高原 东南丘陵。
- C. 小兴安岭 塔里木盆地。

D. 天山山脉 内蒙古高原。

5、下列对我国人口和民族说法正确的是（ ）

A. 我国人口占世界人口 $\frac{1}{2}$

B. 我国人口分布西多东少。

C. 我国目前共有55个少数民族。

D. 少数民族分布以中部最为集中。

6、黄土高原世界上最大的黄土堆积区，下列说法正确的是（ ）

A. 人少地多

B. 誉为“塞上江南”

C. 生态环境脆弱

D. 村落集中在黄土梁上

7、

为了促进人口长期均衡发展，我国决定全面实施一对夫妻可生育两个孩子的计划生育政策，请问从哪一年开始实施（ ）

A. 2015年

B. 2016年

C. 2017年

D. 2018年

8、

下列关于黄土高原退耕的讨论，不正确的是（ ）

A. 陡坡地应全部退耕，保留的缓坡耕地应修建梯田耕作

B. 退耕结合植树种草，发展林牧等多种经营，解决好农民的生活出路

C. 退耕的同时要控制人口增长

D. 以上说法都不对

评卷人	得分

二、多选题(共9题，共18分)

9、从所处半球位置的角度来说我国属于（ ）

A. 东半球。

B. 南半球。

C. 西半球。

D. 北半球。

10、下列城市是长江沿江地带特大城市的是（ ）

A. 南京

B. 广州

C. 武汉

D. 北京

11、下列关于长江沿江地带地形地貌的叙述，正确的是（ ）

A. 西部是山地、高原、盆地，东部是平原、丘陵

B. 长江中下游平原河网密布，湖泊众多，地势低平

C. 四川盆地土壤以黑土为主，富含有机质，土壤肥力高

D. 长江三峡是长江上游和中游的分界处，水能资源丰富

12、以下资源属于可再生资源的是（ ）

A. 水资源

B. 煤炭资源

C. 石油

D. 森林资源

13、

下列不属于东北地区铁路交通线的是（ ）

A. 哈大线

B. 滨洲线

C. 陇海线

D. 京广线

14、【题文】与中国有不连续国界的国家是（ ）

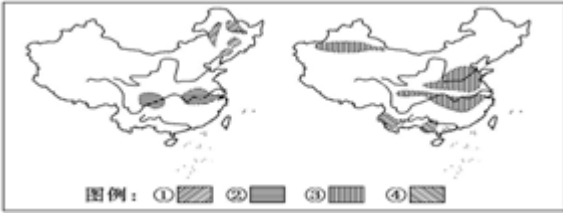
A. 印度

B. 俄罗斯

C. 越南

D. 朝鲜

15、读“我国四大农作物优势产区图”；回答13-14题。



上述四种农作物优势产区确定的主要依据是（ ）

- A. 自然条件
- B. 交通条件
- C. 劳动力因素
- D. 产业化

16、

下列铁路干线属于南北向的是（ ）

- A. 京广线
- B. 京包线
- C. 京沪线
- D. 陇海线

17、

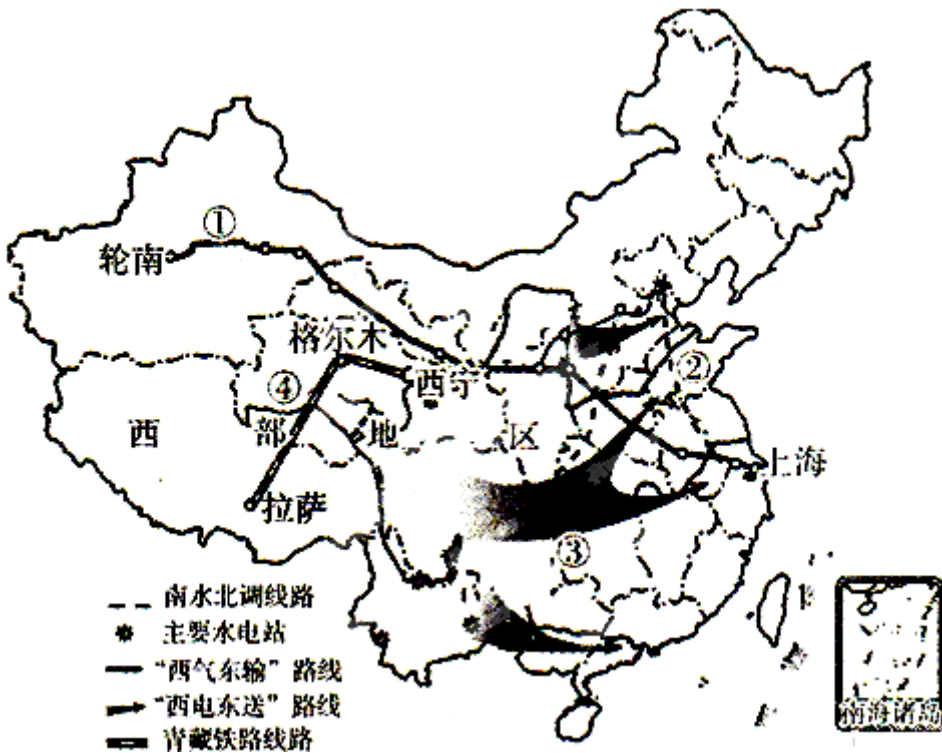
我国辽中南工业区的其中重要的优势是（ ）

- A. 水能资源丰富
- B. 煤铁资源丰富
- C. 临近港澳
- D. 交通便利

评卷人	得分

三、填空题(共9题，共18分)

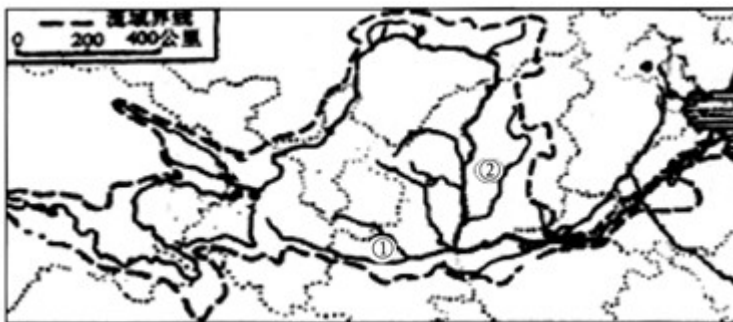
18、读“新世纪我国四大工程分布示意图”，回答下列问题。



- (1) ①工程是将新疆自治区塔里木盆地的天然气通过管道输往长江中下游地区，“东输”的终点是上海市。
- (2) ①工程穿过的地形区有塔里木盆地、河西走廊、黄土高原、华北平原；长江中下游平原。
- (3) ③工程分为南、北、中三条输送线路。南线的终点是珠江三角洲工业基地。
- (4) ②工程是南水北调，主要把长江（填河流名称）的水调往我国缺水的西北、华北地区。

19、读“黄河水系示意图”回答下列问题。

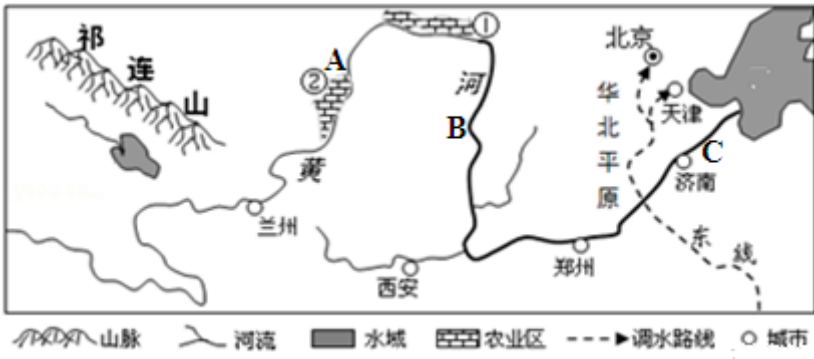
- (1) 黄河流经宁夏平原和河套平原水量减少的原因是：蒸发、下渗
- (2) 黄河下游成为地上河的原因是：泥沙淤积
- (3) 黄河是世界上含沙量最大的一条河，全河含沙量的90%来自于中游河段。
- (4) 黄河支流：①渭河，②泾河。
- (5) 在图中适当位置用一个小圆圈标出黄河上游和中游的分界点。
- (6) 请你用一句话评价黄河在我国河流中的地位。黄河是中华民族的母亲河



黄河水系示意图

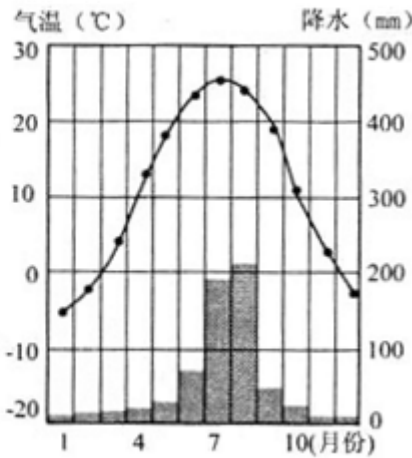
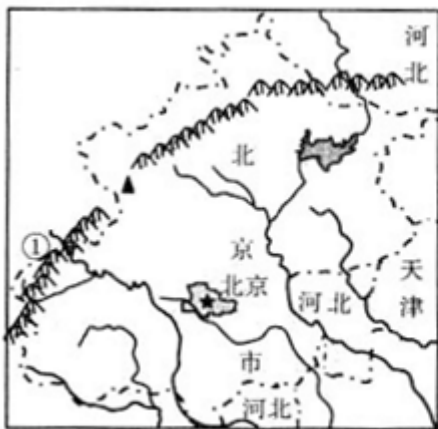
20、我国西部地区畜牧业广布，以畜牧业为主，那里有我国的四大牧区，它们分别是内蒙古牧区、新疆牧区、西藏牧区和青海牧区。

21、读“黄河流域略图”，分析回答问题。（10分）



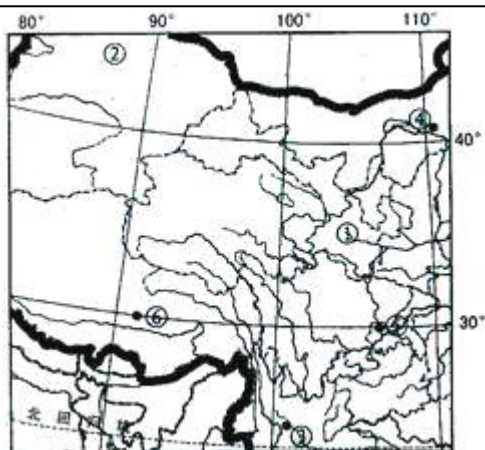
- (1) 图中的祁连山是第 级阶梯和第 级阶梯的分界线之一。
- (2) 图中会发生凌汛的河段是 。（填字母）
- (3) 图中①和②是我国重要的农业区，它们因得益于黄河水的灌溉而成为“塞上江南”，其中①是河套平原，②是平原。
- (4) 为了解决北方缺水问题，我国正在实施的跨流域调水工程是 ，该工程的东线（如图所示）主要是满足 、 等城市的用水需求。
- (5) 图中兰州、西安、济南等城市分布的共同特征是 。
- (6) 由于泥沙淤积，黄河的下游成为 ，治理黄河的根本措施是 。

22、读“北京市简图”“北京市气温和降水量月份分配图”；回答下列问题。



- (1) ①是我国一条著名的东北—西南走向的山脉，该山脉的名称是_____。
- (2) 北京市的地势特点是_____，判断的理由是_____。
- (3) 由图可知北京最高气温出现在_____月。8月降水量大约是：_____。
- (4) 北京春季多沙尘暴天气，其沙尘主要来自内蒙古，为了治理北京的沙尘暴，内蒙古应该采取哪些措施?_____

23、读我国某区域图；回答下列问题。(5分)



- (1)图中数码①所在省区的____是_____。
- (2)图中数码②所在省区人民政府驻地名称是_____。
- (3)图中数码③所在的地形区名称是_____。
- (4)④地所在的河流名称是_____。
- (5)图中⑤地和⑥地纬度相同，夏季气温较高的是_____。

24、根据2000年全国第五次人口普查结果，我国总人口为____亿；人数最多的少数民族是____族。

25、三大人种中，分布最广的人种是____，美洲的土著居民是_____。

26、我国地形的骨架为纵横交织的山脉所构成。这些山脉多数呈____走向和____走向。

评卷人	得分

四、连线题(共2题，共10分)

27、

【题文】请将最适合的运输方式连线。(4分)

- | | |
|-----------------------|--------|
| ①一吨活鱼从郊区运到市区 | A 海洋运输 |
| ②秦皇岛港的煤炭运往广州 | B 公路运输 |
| ③一批甲型 H1N1 疫苗从北京运往墨西哥 | C 内河运输 |
| ④十万吨大米从武汉运往上海 | D 航空运输 |

①----() ②----() ③----() ④----()

28、

请把下列地区与相应的民居连接起来：

北方地区 四合院

南方地区 竹楼。

西北地区 碉房。

青藏地区 蒙古包

评卷人	得分

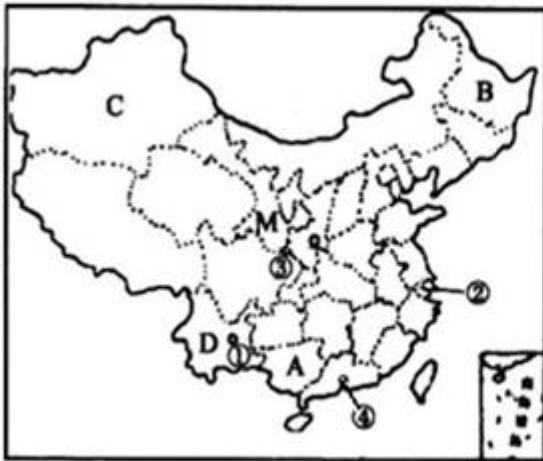
五、材料题(共2题, 共10分)

29、材料一：2010年以来，西南地区持续干旱，受旱面积占到全国的83%，这是西南五省市百年一遇的特大旱灾。截至3月30日，中国耕地受旱面积1.16亿亩，有2425万人、1584万头大牲畜因旱饮水困难。

材料二：2008年中国第一条具有世界先进水平的高速铁路—京沪高速铁路正式开工建设。

材料三：第十六届亚运会于2010年11月12日至27日在我国广州市成功举办。

材料四：中国政区图和京沪高铁路线图



中国政区图



京沪高铁路线图

(1)

2010年西南地区旱灾发生的省区主要有川、滇、黔、渝、桂等省区。其中___省（填全称）少数民族最多，在图中的字母是___。

(2)___族是我国人口最多的少数民族，主要分布在_省区(填字母)。

(3)在中国政区图上的①②③④四个城市中, 2010年举办亚运会城市___（填数字）

(4)张敏想去我国日出最早的地方旅游，最好到ABCD四省中的___省区(填字母)。

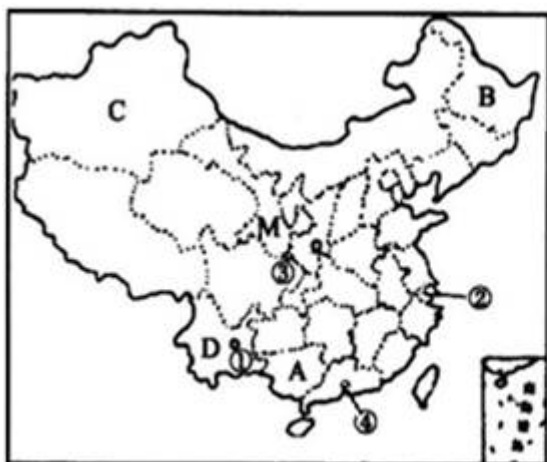
(5)京沪高速铁路沿途经过的直辖市有___个，既临渤海又临黄海的是___省。

30、材料一：2010年以来，西南地区持续干旱，受旱面积占到全国的83%，这是西南五省市百年一遇的特大旱灾。截至3月30日，中国耕地受旱面积1.16亿亩，有2425万人、1584万头大牲畜因旱饮水困难。

材料二：2008年中国第一条具有世界先进水平的高速铁路—京沪高速铁路正式开工建设。

材料三：第十六届亚运会于2010年11月12日至27日在我国广州市成功举办。

材料四：中国政区图和京沪高铁路线图



中国政区图



京沪高铁路线图

(1)

2010年西南地区旱灾发生的省区主要有川、滇、黔、渝、桂等省区。其中___省（填全称）少数民族最多，在图中的字母是___。

(2)___族是我国人口最多的少数民族，主要分布在_省区(填字母)。

(3)在中国政区图上的①②③④四个城市中, 2010年举办亚运会城市___（填数字）

(4)张敏想去我国日出最早的地方旅游，最好到ABCD四省中的___省区(填字母)。

(5)京沪高速铁路沿途经过的直辖市有___个，既临渤海又临黄海的是___省。

参考答案

一、选择题(共8题，共16分)

1、A

【分析】

【分析】台湾主要的民族是汉族；主要的少数民族是高山族，故A叙述错误，不符合题意；台湾的人口主要分布在西部沿海平原，故B叙述错误，不符合题意；台湾的河流短小湍急，水能资源丰富，故C叙述错误，不符合题意；台湾森林覆盖率高，生物资源丰富，故D叙述正确，符合题意。

2、A

【分析】

解：与我国陆地相邻的国家有14个；分别是：朝鲜；蒙古、俄罗斯、哈萨克斯坦、吉尔吉斯斯坦、塔吉克斯坦、阿富汗、巴基斯坦、印度、尼泊尔、不丹、缅甸、老挝、越南。

故选：A。

我国的陆上国界漫长；达2万多千米，接壤的国家有14个。

本题主要考查了我国的陆上邻国，我国的陆上国界漫长，达2万多千米，接壤的国家有14个；学生应该在地图上熟记这些国家，属于基础题。

【解析】

A

3、A

【分析】

解：我国降水空间分布不均；华北地区虽属于半湿润地区，但人口众多，工农业发达需水量大，降水较少，水资源短缺；西北地区深居内陆，降水稀少，严重缺水；东北地区属于湿润地区；半湿润地区，水资源较多；华南和东南地区位于我国南方地区，降水多，水资源丰富；故选项A符合题意。

故选：A。

我国降水地区差异大；从东南沿海向西北内陆递减，时间分配主要集中在夏秋季节。

本题考查了我国缺水最为严重的地区；理解记忆解答。

【解析】

A

4、A

【分析】

A. 华北平原和辽东丘陵全部位于北方地区；故正确；

B. 云贵高原和东南丘陵位于南方地区；故错误；

C. 小兴安岭位于北方地区；塔里木盆地位于西北地区，故错误；

D. 天山山脉和内蒙古高原位于西北地区；故错误。

故选：A。

【解析】

以上内容仅为本文档的试下载部分，为可阅读页数的一半内容。如要下载或阅读全文，请访问：<https://d.book118.com/15807713600007013>