

二年级上册数学应用题 100 道

一. 解答题(共 100 题, 共 584 分)

1. 实验小学 201 班 5 月份用电 83 度, 6 月份上半月用电 48 度, 下半月用电 46 度, 201 班 5 月份和 6 月份哪个月用电多? 多多少度?
2. 同学们参加合唱比赛, 每排站了 9 名同学, 总共要站 3 排, 问一共有 28 名同学够用吗?
3. 一根 15 厘米长的彩带, 把它剪成 3 厘米的小段, 能剪几段, 需要剪几次?
4. 小明的妈妈到商店准备买下列物品:



12 元



18 元



13 元



5 元



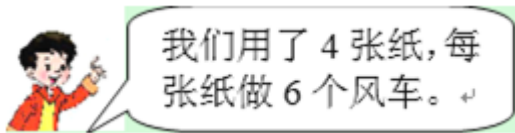
46 元



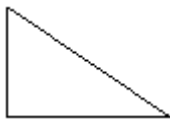
27 元

- (1) 买学习用品需要花多少钱?
 - (2) 买体育用品需要花多少钱?
 - (3) 除过买学习用品和体育用品外, 还准备买什么? 需要花多少钱?
 - (4) 如果她只买了文具盒、乒乓球拍和足球, 那么 100 元钱够不够?
5. 丽丽在做一道减法题时, 把减数 34 看成了 43, 结果差是 52, 你能算出正确的得数吗?
 6. 庆祝“五一劳动节”, 学校要挂 80 盏彩灯, 已经挂好 54 盏, 还要挂多少盏?
 7. 一个乒乓球 2 元钱, 4 个羽毛球 12 元钱, 哪种球比较便宜? 便宜多少钱?
 8. 小青有 9 个苹果, 张明比他的 2 倍多 5 个, 张明有多少个苹果? 两人一共有多少个苹果?
 9. 停车场有小汽车 8 辆, 大卡车的辆数是小汽车的 6 倍, 停车场有小汽车和大卡车多少辆?
 10. 有一根 5 米长的塑料管, 将 4 根这样的管子连起来, 新的部件有多长?
 11. 同学们分成 4 组做风车, 每组做了 8 只, 送给幼儿园小朋友 18 只, 还有多少只?

12. 小华拍球，第一次拍了 30 下，_____，两次共拍了多少下？（先补上缺失的条件，再列式计算）
13. 少先队员计划 4 天修补图书 24 本，实际上比原计划多修补了 16 本，这 4 天实际修补了多少本？
14. 水果店里原来有 56 箱苹果，卖了 38 箱，又运进 45 箱，现在水果店里有多少箱苹果？
15. 如图，把这些风车平均分给 8 个小朋友，每个小朋友分几个？




16. 有两盘苹果，甲盘有 8 个，如果从甲盘里拿出 2 个放入乙盘，那么两盘苹果同样多，乙盘原有多少个苹果？
17. 乐乐宾馆有 9 间房，一个动物旅游团有 26 只小动物，每间房里住 3 只小动物，能住下吗？
18. 一双袜子 9 元，妈妈买了 9 双，付给售货员 90 元，应找回多少元？
19. 下面的图形是几边形？有几个角？是直角的话要画上标记。






20. 梨有 36 箱，苹果有 37 箱，小货车一次能运 90 箱水果，还可以放多少箱其他水果？
21. 小明买一个足球，付给售货员 20 元，找回 14 元，一个足球多少元？
22. 小胖送给灾区小朋友 38 本图书，自己还剩下 27 本，他原来有多少本书？
23. 小美收集了多少枚邮票？



24. 一根木头锯 5 次，每锯一次所需的时间为 2 分钟，一共需要多少分钟？
- 25.



(1) 乐乐买 1 个  和 1 个 ，一共要用多少钱？

(2) 玲玲有 50 元，买 1 个 ，应找回多少钱？

26. 青青练习毛笔字，已经写了 36 个，还剩下 6 个没写，她一共要写多少个毛笔字？
27. 同学们去公园划船，每条船限坐 5 人，租了 9 条船还有 6 个空位，划船的同学一共有多少人？
28. 家电商场原有 90 台电视机，卖出 59 台，又运来 46 台，商场现在有多少台电视机？
29. 小兰买 3 块橡皮，每块橡皮 3 角钱，还买了一支 5 角钱的笔，小兰一共花了多少钱？
30. 有 42 支铅笔，一袋 5 支，装了 3 袋，还剩下几支？
31. 我拿了 35 根跳绳，发给我们班同学，每人发一根还少 7 根。我们班有多少人？
32. 同学们在操场上跳绳，每组有 8 人，一共有 2 组，跳绳的同学一共有多少人？
33. 面包师傅做了 54 个面包，小明买走了 19 个，小红买走了 25 个。你还可以买几个？
34. 青青练习毛笔字，已经写了 36 个，还剩下 6 个没写，她一共要写多少个毛笔字？
35. 一本故事书共 93 页，小军第一天看了 18 页，第二天看了 20 页。还剩多少页没有看？
36. 学校体育室有足球 21 个，一年级借走 8 个，还剩下多少个足球没被借走？
37. 读古诗，做数学。



《静夜思》

李白

床前明月光，

疑是地上霜。


举头望明月，

低头思故乡。

38. 王明身高 140 厘米，教室的门高 2 米，王明比门矮多少厘米？

39. 小红现在有多少元？



40. 小明有 14 个 ，吃了 6 个后，和小云同样多，小云有几个？

41. 解答题。



(1) 小红买 6 辆  需要多少元？



(2) 王阿姨带了 50 元钱，她要买了 9 个  ，够吗？



(3) 小阳买了同一种物品花了 36 元，你知道他买的是什么呢？

(4) 你还能提出什么问题？

42. 明明买一个足球和一个篮球一共要花多少钱？



40 元



18 元

43. 从停车场开来 36 辆大汽车，又开来同样多的小汽车，两次一共开来多少辆汽车？

44. 有一些小鸟落在 2 棵树上，先飞走 27 只，又飞走 27 只，两次一共飞走多少只？

45. 妈妈 4 个星期要上几天班？



46. 一套《童话故事》共有 8 本，每本 7 元，小亮买一套，需要多少钱？

47. 一把破损的直尺，最小刻度是 5 厘米，最大刻度是 18 厘米，这把尺一次最长可以量多少厘米？

48. 8 名男教师和 5 名女教师带学生去博物馆参观。学生排成 5 列，每列 8 名学生。

(1) 学生一共有多少名?

(2) 教师和学生共有几名?

49. 图书角一共有 42 本书, 其中故事书有 20 本, 上午共借出 8 本, 图书角还剩多少本书?

50. 解答题。



(1) 小力踢了多少下?

(2) 小玉踢了多少下?

51. 一只篮球 74 元, 比一只排球贵 12 元, 一只排球多少元?

52. 已知一食杂店中, 方便面标价 2 元 / 袋, 饼干标价 4 元 / 盒, 糕点标价 3 元 / 盒, 奶糖标价 5 元 / 袋, 薯片标价 4 元 / 袋。

如果你有 10 元钱, 你可以买几袋奶糖?

53. 动物园有 25 只哺乳类动物, 两栖类动物比哺乳类动物多 36 只, 动物园有多少只两栖类动物?

54. 挑战题。小云的爸爸今年 36 岁, 妈妈比爸爸小 4 岁, 妈妈比小云大 28 岁。小云多少岁?

55. 小明有一根 30 米的绳子, 剪了 6 根跳绳, 每根长 4 米, 这根绳子还剩多少米?

56. 同学们在收废电池, 小丽收了 35 节, 小亮收了 20 节, 小娟收了 16 节。他们 3 人一共收了多少节废电池?

57. 体育课上, 二(1)班同学在做操, 每排站 9 人, 站了 4 排, 其中男同学有 19 人。女同学有多少人?

58. 小明测得一张桌子的长是 80 厘米，宽比长少 20 厘米，高比宽多 30 厘米。

(1) 这张桌子的宽是多少厘米？

(2) 这张桌子高多少厘米？

(3) 请你提出一个数学问题并解答。

59. 学校跳远队有 16 人，长跑队比跳远队多 9 人。长跑队有多少人？

60. 小明有 2 个笔盒，每个笔盒里面有 3 只笔，小红有 3 个笔盒，每个笔盒有 2 只笔。请问小明和小红有的笔是否一样多？

61. 有 20 名运动员和 6 名教练，一箱矿泉水共有 24，每人 1 瓶，够吗？

62.



(1) 这两辆车一共能乘坐多少人？ $\underline{\quad} \underline{\quad} \underline{\quad} = \underline{\quad}$

(人)

(2) 大车比小车多乘坐多少人？ $\underline{\quad} \underline{\quad} \underline{\quad} = \underline{\quad}$ (人)

63. 小明和他的 3 个小朋友做彩旗，每人做了 6 面，一共做了多少面？

64. 妈妈买了 1 米布，给小兰做裙子用去 30 厘米，还剩多少厘米布？

65. 解决问题。

饼干每包 4 元	巧克力每盒 6 元	蛋糕每块 5 元
----------	-----------	----------

(1) 小明买 3 包饼干用了多少钱？

(2) 小亮买 5 块蛋糕用了多少钱？

66. 小军和小美一起做作业。小军做了 26 道数学题，小美再做 15 道就和小军一样多，小美做了几道数学题？

67. 看图回答。



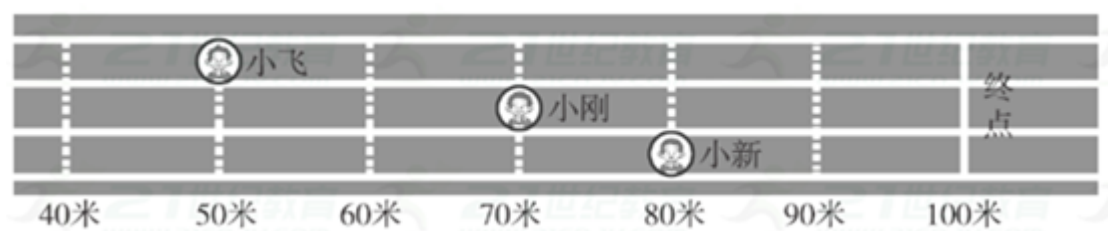
(1) 买 9 个皮球要多少钱？

(2) 买 3 本笔记本和一个面包共要多少钱？

(3) 你还能提出其他用乘法解决的问题并解答吗？

68. 停车场有 35 辆客车，货车比客车少 16 辆。货车有多少辆？客车和货车共有多少辆？

69. 小飞、小刚和小新正在进行 100 米赛跑。



(1) 小刚离终点还有多少米？

(2) 小新比小飞多跑了多少米？

70. 争星比赛。



(1) 小红得了多少颗星？

(2) 他们三人一共得了多少颗星？

71. 停车场里有小汽车 35 辆，公交车比小汽车少 8 辆，大卡车比公交车多 6 辆，有多少辆公交车？多少辆大卡车？

72. 下面是洋洋、小春和小星在云顶会上得到的分数。

洋洋	小春	小星
18分	36分	40分


(1) 洋洋比小春少得多少分？

(2) 小星比洋洋多得多少分？

73. 46 人来开会，房间里有 30 张桌子，12 把椅子，要使开会的人的桌椅够用。还要搬多少张桌子？多少把椅子？

74. 星期天，乐乐和爷爷一起去宠物市场，买回来 5 只大乌龟和 1 只小乌龟。每只乌龟有 4 条腿，这些乌龟共有多少条腿？

75. 学校买 3 盒羽毛球，每盒 6 元，带 20 元钱够吗？

76. 一本  共 46 页，小红看了 40 页，还剩多少页没看？

77. 幼儿园大班有小朋友 30 人，小班的人数 12 人。要给他们每人分 1 个苹果，够不够？



78.



23个



31个



6个



4个

(1)  与  一共有多少个？

(2)  与  一共有多少个？

79. 商店原有钢笔 74 枝，卖出 32 枝，又购进 49 枝，现在商店有钢笔多少枝？

80. 有 46 人来开会，房间里有 30 张桌子，8 把椅子，还要再搬多少张桌子？多少把椅子

81. 解答题。



(1) 唱歌的和拉琴的一共有多少人？

$$\square \bigcirc \square = \square \text{ (人)}$$

(2) 打鼓的有几人？

以上内容仅为本文档的试下载部分，为可阅读页数的一半内容。如要下载或阅读全文，请访问：

<https://d.book118.com/175313334121012043>