

2024年人教版九年级历史上册月考试卷含答案

考试试卷

考试范围：全部知识点；考试时间：120分钟

学校：_____ 姓名：_____ 班级：_____ 考号：_____

总分栏

题号	一	二	三	四	五	六	总分
得分							

评卷人	得分

一、选择题(共6题，共12分)

1、著有《物种起源》一书，提出了“进化论”思想的科学家是（ ）

- A. 牛顿
- B. 爱迪生
- C. 达尔文
- D. 爱因斯坦

2、20世纪60~90年代，亚洲国家新加坡和韩国均发展为新兴工业国家。回顾两国经济发展的历程，值得借鉴的经验有


- ①结合本国国情 ②引进外资和先进技术
- ③大力发展劳动密集型产业 ④不断调整发展战略

- A. ①②③
- B. ①②④
- C. ②③④
- D. ①②③④


3、新航路开辟后，首先进行殖民扩张的国家() ①英国②法国③葡萄牙④西班牙

- A. ①②
- B. ②④
- C. ①③
- D. ③④


4、下列思想家不属于启蒙运动时期的是（ ）




莎士比亚



孟德斯鸠



卢梭



伏尔泰

5、“五十六个民族，五十六朵花，五十六个兄弟姐妹是一家”北魏时，孝文帝改革促进了民族大融合，其主要措施是（ ）

- A. 推行郡县制
- B. 严惩贪污受贿
- C. 实行分封制
- D. 迁都洛阳、学汉语、穿汉服、改汉姓

6、许多地方被称为革命圣地，是因为它们跟重大的革命历史事件有关。下列历史关系对应不正确的是（ ）

- A. 瑞金--红军长征出发地
- B. 南昌--人民军队的建立
- C. 遵义--红军主力胜利会师
- D. 井冈山--红色根据地创建

评卷人	得分

二、多选题(共7题，共14分)

7、【题文】下列改革没有引起社会性质改变的是（ ）

- A. 洋务运动
- B. 戊戌变法
- C. 1861年俄国改革
- D. 日本明治维新

8、

如图是九年级某班同学制作的历史学习卡片；其中有一处错误，请指出该处是（ ）

文明名称：古代埃及文明
出现时间：公元前 3500 年
著名人物：伯利克里
文明代表：金字塔和狮身人面像
文明类型：农耕文明（大河文明）

- A. 著名人物
- B. 出现时间
- C. 文明代表
- D. 文明类型

9、

英国在殖民争夺的道路上，先后打败的国家有（ ）

- A. 俄罗斯
- B. 荷兰
- C. 西班牙
- D. 法国

10、

在某班历史课上，讲到法国大革命时，同学提出了以下观点，你认为哪个观点是对的（ ）

- A. 法国的国庆日是7月4日
- B. 《人权宣言》是以《独立宣言》为蓝本的
- C. 热月政变标志着法国资产阶级革命的结束
- D. 法国大革命是不彻底的

11、文艺复兴首先在文学艺术领域表现出来，涌现出了一大批优秀的文学艺术家。其中被誉为文艺复兴“文学三杰”的是（ ）

- A. 但丁

- B. 莎士比亚
- C. 彼特拉克
- D. 薄伽丘

12、中国共产党的成立真正使得中国革命面貌焕然一新，这个新主要体现在（ ）

- A. 以马克思主义为指导思想
- B. 以武装斗争为主要手段
- C. 以无产阶级为革命领导
- D. 提出民主革命的前途是社会主义

13、我们的祖先很早在中华大地上生活、繁衍。有一种远古人类生活在北京周口店一带，我们称之为（ ）

- A. 元谋人
- B. 北京人
- C. 山顶洞人
- D. 河姆渡人

评卷人	得分

三、填空题(共8题，共16分)

14、根据提示，填入正确的地名。

- (1) 这里发生的战役是美国独立战争的转折点。
- (2) 这座城市的百姓曾举行起义，攻占了象征封建统治的巴士底狱。
- (3) 拿破仑在这里遭遇惨败，并从此退出欧洲政治舞台。

15、率先在美国进行的工业革命促进了资本主义制度的完善。

判断：____；改正：____。

16、____

被誉为“世界建桥史上的一个奇迹”，后又有诗人赞它是“百尺长虹横水面，一弯新月出云霄”。它是____朝工匠李春设计的。

17、要求获得选举权，参与国家管理的欧洲早期工人运动是--____。

18、“赵钱孙李，周吴郑王，冯陈诸卫，蒋沈韩杨，朱秦尤许，何吕施张



”大家都很熟悉，这就是《百家姓》开头的几句。下面的甲骨文都是《百家姓》当中出现过的姓氏，你知道分别是什么吗？请写在横线上。____。

19、1894年11月；孙中山在檀香山建立的兴中会是第一个全国规模的资产阶级革命革命政党。

错误：____

理由：____。

20、漳州在南宋陈元光治理之后；逐渐发展成为“海滨邹鲁”。

错误：____；改正：____。

21、握手是一种礼节，握手是一种问候，握手是一种友谊，但在有些场合的握手却能改变国家和人类的命运。



尼克松访华

图一



阿拉法特与拉宾的握手

图二



安理会五个常任理事国首脑会晤

图三

【跨越太平洋的握手】见图一。

材料一

尼克松总统在回忆自己首次访华在机场与周总理见面的情景时说：“当我们的手握在一起时；一个时代结束了，另一个时代开始。”

--摘编自《尼克松回忆录》

(1) “另一个时代开始了”的含义是什么？当今影响中美关系发展的核心问题是什么？

【尝试和解的握手】见图二。

材料二

自二战后至今；中东地区屡燃战火；动荡不定，历史、宗教、种族等因素，使这一地区的矛盾错综复杂，而印巴冲突更是成为中东问题的关键。20世纪90年代初，中东和平出现转机，以色列和巴勒斯坦第一次共同坐到了谈判桌前，这是一次温暖的握手，它迈开了中东和平进程的重要一步。

(2) 材料二中有一处严重的知识错误；请你找出并改正。

错误：____ 改正：____

(3) 这次“尝试和解的握手”所带来的积极效果是什么？

【面向新世纪的握手】见图三。

材料三

2000年9月联合国安理会5个常任理事国首脑举行会晤；在人类社会跨入新世纪门槛之际，五大国首脑的握手有着非凡的意义。

(4) 当今世界的两大主题是什么？围绕两大主题，谈谈你对“五大国首脑握手”的看法。

评卷人	得分

四、判断题(共2题，共20分)

22、为对全国实行有效的统治，忽必烈在中央设中书省，地方设行中书省，简称“行省”。____（判断对错）

23、张某在第一次武举考试时成绩优异中了进士，在大殿上见到唐太宗的龙颜。（ ）

评卷人	得分

五、材料题(共4题，共32分)

24、（10分）隋唐时期，是中国封建社会的隆盛时代，留下了很多璀璨的文明遗产。阅读下列材料：材料一

今大运河常州段风光



赵州桥



材料二

大运河的修建，便利了中国南北贸易的发展，尤其是来自长江地区的稻米和其他粮食作物可以大量地供应北部地区的居民。由此为政治和文化的统一建立了经济基础。——《新全球史》

材料三

（盛唐）开明的政治、繁荣的经济、强大的国力，促成了文化的全面繁荣，同时也使诗歌创作进入一个黄金时期。那种追求进步的政治理想，为国家建功立业的英雄气概

乃是盛唐时代精神的集中体现，也是盛唐诗歌的主流。——叶郎、费振刚、王天有主编《中国文化导读》

请回答：

(1) 结合所学知识指出材料一中今大运河常州段在隋朝位于大运河的哪一段？（1分）

(2) 材料一中的赵州桥的设计者是谁？该桥梁有何世界地位？（2分）

(3)

据材料二，概括修建大运河的意义。有人说隋炀帝开凿大运河“罪在当代(时)，功在千秋”，对于“罪在当代(时)”，你是如何理解的？（4分）

(4) 据材料三，指出唐朝诗歌创作进入黄金时期的时代背景。（3分）



25、下面是中国共产党历史年代标尺




请根据所学知识；回答下列问题：（1）B处是新中国成立后党召开的第一次全国代表大会，这次会议是指哪次会议？

（2）中国共产党历史上有两次具有深远意义的转折事件；一次是遵义会议，另一次则于D点召开。这次会议是哪次会议？该会确立的指导思想是什么？

(3) 社会主义建设新时期党中央国务院决定设置一些对外开放的窗口；这个“窗口”是什么？我国最大的经济特区是指哪一个？

(4) 综合上述问题，谈谈你获得的启示



26、

阅读下列材料；回答问题。

材料 过去500年来；世界范围内已经发生三次结构性的权力转移

第一次权力转移时西方世界（欧洲）崛起。西方的崛起进程始于15世纪，到18世纪末，这一进程大大加快了

第二次权力转移是美国的崛起。它发生在19世纪行将结束之际

上世纪的全球经济；科技、文化和理念，大半时间由美国主导；我们目前正在经历的则是现代史上的第三次权力转移，这一次权力转移可称为“群雄竞起”的时代。

-----法里德·扎卡里亚《后美国是时代》

(1) 15世纪有哪些事件的发展促进了欧洲的崛起？对欧洲产生了哪些共同影响？

(2) “到18世纪末；这一进程大大地加快了”指什么？

(3) 20世纪中期由美国参与主导的世界格局是什么？

(4) 你认为我国在“第三次权力转移”过程中应如何把握机遇？

27、材料四中戈尔巴乔夫的这一建议，造成的直接后果是什么？我国的社会主义事业应从中吸取什么教训？

评卷人	得分

六、综合题(共1题, 共3分)

28、

【题文】（10分）杰出历史人物对社会的进步起到重大推动作用；解读历史人物，认识他们社会活动的意义是学习历史的一项重要内容。

材料一：拿破仑个人的影响诚然是可贵的；但是只有顺应正在推进欧洲文明的那些潮流，他的影响才能起作用。

——《拿破仑时代》

（1）材料一中作者说的“潮流”指的是什么？（2分）

材料二：贝多芬对拿破仑仰慕不已；把他当成建立伟大共和国的英雄人物，并为他谱写了一首交响曲，乐谱总谱上写着“题献给拿破仑·波拿巴”可是当拿破仑称帝的消息传来，贝多芬勃然大怒，叫喊着：“现在他必会蹂躏所有的人权以满足野心，他将凌驾于其他人之上而成为暴君”。当这首交响曲出版时，贝多芬把标题改为“英雄交响曲——为纪念一位伟人而作”。

——《世界历史》

（2）据材料二；结合所学切识，谈一谈贝多芬仰慕拿破仑的理由。（2分）贝多芬听到拿破仑称帝的消息后为什么勃然大怒？（2分）

材料三：一位意大利爱国者在1814年写到：“没有人比我更懂得湿润意大利土壤并使之恢复生气的每一滴慷慨的法国人鲜血的价值。但是；我必须说这样一句真实的话：看到法国人离开是一种巨大的；说不出的欢乐。”

——《全球通史》

（3）依据材料三指出拿破仑对外战争的性质。（2分）

（4）综合上述材料并结合所学知识分析拿破仑活动的根本出发点。（2分）

参考答案

一、选择题(共6题, 共12分)

1、C

【分析】

【分析】 本题主要考查达尔文的《物种起源》。

【解析】

【解答】 英国的达尔文出版的《物种起源》；提出了自然界在“物竞天择；适者生存、优胜劣汰”的法则中发展的，即生物进化论的观点。《物种起源》这部著作的问世，第一次把生物学建立在完全科学的基础上，推翻了神创论和物种不变论，沉重打击了神权统治的根基，促进了社会的竞争发展。这是生物科学的一次重大理论突破，也是人类思想史上划时代的大事。

故选C。

2、D

【分析】

试题分析：本题主要考查亚洲国家经济发展的原因，联系新加坡和韩国等亚洲发展中国家利用发达国家像发展中国家转移劳动密集型产业的机遇，吸引外资和先进技术，发展劳动密集型产业，在经济发展的基础上，又适时的调整经济发展战略，不断地进行产业更新换代，发展高新技术产业，发展外向型经济，据此可知①②③④均符合题意，故选D。

考点：人教新课标九年级下册·亚洲经济的发展·韩国和新加坡经济的发展

【解析】

【答案】

D

3、D

【分析】

新航路开辟后，首先进行殖民扩张的国家西班牙和葡萄牙 点评：考查首先进行殖民扩张的国家

4、A

【分析】

【分析】本题考查了启蒙运动的代表人物。

【解析】

【解答】题目直接设问考查不属于启蒙运动时期的思想家。启蒙运动的主要代表人物有伏尔泰；卢梭和孟德斯鸠等；莎士比亚是文艺复兴时期英国文学巨匠。

故选A。

5、D

【分析】

【分析】本题考查孝文帝的改革措施。

【解析】

【解答】由“五十六个民族”“五十六个兄弟姐妹是一家”可知；题干体现的是汉族与少数民族之间的关系。A郡县制；B严惩贪污受贿、C分封制均与民族关系无关。故ABC项不符合题意。D迁都洛阳、学汉语等均是孝文帝的改革措施，促进了汉族与鲜卑族的交往，推动了民族融合。
故选D。

6、C

【分析】

【分析】本题考查红军长征会宁会师的内容。

【解析】

【解答】遵义是长征途中召开的一次重要的会议；1936年10月；红军三大主力在甘肃会宁会师，宣告红军二万五千里长征胜利结束。

故选C。

二、多选题(共7题，共14分)

7、AB

【分析】

【解析】

试题分析：本题考查的是中外近代史上的重大改革；其中俄国1861年改革和日本的明治维新都使本国从封建社会步入资本主义社会，所以都引起了社会性质的变化，而洋务运动和戊戌变法没有改变中国的社会性质，故答案是A；B。

考点：人教新课标八年级上册·近代化的探索·洋务运动；人教新课标八年级上册·近代化的探索·戊戌变法；人教新课标九年级上册·无产阶级的斗争与资产阶级统治的加强·俄国、日本的历史转折

【解析】

【答案】A、B

8、AD

【分析】

以上内容仅为本文档的试下载部分，为可阅读页数的一半内容。如要下载或阅读全文，请访问：<https://d.book118.com/176031221042011012>