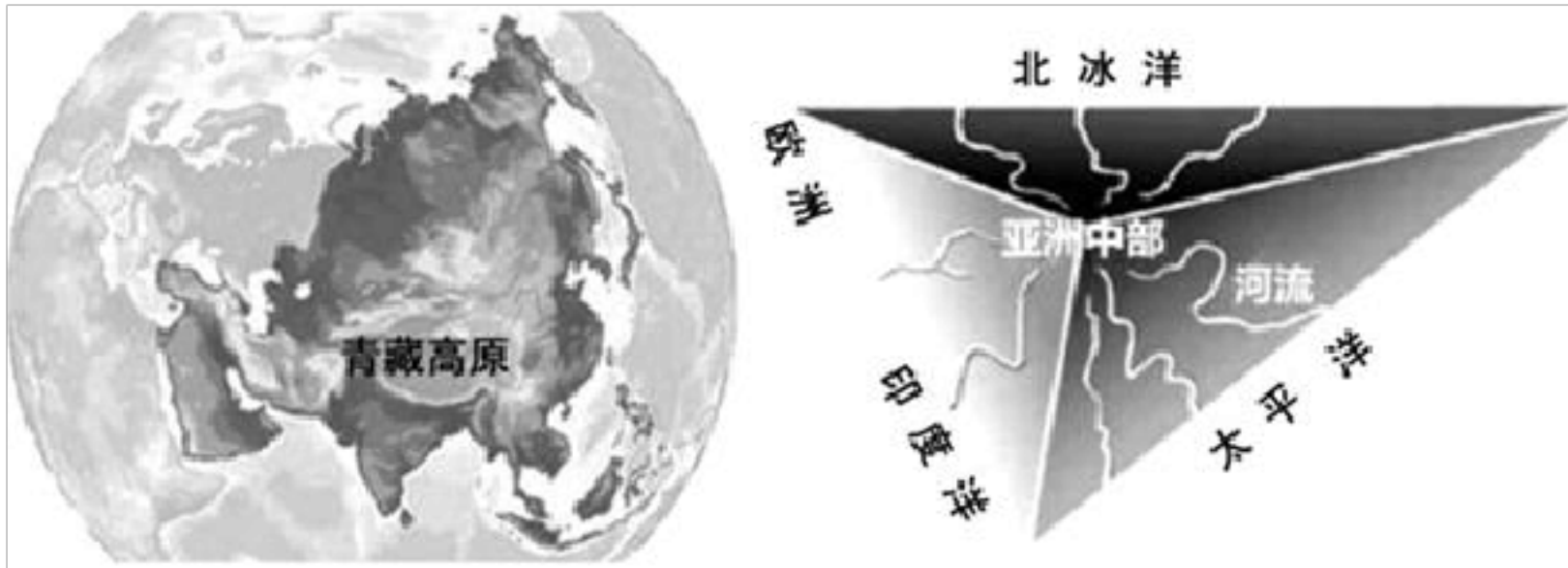


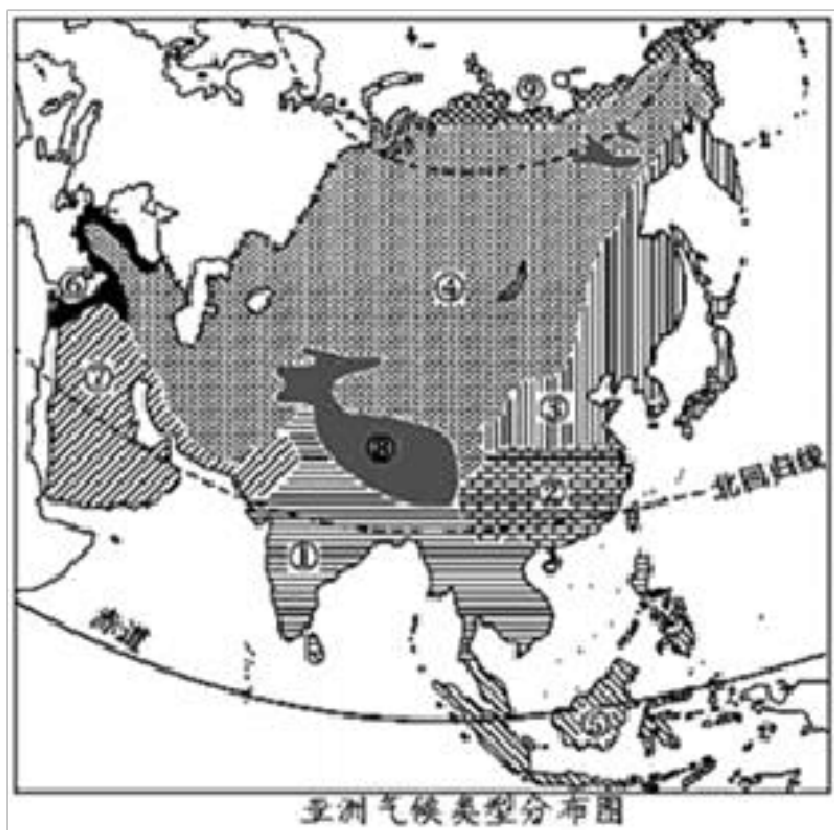
2022-2023 学年福建省三明市大田县七年级（下）期中地理试卷

从不同空间尺度探究区域地理环境特征，是学习大洲地理常用的方法。“世界屋脊”青藏高原是许多大江大河的发源地，被誉为“亚洲水塔”。如图为“亚洲地形示意图及亚洲地势特征示意图”。读图完成各小题。



1. 亚洲地势特征对河流的影响是（ ）
 - A. 西高东低，大河东流都入太平洋
 - B. 北高南低，大河南流都入印度洋
 - C. 中部高四周低，大河辐射状分流
 - D. 北高南低，没有河流注入北冰洋
2. 青藏高原被誉为“亚洲水塔”，原因是该地区（ ）
 - A. 降水丰富，江宽水阔
 - B. 海拔高，气温低，多冰川雪峰
 - C. 是高海拔生物集中区
 - D. 人口数少，对水资源需求量小

如图为“亚洲气候类型分布图”，读图完成各小题。

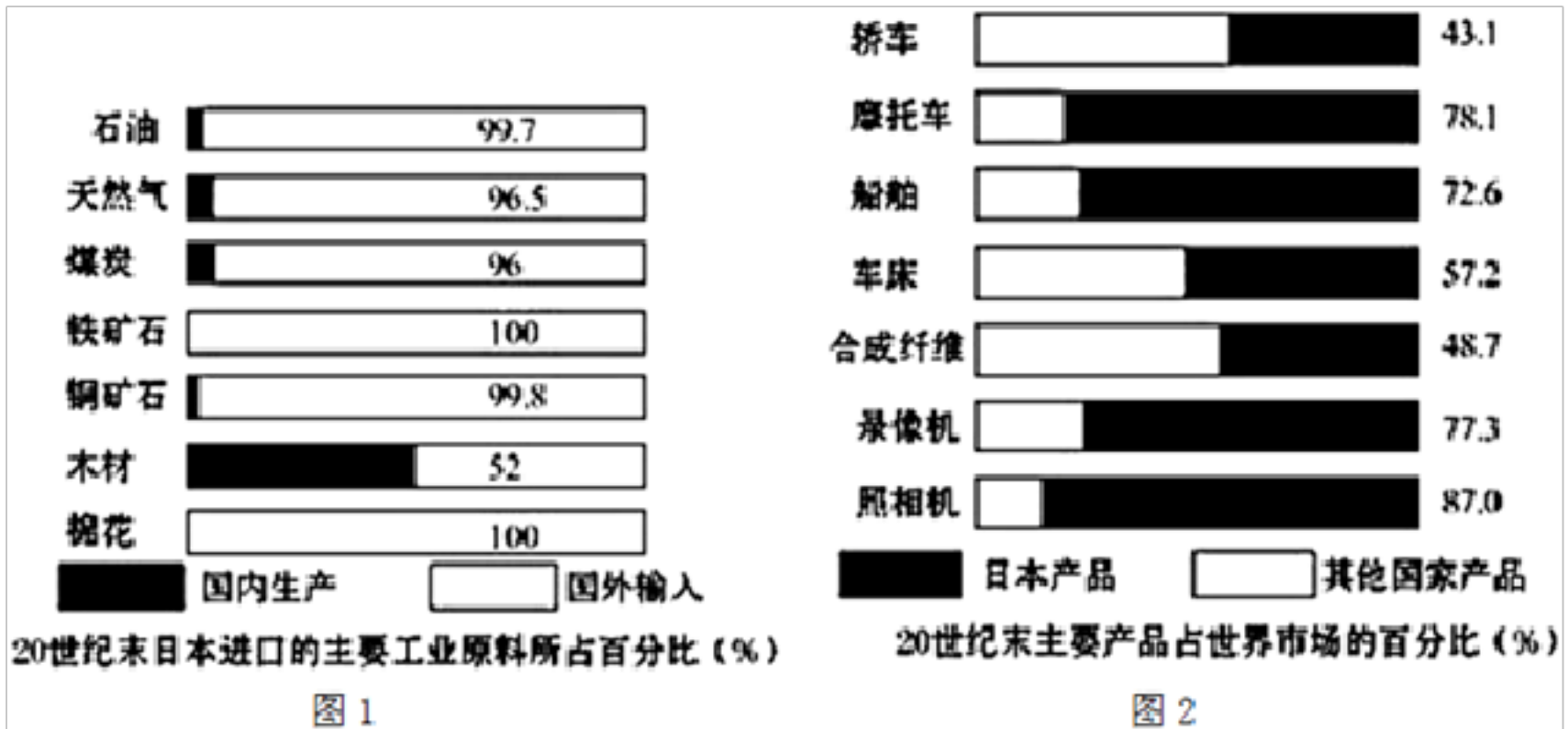


3. 亚洲各种气候类型中，分布面积最广的④是（ ）
 - A. 温带大陆性气候
 - B. 温带季风气候
 - C. 温带海洋性气候
 - D. 亚热带季风气候
4. 亚洲季风气候主要分布于图中的（ ）
 - A. ①②③
 - B. ④⑤⑥
 - C. ④⑤⑦
 - D. ⑦⑧⑨

5. 造成⑤和⑨气候类型不同的主要因素是亚洲气候类型分布图 ()

- A. 海陆因素 B. 纬度因素 C. 地形因素 D. 人为因素

图 1 示意 20 世纪末日本进口的主要工业原料所占百分比 (%)，图 2 示意 20 世纪末日本主要产品占世界市场的百分比 (%)，读图完成各小题。



6. 从图 1 中可以看出，日本自给率最高的工业原料是 ()

- A. 铁矿石 B. 石油 C. 棉花 D. 木材

7. 日本工业制成品全球市场份额占比最高的是 ()

- A. 照相机 B. 录像机 C. 轿车 D. 摩托车

8. 在日本港口看到载满货物的船舶离开码头，货物最有可能的是 ()

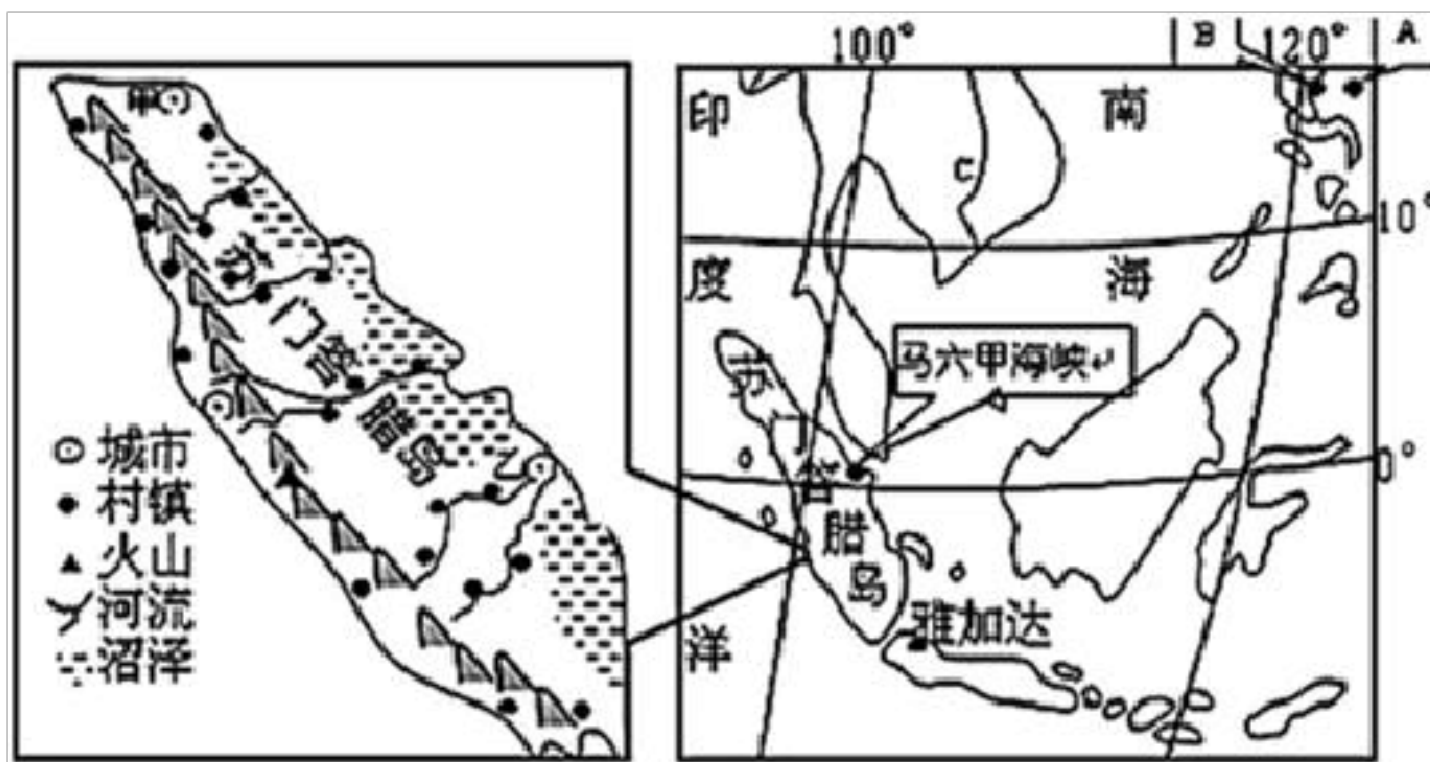
- A. 煤矿和木材 B. 铁矿和电子产品 C. 服装和化工原料 D. 电子产品和汽车

9. 近年来，日本加大海外投资，不断把工厂迁移到国外。对日本来说，其好处是 ()

- ①解决资金短缺问题
 ②引进先进的生产技术
 ③降低运输成本，提高经济效益
 ④提供丰富的资源

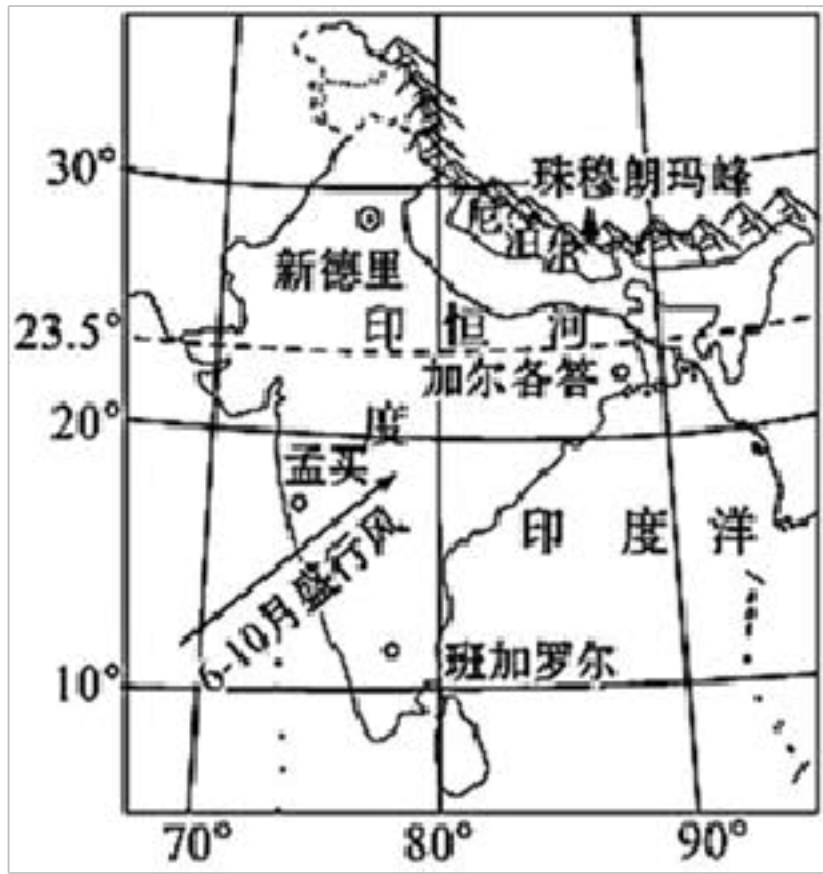
- A. ①② B. ①③ C. ②④ D. ③④

如图为东南亚部分区域图，读图完成各小题。



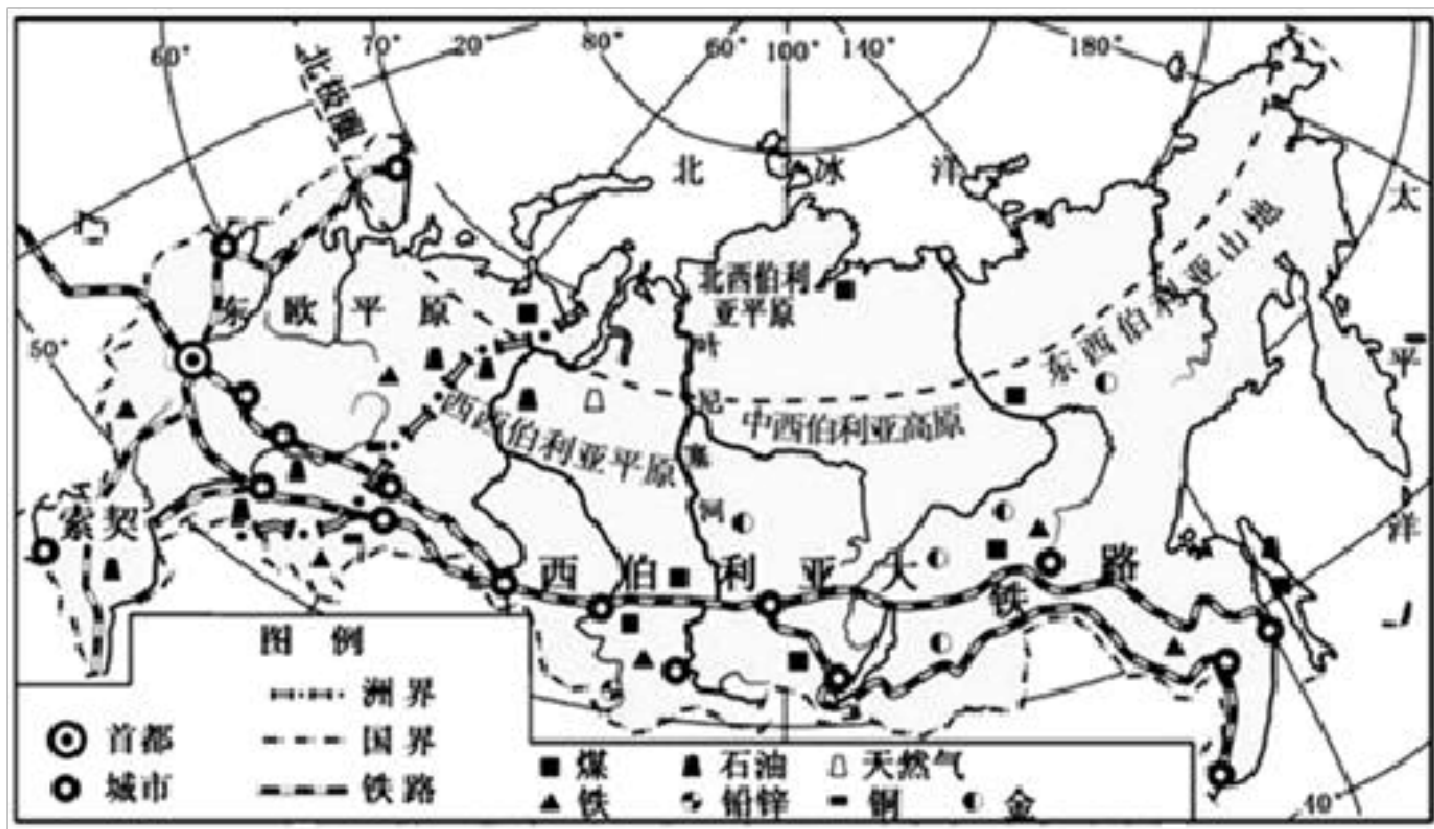
10. 印度尼西亚火山众多，有“火山国”之称，其原因与下列哪块板块无关（ ）
- A. 太平洋板块 B. 非洲板块 C. 印度洋板块 D. 亚欧板块
11. 图中马六甲海峡是国际上十分繁忙的海上运输通道，有关该通道的说法错误的是（ ）
- A. 它是沟通太平洋和印度洋的天然水道
- B. 大部分时间风平浪静，航运条件好
- C. 位于印度半岛和苏门答腊岛之间
- D. 是联结欧洲、非洲与东南亚、东亚各港口最短航线的必经之地
12. 由图1可推断，苏门答腊岛的地形地势和河流特征表述正确的是（ ）
- A. 东北部以山地为主，西南部以平原为主 B. 地势西南高东北低
- C. 河流流向大多自东向西流 D. 河流长度较长，水流平缓

2020年12月8日，我国同邻国尼泊尔共同宣布世界第一高峰珠穆朗玛峰最新高程8848.86米。如图示意南亚地区图，读图完成各小题。



13. 尼泊尔属于 ()
- A. 发达国家 B. 海岛国家 C. 沿海国家 D. 内陆国家
14. 珠穆朗玛峰位于 ()
- A. 印度境内 B. 赤道附近 C. 中尼边界 D. 落基山脉
15. 南亚 6-10月的盛行风是 ()
- A. 西北季风 B. 东南季风 C. 东北季风 D. 西南季风
16. 测量表明：珠穆朗玛峰的身高在不断长高，主要原因是 ()
- A. 板块张裂拉伸 B. 板块平静稳定 C. 板块碰撞挤压 D. 常年积雪加厚

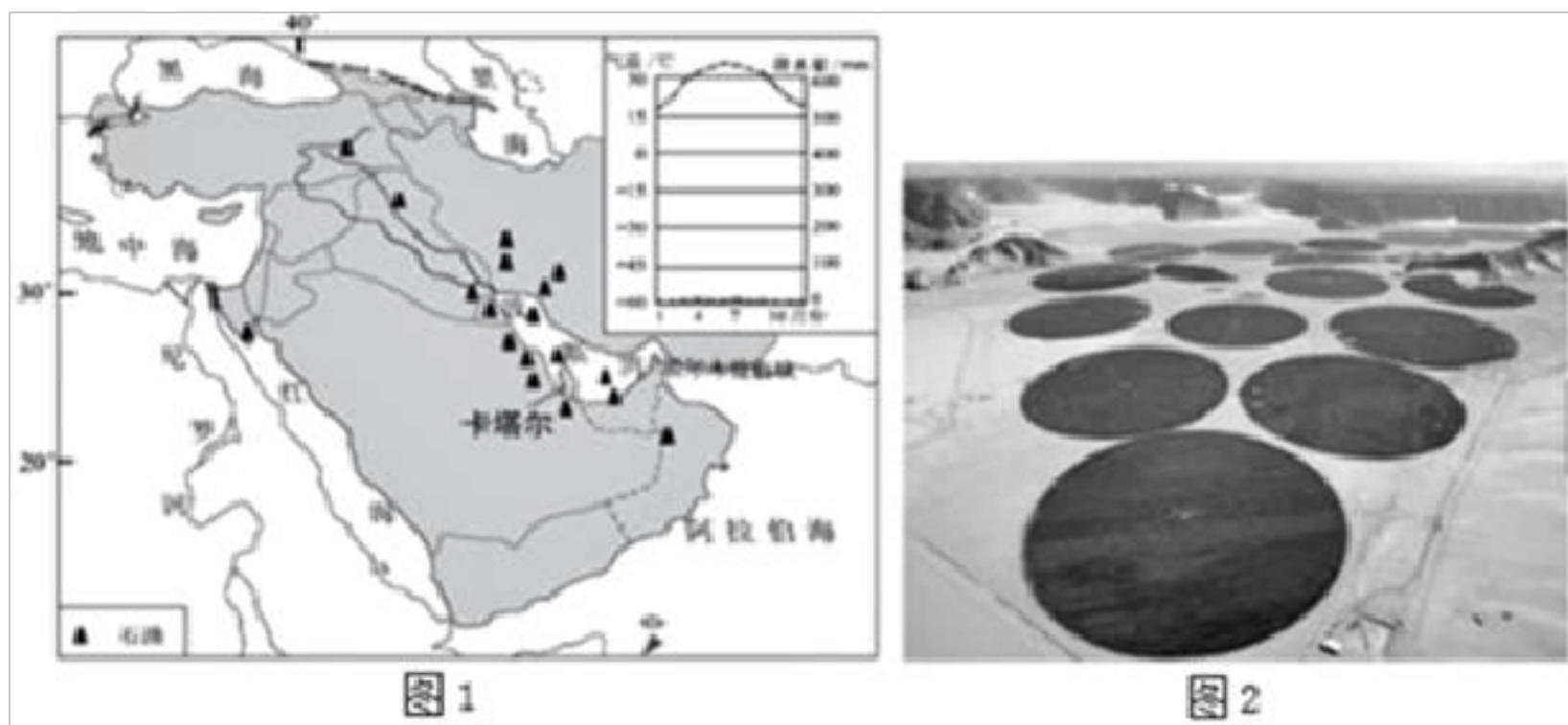
如图为俄罗斯地图，读图完成各小题。



17. 俄罗斯的地形特点是 ()
- A. 西部主要是山地，东部盆地、山地面积广大
- B. 西部主要是高原，东部平原、丘陵面积广大

- C. 西部主要是山地，东部平原、高原面积广大
 D. 西部主要是平原，东部高原、山地面积广大
18. 俄罗斯大部分地区的气候特点是（ ）
 A. 全年都很冷
 B. 冬季长而寒冷，夏季短而温暖
 C. 东部终年寒冷，西部全年暖湿
 D. 冬季短而温暖，夏季长而炎热
19. 俄罗斯大河很多，但除了伏尔加河以外，航运价值都不高，最主要的原因是（ ）
 A. 水量少
 B. 结冰期长
 C. 含沙量大
 D. 水量大，水流急
20. 综合纬度位置、地形和铁路、工业分布，推测俄罗斯人口最稠密的地区是（ ）
 A. 国土东部
 B. 国土北部
 C. 国土东南部
 D. 国土西部
21. 俄罗斯工业区主要分布在内陆，而日本工业区却分布在沿海，主要原因是（ ）
 A. 纯粹是政府决策的不同
 B. 俄罗斯内陆人才多，而沿海人才缺乏
 C. 日本工业区这样分布便于充分利用其便利的海运条件，而俄罗斯国内资源丰富
 D. 俄罗斯交通发达，日本相对落后

2022年11月21日~12月18日世界杯足球赛在卡塔尔举行，这是首次在北半球的冬季举办世界杯足球赛。图1为“西亚部分区域及卡塔尔气候资料图”和图2为“圆形农田景观图”，读图完成各小题。



22. 2022年世界杯足球赛选择在北半球的冬季举办，是因为卡塔尔（ ）
 A. 纬度较高，常年无夏
 B. 其他季节风沙较大
 C. 11~12月较湿润
 D. 11~12月较凉爽
23. 卡塔尔人所属人种和官方语言分别是（ ）
 A. 白色人种、英语
 B. 白色人种、阿拉伯语
 C. 黄色人种、英语
 D. 黑色人种、阿拉伯语

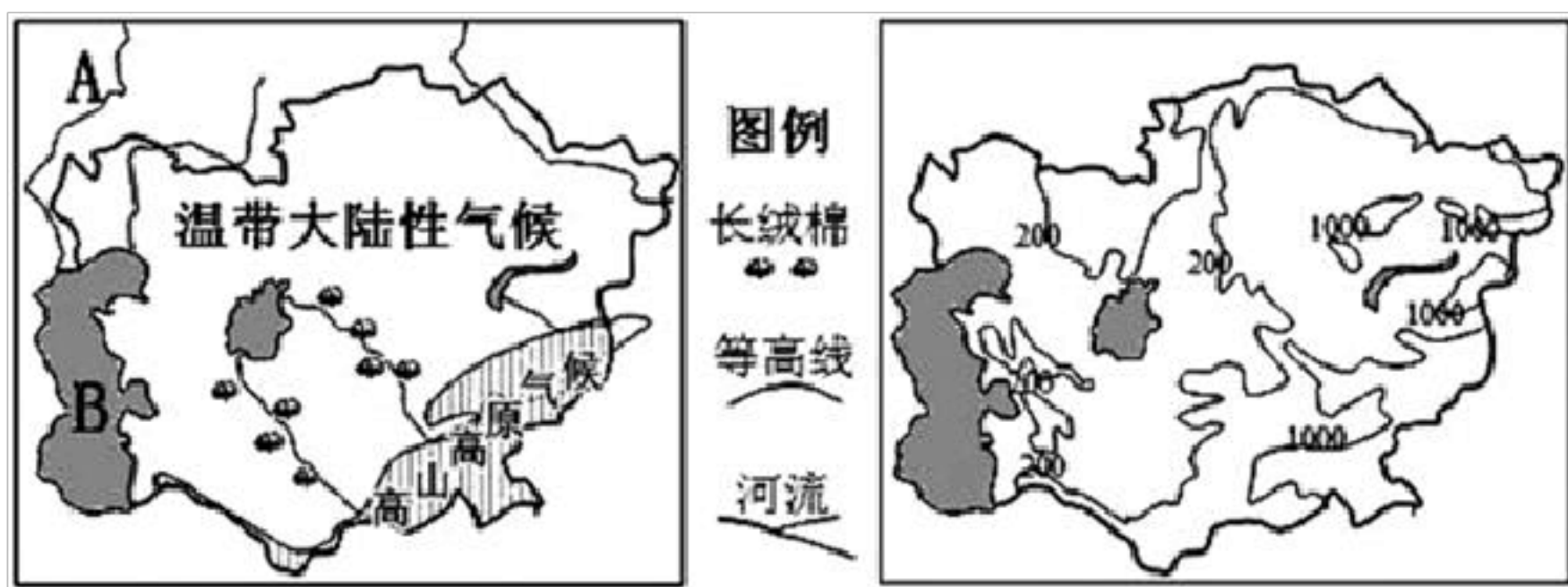
24. 沙特阿拉伯紧邻卡塔尔，其北部地区的农田采用了全自动喷灌系统（如图），影响图中农田形状的主要因素是（ ）

- A. 地形 B. 热量 C. 土壤 D. 水源

25. 沙特阿拉伯河流稀少的原因是（ ）

- A. 气候干旱 B. 地势较高 C. 地形平坦 D. 用水量大

26. 如图中亚地区地形、气候、河流分布图，读图完成下列问题。



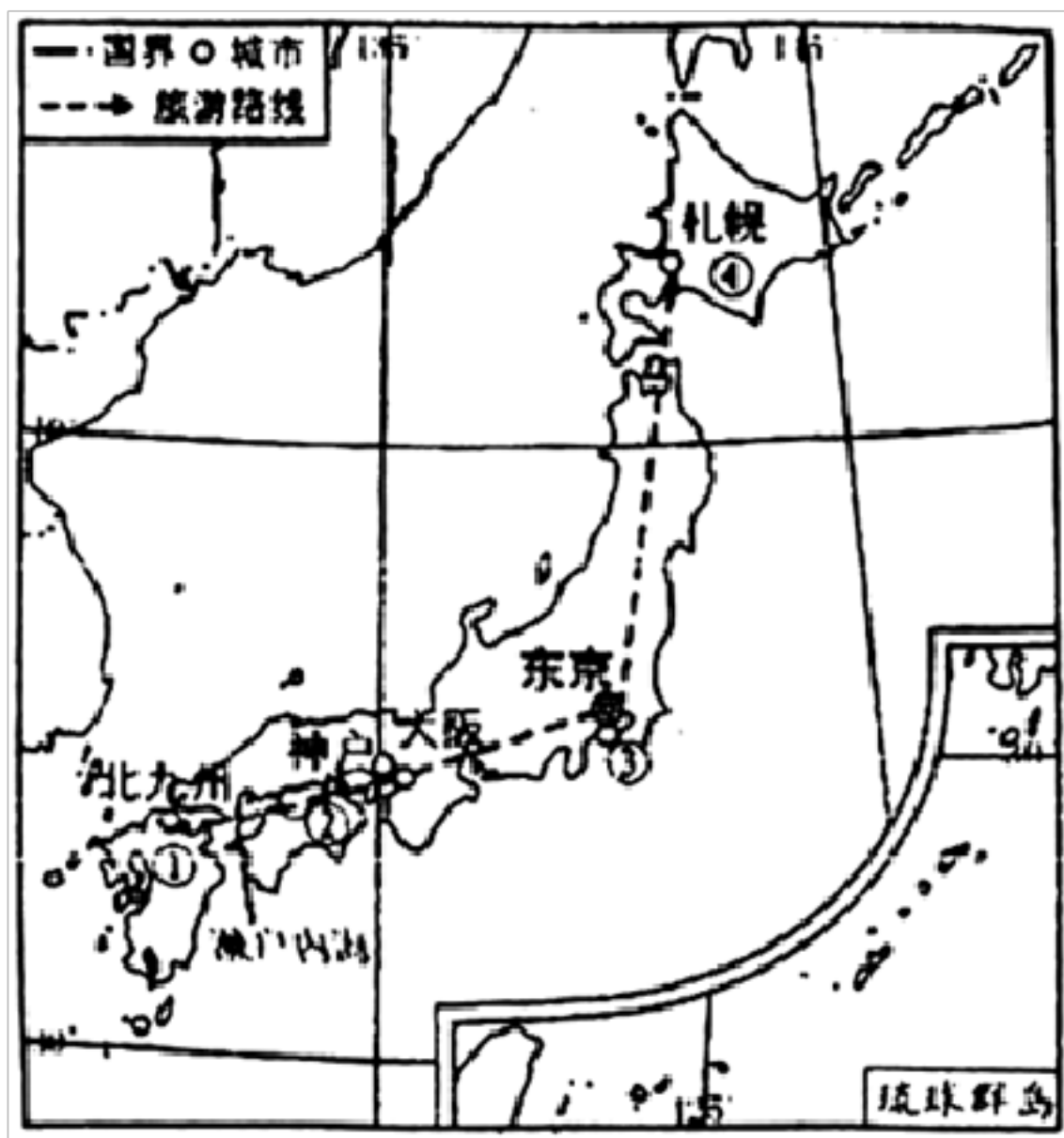
(1) A河是欧洲最长的河流 _____，注入世界上面积最大的湖泊B _____。中亚的河流大部分 _____（有或没有）注入海洋。

(2) 中亚地区最主要的气候类型是 _____，高山高原气候分布在 _____（方位）。

(3) 中亚地区的地势特点是 _____。

(4) 中亚的长绒棉主要分布在 _____，长绒棉不喜湿，喜欢在阳光充足的条件下生长，简要分析中亚种植长绒棉的有利条件： _____。

27. 如图是小雅日本旅游路线图，读图完成下列问题。



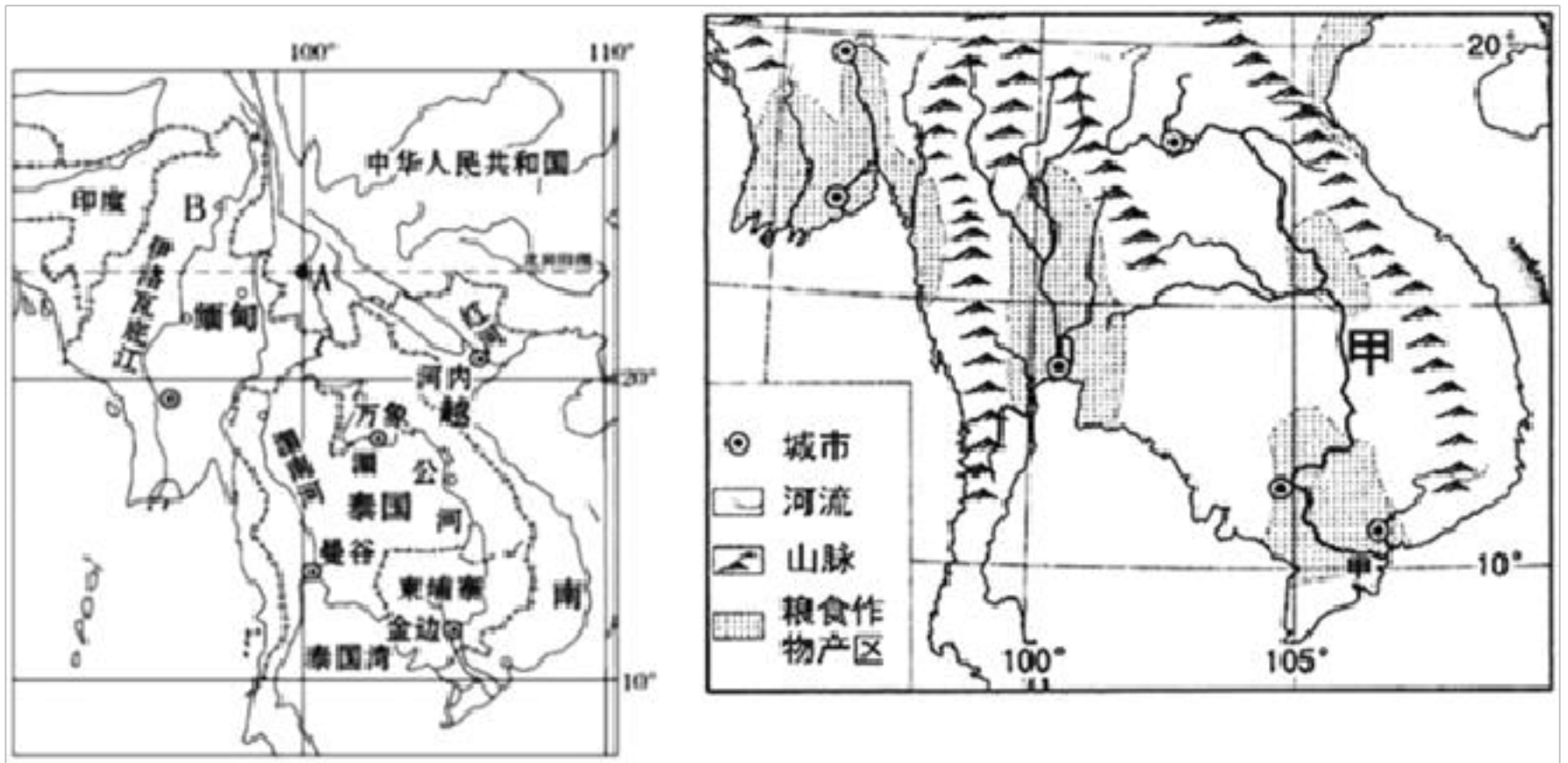
(1) 小雅旅行经过日本四大岛，依次是：①九州岛→②四国岛→③ _____ 岛→④北海道岛，可见，日本海岸线较 _____ （曲折、平直）。

(2) 从①-②途径日本重要工业区，据此推断，日本工业区分布在 _____ ，主要原因是 _____ 。

(3) 小雅到富士山脚下欣赏盛开的 _____ （日本国花），俯瞰日本，发现日本首都 _____ 座落在关东平原上。

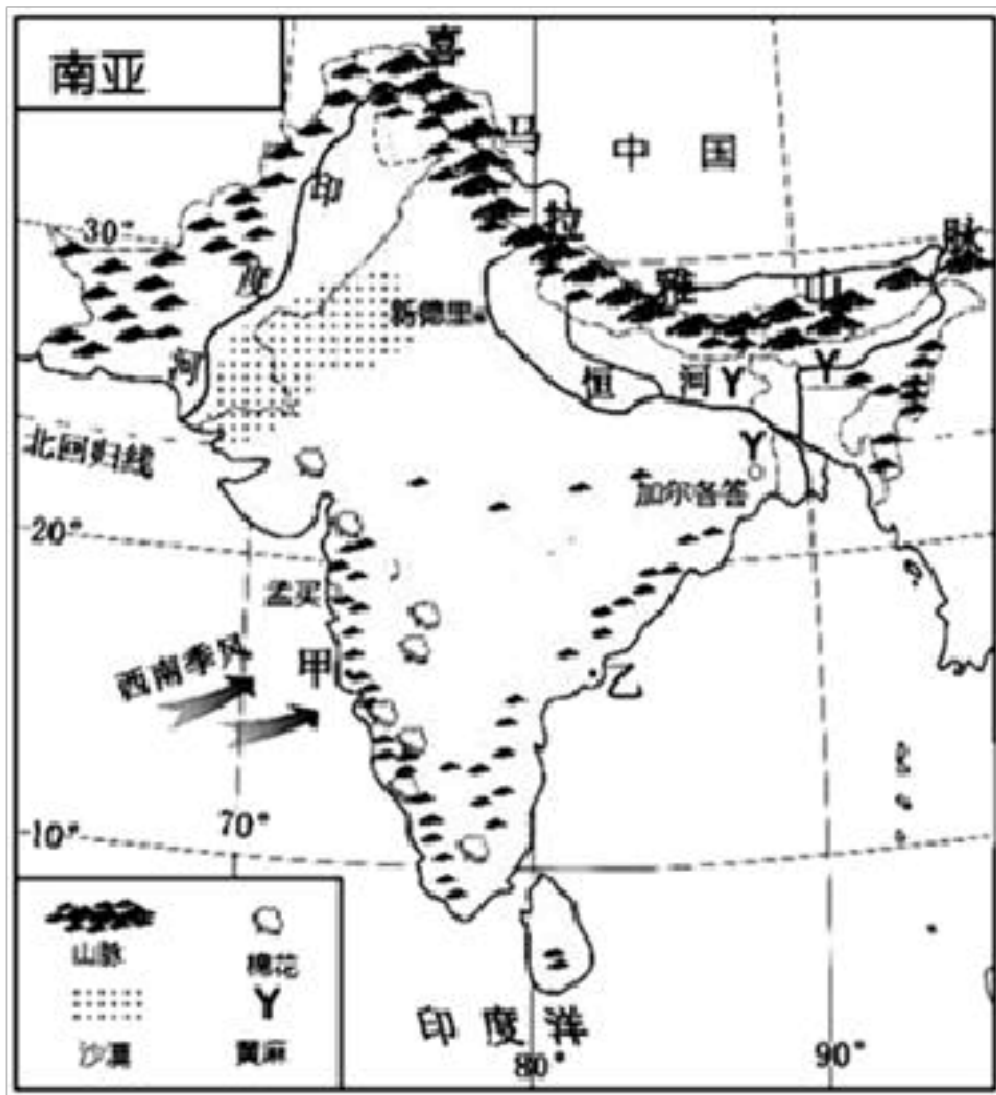
(4) 小雅感受日本东西方兼容的文化， _____ （日本服饰）与“洋”服并存；小雅可以品尝当地的特色美食有 _____ （举一例）。

28. 东南亚与我国地域相近，山水相依，联系密切。如图为中南半岛河流、城市及粮食作物分布图，读图完成下列问题。



- (1) A地的经纬度位置是 _____，该地位于 _____（国家）。
- (2) 与我国和印度都相邻的国家B是 _____，柬埔寨的首都是 _____。
- (3) 中南半岛地表形态的主要特点是 _____，亚洲流经国家最多的甲河流是 _____河。
中南半岛城市分布特点是 _____。
- (4) 中南半岛主要的粮食作物是 _____，简要分析中南半岛种植该粮食作物有利的自然条件： _____。

29. 南亚地区每年6~10月盛行西南季风，11月至次年5月盛行干燥的东北季风。如图为南亚略图，读图完成下列问题。



- (1) 南亚绝大部分位于热带和亚热带，受 _____山脉对冬季风（东北季风）的阻挡，主要

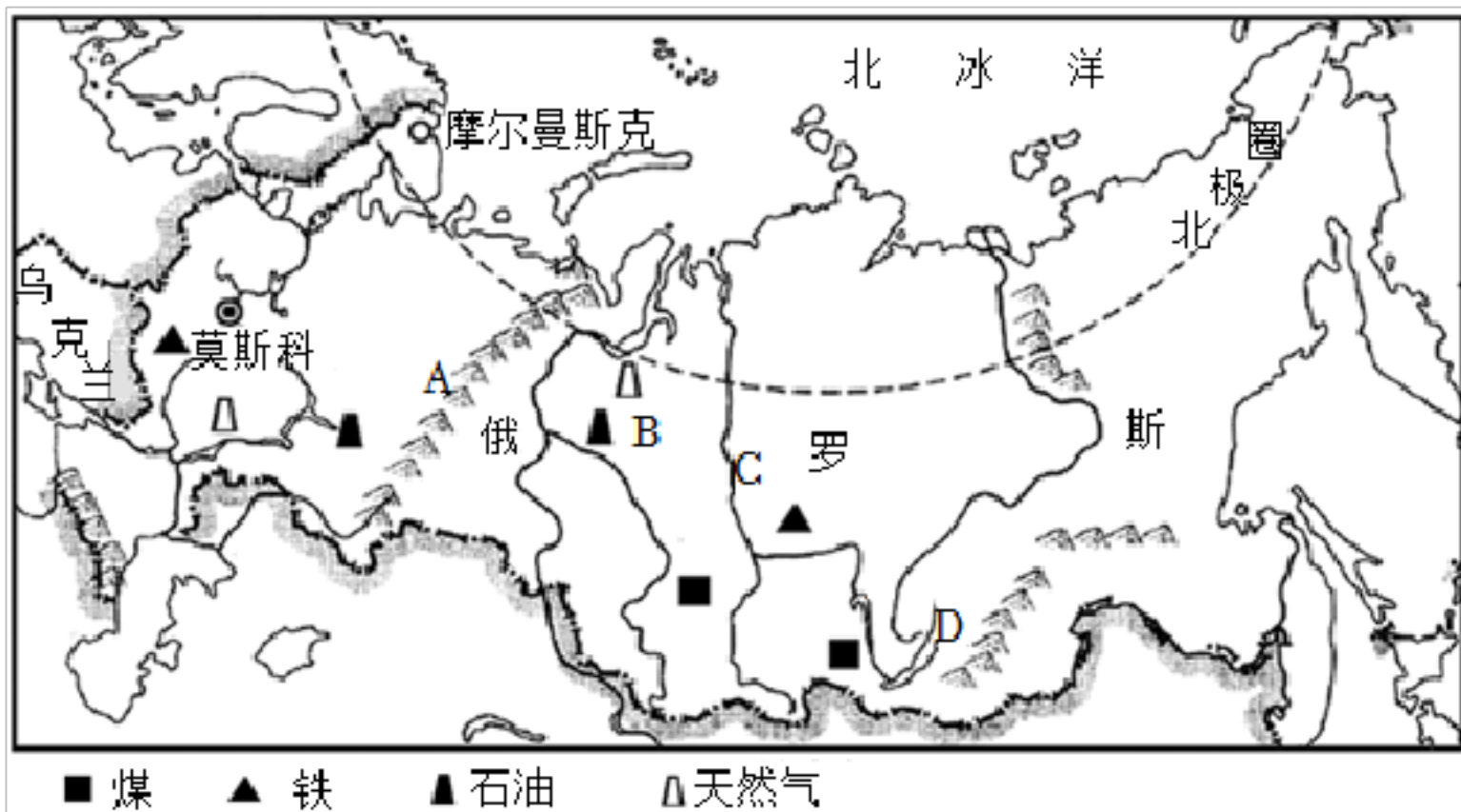
气候类型为 _____ 气候。

(2) 甲、乙两地相比较，降水量较丰富的是 _____ 地，主要原因是 _____ 。

(3) 如果西南季风来得晚，退得早，雨季时间 _____ ，容易造成 _____ 灾害，对农业生产不利。

(4) 读图可知，棉花主要集中分布在 _____ (地形区)的西部，黄麻主要集中分布在 _____ (河流)的下游。甲、乙两地中，适合发展棉纺织业的是 _____ 地。

30. 如图为俄罗斯地图，读图完成下列问题。



(1) 写出图中字母所代表的地理事物名称。

山脉 A: _____ ; 亚洲最大的平原: B _____ 。

(2) 读图，俄罗斯亚洲部分地势的主要特点是 _____ ，其判断的依据是 _____ 。

(3) 俄罗斯虽海岸线漫长，但海洋运输业在交通运输中所占比重不高，主要自然原因是 _____ 。

(4) 在俄罗斯的货运总量中，管道运输占一半以上，这说明该国 _____ (矿产)的产量和输出量都很大。

(5) 俄罗斯的欧洲部分一直是全国的政治、经济、文化中心地区，借鉴中国西部大开发的战略思想，你认为该国经济今后应向 _____ 地区发展

(6) 俄罗斯东部地区的自然资源开发利用程度很低的主要原因是 _____ 。

①资源贫乏

②地广人稀

③交通不便

④长期殖民统治

⑤气候严寒

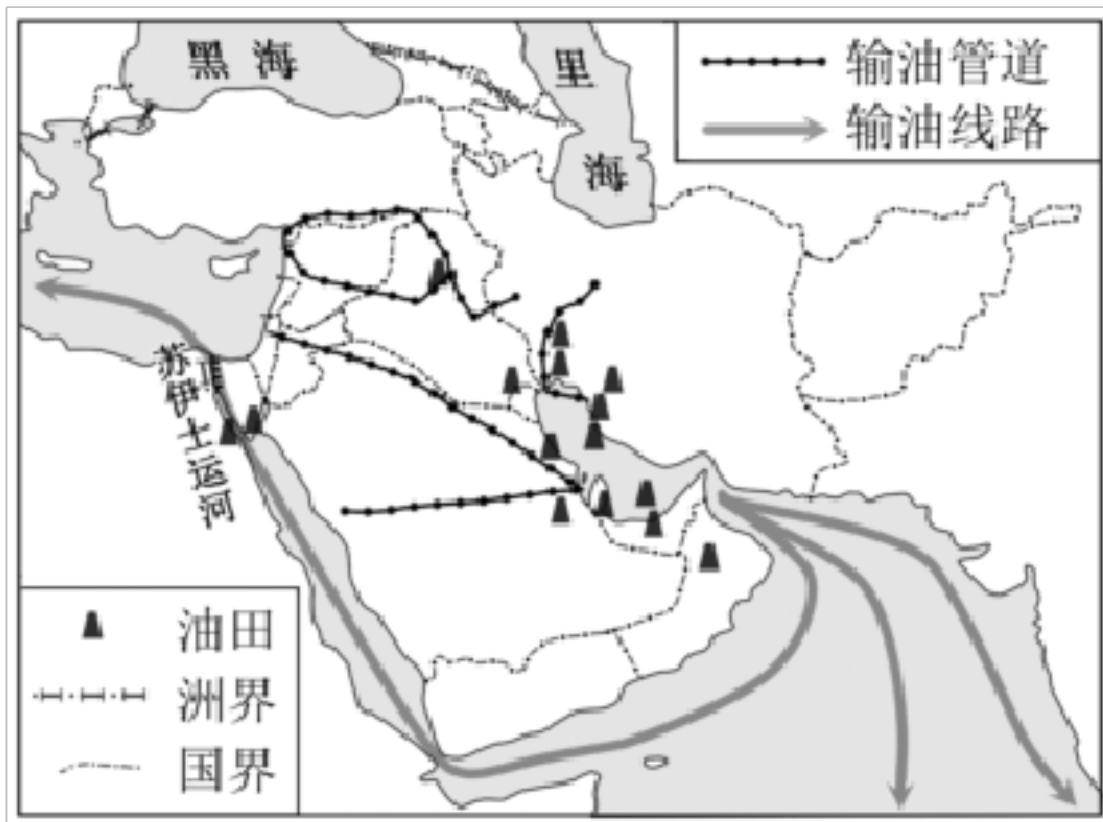
A.①②③

B.③④⑤

C.②③⑤

D.①④⑤

31. 如图示意某区域，读图完成下列各题。



(1) 本区域石油主要分布在 _____ 及其沿岸地区，石油陆上运输方式主要是 _____ 运输。

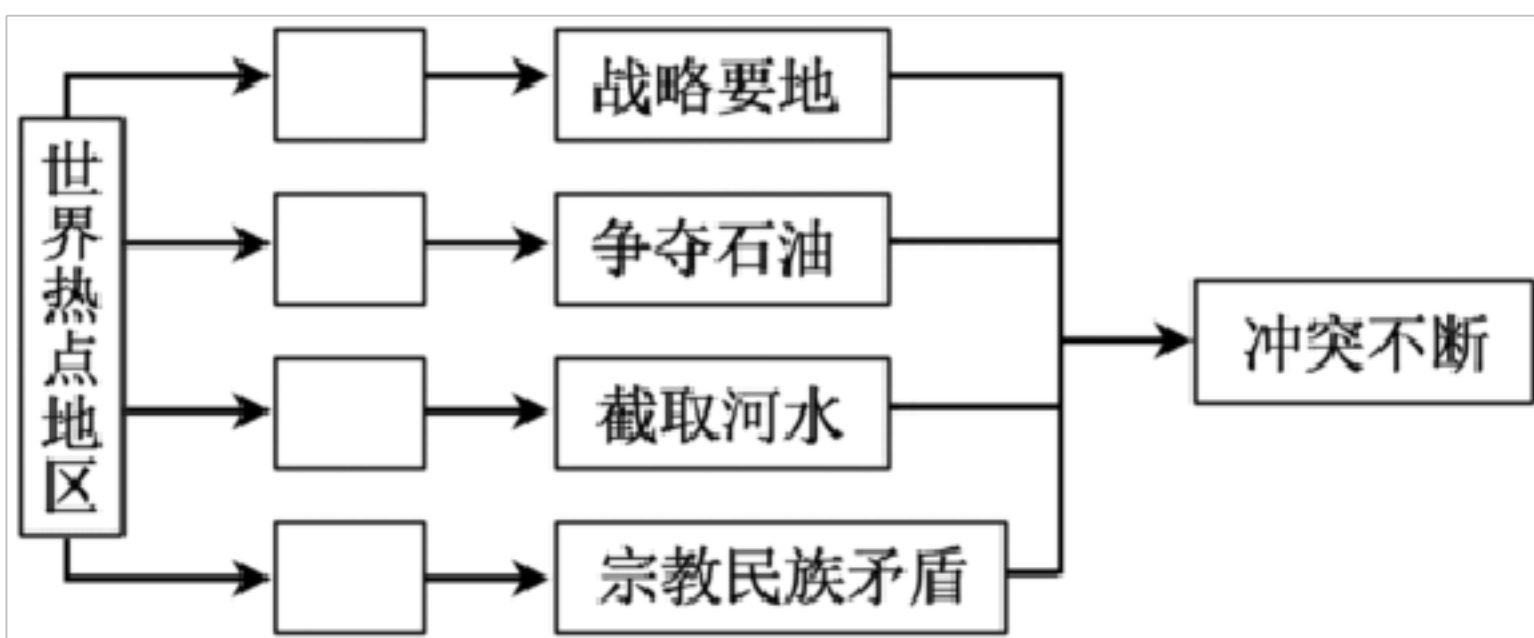
(2) 石油海上输出线路经过 _____ (大洋)、红海、地中海和大西洋，抵达西欧和北美。

苏伊士运河是亚洲和 _____ (大洲) 的分界线。

(3) 2021年3月23日，苏伊士运河因超大型集装箱船在北部航道搁浅堵塞造成封航，运河管理方表示，被堵货船可以自行选择等待或者绕行。若你是船长，请做出选择并说明理由 _____。

(4) 本区域具有独特的地理特征，请从下面的备选答案中，选择相关内容的数码填入图中，完善该区域的知识结构。

备选答案：①气候炎热干燥 ②地处三洲五海之地 ③文化信仰差异大 ④世界石油宝库



以上内容仅为本文档的试下载部分，为可阅读页数的一半内容。如要下载或阅读全文，请访问：<https://d.book118.com/186050055232011012>