

学年度下学期其中期末自测题 1

二年级数学期中

班级 _____ 姓名 _____ 等级 _____

一、填空。

1. 10 个一百是 ()，10 个一千是 ()。
2. 由 5 个千和 5 个十组成的数写作 ()，这个数的最高位是 () 位。
3. 一共有 32 个山楂，如果每 4 个串成一串，可以串成 () 串。算式是 ()。如果已经串了 12 个，剩下的每 5 个串成一串，还可以串成 () 串。算式是 ()。
4. 用 0、6、1、4 组成的四位数中，最大的是 ()，最小的数是 ()。
5. 与 3999 相邻的两个数是 () 和 ()。
6. 看图写出一道乘法算式和一道除法算式。



7. 在○里填上“>”、“<”或“=”。

$16 \div 4 \bigcirc 12$

$48 \div 8 \bigcirc 45 \div 9$


$24 \div 8 \times 6 \bigcirc 24 \div 6 \times 9$

$2 \div 2 \bigcirc 4$




$36 \div 4 \bigcirc 42 \div 6$

$2 \times 6 \div 3 \bigcirc 25 \div 5 \times 3$

二、下面是平移的用“√”，是旋转的用“×”表示。



三、下面的哪些图形可以通过平移互相重合？连一连。



四、算一算。

$18 \div 3 =$

$63 \div 9 =$

$28 \div 7 =$

$9 \div 9 =$

$9 \times 5 =$

$8 \times 6 =$

$32 + 4 =$

$64 - 8 =$

$81 \div 9 + 36 =$

$7 \times 8 - 14 =$

$70 - (18 + 12) =$

$54 \div 6 \times 3 =$

$3 \times 8 \div 6 =$

$42 \div 7 \div 3 =$

$40 \div 5 \times 2 =$

$32 \div 4 + 12 =$

$64 - 14 - 15 =$

五、你能列式计算吗？

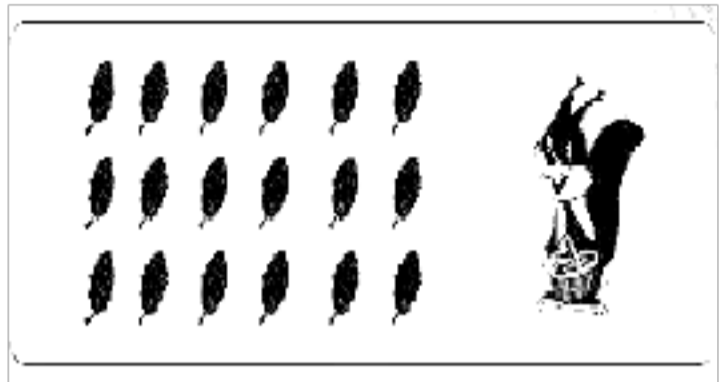
1. 16 里面有几个 8？

2. 把 36 平均分成 9 份，每份是几？

3. 把 20 个桃子，每 5 个分一份，分成了几份？

六、红星小学一二班最喜欢的课外书调查，如图所示：

2. 小松鼠采了一些松果，每个篮子装 4 个松果，需要 6 个篮子，如果把这些松果装到 3 个篮子里，每个篮子装几个？



3. 图书角有 36 本故事书，被老师拿走了 6 本，剩下的想分给 5 个小朋友，每个小朋友分几本？

4. 小红买了 8 束鲜花，每束 9 朵，送给小青后还剩 23 朵。送给小青多少朵？

5. 买衣服。



人教版小学数学二年级下册期中试卷

一、 填一填：（26分）

1、把 36 平均分成 4 份，每份是（ ）。

2 .48 里面有（ ）8。54 除以 9 等于（ ）。

3. $36 \div 4 = 9$ 读作（ ），其中除数是（ ），商是（ ）

4、 $9 + 23 = 32$ $50 - 32 = 18$ 把两个算式合并成一个综合算式是（ ）

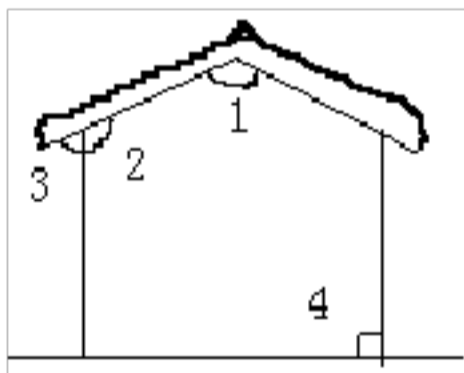
5、 $28 \div 7 = 4$ 表示 28 里面有（ ）个（ ）也可以表示 28 是（ ）的（ ）倍

6、5 个 4 是（ ）。30 是 6 的（ ）倍。

7、18 除以 2，商是（ ）。

8、正方形有（ ）个直角。 3 个正方形共有（ ）个直角。

9 认真观察下图中的各个角。

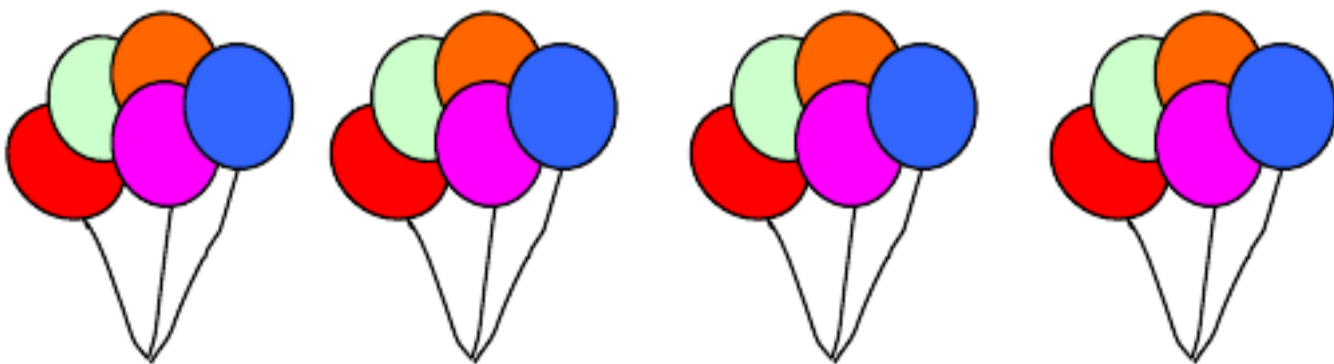


锐角有（ ）

钝角有（ ）

直角有（ ）

10、看图写两道乘法算式和两道除法算式 。



长风破浪会有时，直挂云帆济沧海。——李白

1、 $12 \div 4$ 读作：()

①12 除 4

②12 除以 4

③4 除以 12

2、钟面上 () 时整，时针和分针形成的角是直角。

①3 时

②5 时

③6 时

3、唱歌的有 45 人，跳舞的有 9 人，唱歌的是跳舞的 () 倍。

①3

②4

③5

4、下列现象 () 是平移。

①电风扇旋转

②推拉门打开

③车轮转动

5、一支笔 9 元钱，小明有 40 元钱，能买 () 支笔。

①6

②5

③4

四、 计算。(12 分)

1、直接写得数。(4 分)

$54 \div 9 =$

$5 \times 8 =$

$54 + 6 =$

$7 \div 7 =$

$64 - 8 =$

$7 \times 3 =$

$32 \div 8 =$

$36 \div 6 =$

2、算一算。(8 分)

$3 + 5 \times 9 =$

$81 \div 9 + 42 =$

$64 \div 8 \times 8 =$

$4 \times 6 \div 6 =$

五、解决问题。（42分）

1、填一填。（8分）

六年级各班种树情况统计表

| 班级 | 松树 | 杨树 | 合计 |
|------|--------|--------|----|
| 六（一） | 18棵 | 比松树多7棵 | |
| 六（二） | 比杨树少4棵 | 24棵 | |
| 六（三） | 25棵 | 比松树多5棵 | |
| 六（四） | 22棵 | 比松树少4棵 | |

2、小明有21根小棒，老师让他摆下面的图形，还差几根？（6分）



3、一辆公共汽车里原有乘客48人，到新站下去22人，上来16人，现在车上有多少人？（6分）

4、有3束气球，每束有8个，平均分给6人，每人分几个气球？（6分）

5、白兔有16只，灰兔有4只，白兔是灰兔的几倍？一个笼子里可以装5只兔子。一共需要多少个笼子？（8分）

商是（ ）。

2、 $8+22=30$ ， $54-30=24$ ，把这两道算式改写成一道算式应该是（ ）。

3、把9个面包平均分成3份，每份有（ ）个面包。

4、计算 $54\div 9=$ （ ）时，用到的乘法口诀是（ ）。



5、一个直角三角板中有一个（ ）角，两个（ ）角。

6、风扇转动是（ ）现象，推拉抽屉（tì）是（ ）现象。

7、将下列算式填在合适的（ ）里。

$35\div 7$ $42\div 6$ 7×7 $72\div 8$ $36\div 6$
（ ） $>$ （ ） $>$ （ ） $>$ （ ） $>$ （ ）

8、9的3倍是（ ），8是2的（ ）倍。

9、
一共有（ ），每3个分一份，可以分（ ）份。

二、判断下面的话对吗？对的画“ ”，错的画“ ”。

1、计算 $35-(23-12)$ 时，先算 $23-12$ 。 （ ）

2、 $12\div 4=3$ ，这道算式表示把12分成4份，每份是3。 （ ）


3、风车转动是平移现象。 （ ）

4、计算 7×8 和 $56\div 7$ 用同一句乘法口诀。 （ ）

5、比锐角大的角一定是钝角。 （ ）

三、选择。将合适答案的序号填在（ ）。

1、下面图形（ ）通过平移可以和重合。

①  ②  ③ 

2、 $96-32+28=$ _____，正确答案是（ ）。

① 29 ② 60 ③ 92

3、 $36+28$  6×9 比较， 内应填（ ）。

① $<$ ② $>$ ③ $=$

4、 $12\div 4$ 读作：（ ）

①12除4 ②12除以4 ③4除以12

饭疏食，饮水，曲肱而枕之，乐亦在其中矣。不义而富且贵，于我如浮云。——《论语》

5、唱歌的有 45 人，跳舞的有 9 人，唱歌的是跳舞的（ ）倍。

- ①3 ②4 ③5

四、计算。

1、直接写得数。

| | | | | |
|---------------|----------------|---------------|----------------|----|
| $54 \div 9 =$ | $5 \times 8 =$ | $54 + 6 =$ | $7 \div 7 =$ | 64 |
| $- 8 =$ | $7 \times 3 =$ | | | |
| $32 \div 8 =$ | $36 \div 6 =$ | $16 \div 2 =$ | $1 \times 1 =$ | 63 |
| $- 7 =$ | $3 \times 8 =$ | | | |

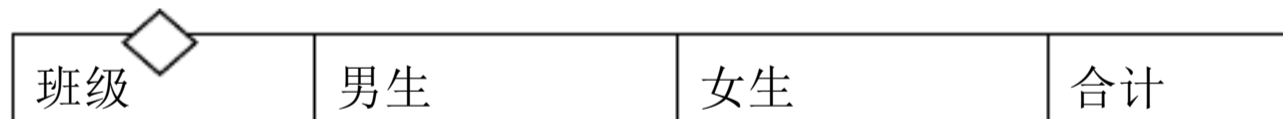
2、用脱式计算。

| | | | |
|-------------------|------------------|----------------------|---------------------|
| $3 \times 9 + 23$ | $81 \div 9 + 42$ | $64 \div 8 \times 8$ | $4 \times 9 \div 6$ |
| = | = | = | = |
| = | = | = | = |

五、动手操作。

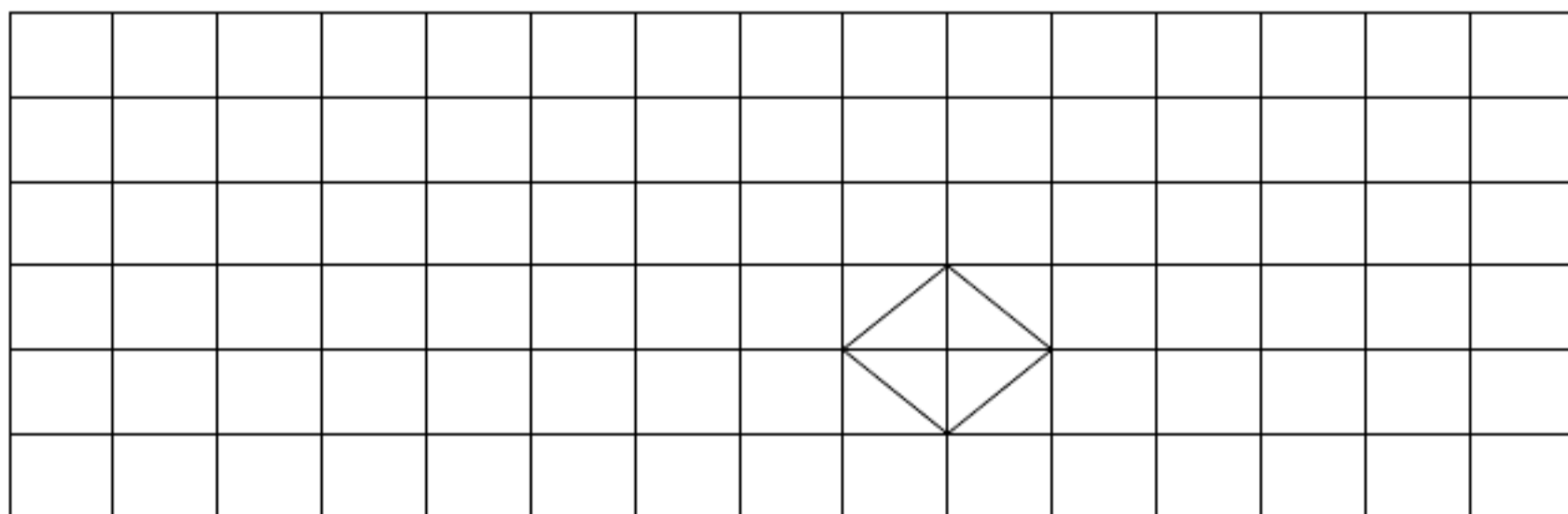
1、按照从大到小的规律画三个大小不同的角。

2、分
出将
平移 7



别画
向左
格、向

上平移 2 格后得到的图形。



六、解决问题。

1、填一填。

二年级各班人数情况统计表

| | | | |
|------|----------|---------|--|
| 二（一） | 18 人 | 比男多 7 人 | |
| 二（二） | 比女生少 4 人 | 24 人 | |
| 二（三） | 25 人 | 27 人 | |

- 2、原来车上有 35 人，下去 19 人，后又上来 16 人，现在车上有多少人？
- 3、有 20 个红萝卜，平均分给 5 只 小兔 ， 每只小兔能分得几个萝卜？
- 4、爸爸、妈妈和妹妹都掰了 9 个玉米，我掰了 6 个。我们家一共掰了多少个玉米？
- 5、动物园里有 8 只黑鸽子，24 只白鸽子。每个窝里住 4 只。
 - (1) 白鸽子的只数是黑鸽子的几倍？
 - (2) 一共需要多少个窝？
 - (3) 你还能提出不同的问题吗？试着解答出来。

人教版小学二年级数学下册期中试卷

一、填空。(15 分)

1. 一条红领巾有 () 角，其中有一个 () 角，有两个 () 角。
2. 8 的 4 倍是 ()，8 是 () 的 2 倍，4 的 () 倍是 8。
3. 把 30 平均分成 6 份，每份是 ()。
4. 4 个 () 是 28，12 是 6 的 () 倍，72 里有 () 个 9。
5. $35 \div 7 = 5$ 读作：_____
6. 五星红旗缓缓升起，是一种 () 现象。

7. 3 点整，分针和时针成一个（ ）角。

8. 三角板上有（ ）角，其中有 2 个（ ）角。

二、选一选，填序号。（10 分）

1. “五五二十五”这句口诀可以写（ ）道除法算式。

A. 1 B. 2 C. 4

2. 下面算式中商最大的算式是（ ）。

A. $36 \div 6$ B. $49 \div 7$ C. $72 \div 9$

3. 从 63 中连续减去 9，减（ ）次才能使结果等于 0。

A. 54 B. 7 C. 72

4. $8 \div 2 = 4$ 想（ ）。

A. 二四得八 B. $4 + 4 = 8$ C. 二五一十

5. 56 里面有多少个 7？列式是（ ）。

A. $56 \div 8 = 7$ B. $56 \div 7 = 8$ C. $7 \times 8 = 56$

三. 计算

1. 直接写得数。（12 分）

$27 - 9 =$ $24 \div 6 =$ $32 \div 8 =$ $3 \times 6 \div 2 =$

$30 \div 5 =$ $19 - 9 =$ $54 + 6 =$ $54 \div 9 \times 8 =$

$42 + 6 =$ $34 + 7 =$ $64 - 8 =$ $4 \times 8 + 23 =$

2. （ ）里最大能填几（6 分）。

$() \times 5 < 22$ $9 \times () < 40$ $33 > () \times 4$

$() \times 7 < 51$ $8 \times () < 30$ $17 > 3 \times ()$

3. 在○里填上“>、<或=”。（6 分）

$35 \bigcirc 4 \times 9$ $8 \times 4 \bigcirc 8 + 4$ $9 \times 3 \bigcirc 5 \times 5$

$56 \bigcirc 8 \times 8$ $81 \div 9 \bigcirc 9$ $72 \div 8 \bigcirc 8$

四、看图填空。

1. ○ ○ ○

△ △ △ △ △ △ △ △ △ △ △ △

以上内容仅为本文档的试下载部分，为可阅读页数的一半内容。如要下载或阅读全文，请访问：<https://d.book118.com/188070070113007023>