

广西钦州市 2023-2024 学年高一下学期

期末教学质量监测试题

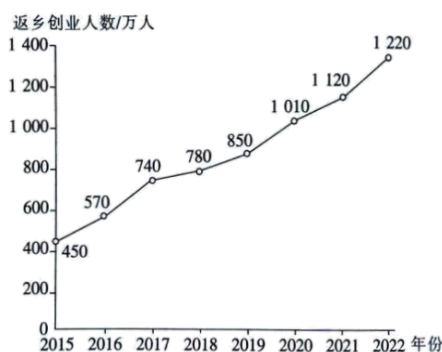
本试卷满分 100 分，考试用时 75 分钟。

注意事项：

- 1.答题前，考生务必将自己的姓名、考生号、考场号、座位号填写在答题卡上。
- 2.回答选择题时，选出每小题〔答案〕后，用铅笔把答题卡上对应题目的〔答案〕标号涂黑。如需改动，用橡皮擦干净后，再选涂其他〔答案〕标号。回答非选择题时，将〔答案〕写在答题卡上。写在本试卷上无效。
- 3.考试结束后，将本试卷和答题卡一并交回。
- 4.本试卷主要考试内容：必修 2。

一、选择题：本题包括 16 小题，每小题 3 分，共 48 分。每小题只有一个选项符合题意。

下图为 2015—2022 年我国返乡创业人数统计图。据此完成下面小题。



- 1.我国返乡创业人员的人口迁移方向主要表现为（ ）
 - A.从乡村到城镇
 - B.从内陆到沿海
 - C.从沿海到内陆
 - D.从山区到平原
- 2.近年来，我国外出务工人员返乡创业的主要原因是（ ）
 - A.务工地的落户政策收紧
 - B.乡村的创业环境改善
 - C.乡村地区交通条件改善
 - D.务工地环境质量下降
- 3.我国外出务工人员返乡创业可能给家乡带来的主要影响是（ ）
 - A.科技水平显著提升
 - B.环境容量下降
 - C.促进乡村产业振兴
 - D.用地成本增加

〔答案〕 1.C 2.B 3.C

〔解析〕

【1 题详析】

返乡入乡创新创业人员的人口迁移方向主要是从城镇到乡村，从沿海到内陆地区，从平原区到山区，C 正确，ABD 错误。故选 C。

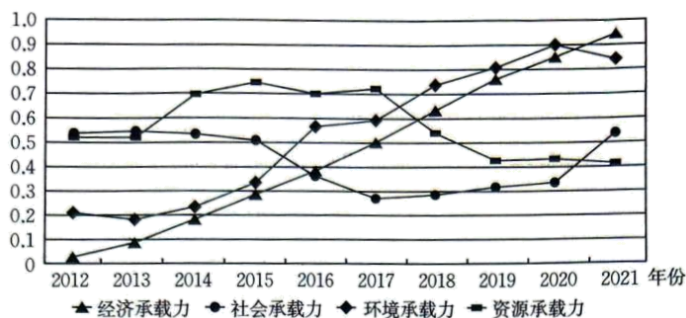
【2 题详 析】

愿意“返乡”说明乡村拉力因素增强，“创业”说明发展机会增多，B 正确；“务工地的落户政策收紧”影响面较窄，大多数人还是因就业机会与经济收入发生的迁移，A 错误；“乡村地区交通条件改善”是拉力因素之一，但不是主导因素，C 错误；“务工地环境质量下降”与返乡“创业”没有关系，D 错误。故选 B。

【3 题详 析】

外出务工人员返乡将积累的技术和管理经验推动乡村二、三产业，促进农村经济的发展，C 正确；返乡人员是能带回一定技术，但难以使地区科技水平显著提升，A 错误；返乡人员素质相对较高，且创业能推动经济发展、基础设施建设，环境容量不会下降，B 错误；会使土地资源的利用效率提高，价值提升，用地成本增加不是主要影响，D 错误。故选 C。

近年来，贵州省经济发展速度稳步提升，连续七年位居全国第一，这标志着贵州省已进入经济高速发展阶段。贵州省经济快速发展与各子系统承载力关系密切。下图为贵州省经济发展过程中各子系统承载力变化趋势图。据此完成下面小题。



- 4.对贵州省未来社会经济发展制约作用最显著的子系统是 ()
- A.经济承载力 B.社会承载力 C.环境承载力 D.资源承载力
- 5.为促进贵州省社会经济可持续发展，应该 ()
- A.积极引进重化工业 B.提高资源利用效率
- C.扩大矿山开采规模 D.大力增加城市数量

【答 案】 4.D 5.B

【解 析】

【4 题详 析】

本题考查“区域资源环境承载力的影响因素”及读图能力。图中显示，贵州省经济承载力、环境承载力一直呈上升趋势，A、C 错误；社会承载力先下降后上升，按发展趋势未来也呈上升趋势，B 错误；资源承载力呈先上升后下降的趋势，按趋势未来还将下降，D 正确。故选 D。

【5 题详 析】

本题考查“可持续发展的影响因素”。资源承载力已呈下降趋势且将长期持续，重化工业对资源依赖性强，A 错误；应对资源承载力下降的重要措施之一就是提高资源利用效率，B 正确；扩大矿山开采规模，不仅会加重资源压力，环境承载力会因此下降，C 错误；城市化进程要与社会经济发展程度相匹配，大力增加城市数量显然是不恰当的，D 错误。故选 B。

下表示意我国东部某中等城市著名传统商业中心垂直业态布局。据此完成下面小题。

5F	影院、电玩
4F	家电、儿童乐园
3F	餐饮
2F	服装
1F	珠宝、化妆品
-1F	地下车库、超市

6.该传统商业中心最可能位于（ ）

- A.居民小区内部 B.交通干线交会处
C.工业区的周围 D.城市的郊区边缘

7.该传统商业中心垂直业态布局形成的主要原因是（ ）

- A.超市在-1F 方便货物运输 B.珠宝在 1F 利于销售安全
C.影院在 5F 是为了减少噪声影响 D.服装在 2F 考虑的是地租最低

【答 案】6.B 7.A

【解 析】

【6 题详 析】

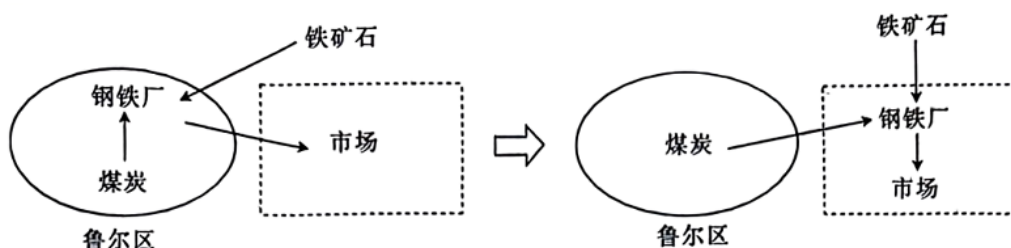
这是一规模较大的商业中心，区位指向人口密集（或人流量大），交通便捷的地方，B

正确；居民小区内部的商业网点规模不可能如此大（服务种类也不可能如此全），A 错误；工业区的周围、城市的郊区边缘，不符合“商业中心”市场最优与交通最优的布局原则，C、D 错误。故选 B。

【7 题详 析】

如图，商业中心垂直业态布局中，大件或数量大的商品可以方便直接车载进入超市，A 正确；珠宝选择在 1F 是因为 1F 人流量大、市场潜力大，珠宝店租金高、付租能力强，B 错误；影院设置在 5F，一是人员流动性不那么强，二是为了促进上下时所经过楼层的消费，C 错误；服装在 2F 考虑的是购物的便捷，地租不低，仅次于珠宝店，D 错误。故选 A。

德国鲁尔区煤炭资源丰富，钢铁工业发展规模大。随着工业区位因素的变化，鲁尔区钢铁工业面临较大挑战。下图示意鲁尔区为应对挑战对钢铁工业布局的调整。据此完成下面小题。



8.鲁尔区初期发展钢铁工业的主要优势是（ ）

- A.炼铁技术高 B.原料丰富 C.市场广阔 D.燃料丰富

9.鲁尔区钢铁工业布局的调整主要得益于（ ）

- A.交通运输效率提高 B.钢铁市场需求大
C.煤炭供应遭遇挑战 D.政府政策的支持

【答 案】8.D 9.A

【解 析】

【8 题详 析】

本题考查“工业区位因素”。鲁尔区拥有丰富的煤炭资源，初期的钢铁工业得益于其丰富的煤炭资源（燃料），鲁尔区开始迅速发展，D 正确；鲁尔区原料（铁矿资源）并不丰富（靠近法国的洛林铁矿），B 错；相比于其丰富的煤炭资源而言，炼铁技术、市场等均不是鲁尔区迅速发展的主要原因，A、C 错误。故选 D。

【9 题详 析】

钢铁工业迁至市场附近，主要是因为科技发展使得交通运输效率大幅提高，原料和燃料的运输成本迅速降低，钢铁厂靠近市场可以对市场作出快速响应，从而提高经济效益，A 正确；钢铁市场需求大用扩大生产规模来实现，不是促使钢铁工业迁至市场附近的主要原因，B 错误；煤炭供应遭遇挑战与钢铁工业迁至市场附近关系不大，C 错误；政府政策的支持是基于钢铁工业的区位发生改变（原、燃料对钢铁工业的影响减弱，市场影响逐渐增强）的合理响应（经济因素是主导因素），D 错误。故选 A。

餐饮业是城市服务业的重要组成部分，直接关系到城市居民的生活质量，且可以反映城市服务水平和城市竞争力。餐饮业合理布局有利于城市规划及城市健康发展。下图为某市餐饮业空间分布图。据此完成下面小题。



10.影响该市餐饮业分布的主要因素是（ ）

- A.地价 B.交通 C.客源 D.政策

11.图示餐饮业空间布局可以（ ）

- A.提高集聚效益 B.提供均衡化服务
C.降低运营成本 D.充分利用劳动力

【答案】10.C 11.A

【解析】

【10题详析】

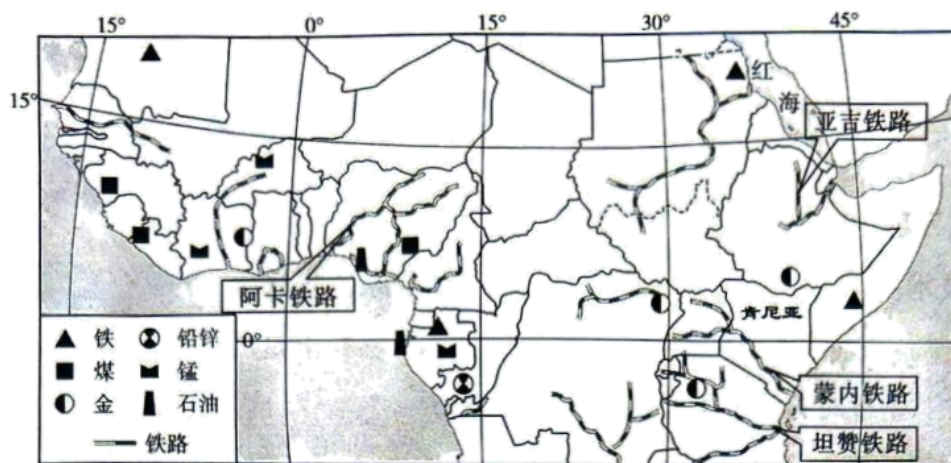
餐饮业是生活性服务业，市场是最大的影响因素，客源量是第一要素，C 正确；所选地人口集中，地价水平较高，A 错误；交通是一重要因素，但最后起作用的还是扩大客源市场，B 错误；政策是建设、引导和维护经济良性运行的，得尊重市场规律，D 错误。故选 C。

【11题详析】

图示餐饮业空间布局呈集聚状态，服务业集聚产生的优势明显，A

正确；餐饮业分布相对集中，难以做到提供均衡化服务，B 错误；降低运营成本、充分利用劳动力等都不是“服务业集聚”所追求的最重要优势，C、D 错误。故选 A。

为建设“21 世纪海上丝绸之路”，中国先后为非洲援建了坦赞铁路、亚吉铁路、阿卡铁路、蒙内铁路等交通线路，为非洲的交通建设和经济发展做出了突出贡献。下图为非洲局部铁路分布示意图。据此完成下面小题。



12. 非洲建设多条从内陆通往沿海港口铁路线的主要目的是 ()

- A. 出售工业制成品
- B. 方便农矿产品出口
- C. 方便对外交流
- D. 形成综合交通网

13. 图示地区铁路布局的主要原则是 ()

- A. 依据运输需求
- B. 适度超前，因地制宜
- C. 尽量少占土地
- D. 发挥综合运输优势

14. 中国为非洲援建铁路，主要是为了 ()

- A. 促进非洲社会 and 经济发展
- B. 联动世界经济大繁荣
- C. 加强经济交流和贸易往来
- D. 共享我国的发展成果

【答案】 12.B 13.A 14.C

【解析】

【12 题详析】

图中“建设多条从内陆通往沿海港口铁路线”是方便将内陆的农矿产品输往港口，再经海运出口其他国家，B 正确；非洲现代工业起步晚，对外贸易输出不以工业制成品为主，A 错误；对外交流凭借铁路、港口、海运，效率太低，C 错误；多条从内陆通往沿海港口的铁路线相对单一，没有与其它交通运输方式与线路形成综合交通网，D 错误。故选 B。

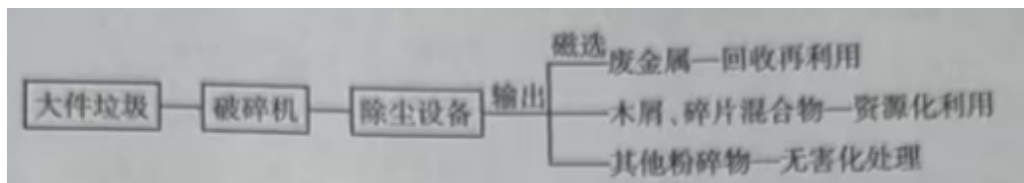
【13 题详析】

图示地区社会经济发展程度较低，资金投入有限，铁路布局的主要原则是以满足当前需求为主，A 正确、B、D 错误；线路布局主要考虑资源流向及其经济性，较少考虑尽量少占土地，C 错误。故选 A。

【14 题详 析】

中国为非洲援建铁路，主要是为了与非洲国家加强经济交流和贸易往来，在强大的互补性交往中获得双赢效果，C 正确；“促进非洲社会和经济发 展”、“共享我国的发展成果”这些在客观上是成立的，但不是主要目的，A、D 错误；出海非洲，主要是区域之间互给机会协同发展，离联动世界经济大繁荣还是有距离的，B 错误。故选 C。

沙发、床垫、衣柜、电视机、冰箱等大件垃圾是城市垃圾分类处理中的一个难题。2023 年 11 月，温州瓯海区某大件垃圾资源化处置中心投入使用，该中心的垃圾处理系统采用全封闭设计，可实现自动化破碎、除尘、输出、磁选。垃圾分类处理之后，可以进行回收利用或者资源化、无害化处理（如图）。据此完成下面小题。



15.大件垃圾回收站宜布局在城市的（ ）

- A.住宅区 B.商业区 C.工业区 D.文教区

16.大件垃圾成为城市垃圾分类处理中的一个难题，其主要原因有（ ）

①回收价值高②运输成本高③就地拆卸不便④有害成分偏多

- A.①②③ B.①②④ C.②③④ D.①③④

【答 案】15.A 16.C

【解 析】

【15 题详 析】

沙发、床垫、衣柜、电视机、冰箱一般是住宅区产生的垃圾，大件垃圾由于体量大，运输不便，所以回收站宜布局在垃圾源头附近，即住宅区，A 正确；BCD 错误。故选 A。

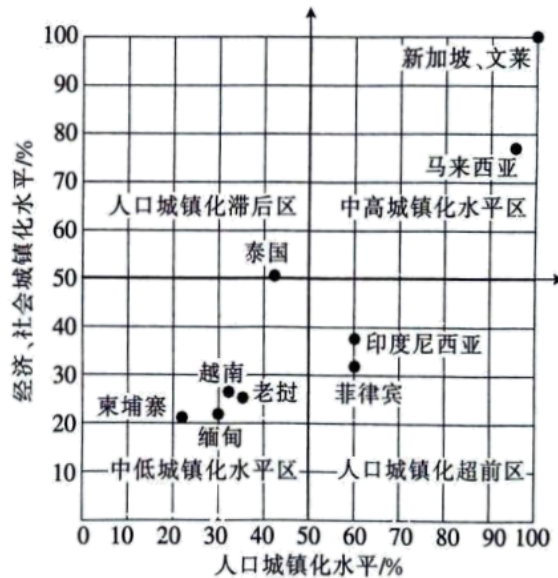
【16 题详 析】

大件垃圾成为城市垃圾分类处理中的一个难题，其主要原因是运输成本高、就地拆卸不便、有害成分偏多等，②③④正确，C 正确；“回收价值高”是有利因素，不是垃圾处理的一个难题，①错误，ABD 错误。故选 C。

二、非选择题：共 52 分。

17. 阅读图文材料，完成下列要求。

过度城镇化是指城镇化水平明显超过社会经济发展水平的城镇化。滞后城镇化是指城镇化水平明显落后社会经济发展水平的城镇化。下图为东南亚部分国家人口城镇化水平和经济、社会城镇化水平统计图。



- (1) 描述目前马来西亚城镇化的特征。
- (2) 说明菲律宾城镇化过程中出现的环境和社会问题。
- (3) 请为提高越南城镇化水平提出合理化建议。

【答案】(1) 城镇化水平较高，处于城镇化的后期阶段；城镇化质量较高，与社会经济发展相适应。

(2) 环境问题：大气污染、水污染、垃圾污染和噪声污染。

社会问题：交通拥堵、住房紧张、失业率高、贫困。

(3) 发展第三产业和新兴工业、先进制造业，增加就业机会；完善城市基础设施建设，发展公共交通，完善交通运输网；合理规划和布局城市功能区，改善住房条件；保护和治理城市环境，增加城市绿化面积。

【解析】

本题以部分地区城镇化水平为图文材料，涉及城镇化的特征描述，城镇化问题的形成、表现、措施等内容，旨在考查学生获取和解读地理信息，调动和运用知识等地理核心素养。

【小问 1 详 析】

图中横坐标代表人口城镇化水平，纵坐标代表经济、社会城镇化水平；衡量城镇化水平高低的主要标志是城市人口占总人口的比重，也即人口城镇化水平。马来西亚人口城镇化水平大于 90%，表明城镇化水平较高；因为人口城镇化水平（90%）大于 70%，所以处于城镇化的后期阶段；人口城镇化水平（90%）与经济、社会城镇化水平（约为 78%）相适应，处于中高城镇化水平区，表明其城镇化质量较高，与社会经济发展相适应。

【小问 2 详 析】

结合材料和据图可知：菲律宾处于人口城镇化超前区，人口城镇化水平（60%），明显超过经济、社会城镇化水平（30%），属于过度城镇化；城镇化水平高，城市人口多，与社会经济不相适应，会导致大气污染、水污染、垃圾污染、噪声污染和光污染等环境问题；城市人口多，会出现住房紧张、交通拥堵，就业压力大、失业率高、收入降低陷入贫困，社会治安压力大等社会问题。

【小问 3 详 析】

结合材料和据图可知：越南处于中低城镇化水平区，城镇化水平低，表明城市对人口吸引力不足，城市人口较少。要提高城镇化水平，应改善城市环境，增强城市的吸引力，吸引人口迁入。比如：发展公共交通，完善城市基础设施建设，完善城市交通运输网；加大科技投入，发展第三产业和新兴工业、先进制造业等附加值高的产业，增加就业机会，增加经济收入，吸引人口迁入；合理规划和布局城市功能区，改善城市住房条件，建设宜居城市；保护和治理城市环境，增加城市绿化面积，美化城市环境等。

18. 阅读图文材料，完成下列要求。

我国南疆地区由于干旱少雨，土壤盐碱化严重，冬天当地农民蔬菜种得少。自 2017 年起，当地政府创新思路，采用发放补贴等方式鼓励村民利用庭院内外、房前屋后的土地发展庭院经济，利用小型拱棚种植蔬菜(如图)。现今南疆地区已告别了新鲜蔬菜大量依赖外调的局面，成为供给新疆的“大菜园”。



- (1) 评价南疆地区发展蔬菜种植的自然条件。
- (2) 指出和田县村民发展庭院小型拱棚种植蔬菜的好处。
- (3) 简述南疆地区成为供给新疆的“大菜园”的主要原因。

【答案】(1) 有利自然条件：夏季光热资源丰富；昼夜温差大；土地面积广大。

不利自然条件：冬季气温低；全年降水少；土壤盐碱化严重。

(2) 提高庭院土地利用率；庭院小拱棚投入少，生产灵活；可以满足自家蔬菜的需求；可以增加经济收入。

(3) 当地优惠政策的支持；农业生产技术的进步；冷藏保鲜技术的发展；交通运输条件的改善。

【解析】本大题以“我国南疆地区蔬菜种植”为材料设置试题，涉及农业区位条件、农业区位因素的变化、庭院设施农业的优势等相关内容（知识点），考查学生获取和解读地理信息、调动和运用地理知识、描述和阐释地理事物的关键能力和区域认知、综合思维、人地协调观等核心素养。

【小问1详析】

本题考查农业区位条件。南疆地区蔬菜种植的自然条件有优势方面也有劣势方面，其处于温带大陆性气候区，大部分位于暖温带，光热资源充足，昼夜温差大，冬季气温较低；地处干旱区，全年降水稀少，蒸发旺盛，存在土地盐碱化的问题；当地地广人稀，土地面积广大。

【小问2详析】

以上内容仅为本文档的试下载部分，为可阅读页数的一半内容。如要下载或阅读全文，请访问：

<https://d.book118.com/188122106064006124>