

专题 01 中国古代史（七年级上册）

考点 01 中国境内人类的活动

考点 02 早期国家与社会变革

考点 03 统一多民族国家的建立与巩固

考点 04 政权分立与民族交融

选择题部分



考点 01 中国境内人类的活动

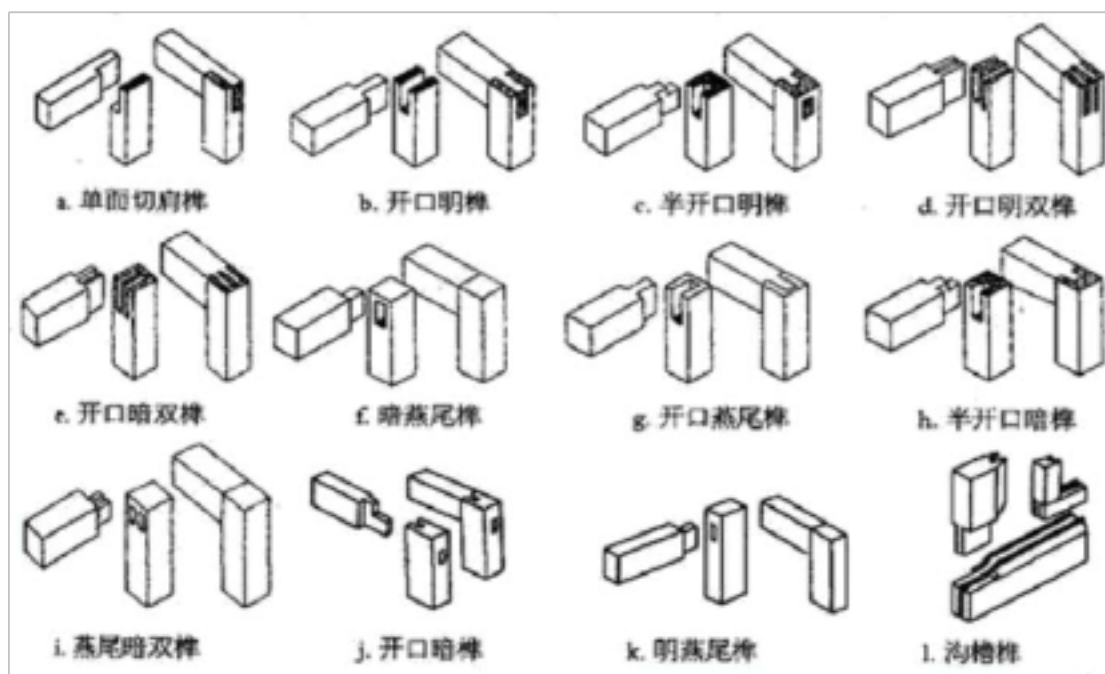

五年中考真题

近五年未考查

一年模拟新题

- （2023 年安徽省合肥市第四十二中学三模试题）农耕发明之后，原始先民慢慢地向适宜耕作的山前、低地迁移。他们告别了原先的洞穴，开始营建住所，集聚而居，形成了最初的聚落。这说明聚落形成是由于（ ）
A. 磨制石器的出现
B. 家畜饲养的出现
C. 谋生方式的变化
D. 定居生活的出现
- （2023 年安徽省合肥市瑶海区三模试题）考古学的成就是研究古代历史的重要材料，下列考古重大发现中能够证明中华有五千年文明的遗址是（ ）
A. 河南安阳的殷墟王陵
B. 河南偃师二里头遗址
C. 山西临汾的晋侯墓地
D. 浙江杭州的良渚古城
- （2023 年安徽省蚌埠市三模试题）某校学生为研究半坡居民生活的历史，搜集了以下几类资料。其中史料价值最高的是（ ）
A. 民间传说
B. 地区风俗
C. 经典文献
D. 出土文物

4. (2023 年安徽省合肥市庐江县三模试题) 浙江余姚的河姆渡房屋的木质构件, 用到了榫卯技术, 起到了固定房屋、抗压、受拉的作用。这说明当时 ()








河姆渡人的干栏式建筑复原图

- A. 原始农业已经普遍产生
- B. 黄河流域文化领先世界
- C. 原始居民具有生活智慧
- D. 农业生产工具不断革新

5. (2023 年安徽省滁州市二模试题) 1929 年 12 月 2 日, 裴文中在北京周口店发掘出北京猿人第一个完整的头盖骨化石, 定名北京猿人。该发现确立了猿人阶段的存在, 证实了达尔文关于人类起源于古猿的理论。这主要说明 ()

- A. 达尔文参与了北京人的发掘工作
- B. 裴文中是一位严谨的考古科学家
- C. 化石是研究人类起源的主要证据
- D. 传说是研究人类起源的证据之一

6. (2023 年安徽省亳州市二模试题) 以下是中国新石器时代晚期部分出土文物情况简表。由此可见, 这一时期中国文明具有 ()

代表文物	彩陶盆 	玉龙 	玉琮 	蛋壳黑陶杯 	铜镜 
分布范围	黄河中游	辽河上游	长江下游	黄河中下游	黄河上游

- A. 统一性 B. 多样性 C. 连续性 D. 复杂性

7. (2023 年安徽省淮北市二模试题) 通过北京人遗址中发现的五层面积较大、堆积较厚的灰烬, 以及烧石和烧骨等, 可以推测出当时北京人已经会使用火, 还掌握了保存火种的技术。这表明 ()

- A. 北京人遗址内涵丰富 B. 历史记载必须经过考古发现证实
C. 北京人进入农耕时代 D. 考古发现是历史研究的重要依据

8. (2023 年安徽省马鞍山市一模试题) 考古发现是研究历史的重要证据, 陕西西安半坡遗址出土的以下石器说明半坡原始居民 ()



石铲 (翻土)

石刀 (收割)

石磨盘 (谷物加工)

- A. 已从事农业生产 B. 会人工种植粟
C. 已过上定居生活 D. 会人工种植水稻

9. (2023 年安徽省合肥市蜀山区一模试题) 安徽省含山县凌家滩文化遗址有大型祭坛、祭祀坑、墓葬群、居址、壕沟等遗迹……其中墓地布局有一定规划, 不同等级、不同身份的墓葬分区排列, 随葬品有丰有寡。这主要表明 ()

- A. 淮河流域已进入文明社会 B. 私有制出现与阶级明显分化
C. 凌家滩先民崇尚祭祀文化 D. 安徽境内已经出现早期国家

10. (2023 年安徽省淮南市一模试题) 如果要考证“中国是世界农业的起源地之一”, 最可信的史料是 ()

- A. 良渚古城遗址出土的玉器 B. 炎帝教民开垦耕种, 种植五谷和蔬菜
C. 浙江余姚河姆渡水稻种子的遗存 D. 《史记》中关于农业起源的记载



考点 02 早期国家与社会变革

五年中考真题

- (2023 年安徽省中考历史真题) 商鞅主张“当时而立法，因事而制礼”，韩非认为“法与时转则治，治与世宜则有功”。据此可知，二人都主张 ()
A. 无为而治 B. 因势而变 C. 兼爱非攻 D. 尊卑有序
- (2021 年安徽省中考历史真题) 老子认为“圣人无常心，以百姓心为心”，孔子提出“节用而爱人，使民以时”。二者都主张 ()
A. 无为而治 B. 重农抑商 C. 儒道一家 D. 以民为本
- (2020 年安徽省中考历史真题) 如图是汉字“鱼”字演变的简单历程，据此可知 ()

甲骨文	周代金文	小篆	隶书	楷书

- 汉字是我国唯一文字 B. 汉字的发展一脉相承
 - 汉字的演变由简到繁 D. 汉字都来源于象形字
- (2019 年安徽省中考历史真题) 以“仁”释“礼”，力图将社会外在规范转化为个人的内在自觉，从而铺垫了中华民族文化精神根基的是 ()
A. 儒家思想 B. 道家思想 C. 墨家思想 D. 法家思想

一年模拟新题

- (2023 年安徽省合肥寿春中学三模试题) 《国语》讲：“祀，国之大事”。有学者认为，青铜器在商周时期被视为“政治的权力”。由此可推断，商周时期青铜器主要用作 ()
A. 农具 B. 礼器 C. 食具 D. 货币
- (2023 年安徽省宿州市砀山县三模试题) 提出“国之所以治者三：一曰法，二曰信，三曰权”的思想学派是 ()

- A. 道家 B. 儒家 C. 法家 D. 墨家

3. (2023年安徽省六安市三模试题) 有学者认为:“这一思想学派将法(政令)术(策略)势(权势)三者有机地结合起来,构成诸子百家中最为切实有效的政治学说。”该思想学派是()

- A. 法家 B. 道家 C. 儒家 D. 墨家

4. (2023年安徽省滁州市全椒县三模试题) 汉朝许慎在《说文解字序》中提出研究汉字形体的“六书”的理论,并举出了12个字为例证,其中绝大多数都见诸甲骨文。这说明()

- A. 汉朝就出现了甲骨文的研究 B. 汉朝时期汉字形体得到了发展
C. 甲骨文是中国已发现最早的文字 D. 甲骨文奠定了汉字发展的基础

5. (2023年安徽省淮北市三模试题) 春秋战国是中国社会的剧烈变动时期,下图的现象()



- A. 表明铁器使用普遍化 B. 源于分封制的崩溃
C. 推动新土地制度确立 D. 导致土地兼并盛行

6. (2023年安徽省滁州市三模试题) 《汉书·艺文志》在描述诸子百家“其言相殊,辟犹水火”后,不忘加上一句“相灭亦相生”。这说明()

- A. 道家学派借鉴了儒家的教育思想 B. 各学派之间相互影响、取长补短
C. 各学派思想一致,政治观点不同 D. 墨家学说对其他学派有深刻影响

7. (2023年安徽省滁州市凤阳县三模试题) 春秋时期,庶民墓中多使用日用陶器随葬,到战国时,部分庶民墓中开始使用一鼎、二鼎或成套的陶鼎礼器随葬。这可以说明()

- A. 权贵阶层的出现 B. 礼乐制度的松动
C. 变法运动的兴起 D. 国家统一的奠定

8. (2023年安徽省安庆市二模试题) 据考古发现,甲骨文中各种农作物的名称,如稻、麦、黍、稷等。据此可知,甲骨文()

- A. 是最早的成熟文字系统 B. 是中华文化的精神图腾
C. 反映商朝农业发展状况 D. 佐证夏朝进入农业社会

9. (2023年安徽省淮南市二模试题) 《国语·晋语》载:“宗庙之牺(祭品,指牛),为默亩之勤(劳力)。”材

料现象说明了（ ）

- A. 生态保护的重视
- B. 私有财产的出现
- C. 生产方式的变革
- D. 兼并战争的影响

10. (2023 年安徽省滁州市来安县二模试题) “大封同姓子弟、功臣及古帝王之后，让他们在自己的诸侯国内享有一定的特权，能够按照自己的想法进行各方面的建设。”材料反映的是（ ）

- A. 禅让制
- B. 郡县制
- C. 分封制
- D. 科举制

11. (2023 年安徽省池州市二模试题) 中华优秀传统文化蕴含治国理政的政治智慧。党的二十大报告再次强调：“江山就是人民，人民就是江山”。战国时期与这一理念最为相近的思想主张是（ ）

- A. 治大国，若烹小鲜。——《道德经》
- B. 民为贵，社稷次之，君为轻。——《孟子》
- C. 无言而不信，不德而不报。投我以桃，报之以李。——《墨子》
- D. 并蛙不可语海，夏虫不可语冰。——《庄子》

12. (2023 年安徽省安庆市二模试题) 框内是某同学整理的中国古代史笔记，据此可知，他学习的主题是（ ）

良渚古城遗址

世袭制取代禅让制

二里头遗址考古

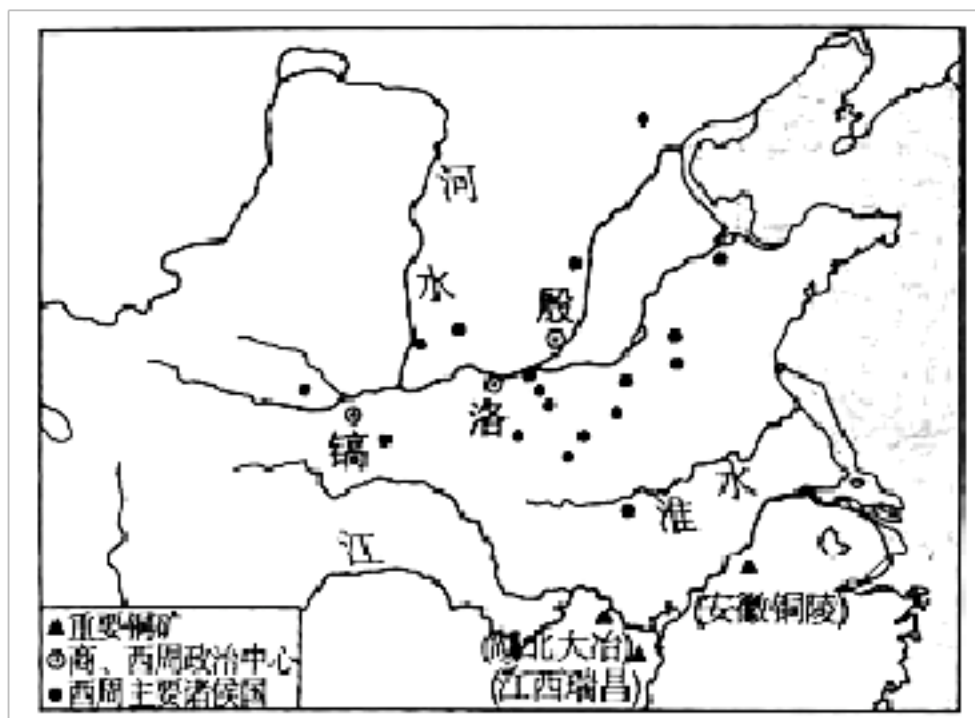
分封制与宗法制

- A. 华夏民族的形成
- B. 早期国家的产生
- C. 统一多民族国家建立
- D. 中央集权制度的加强

13. (2023 年安徽省合肥市包河区二模试题) 战国时期，儒墨并称“世之显学”。孟子主张“亲亲而仁民，仁民而爱物”，墨子强调“兼相爱，交相利”。这反映二者思想的共同点是（ ）

- A. 主张尊重自然规律
- B. 主张义利并重
- C. 具有民本思想倾向
- D. 追求国家统一

14. (2023 年安徽省宿州市二模试题) 据下图可知，商、西周时期的政治中心和诸侯国主要在黄河流域，青铜器铸造中心则在长江流域，这种局面（ ）



- A. 推动了经济重心的南移
- B. 反映出分封制开始瓦解
- C. 反映了南北方联系加强
- D. 推动了政治中心的南移

15. (2023 年安徽省黄山市一模试题) 老子认为“民之饥，以其上食税之多，是以饥”，孔子提出“古之为政，爱人为大”。二者都主张 ()

- A. 无为而治
- B. 以民为本
- C. 轻徭薄赋
- D. 儒道一家



考点 03 统一多民族国家的建立与巩固

五年中考真题

1. (2022 年安徽省中考历史真题) 有学者认为：“从春秋到战国是一变，但这尚是小变。从战国到秦却是一大变。”从制度变革的角度理解这句话，此“一大变”是指 ()
 - A. 世袭制取代禅让制
 - B. 分封制取代世袭制
 - C. 郡县制取代分封制
 - D. 行省制取代郡县制
2. (2021 年安徽省中考历史真题) 下图反映了西汉封国形势的变化，出现这一变化的主要原因是 ()



- A. 刺史制度的确立
B. “推恩令”的实施
C. 七国之乱的发生
D. 休养生息政策的推行
3. (2020年安徽省中考历史真题) 据《史记》载：“明法度，定律令，皆以始皇起。”这说明（ ）
- A. 秦朝法律影响后世
B. 法治思想始于秦朝
C. 秦朝实行严刑峻法
D. 法律助推秦灭六国
4. (2019年安徽省中考历史真题) 汉初的封国有王、侯两级。王国名义上受朝廷节制，但皇权不能施行于王国所属的郡县。侯国建制与县相当，直属朝廷。由此可见，汉武帝颁布“推恩令”、加强中央集权主要针对（ ）
- A. 王国 B. 侯国 C. 郡 D. 县

一年模拟新题

1. (2023年安徽省合肥市第四十二中学三模试题) 《史记·平准书》载：“敢私铸铁器煮盐者，赀左趾，没人其器物左趾，没人其器物”。项规定（ ）
- A. 增加了西汉政府财政收入
B. 充实了汉政府官僚机构
C. 推动了汉朝冶铁技术发展
D. 使铸币权收归中央政府
2. (2023年安徽省合肥市瑶海区三模试题) 汉代的一位郎官因其创建的事业与其坚韧不拔的精神，于今日名闻世界，被史地学者称为东方哥伦布。这位郎官是（ ）
- A. 张骞 B. 甘英 C. 霍去病 D. 班超
3. (2023年安徽省六安市三模试题) 1957年，西安灞桥出土了西汉时期的麻纸，还不便于书写。1974年，甘肃省出土了一批东汉纸，纸上残存文字墨迹，可辨出“青贝”等字。这反映出（ ）

- A. 造纸术在汉代得到广泛推广
- B. 汉代造纸技术发展进步
- C. 东汉纸已成为主要书写材料
- D. 我国最早的纸出现于东汉

4. (2023 年安徽省合肥市琥珀中学三模试题) 汉武帝即位之初, 面临着“王国问题”“相权太盛”“思想混乱”等诸多问题。这些问题表明汉武帝在位初期施政的核心目标是 ()

- A. 发展经济
- B. 强化皇权
- C. 统一思想
- D. 保障民生

5. (2023 年安徽省蚌埠市三模试题) 唐代诗人李白在其诗歌《胡无人》中写道: “严风吹霜海草凋, 筋干精坚胡马骄。汉家战士三十万, 将军兼领霍嫫姚。” 这首诗歌颂的汉代将军是 ()

- A. 李广
- B. 张骞
- C. 霍去病
- D. 班超

6. (2023 年安徽省滁州市凤阳县三模试题) 汉代通西域后, 汉代诗赋中出现大量的西域物象, 如《蜚蝶行》中提到苜蓿、朱穆作《郁金赋》; 西域音乐长短不一, 实开我国杂言诗之先河。这反映了 ()

- A. 中原与西域文化的交融
- B. 西域物产丰富多样
- C. 西域正式归属中央政权
- D. 汉代商业贸易繁荣

7. (2023 年安徽省合肥市庐江县三模试题) 《汉书·食货志》载: “汉兴, 接秦之敝, 诸侯并起, 民失作业而大饥馑。” 这反映出 ()

- A. 汉初社会经济凋散
- B. 文景之治盛世现象
- C. 汉武帝时秩序稳定
- D. 推恩令颁布的原因

8. (2023 年安徽省芜湖市无为市三模试题) 考证文物是研究历史的重要手段。从下图三块汉代瓦当的考证中, 我们能够获取的信息是 ()



- A. 西汉手工业非常发达
- B. 小篆文字出现于两汉
- C. 汉朝大一统局面形成
- D. 丝绸之路的成功开辟

9. (2023 年安徽省滁州市来安县二模试题) 秦始皇把商鞅变法时制定的度量衡推行到全国; 规定以秦国的半两铜钱为统一的货币, 废除了各种其他形制的铜币; 又令李斯等人制作小篆, 通令全国使用。这些举措……

- ()
- A. 促进了中外交流
- B. 使儒学独尊
- C. 削弱了诸侯国势力
- D. 有利于巩固统一

10. (2023 年安徽省合肥市瑶海区二模试题) “公元 581 年至 960 年, 这 380 年是中国古代制度继续发展并

达到繁荣昌盛的时期，亦即是中国古代社会的第二个鼎盛时期。社会宏大的格局、开放的气势、壮阔的场面，为历朝历代所无法比拟。在当时的世界上，中国处于发展的前列，是最文明先进、最繁荣发达、最富庶强大的国家”，下列对材料中“鼎盛时期”描述有误的是：（ ）

- A. 建立并完善“三省六部制”
- B. 开创了选贤任能的“科举制”
- C. 开凿贯通南北的“大运河”
- D. 开发连贯中外的“丝绸之路”

11. (2023年安徽省池州市二模试题)司马迁在《史记》中有一段描述：“诸侯稍微，大国不过十余城，小侯不过数十里，上足以奉供职，下足以供养祭祀，以蕃辅京师。而今郡八九十，形错诸侯间，牙相邻……强本干，弱枝叶之势，尊卑明而万事各得其所”。这段话反映了司马迁（ ）

- A. 赞扬西周初年分封天下的盛况
- B. 赞扬了西汉初年的郡国并行制
- C. 对西汉推恩令的效果持肯定态度
- D. 否定了汉朝的郡国并行制

12. (2023年安徽省安庆市二模试题)据《汉书》载，西域都护统管西域诸国，各国“自译长、域长、君、监、吏、大禄、长、千长、都尉、且渠、当户、将、相至侯王，皆佩汉印绶”。这表明西域都护府的设立（ ）

- A. 有利于丝绸之路的开辟
- B. 标志西域纳入汉朝版图
- C. 加强中央对西藏的管辖
- D. 杜绝西域诸国军事冲突

13. (2023年安徽省合肥市包河区二模试题)考古发现，秦朝陵墓中如青铜马车、真人大小的陶俑与汉初帝王的陪葬品中相比，青铜器都不多见，陶俑的种类种类变成了家禽或家畜，人俑更是缩小到了数寸大小。这反映了汉初（ ）

- A. 彻底摒弃秦朝的政治制度
- B. 诸侯王严重威胁中央力量
- C. “休养生息”的治国理念
- D. “光武中兴”的政治局面

14. (2023年安徽省宿州市二模试题)汉景帝改丞相为相，裁撤御史大夫、廷尉；汉武帝改太仆(秩两千石)为仆(秩千石)；汉成帝时期，令相治民，与郡太守无异。据此可知，西汉统治者调整职官的意图是（ ）

- A. 加强中央集权
- B. 精简地方机构
- C. 节约中央财政
- D. 废除郡国体制

15. (2023年安徽省滁州市二模试题)“今诸侯或连城数十，地方千里……以法割削之，则逆节萌起，前日晁错是也。”为解决这一问题汉武帝（ ）

- A. 采纳了主父偃“推恩”的建议
- B. 实行盐铁专卖
- C. 采纳了董仲舒“罢黜百家，独尊儒术”的建议
- D. 派张骞出使西域



考点 04 政权分立与民族交融

以上内容仅为本文档的试下载部分，为可阅读页数的一半内容。如要下载或阅读全文，请访问：<https://d.book118.com/188134070104006031>