

# 2024年上外版八年级地理下册阶段测试试卷127

## 考试试卷

考试范围：全部知识点；考试时间：120分钟

学校：\_\_\_\_\_ 姓名：\_\_\_\_\_ 班级：\_\_\_\_\_ 考号：\_\_\_\_\_

### 总分栏

题号	一	二	三	四	五	六	总分
得分							

评卷人	得分

### 一、选择题(共8题，共16分)

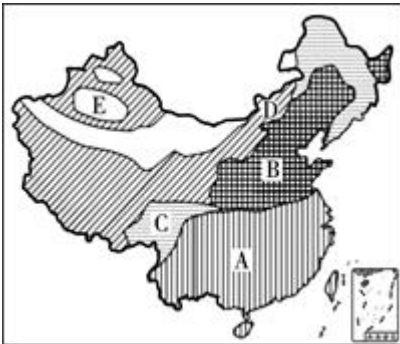
1、

长江与黄河的相似之处在于（ ）

- A. 水土保持的重点都在上游
- B. 均为我国东西水上交通大动脉
- C. 冲积成的平原均在下游
- D. 都有丰富的水能

2、

读我国主要土地类型分布图，可知我国土地资源多样，其中表示错误的是（）



- A. 我国耕地主要分布在A；B两地，其中A以水田种植为主，B以旱地种植为主。
- B. C表示为我国森林资源；主要分布在东北及西南地区。
- C. D有大量的草原是我国畜牧业的主要分布区。





D. E位于我国西部，风景秀丽，有“鱼米之乡”的称号

3、

下列货物的输出，选择的交通运输方式正确的是（ ）

- A. 十万吨煤炭从秦皇岛到上海选择海运输
- B. 一万吨大米从武汉运往南京选择空运
- C. 五万吨钢材从重庆运往昆明选择公路运
- D. 两箱急救药品从北京到广州选择铁路运输

4、秦岭--淮河是我国哪一条等降水量线通过的地区（ ）

- A. 200mm
- B. 400mm
- C. 800mm
- D. 1600mm

5、当黑龙江还是冰天雪地时，海南岛却是农忙插秧时节，造成这种差异的主要原因是（ ）

- A. 我国所处纬度高
- B. 地形起伏大
- C. 离海远近不同
- D. 我国跨纬度大

6、我国幅员辽阔，各地经济活动特色鲜明。读我国不同地区的农业生产场景图，四幅图片中，反映我国北方地区农业生产活动的是（ ）



吐鲁番农民采摘葡萄



烟台收获苹果



牧民在剪羊毛




藏民青稞脱粒

7、我国人口最多的少数民族是下列中的：（ ）

- A. 维吾尔族
- B. 壮族
- C. 蒙古族
- D. 藏族

8、

读我国沿北纬32°地形剖面图（如图），完成8-9题



关于我国地形对地理环境和人类活动影响的叙述，正确的是（ ）

- A. 我国地形复杂多样，有利于粮食作物生长
- B. 地势西高东低，利于中西部地区形成丰富降水
- C. 我国山区面积广大，为林业、牧业提供有利条件
- D. 受地形地势影响，我国河流多自西向东流入印度洋

评卷人	得分

二、多选题(共8题，共16分)

9、影响我国南北气温和东西降水差别大的主要因素分别是（ ）

- A. 纬度。
- B. 地形。
- C. 海陆。
- D. 地势。

10、珠江三角洲地区对外开放的有利因素是：（ ）

- A. 珠江三角洲位于广东省东南部，珠江下游，靠近港澳和东南亚，交通便利
- B. 许多地方是侨乡
- C. 这里平原广阔，水网密布，自然资源丰富，人口众多，经济发达
- D.

珠江三角洲地区有一个包括经济特区、沿海开放城市、经济开放区在内的多层次的开放体系，享有发展经济的优惠政策

11、导致两城市气候差异的影响因素主要是（ ）

- A. 纬度位置
- B. 距海远近
- C. 地形
- D. 地面状况

12、对下列民族政策的理解；正确的是（ ）

- A. 各民族不论人口多少；一律平等。
- B. 国家推广普通话；少数民族的特色语言应废止。
- C. 对少数民族的宗教习惯；应逐渐加以限制和取消。
- D. 国家尊重各少数民族的风俗习惯。

13、下列曲艺剧种发源于陕西省的是（ ）

- A. 豫剧。
- B. 秦腔。
- C. 安塞腰鼓。
- D. 黄梅戏。

14、下列景观图位于黄土高原的有：



A “水乡”



B 窑洞



C 马车



D 龙舟赛

15、【题文】关于我国地理位置优越性，正确的是：

- A. 我国与蒙古相比，是个海陆兼备的国家
- B. 我国与俄罗斯比，我国气候更加寒冷
- C. 我国与巴西比，我国既可种植温带作物，也可种植热带作物
- D. 我国与日本比，气候受海洋的影响更大

16、

冬季我国南北温差大的主要原因是（ ）

- A. 纬度位置的影响
- B. 地形的影响
- C. 冬季风的影响
- D. 洋流的影响

评卷人	得分

三、填空题(共8题，共16分)

17、

【题文】目前，我国的省级行政单位共有\_\_\_\_\_个，其中包括\_\_\_\_\_个省、\_\_\_\_\_个自治区、\_\_\_\_\_个直辖市和\_\_\_\_\_个特别行政区。

18、香港是由新界、\_\_\_\_\_和香港岛三部分及周围二百多个岛屿组成。



loading...

19、

我国冬季气温南北温差大，越向南气温就越\_\_\_\_\_，夏季南北普遍\_\_\_\_\_。

20、我国人口密度分界线大致经过黑龙江省的\_\_\_\_\_和云南省的\_\_\_\_\_。

21、读长江流域图，回答下列问题。（8分）



- (1) 长江发源于\_\_\_\_\_山脉，流经青藏高原、云贵高原、\_\_\_\_\_盆地、长江中下游平原，最终注入\_\_\_\_\_海。
- (2) 长江有“水能宝库”之称，水能资源主要集中在\_\_\_\_\_河段。
- (3) 城市A是\_\_\_\_\_；城市B是武汉，它位于长江最长支流\_\_\_\_\_（河流）与干流的交汇点。

- (4) 鄱阳湖与长江干流的交汇点是\_\_\_\_\_（地名），它是长江中、下游的分界。  
 (5) 三峡水利枢纽工程位于长江的上游，该工程具有\_\_\_\_\_等效益。

22、我国除台湾省是岛屿外，还有一个为省级行政单拉的岛屿是\_\_\_\_\_。

23、填出图中序号所代表的地理事物名称：



- (1) 山脉：①\_\_\_\_\_②\_\_\_\_\_③\_\_\_\_\_  
 河流：④\_\_\_\_\_  
 地形区：⑤\_\_\_\_\_盆⑥\_\_\_\_\_高原⑨\_\_\_\_\_平原。  
 省级行政区：⑦\_\_\_\_\_⑧\_\_\_\_\_⑩\_\_\_\_\_

(2)填出图中字母所代表的地理事物名称：

A\_\_\_\_\_（国家），B\_\_\_\_\_（国家），C\_\_\_\_\_海，D\_\_\_\_\_海峡，E\_\_\_\_\_海，F\_\_\_\_\_岛。

24、  
 我国陆地总面积约\_\_\_\_\_万平方千米，仅次于\_\_\_\_\_和\_\_\_\_\_（国家）。

评卷人	得分

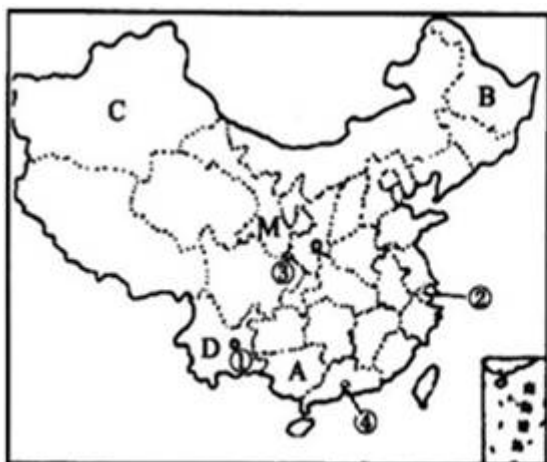
#### 四、判断题(共1题，共4分)

25、东北地区的城市集中在交通干线沿线地区（ ）（判断对错）

评卷人	得分

#### 五、材料题(共2题，共10分)

- 26、材料一：2010年以来，西南地区持续干旱，受旱面积占到全国的83%，这是西南五省市百年一遇的特大旱灾。截至3月30日，中国耕地受旱面积1.16亿亩，有2425万人、1584万头大牲畜因旱饮水困难。  
 材料二：2008年中国第一条具有世界先进水平的高速铁路—京沪高速铁路正式开工建设。  
 材料三：第十六届亚运会于2010年11月12日至27日在我国广州市成功举办。  
 材料四：中国政区图和京沪高铁路线图



中国政区图



京沪高铁路线图

(1)

2010年西南地区旱灾发生的省区主要有川、滇、黔、渝、桂等省区。其中\_\_\_省（填全称）少数民族最多，在图中的字母是\_\_\_。

(2)\_\_\_族是我国人口最多的少数民族，主要分布在\_省区(填字母)。

(3)在中国政区图上的①②③④四个城市中，2010年举办亚运会城市\_\_\_（填数字）

(4)张敏想去我国日出最早的地方旅游，最好到ABCD四省中的\_\_\_省区(填字母)。

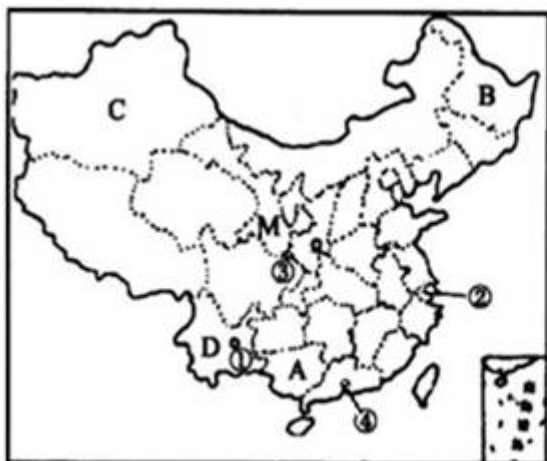
(5)京沪高速铁路沿途经过的直辖市有\_\_\_个，既临渤海又临黄海的是\_\_\_省。

27、材料一：2010年以来，西南地区持续干旱，受旱面积占到全国的83%，这是西南五省市百年一遇的特大旱灾。截至3月30日，中国耕地受旱面积1.16亿亩，有2425万人、1584万头大牲畜因旱饮水困难。

材料二：2008年中国第一条具有世界先进水平的高速铁路—京沪高速铁路正式开工建设。

材料三：第十六届亚运会于2010年11月12日至27日在我国广州市成功举办。

材料四：中国政区图和京沪高铁路线图



中国政区图



京沪高铁路线图

(1)

2010年西南地区旱灾发生的省区主要有川、滇、黔、渝、桂等省区。其中\_\_\_省（填全称）少数民族最多，在图中的字母是\_\_\_。

(2)\_\_\_族是我国人口最多的少数民族，主要分布在\_省区(填字母)。

(3)在中国政区图上的①②③④四个城市中，2010年举办亚运会城市\_\_\_（填数字）

(4)张敏想去我国日出最早的地方旅游，最好到ABCD四省中的\_\_\_省区(填字母)。

(5)京沪高速铁路沿途经过的直辖市有\_\_\_个，既临渤海又临黄海的是\_\_\_省。

评卷人	得分

六、综合题(共4题, 共32分)

28、

读图; 回答下列问题:

(1) 填写特别行政区名称:

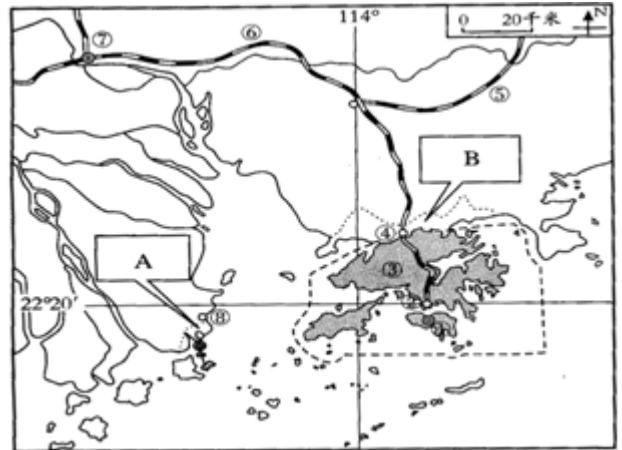
A: \_\_\_\_\_

B: \_\_\_\_\_

(2) 城市⑦ \_\_\_\_\_

铁路⑤ \_\_\_\_\_

(3) 我国有四大工业基地, 图中显示的是 \_\_\_\_\_ 工业基地.

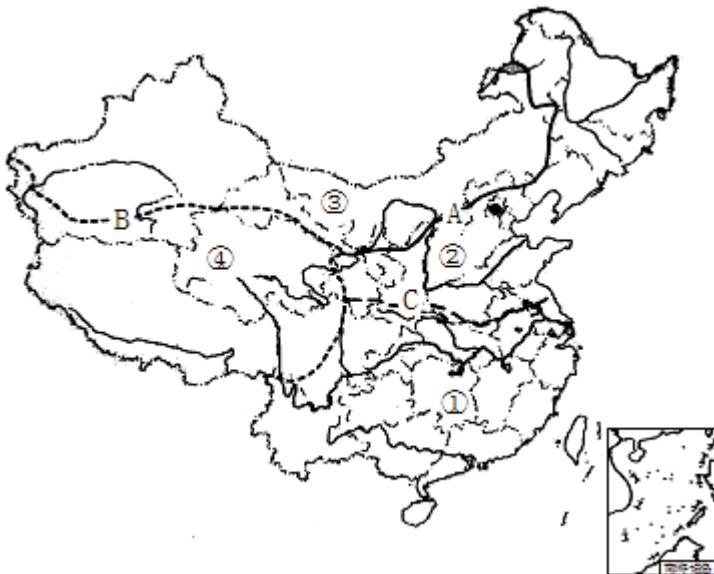


29、

将下列山脉与其四周的地形单元对应连线:

- |          |         |
|----------|---------|
| ① 巫山西侧   | A、东北平原  |
| ② 大兴安岭东侧 | B、四川盆地  |
| ③ 昆仑山南侧  | C、准噶尔盆地 |
| ④ 横断山东侧  | D、青藏高原  |
| ⑤ 天山北侧   | E、云贵高原  |

30、读图; 根据所学过的知识回答问题。



(1) 界线A大致与 \_\_\_\_\_ 等降水量线相接近; 也是我国农业的 \_\_\_\_\_ 和 \_\_\_\_\_ 的重要界线.

(2

) 界线C大致与1月 \_\_\_\_\_ 等温线相吻合; 大致与 \_\_\_\_\_ 等降水量线最接近, 也是我国 \_\_\_\_\_ 和 \_\_\_\_\_ 地区的重要分界线.

(3) 界线B是我国地势\_\_\_\_\_与\_\_\_\_\_的分界线，这条界线上有一系列高大雄伟的山脉，自西北向东南依次为\_\_\_\_\_、阿尔金山脉、祁连山和\_\_\_\_\_。

31、

将下列省区域其称号用直线连接起来。

- |       |        |
|-------|--------|
| A. 绵阳 | ①祖国的心脏 |
| B. 新疆 | ②西部硅谷  |
| C. 北京 | ③三峡两盆  |
| D. 香港 | ④海上米仓  |
| E. 台湾 | ⑤东方明珠  |

## 参考答案

### 一、选择题(共8题，共16分)

1、D

【分析】

解：长江上游地区乱砍滥伐；植被破坏严重，因此长江水土保持的重点在上游，而黄河中游流经水土流失严重的黄土高原地区，水土保持的重点在中游，故A错误；

长江水量丰富；航运发达，而黄河却因水量少而多次发生断流，航运并不发达，故B错误；

长江冲积的平原位于中下游地区；黄河冲积的平原如华北平原位于黄河下游地区，而河套平原和宁夏平原位于黄河的上游，故C错误；

长江；黄河都流经我国阶梯交界处；河流落差大，水能资源丰富，故D正确。

故选：D。

长江源自唐古拉山；干流先后流经青海；西藏等11个省区，最终注入东海，全长6300千米，是我国第一长河。黄河源自巴颜喀拉山，流经青海、四川等9省区，注入渤海。

本题考查的是长江和黄河两条河流的概况。

【解析】

D

2、D

【分析】

---

本题主要考查了我国土地资源的分布。由我国主要土地类型分布图可知，我国耕地主要分布在A B两地，其中A以水田种植为主，B以旱地种植为主，A对；C表示为我国森林资源，主要分布在东北、西南及东南地区，B对；我国草地主要分布在D地，D是由于草原面积广大，是我国畜牧业的主要分布区，C对；E位于我国西部内陆地区，降水稀少，“鱼米之乡”是指我国东部风景秀丽的长江中下游平原，D错。故选D。

【解析】

D

3、A

【分析】

解：A；十万吨煤炭从秦皇岛到上海选择海运是正确的；

B；一万吨大米从武汉运往南京应选择长江航线进行水运；

C；五万吨钢材从重庆运往昆明应选择铁路运输。

D；两箱急救药品从北京到广州；时间紧迫应该选择航空运输；

故选：A。

依据各种交通运输方式的特点；根据不同的运输情况选择合适的运输方式。公路运输机动灵活；可以从门口到门口，价格适中，适合短距离运输；航空运输速度快、但是运量小，价格高，适合急需情况的长途运输；铁路运输速度较快、运量较大，运价适中，适合运量较大的长途运输；水上运输运量大、运价低，但是速度慢、受地域的限制，适合两海港之间较大运量的长途运输；管道运输在地下，一般适合长距离输送石油、天然气、水。

本题考查了各种运输方式的特点，基础题，难度小。

【解析】

A

4、C

【分析】

解：秦岭--

淮河是我国800mm等降水线通过的地方；温度带中；暖温带与亚热带分界线；干湿地区中，湿润区与半湿润区分界线。

---

以上内容仅为本文档的试下载部分，为可阅读页数的一半内容。如要下载或阅读全文，请访问：<https://d.book118.com/196143010124011012>