

第三、四单元综合素质达标



一、我聪明，我会填。(每空1分，共20分)

1. 早晨，太阳从我背后升起，我的右面是(北)方，左面是(南)方，前面是(西)方。
2. 你和龙龙面对面站立，如果龙龙面向西北方，那么你面向(东南)方。
3. 刮东北风时，彩旗向(西南)方飘。

4. 64 是2 的(**32**)倍, 是(**16**)的4 倍, 是(**8**)的
(**8**)倍。(后两空答案不唯一)

5. 38 除以3 的商是(**12**), 余数是(**2**)。

6. $3 \div 4 \square$ 的商是两位数, \square 里可以填(**4, 5, 6, 7, 8**
或9)。 $62 \div \square$ 的商是一位数, \square 里可以填(**7, 8 或9**)。

7. $\square 2 \div 4$ 的商是两位数且没有余数, \square 里最大能填(
) , **9** 最小能填()。 **5**

8. 找规律填空。

(1) 1, 4, 16, 64, (256), (1024)。

(2) 96, 48, 24, (12), (6), (3)。

二、我自信，我会选。(把正确答案的字母填在括号里)

(每小题2分，共10分)

1. 从90里面连续减去5，要减(**A**)次才能得5。

A. 17

B. 18

C. 19

2. 王老师拿来54块巧克力，平均分给3个组，每个组分得多少块巧克力？用竖式计算如图所示，竖式中的

“1”表示(**B**)。

A. 每组分得1块

B. 每组分得10块

C. 已经分了10块

$$\begin{array}{r} 18 \\ 3 \overline{) 54} \\ \underline{3} \\ 24 \\ \underline{24} \\ 0 \end{array}$$

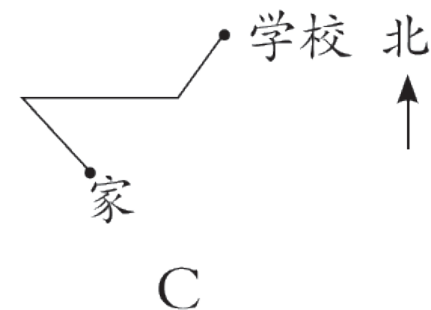
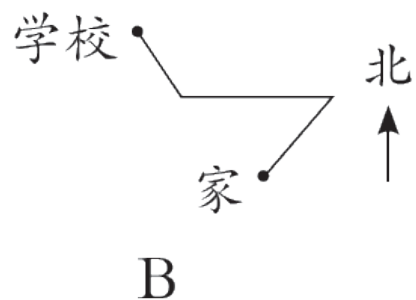
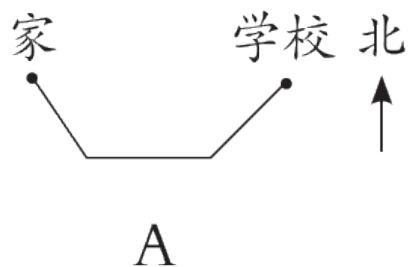
3. 要使 $43 \div \star$ 的商的末尾有一个0, \star 可以是(**A**)。

A. 4

B. 1 ~ 3

C. 1 ~ 5

4. 聪聪从家出发，先向西北走了一段路，再向东走了一段路，然后向东北走了一段路才到学校。聪聪走的路线是()。



5. 某公司有44吨货物需要运走，每辆货车一次最多可以运3吨，至少需要(**B**)辆这样的货车才能把这些货物一次运走。

A. 14

B. 15

C. 16

三、我细心，我会算。(共24分)

1. 直接写出得数。(6分)

$$\begin{array}{cccc} 56 \div 7 = 8 & 32 \div 4 = 8 & 20 \div 5 = 4 & 45 \div 9 = 5 \\ 48 \div 8 = 6 & 18 \div 3 = 6 & 42 \div 7 = 6 & 84 \div 4 = 21 \\ 30 \times 5 = 150 & 13 \times 3 = 39 & 50 \times 4 = 200 & 80 \times 7 = 560 \end{array}$$

2. 用竖式计算。(12分)

$$75 \div 5 = 15$$

$$\begin{array}{r} 15 \\ 5 \overline{) 75} \\ \underline{5} \\ 25 \\ \underline{25} \\ 0 \end{array}$$

$$50 \div 4 = 12 \dots 2 \quad 46 \div 3 = 15 \dots 1$$

$$\begin{array}{r} 12 \\ 4 \overline{) 50} \\ \underline{4} \\ 10 \\ \underline{8} \\ 2 \end{array}$$

$$\begin{array}{r} 15 \\ 3 \overline{) 46} \\ \underline{3} \\ 16 \\ \underline{15} \\ 1 \end{array}$$

$$78 \div 6 = 13$$

$$\begin{array}{r} 13 \\ 6 \overline{) 78} \\ \underline{6} \\ 18 \\ \underline{18} \\ 0 \end{array}$$

$$92 \div 7 = 13 \dots 1 \quad 85 \div 6 = 14 \dots 1$$

$$\begin{array}{r} 13 \\ 7 \overline{) 92} \\ \underline{7} \\ 22 \\ \underline{21} \\ 1 \end{array}$$

$$\begin{array}{r} 14 \\ 6 \overline{) 85} \\ \underline{6} \\ 25 \\ \underline{24} \\ 1 \end{array}$$

以上内容仅为本文档的试下载部分，为可阅读页数的一半内容。如要下载或阅读全文，请访问：
<https://d.book118.com/198041017032006102>