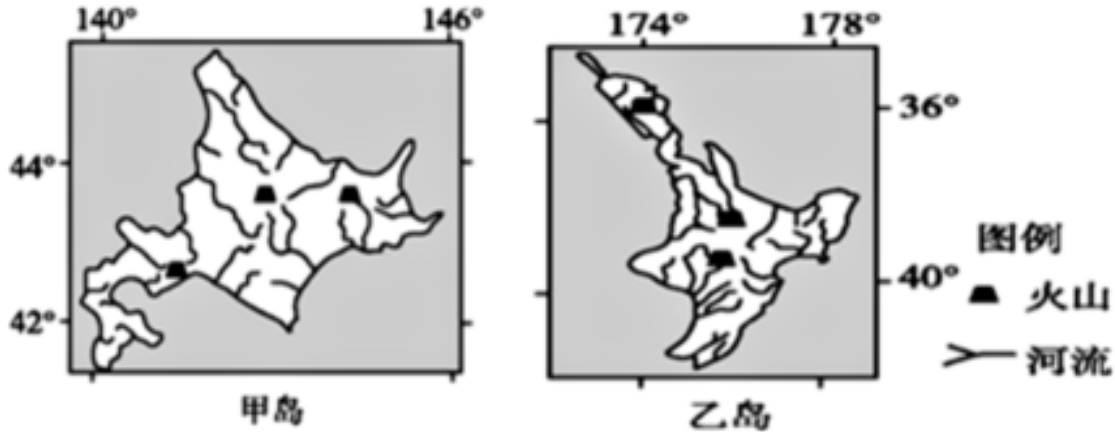


2019-2020学年福建省福州市八县一中高二（下）期中地理试卷

单选题

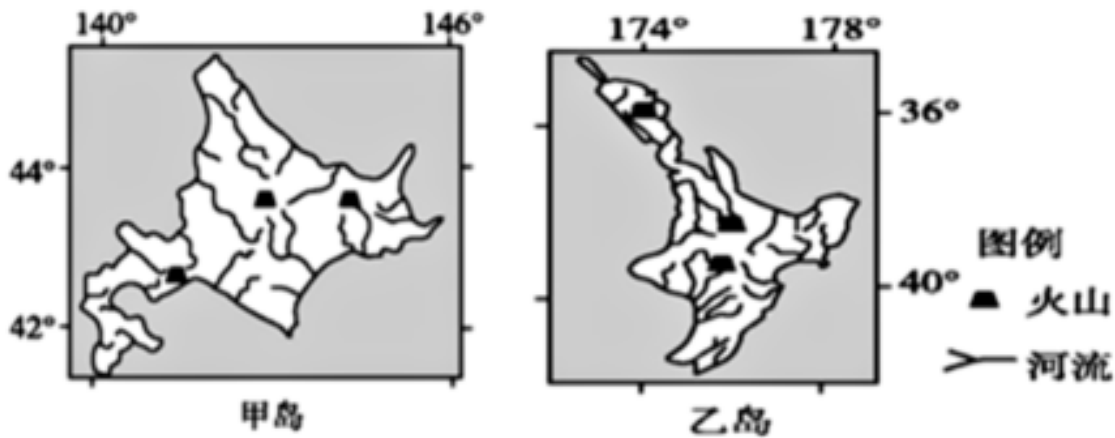
1. (2分) 如图为甲、乙两岛示意图。读图回答1~3题。



图中()

- A. 甲、乙两岛均位于东半球
- B. 甲岛位于乙岛东北方向
- C. 甲岛的南北距离比乙岛大
- D. 甲乙两岛均位于太平洋中

2. (2分) 如图为甲、乙两岛示意图。读图回答1~3题。

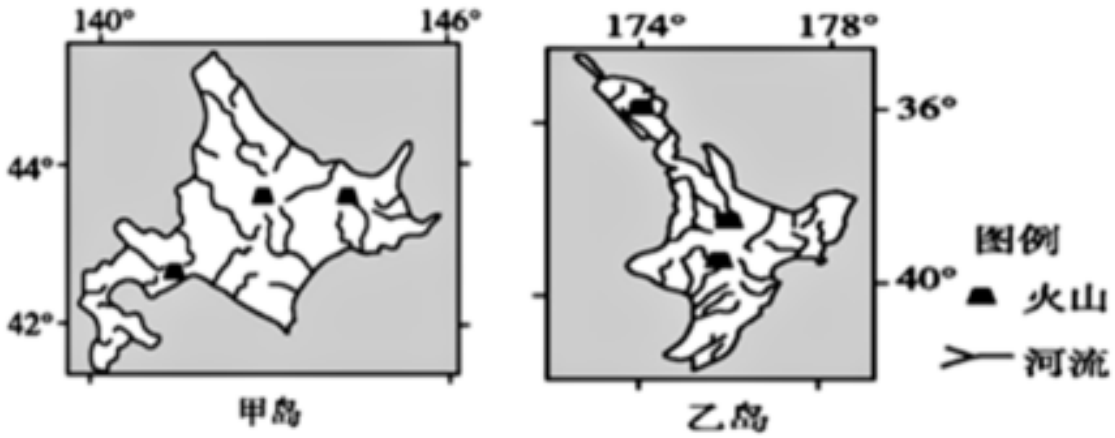


甲、乙两岛的共同特征是()

- ①终年盛行西北风
- ②地形类型为盆地
- ③河流流程比较短
- ④地热资源较丰富

- A. ①② B. ③④ C. ①③ D. ②④

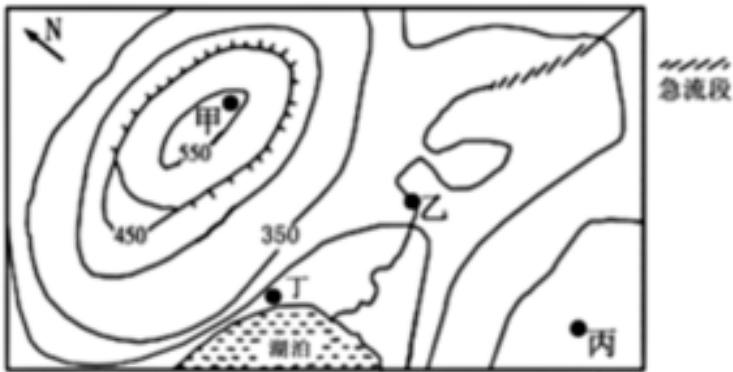
3. (2分) 如图为甲、乙两岛示意图。读图回答1~3题。



下列叙述正确的是()

- A. 甲岛的人口密度由东南向西北逐渐递增 B. 甲岛以阳光海滩、椰林风光闻名
C. 乙岛西南海域为世界四大著名渔场之一 D. 乙岛对外交通方式为航空和海运

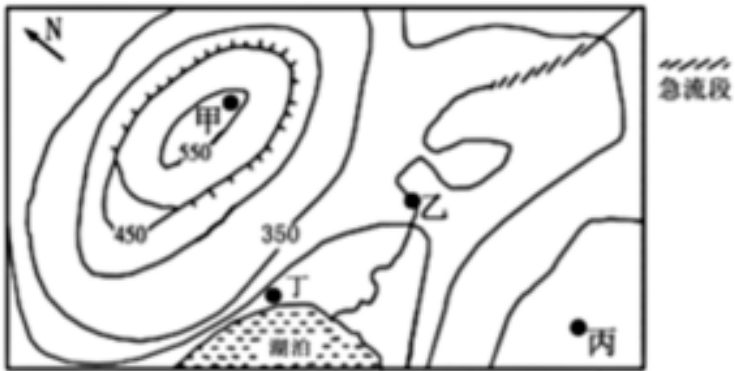
4. (2分) 如图为我国某景区等高线地形图，读图完成4~5题。



图中的陡崖，从崖底到崖顶的相对高度可能是()

- A. 40m B. 80m C. 150m D. 170m

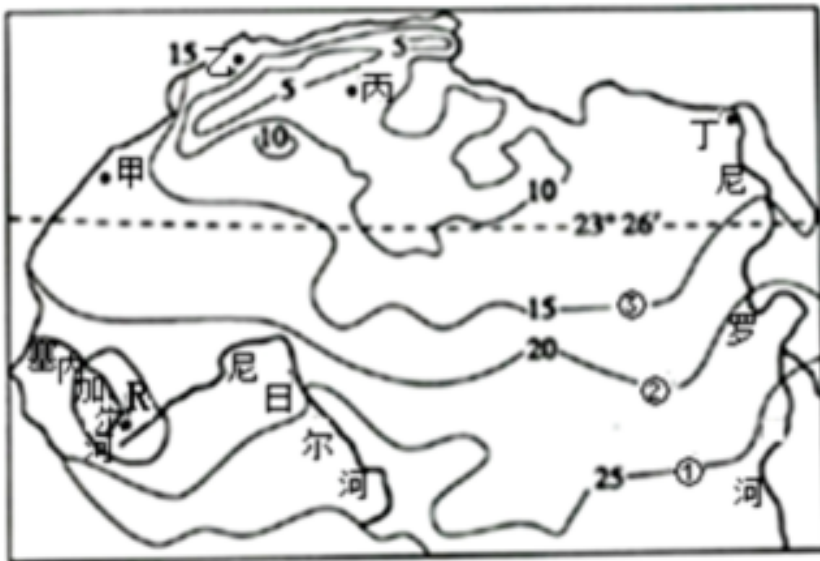
5. (2分) 如图为我国某景区等高线地形图，读图完成4~5题。



某日一登山旅行者到达甲处观察到的现象最可信的是()

- A. 可看到湖畔丁处游人戏水
- B. 发现山顶处悬崖峭壁林立
- C. 发现丙所在方位地势最低
- D. 急流段的漂流者向西漂去

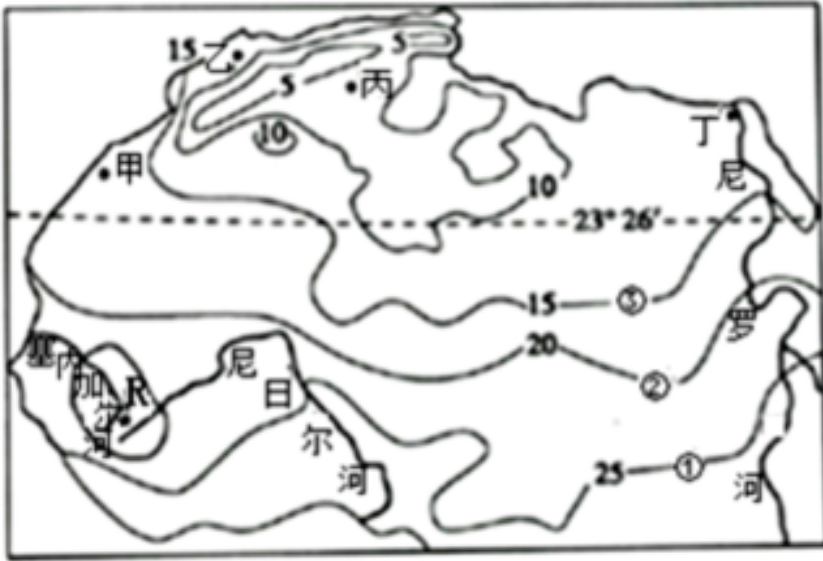
6. (2分) 如图为非洲大陆局部区域某月份平均气温(单位: °C)分布图, 读图回答6~8题。



影响图中①②③三条等温线基本走向及数值递变的主导因素是()

- A. 地形
- B. 洋流
- C. 海陆位置
- D. 纬度

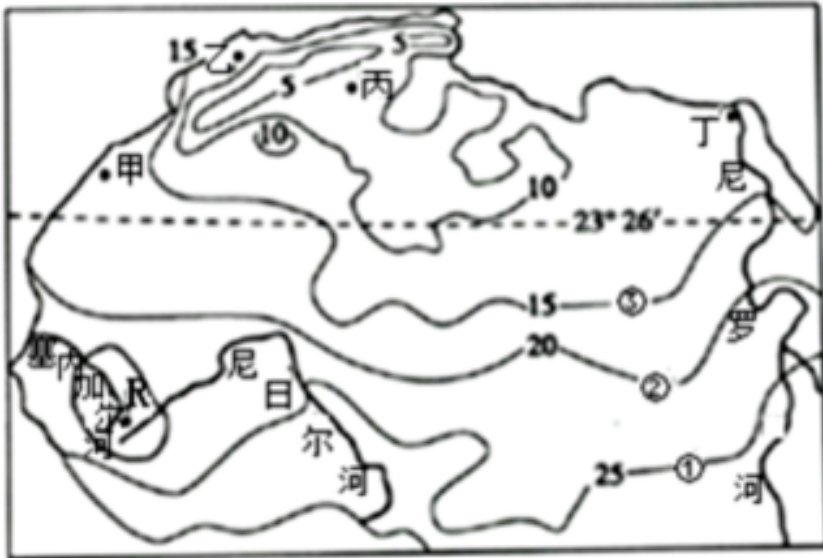
7. (2分) 如图为非洲大陆局部区域某月份平均气温(单位: °C)分布图, 读图回答6~8题。



图中B地的气温数值，最可能是()

- A. 13 B. 16 C. 20 D. 23

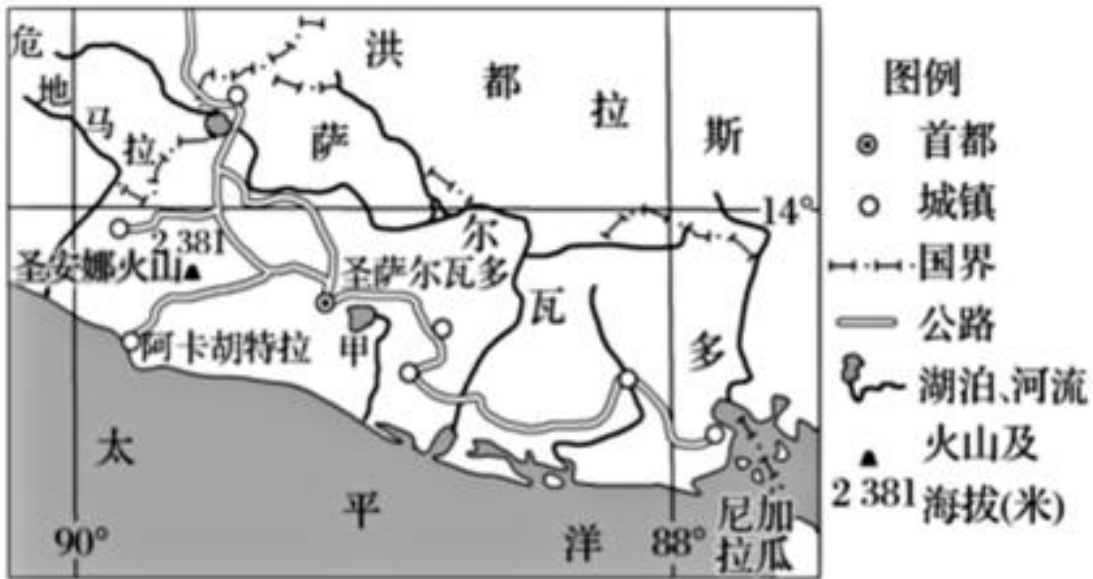
8. (2分) 如图为非洲大陆局部区域某月份平均气温(单位: °C)分布图, 读图回答6~8题。



图中甲乙丙丁四地, 年降水量最多的是()

- A. 甲 B. 乙 C. 丙 D. 丁

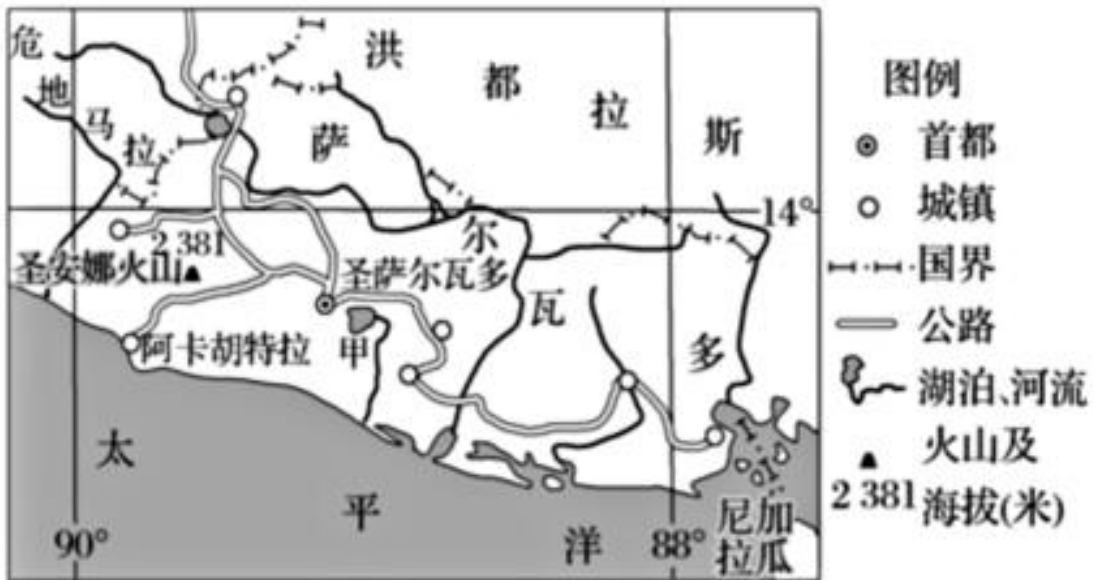
9. (2分) 萨尔瓦多地形以山地、高原为主, 多火山, 被称为“火山之国”。甲湖为该国最大湖泊。1879年, 该湖湖水突然上升泛滥, 接着喷出熔岩。2018年8月21日, 萨尔瓦多与我国建交, 次日该国经济部长在专访中说萨尔瓦多可以为中国提供饮料、海鲜等初级产品。如图为萨尔瓦多示意图。完成9~11题。



有关甲湖及其所在流域的说法正确的是()

- A. 河流补给甲湖
- B. 甲湖形成于火山口，地势较高
- C. 甲湖盐度较高，是内流湖
- D. 河流径流季节变化大，冬季结冰

10. (2分) 萨尔瓦多地形以山地、高原为主，多火山，被称为“火山之国”。甲湖为该国最大湖泊。1879年，该湖湖水突然上升泛滥，接着喷发出熔岩。2018年8月21日，萨尔瓦多与我国建交，次日该国经济部长在专访中说萨尔瓦多可以为中国提供饮料、海鲜等初级产品。如图为萨尔瓦多示意图。完成9~11题。

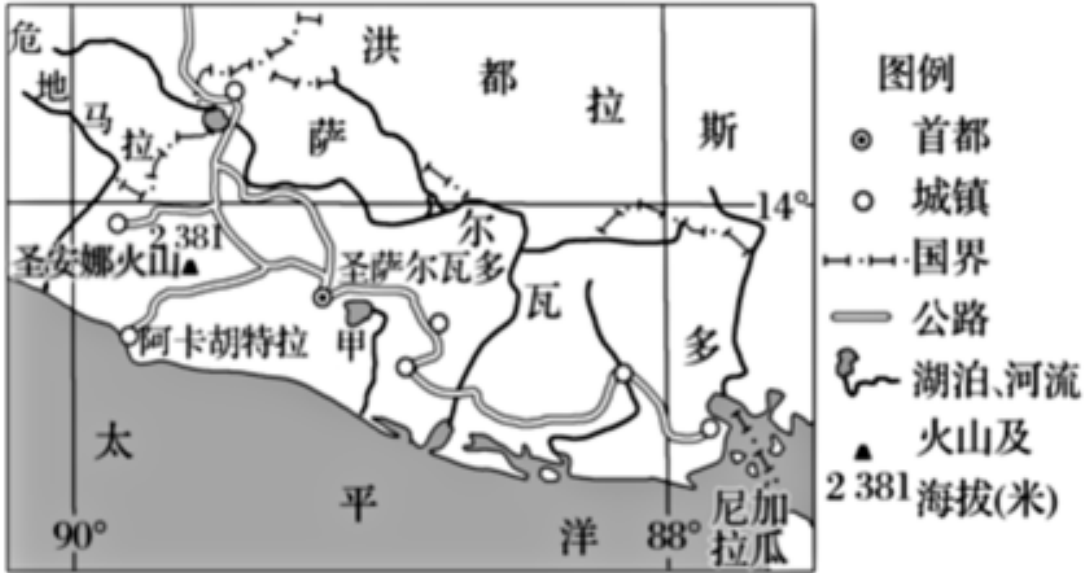


关于萨尔瓦多城镇分布的主要特点及其原因的叙述正确的是()

- A. 多数城镇分布在内部高原、山地，气候相对凉爽
- B. 多数城镇分布在沿海平原，便于海洋捕捞或海运的发展
- C. 部分城镇分布在沿海平原，地势低平

D. 少数城市分布在内部高原、山地，海拔高，气候寒冷

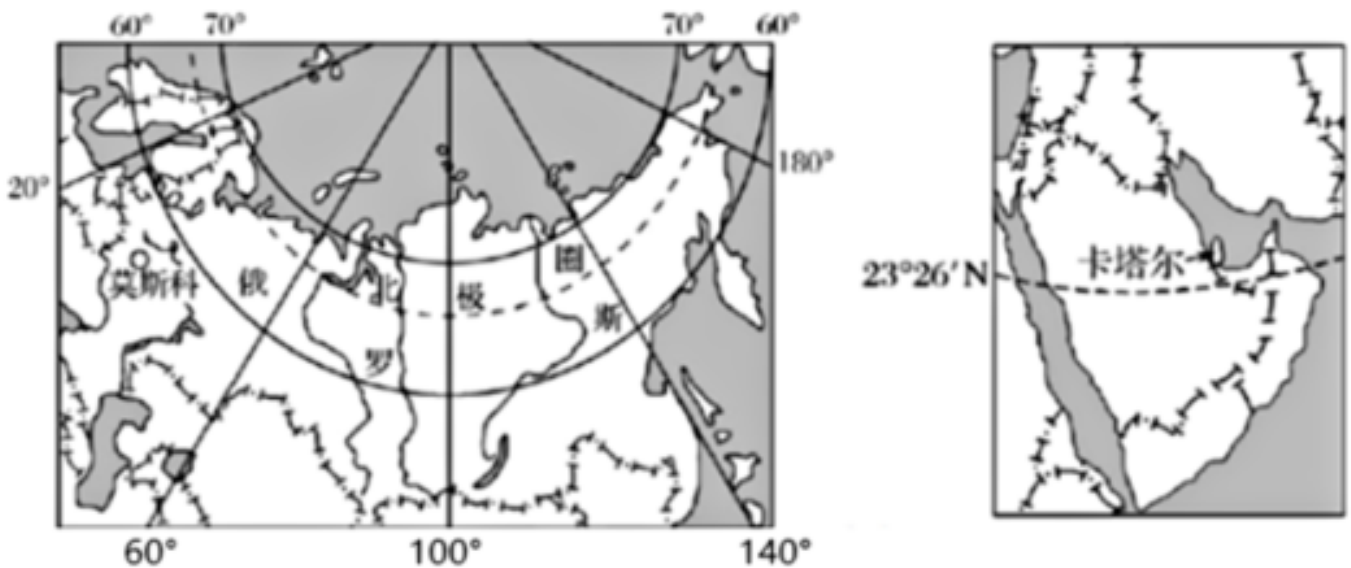
11. (2分) 萨尔瓦多地形以山地、高原为主，多火山，被称为“火山之国”。甲湖为该国最大湖泊。1879年，该湖湖水突然上升泛滥，接着喷发出熔岩。2018年8月21日，萨尔瓦多与我国建交，次日该国经济部长在专访中说萨尔瓦多可以为中国提供饮料、海鲜等初级产品。如图为萨尔瓦多示意图。完成9~11题。



萨尔瓦多能够为我国提供饮料和海鲜产品，与之相关的说法正确的是()

- A. 该国地处热带，适合大规模种植咖啡等饮料作物
- B. 该国经济发达，农产品加工技术先进
- C. 该国沿海寒暖流交汇，渔业资源丰富
- D. 当地临近海洋，位于太平洋东岸，与我国距离近

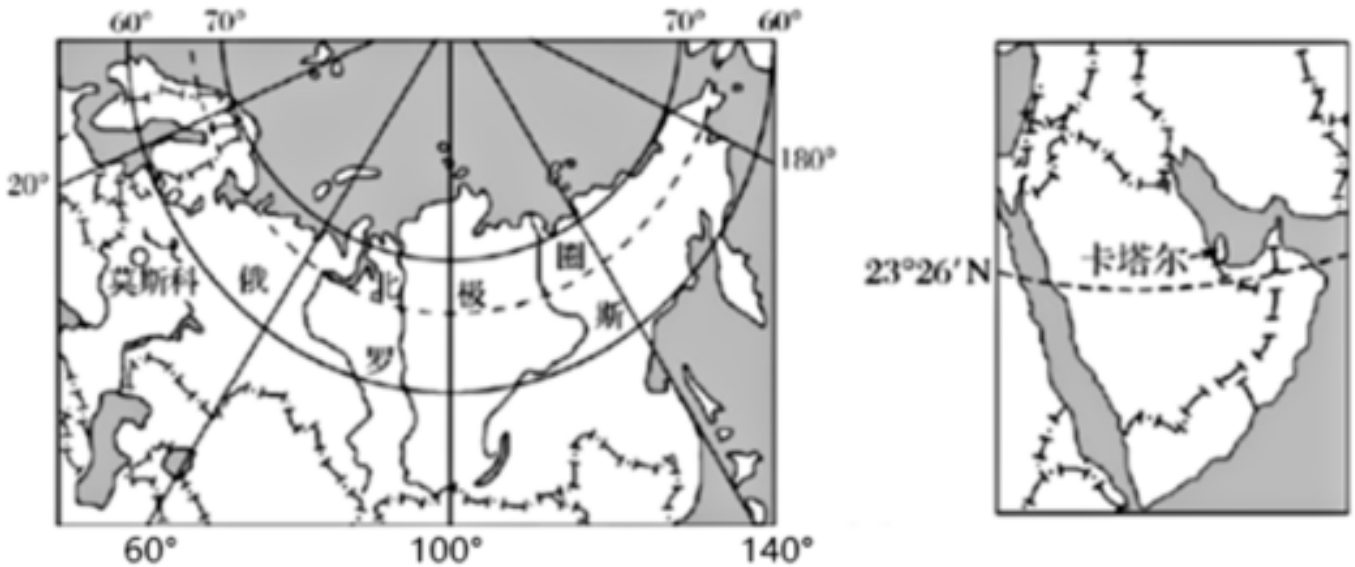
12. (2分) 2018年与2022年世界杯足球赛分别在“航母”大国俄罗斯和“袖珍”小国卡塔尔举办。如图为俄罗斯和卡塔尔区域略图。根据图文材料完成12~13题。



俄罗斯和卡塔尔国内交通运输的主要方式分别是()

- A. 内河航运公路运输
- B. 铁路运输公路运输
- C. 航洋运输铁路运输
- D. 航空运输海洋运输

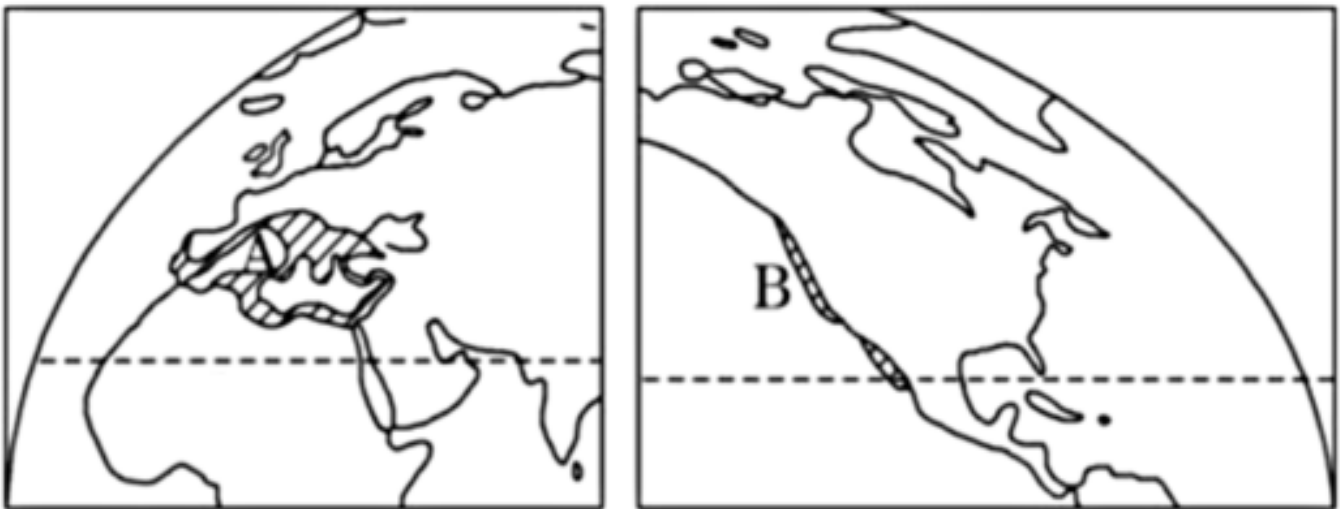
13. (2分) 2018年与2022年世界杯足球赛分别在“航母”大国俄罗斯和“袖珍”小国卡塔尔举办。如图为俄罗斯和卡塔尔区域略图。根据图文材料完成12~13题。



下列关于俄罗斯和卡塔尔地理环境特征的叙述，正确的是()

- A. 俄罗斯河流众多，航运价值高
- B. 俄罗斯西部以温带海洋性气候为主
- C. 卡塔尔属于热带沙漠气候
- D. 卡塔尔石油和煤炭资源丰富

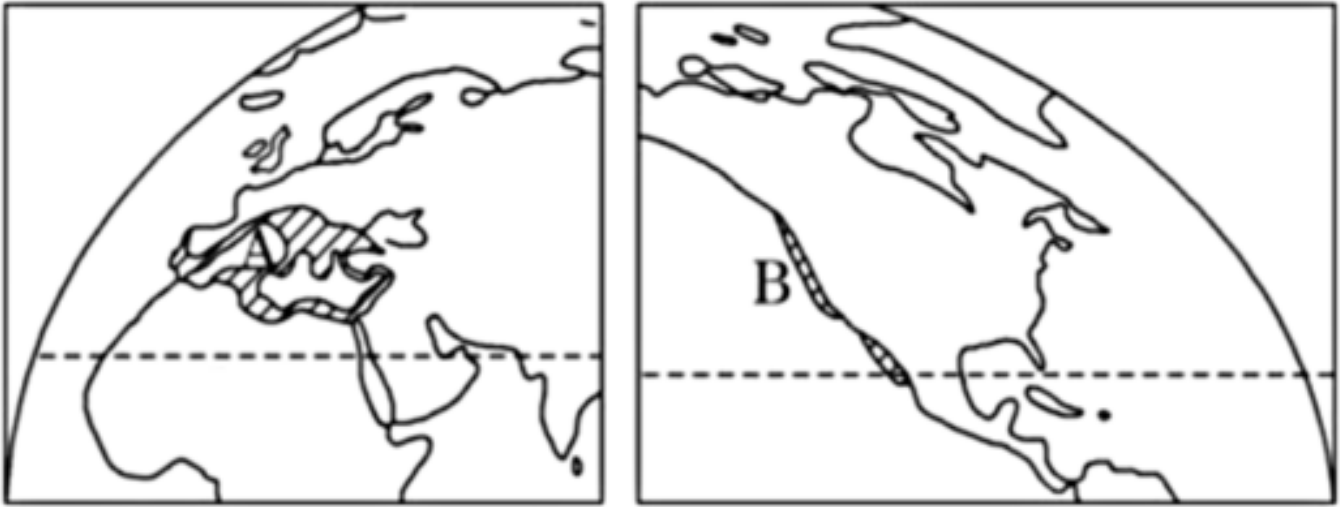
14. (2分) 图中阴影区示意某气候类型的分布情况，读图完成14~15题。



该气候类型在A处分布面积比B处大的主要原因是()

- A. 海陆面积差异
- B. 洋流性质不同
- C. 山脉走向不同
- D. 盛行风向差异

15. (2分) 图中阴影区示意某气候类型的分布情况，读图完成14~15题。



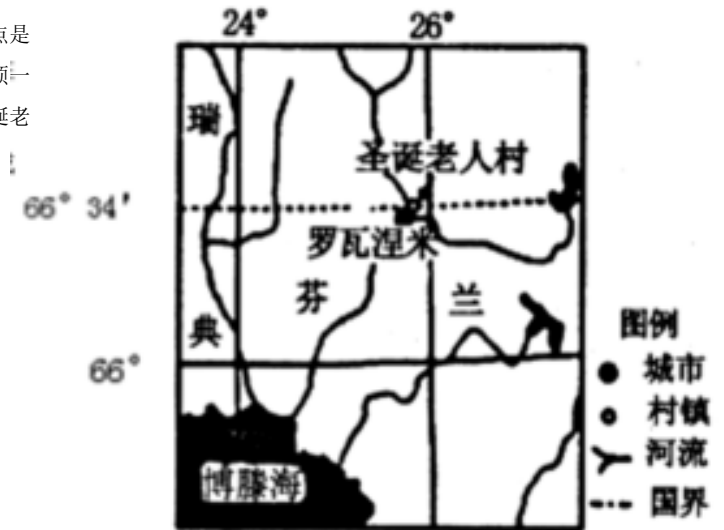
该气候不利于农业生产的要素是()

- A. 光照条件差 B. 雨热不同期 C. 热量不足 D. 降水稀少

16. (2分) 芬兰的罗瓦涅米市被认为是圣诞老人的故乡，其主要景点是圣诞老人村。在圣诞老人村，“圣诞老人”住的房子十分醒目，屋顶一直倾斜到地上。每到旅游旺季，该村便热闹起来。读罗瓦涅米市圣诞老人村位置图，完成16~18题。

圣诞老人村的旅游旺季是()

- A. 春季 B. 夏季 C. 秋季
D. 冬季



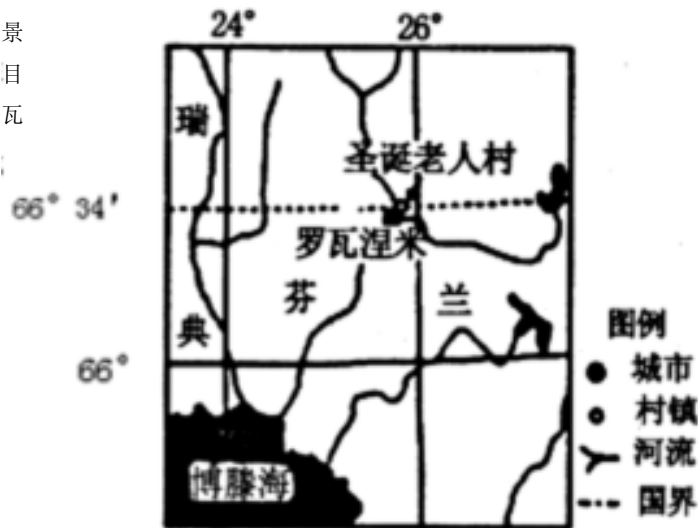
17. (2分) 芬兰的罗瓦涅米市被认为是圣诞老人的故乡，其主要景点是圣诞老人村。在圣诞老人村，“圣诞老人”住的房子十分醒目，屋顶一直倾斜到地上。每到旅游旺季，该村便热闹起来。读罗瓦涅米市圣诞老人村位置图，完成16~18题。



推测在圣诞老人村可以欣赏到的景观有()

- A. 夏至璀璨极光
- B. 冬至午夜阳光
- C. 北极圈标志线
- D. 雪地摩托车厂

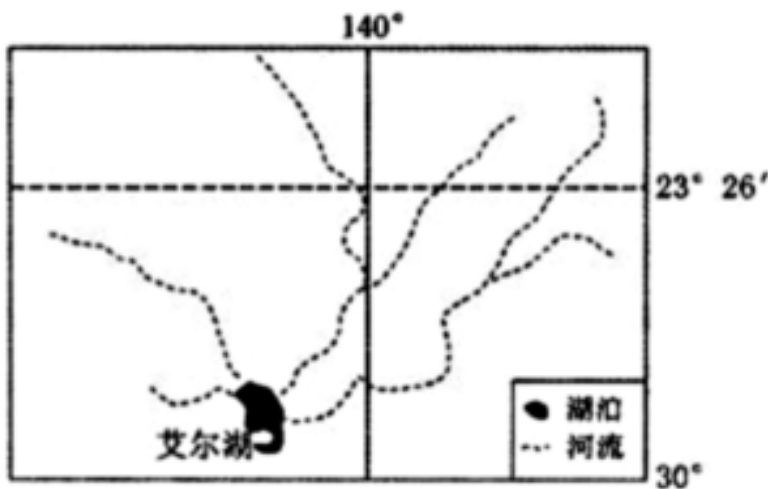
18. (2分) 芬兰的罗瓦涅米市被认为是圣诞老人的故乡，其主要景点是圣诞老人村。在圣诞老人村，“圣诞老人”住的房子十分醒目，屋顶一直倾斜到地上。每到旅游旺季，该村便热闹起来。读罗瓦涅米市圣诞老人村位置图，完成16~18题。



“圣诞老人”住的房子，屋顶一直倾斜到地上，主要是为了()

- A. 固定房屋防止地基融陷
- B. 防止厚重积雪压塌房屋
- C. 方便圣诞老人爬上屋顶
- D. 增加墙壁厚度防寒抗风

19. (2分) 艾尔湖位于澳大利亚中部，是一个时令湖，海拔低于海平面12米，为大洋洲最低点。为改善艾尔湖周边地区生态环境，科学家设想开凿一条运河把南部海湾海水调入艾尔湖。读艾尔湖流域示意图，完成19~21题。



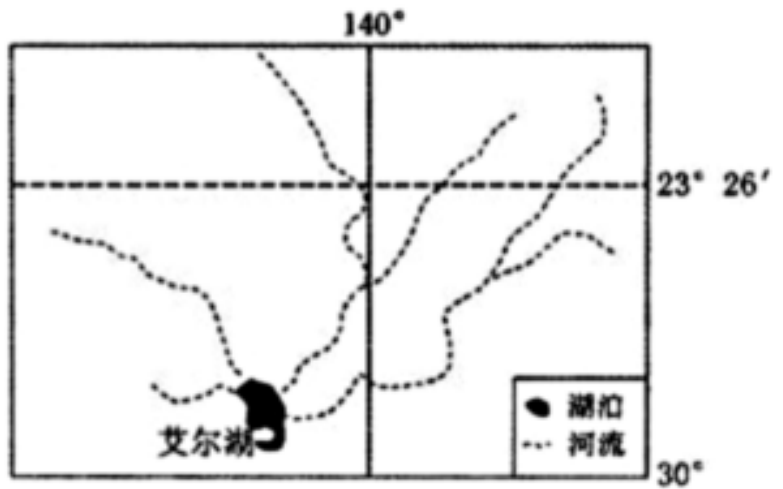
据图文材料推断，关于艾尔湖的说法可能正确的是()

- A. 蒸发量小
- B. 盐度高
- C. 水位季节变化小
- D. 生物资源丰富

20. (2分) 艾尔湖位于澳大利亚中部，是一个时令湖，海拔低于海平面12米，为大洋洲最低点。为改善艾尔湖周边地区生态环境，科学家设想开凿一条运河把南部海湾海水调入艾尔湖。读艾尔湖流域示意图，完成19~21题。

为充分利用当地自然资源，艾尔湖周边地区适宜发展()

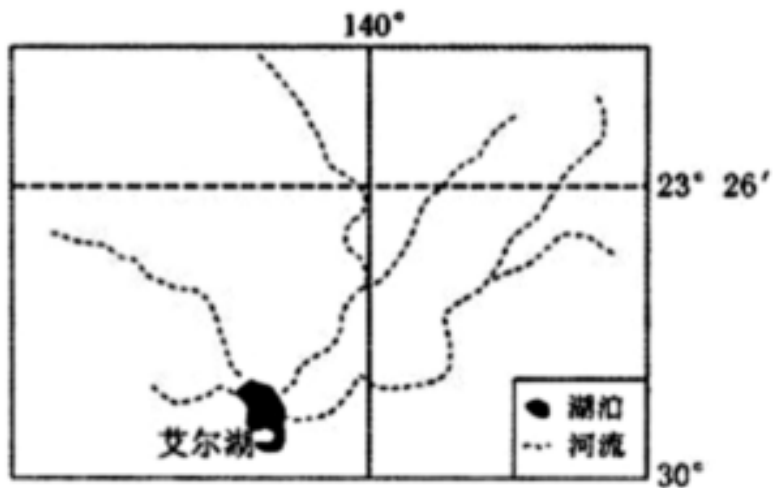
- A. 化学工业
- B. 制糖工业
- C. 造纸工业
- D. 饮料工业



21. (2分) 艾尔湖位于澳大利亚中部，是一个时令湖。海拔低于海平面12米，为大洋洲最低点。为改善艾尔湖周边地区生态环境，科学家设想开凿一条运河把南部海湾海水调入艾尔湖。读艾尔湖流域示意图，完成19~21题。

南部海湾海水调入艾尔湖后会使周边地区()

- A. 气温日较差减小
- B. 气温年较差增大
- C. 降水量减小
- D. 沙尘暴增多



22. (2分) 如图为中国某科学考察团赴南美洲和南极洲考察路线图，读图完成22~23题。

以上内容仅为本文档的试下载部分，为可阅读页数的一半内容。如要下载或阅读全文，请访问：<https://d.book118.com/205041212332012013>