

# 第1单元综合素养测评 A卷

## “四基”与“四能”

时间:70分钟 满分:100分+10分



一 认真审题，填一填。（每空1分，共28分）

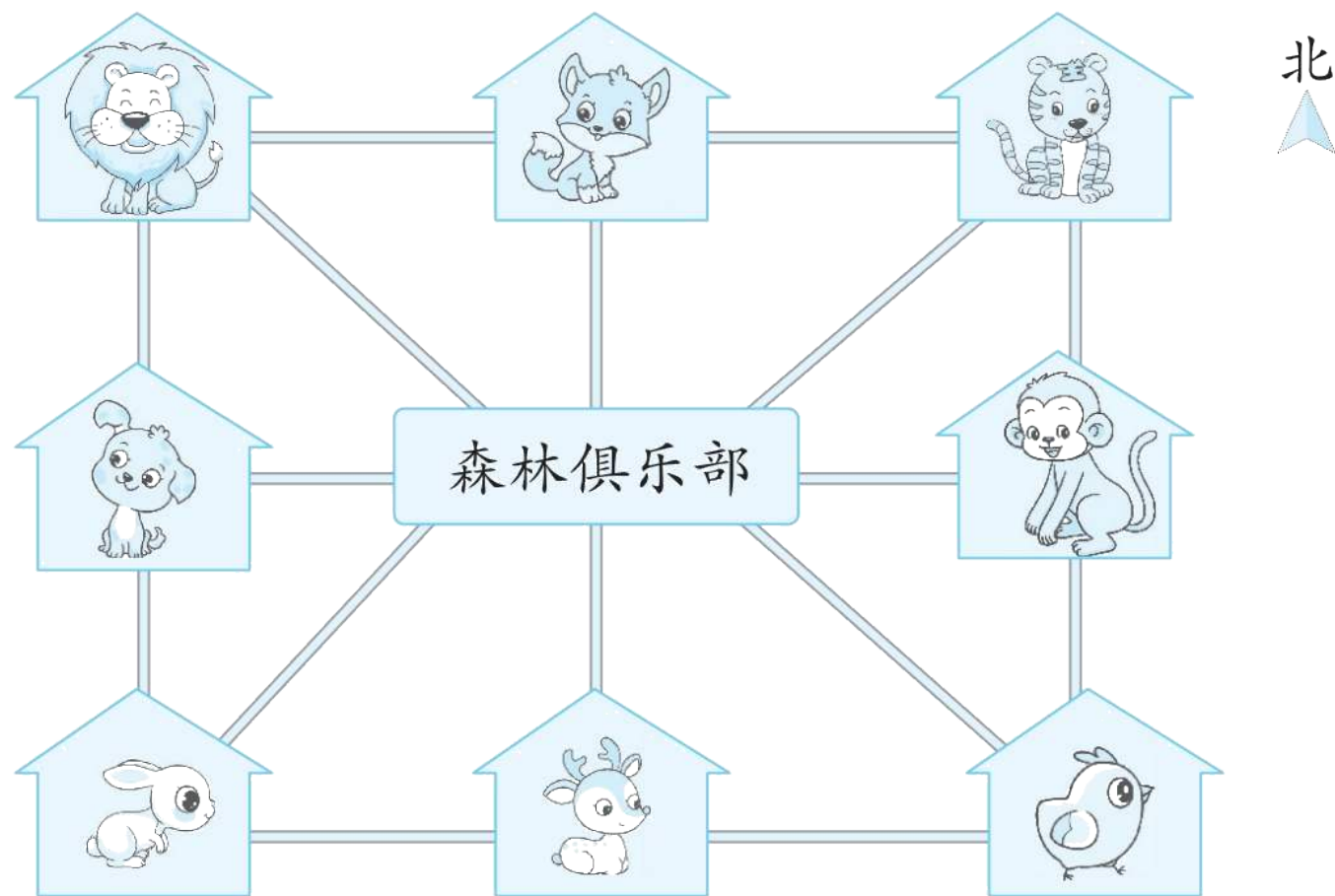
1.方向是两两相对的，北与( 南 )相对，西与( 东 )相对。



2.早晨，梦梦和蓝蓝面向太阳升起的东方，她们背对着的方向是(西)方，她们的左边是(北)方。



### 3. 看图回答问题。



( 1 ) 小鸡住在森林俱乐部的( 东南 )方向，老虎住在森林俱乐部的( 东北 )方向，狮子住在森林俱乐部的( 西北 )方向，小兔住在森林俱乐部的( 西南 )方向。

( 2 ) 狐狸在小鹿的( 北 )面，小狗在小鹿的( 西北 )方向，猴子在小鹿的( 东北 )方向。



4.把手表放在桌面上，让“12”正对着南面，正对着北面的是( 6 )，正对着西面的是( 3 )，“9”正对着( 东 )面。

**【点拨】**根据方向的相对性，东和西相对，南和北相对，以及钟面上时刻的特点填空即可。



5.刘叔叔开车从慈利到哈尔滨，他先向北行驶到北京，再向东北方向行驶到哈尔滨，他回家时按照原路返回，应该先向( **西南** )方向行驶到( **北京** )，再向( **南** )行驶到慈利。



## 6. **跨学科**·语文

中的“四面”指的是东、南、西、北，再加上( **东南** )、( **西南** )、( **西北** )、( **东北** )四个方位就是“八方”。



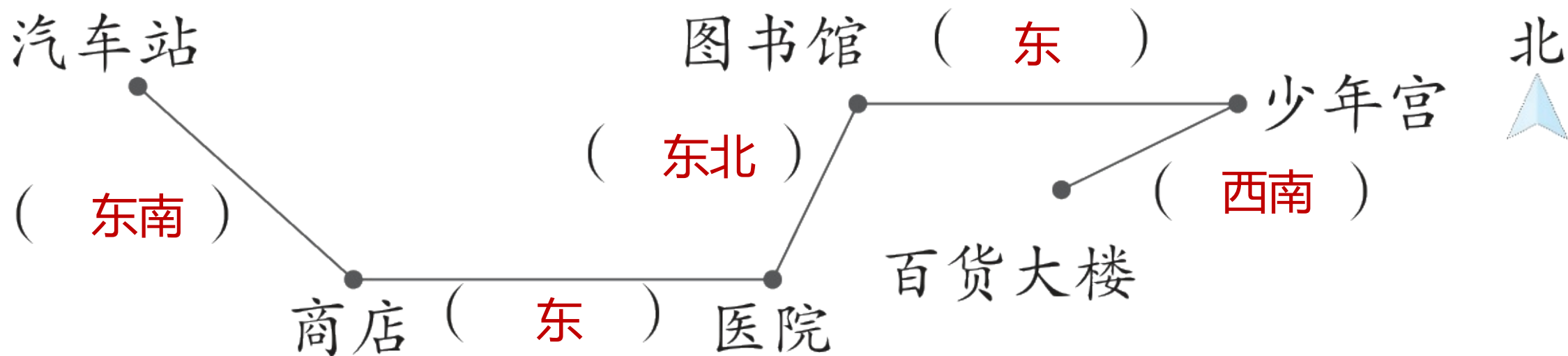


7.同学们上体育课站队，老师和同学们面对面，站在队伍南面，同学们在老师的(北)面。老师喊向左转，此时同学们面向(东)面。

**【点拨】**根据方向的相对性，老师和同学们面对面，站在队伍南面，是以同学们为观测点，可知老师站在同学们的南面，则以老师为观测点，同学们在老师的北面，面朝南站立。根据面南背北，左东右西，当老师喊向左转时，同学们由面向南面转为面向东面。



8.张奶奶乘坐1路公共汽车从汽车站到百货大楼，在括号里填上她的路线行进方向。



 仔细推敲，选一选。（将正确答案的序号填在括号里）  
（每题2分，共16分）

1.如果你在野外迷了路，天上的星星可以告诉你方向，朝着北极星的方向是( C )面。

A.东

B.南

C.北



2.风向指风吹来的方向，如由东向西吹的风叫东风。刮北风时，彩旗向\_\_\_\_ 飘；刮\_\_\_\_风时，彩旗向东南飘。横线上填( A )。

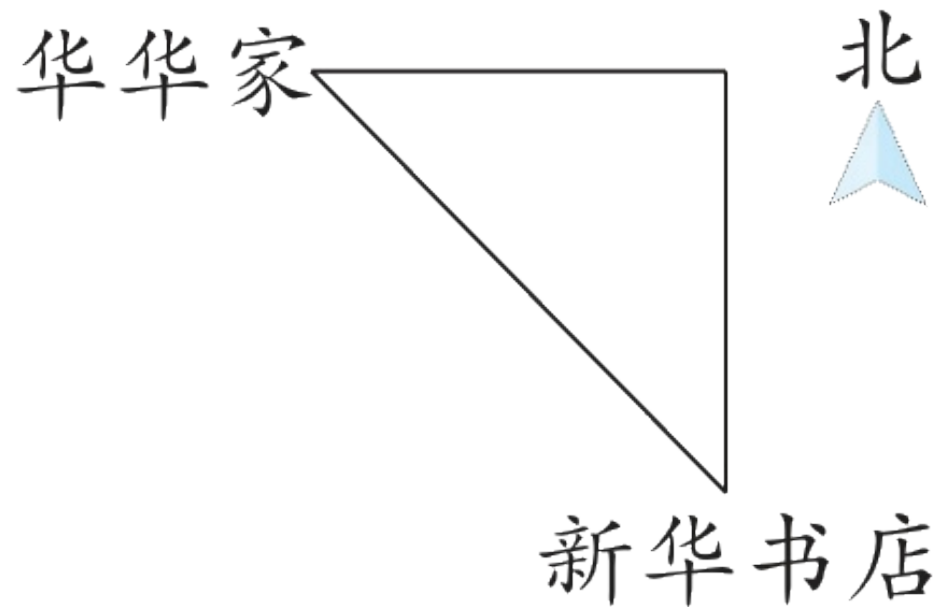
A.南 西北

B.南 西南

C.北 西北



3.如图，新华书店在华华家的( B )。



A.西南方向

B.东南方向

C.东北方向

**【点拨】**以华华家为观测点，根据“上北下南，左西右东”的基本方位辨别法和图中的信息，得出新华书店在华华家的东南方向。



4. **新情境·科技生活** 导航语音播报：“前方红绿灯路口右转驶入中山大街。”此时张叔叔正在向西南方向行驶，按导航右转后，他向( **B** )方向行驶。

A.西

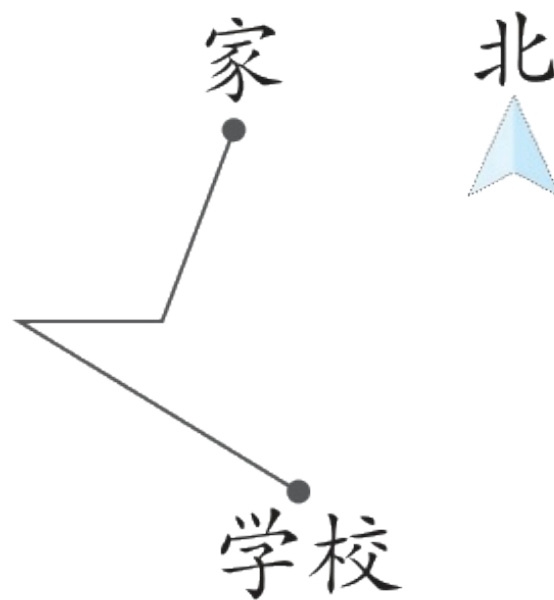
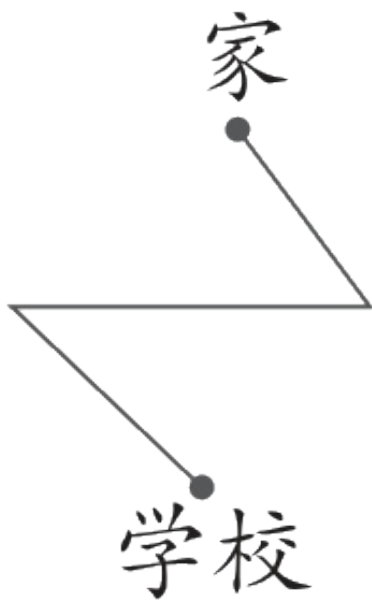
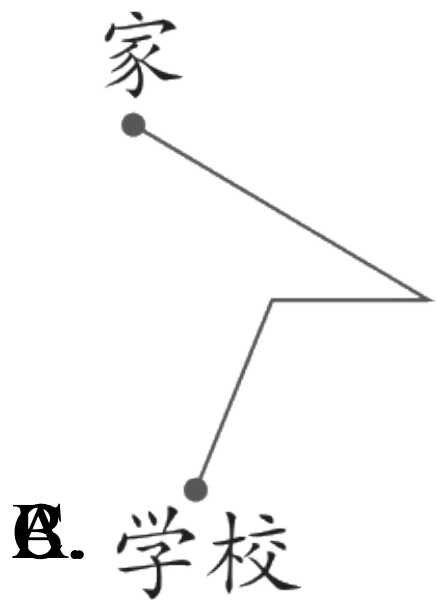
B.西北

C.东北



5. 典典放学回家，从学校出发，先向西北方向走，再向东走，最后向东北方向走就到家了。可以表示出典典回家路线图的是

( C )。



以上内容仅为本文档的试下载部分，为可阅读页数的一半内容。如要下载或阅读全文，请访问：  
<https://d.book118.com/20504231112012012>