

2023-2024 陕西省安康市镇坪县科目一模拟考试 100 题【精品含答案】

1、机动车驾驶人在一个记分周期内累积记分满 24 分未满 36 分的，在道路交通安全法律、法规和相关知识考试合格后即可发还机动车驾驶证。

A、正确

B、错误

正确答案：B

分析：《道路交通安全违法行为记分管理办法》第二十二条，机动车驾驶人在一个记分周期内二次累积记分满 12 分或者累积记分满 24 分未满 36 分的，应当在道路交通安全法律、法规和相关知识考试合格后，按照《机动车驾驶证申领和使用规定》第四十四条的规定预约参加道路驾驶技能考试。考试不合格的，十日后预约重新考试。

2、请判断一下，这是什么手势？



A、准许车辆右转弯手势

B、准许车辆左转弯手势

C、准许右方直行车辆通过手势

D、不准前方车辆通行手势

正确答案：A

分析：如图所示，交警的手表示准许右方车辆右转弯手势。

3、申请机动车驾驶证年龄在 70 周岁以上的人，需要进行记忆力、判断力、反应力等能力测试。

A、正确

B、错误

正确答案：A

分析：《机动车驾驶证申领和使用规定》规定：年龄在 70 周岁以上能够通过记忆力、判断力、反应力等能力测试的，可以申请小型汽车、小型自动挡汽车、残疾人专用小型自动挡载客汽车、轻便摩托车准驾车型的机动车驾驶证。

4、图中黄色机动车驾驶人违法占用高速公路应急车道行驶，会被记 3 分。



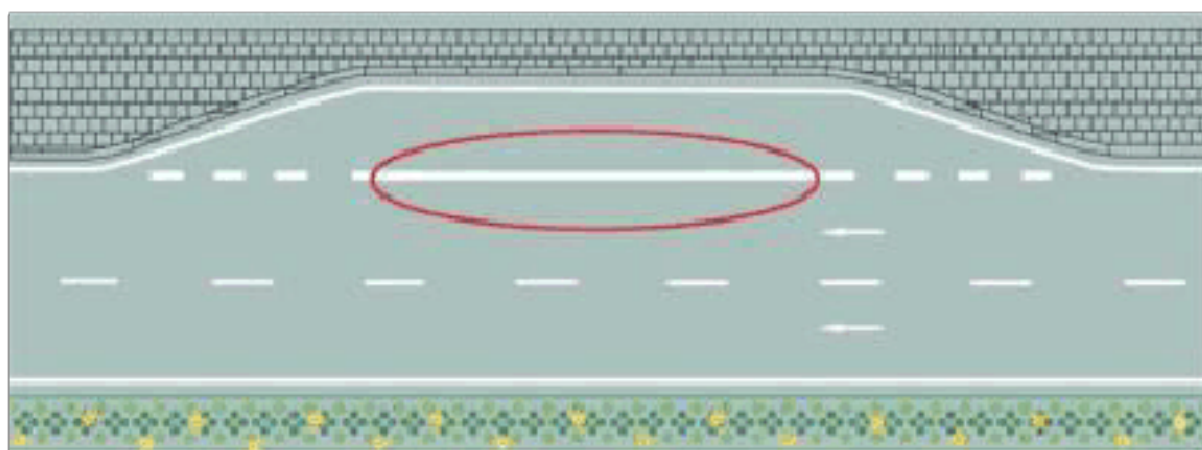
A、正确

B、错误

正确答案：B

分析：高速公路应急车道是供车辆紧急情况下行驶的，占用应急车道是违法行为，一次记 6 分

5、红色圆圈内标线含义是什么？



A、临时停靠站

B、港湾式停靠站

C、应急停车带

D、公交车停靠站

正确答案：B

分析：实线是港湾，虚线是公交车

6、机动车所有人初次申领机动车号牌、行驶证的，应当向_____ 车辆管理所申请注册登记？

A、使用地

B、销售地

C、户籍地

D、住所地

正确答案：D

分析：初次申领机动车号牌、行驶证的，应当向机动车所有人住所地的公安机关交通管理部门申请注册登记。

7、驾驶机动车行驶过程中，遇道路养护车辆从本车道逆向驶来时，以下做法正确的是什么？

A、靠边减速或停车让行

B、在原车道继续行驶

C、占用非机动车道行驶

D、鸣喇叭示意其让道

正确答案：A

分析：道路养护车辆有优先权，一定要让行，且要注意 A 中有“靠边”二字。

8、机动车驾驶人已超过准驾年龄，应到车管所换领可驾驶的准驾车型驾驶证，逾期未办理，原准驾车型驾驶资格作废。

A、正确

B、错误

正确答案：A

分析：《机动车驾驶证申领和使用规定》规定：年龄在60周岁以上的，不得驾驶大型客车、重型牵引挂车、城市公交车、中型客车、大型货车、轮式专用机械车、无轨电车和有轨电车。持有大型客车、重型牵引挂车、城市公交车、中型客车、大型货车驾驶证的，应当到机动车驾驶证核发地或者核发地以外的车辆管理所换领准驾车型为小型汽车或者小型自动挡汽车的机动车驾驶证，其中属于持有重型牵引挂车驾驶证的，还可以保留轻型牵引挂车准驾车型。年龄在70周岁以上的，不得驾驶低速载货汽车、三轮汽车、轻型牵引挂车、普通三轮摩托车、普通二轮摩托车。持有普通三轮摩托车、普通二轮摩托车驾驶证的，应当到机动车驾驶证核发地或者核发地以外的车辆管理所换领准驾车型为轻便摩托车的机动车驾驶证；持有驾驶证包含轻型牵引挂车准驾车型的，应当到机动车驾驶证核发地或者核发地以外的车辆管理所换领准驾车型为小型汽车或者小型自动挡汽车的机动车驾驶证。有前款规定情形之一的，车辆管理所应当通知机动车驾驶人在三十日内办理换证业务。机动车驾驶人逾期未办理的，车辆管理所应当公告准驾车型驾驶资格作废。申请时应当确认申请信息，并提交第六十三条规定的证明、凭证。机动车驾驶人自愿降低准驾车型的，应当确认申请信息，并提交机动车驾驶人的身份证明和机动车驾驶证。

9、对驾驶过程中接打手机的看法正确的是？

A、开车过程中不主动打电话，但是有这样电话打进来是可以边开车边接听手持电话

B、根据驾龄和驾驶技术，经验丰富的驾驶人可以在驾驶过程中接打手持电话

C、在车流量不大的道路上驾驶时，短时接听手持电话的可以的

D、开车需接打电话时，应该先找到安全的地方停车再操作

正确答案：D

分析：《道路交通安全法实施条例》第六十二条（三）项明确规定：“驾驶机动车不得有下列行为：拨打接听手持电话的行为”，违者罚款200元，扣2分

10、机动车驾驶人有以下哪种违法行为的，暂扣六个月机动车驾驶证？

A、醉酒后驾驶机动车的

B、伪造、变造机动车驾驶证的

C、饮酒后驾驶机动车的

D、使用伪造、变造机动车驾驶证的

正确答案：C

分析：饮酒驾驶机动车辆，罚款 1000 元—2000 元、记 12 分并暂扣驾照 6 个月；饮酒驾驶营运机动车，罚款 5000 元，记 12 分，处以 15 日以下拘留，并且 5 年内不得重新获得驾照。醉酒驾驶机动车辆，吊销驾照，5 年内不得重新获取驾照，经过判决后处以拘役，并处罚金；醉酒驾驶营运机动车辆，吊销驾照，10 年内不得重新获取驾照，终生不得驾驶营运车辆，经过判决后处以拘役，并处罚金。

11、使用其他机动车号牌、行驶证的一次记 3 分。

A、正确

B、错误

正确答案：B

分析：即使用伪造、变造机动车号牌、行驶证、驾驶证或者使用其他机动车号牌、行驶证的，一次记 12 分

12、行车中遇有前方发生交通事故，需要帮助时，应怎样做？

A、尽量绕道躲避

B、立即报警，停车观望

C、协助保护现场，并立即报警

D、加速通过，不予理睬

正确答案：C

分析：请伸出您的援手，你不能保证下次需要帮助的人不是你。

13、图中左侧白色轿车，在这种情况下为了保证安全，应适当降低车速。



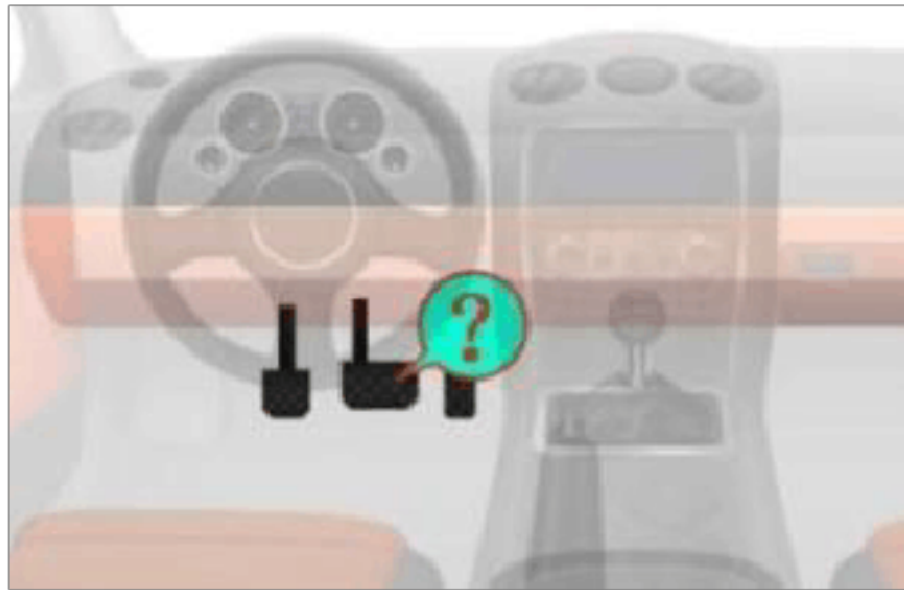
A、正确

B、错误

正确答案：A

分析：限速标志指示该路段限速 60km/h，而速度仪表显示当前时速高于 60，所以应该适当减速。

14、这是什么踏板？



- A、加速踏板
- B、离合器踏板
- C、制动器踏板
- D、驻车制动器

正确答案：C

分析：分别是离合，刹车，油门，制动踏板又称脚刹。

15、已注册登记的小型载客汽车有下列哪种情形，所有人不需要办理变更登记？

- A、机动车更换发动机
- B、加装前后防撞装置
- C、改变车身颜色
- D、更换车身或者车架

正确答案：B

分析：只有前后防撞装置不备案，可以加装。

16、驾驶人违反交通运输管理法规发生重大事故后，因逃逸致人死亡的，处多少有期徒刑？

A、2 年以下

B、3 年以下

C、7 年以下

D、7 年以上

正确答案：D

分析：造成事故致人重伤但没死的：3 年以下造成事故致死的：3~7 年造成事故逃逸后致死的：7~15 年

17、警告标线的作用是促使道路使用者了解道路上的特殊情况，提高警觉准备应变防范措施。

A、正确

B、错误

正确答案：A

分析：道路交通标线按功能可分为三类：1) 指示标线：指示车行道、行车方向、路面边缘、人行道等的标线；2) 禁止标线：告示道路交通的遵行、禁止、限制等特殊规定的标线；3) 警告标线：促使道路使用者了解道路上的特殊情况，提高警觉，准备防范或应变措施的标线。

18、驾驶电动汽车发生起火，报警时告知起火地点即可，不用告知起火车辆的品牌和型号。

A、正确

B、错误

正确答案：B

分析：一旦新能源汽车着火，在报警时一定要告知起火汽车的品牌和型号，让救援人员能够迅速了解该车的动力电池种类和容量，以及车辆最高电压、高压线路走向等，以便救援人员迅速采取对应的救援措施。

19、这个标志的含义是告示前方是拥堵路段，注意减速慢行。



A、正确

B、错误

正确答案：B

分析：警告标志事故易发地点。用以告示前方道路为事故易发路段，谨慎驾驶。设在交通事故易发路段以前适当位置。

20、经购买、调拨、赠予等方式获得机动车后尚未注册登记的，向车辆管理所申领临时行驶车号牌后，方可临时上道路行驶。

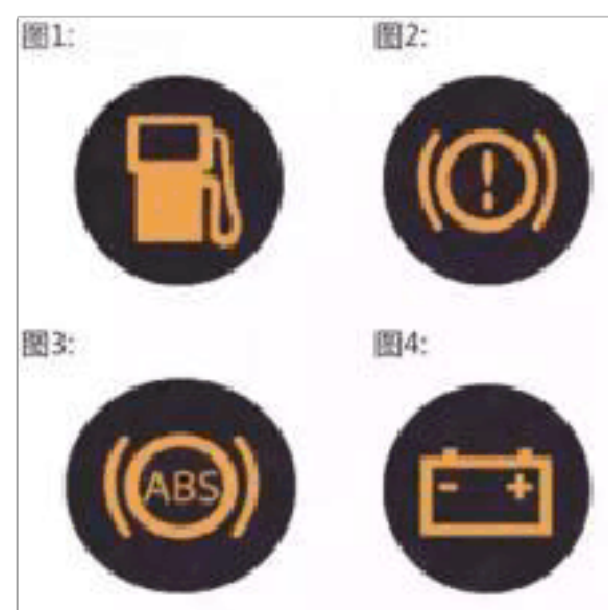
A、正确

B、错误

正确答案：A

分析：经购买、调拨、赠予等方式获得机动车后尚未注册登记的，向车辆管理所申领临时行驶车号牌后，方可临时上道路行驶。

21、图中哪个报警灯亮，提示充电电路异常或故障？



A、图 1

B、图 2

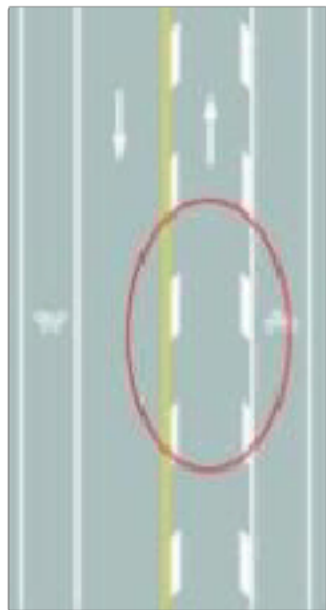
C、图 3

D、图 4

正确答案：D

分析：有正负极+标志的，就表示有电。

22、路面上的菱形块虚线是何含义？



A、车行道纵向减速标线

B、道路施工提示标线

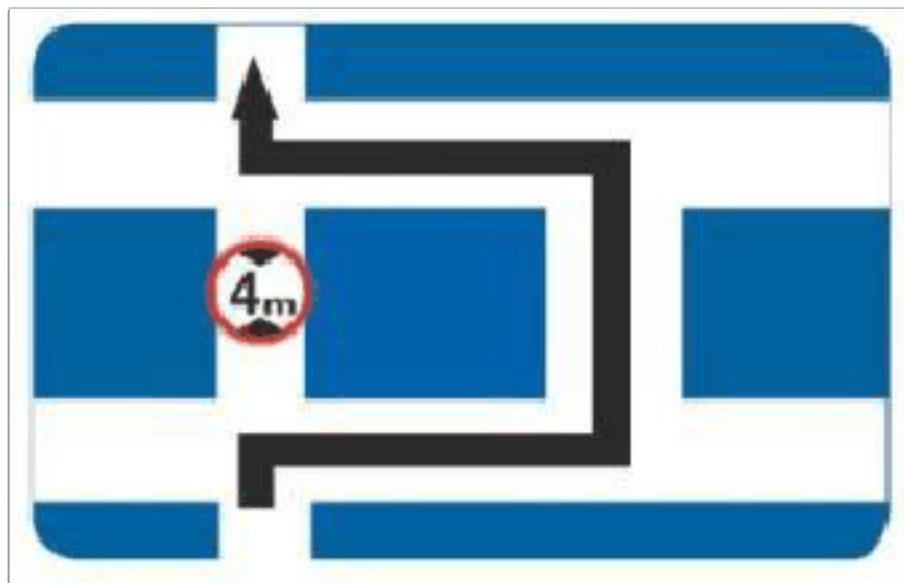
C、车行道横向减速标线

D、车道变少提示标线

正确答案：A

分析：车行道纵向减速标线为一组平行于车行道分界线的菱形块虚线。在车行道纵向减速标线的起始位置，设置 30 m 的渐变段，菱形块虚线由窄变宽——from 专业控。

23、这个标志是何含义？



- A、禁止左转
- B、此路不通
- C、禁止通行
- D、超高绕行

正确答案：D

分析：请看箭头啊 不是从中间直接进入向左走，而是向右走了在直行向左的 绕了个圈！

24、因避让特种车辆而发生违法行为，被电子警察拍到时，可向交管部门复议。

- A、正确
- B、错误

正确答案：A

分析：避让特种车辆而发生违法行为可向交管部门复议，不用担心做好事还受罚了。


25、车辆下坡行驶，要适当控制车速，充分利用发动机进行制动。

- A、正确
- B、错误

正确答案：A

分析：在下坡时，有人为了省油，就挂空档，采用惯性下坡，这样时间一长，刹车的压力就不够了，容易出现刹车失效，所以不提倡挂空档，不挂空档，就是让发动机和变速器连接，这个时候车下坡时不是靠惯性的，而是靠发动机行驶的，就好像发动机带着你走，不让你的车自己走快，这个就是发动机制动。

26、如图所示，驾驶机动车行驶至此位置时，以下做法正确的是什么？



- A、观察左侧无车后，可以左转
- B、从该处直接左转
- C、不得左转，应当直行
- D、倒车退到虚线处换到左转车道

正确答案：C

分析：驾驶机动车行驶至此位置时，以下做法正确的是：不得左转，应当直行。

27、驾驶机动车在路口遇到这种信号灯亮时，要在停止线前停车观望。



- A、正确
- B、错误

正确答案：B

分析：绿灯，赶紧的走你。

28、这个标志是何含义？



- A、高速公路终点预告
- B、高速公路入口预告
- C、高速公路起点预告
- D、高速公路出口预告

正确答案：B

分析：图片上有写“入口”

29、驾驶人的驾驶证损毁后不得驾驶机动车。

- A、正确
- B、错误

正确答案：A

分析：请保证驾驶证的整洁，不然警察叔叔都不能确定是不是你了，给你算无证驾驶了

30、驾驶人在实习期内不得单独驾驶机动车上高速，在增加准驾车型后的实习期内，驾驶原准驾车型的机动车时不受上述限制。

- A、正确
- B、错误

正确答案：A

分析：《机动车驾驶证申领和使用规定》规定，机动车驾驶人在实习期内不得驾驶公共汽车、营运客车或者执行任务的警车、消防车、救护车、工程救险车以及载有爆炸物品、易燃易爆化学物品、剧毒或者放射性等危险物品的机动车；驾驶的机动车不得牵引挂车。驾驶人在实习期内驾驶机动车上高速公路行驶，应当由持相应或者包含其准驾车型驾驶证三年以上的驾

驶人陪同。其中，驾驶残疾人专用小型自动挡载客汽车的，可以由持有小型自动挡载客汽车以上准驾车型驾驶证的驾驶人陪同。在增加准驾车型后的实习期内，驾驶原准驾车型的机动车时不受上述限制。

31、夜间行车，遇对面来车未关闭远光灯时，应减速行驶，以防两车灯光的交汇处在行人通过时发生事故。

A、正确

B、错误

正确答案：A

分析：安全第一；减速慢行；小心一点总不是坏事。

32、机动车在高速公路上发生故障或交通事故后，驾驶人未按规定使用危险报警闪光灯的，对其处以罚款200元、驾驶证记1分的处罚。

A、正确

B、错误

正确答案：B

分析：在道路上车辆发生故障、事故停车后，未按规定使用灯光或者设置警告标志的，罚款200，记3分。

33、夜间行车，需要超车时，变换远近光灯示意是为了提示前车。

A、正确

B、错误

正确答案：A

分析：夜间超车，要变换远近光灯，提醒前车，因为晚上一般不鸣号，会打扰路旁住着的人。

34、车辆在较窄的山路上行驶时，如果靠山体的一方不让行，应怎样做？

A、向左占道，谨慎驶过

B、提前减速或停车避让

C、保持正常车速行驶

D、鸣喇叭催其让行

正确答案：B

分析：如果没特别指明我们有优先权，选事事让着别人就对了，做人和开车，都要学会淡定。

35、驾驶机动车在没有中心线的城市道路上，最高速度不能超过每小时 50 公里。

A、正确

B、错误

正确答案：B

分析：没有限速标志、标线的城市道路的最高速度为 30 公里，道路的最高速度为 40 公里，只有一条机动车道的城市道路最高 50 公里，只有一条机动车道的公路最高为 70 公里。

36、如图所示，红圈中标记车辆使用灯光的方法是正确的。



A、正确

B、错误

正确答案：B

分析：《中华人民共和国道路交通安全法》第四十八条规定：在没有中心隔离设施或者没有中心线的道路上，夜间会车应当在距相对方向来车 150 米以外改用近光灯。

37、同车道行驶的车辆前方遇到下列哪种车辆不得超车？

A、超载大型货车

B、大型客车

C、执行任务的救护车

D、小型货车

正确答案：C

分析：这个我就不贴相应的法规了，救护车在救死扶伤，人家时间就是生命，你还要超车。

38、驾驶机动车在这种情况下可以右转弯。



A、正确

B、错误

正确答案：B

分析：看到中间的黄色实线了么，红绿灯有三个表示所在的车道上有三个车道，车子在最左边，表示所在的是绿灯下面的车道，也就是只能左转，不能右转，假如车子是在最右边的车道且最右边的灯形状是圆圈且右边路况允许的情况下才可以右转的。

39、驾驶机动车发生交通事故仅造成轻微财产损失，当事人双方对交通事故事实及成因无争议的，可自行撤离现场处理损害赔偿事宜。

A、正确

B、错误

正确答案：A

分析：《道路交通安全法》第七十条：在道路上发生交通事故，未造成人身伤亡，当事人对事实及成因无争议的，可以即行撤离现场，恢复交通，自行协商处理损害赔偿事宜；

40、安全文明行车是机动车驾驶员应当具备的基本素质要求。

A、正确

B、错误

正确答案：A

分析：根据《中华人民共和国道路交通安全法》第二十二条：机动车驾驶人应当遵守道路交通安全法律、法规的规定，按照操作规范安全驾驶、文明驾驶。

41、驾驶机动车前，需要调整安全头枕的高度，使头枕正对驾驶人的颈椎。

A、正确

B、错误

正确答案：B

分析：座椅上头枕的主要作用是汽车被追尾时，有效保护驾乘人的颈椎。调整头枕高度时，保持头枕中心与后脑中心平齐，才能发挥保护作用。

42、夜间道路环境对安全行车的主要影响是什么？

A、能见度低、不利于观察道路交通情况

B、路面复杂多变

C、驾驶人体力下降

D、驾驶人易产生冲动、幻觉

正确答案：A

分析：注意题干里的“夜间道路环境”。

43、这个路口允许车辆怎样行驶？



A、向左转弯

B、直行

C、直行或向右转弯

D、向右转弯

正确答案：A

分析：直行是红灯，不能直行。左转的灯是绿色，所以可以向左转弯；

44、机动车遇有停止信号时，应停在何处？

- A、停止线以外
- B、停止线以内
- C、路口右侧
- D、路口中间？

正确答案：A

分析：通过路口遇停止信号时，停在停止线以内或者路口内的，属于闯红灯的行为。


45、驾驶机动车在同方向只有 1 条机动车道的城市道路，最高速度不能超过每小时 70 公里。

- A、正确
- B、错误

正确答案：B

分析：没有道路中心线的道路，城市道路每小时 30 公里，公路 40 公里。同方向只有一条机动车道路，城市道路每小时 50 公里，公路 70 公里

46、在图中所示的高速公路行车道跟随前车行驶时，最小的跟车距离不得少于 100 米。



- A、正确
- B、错误

正确答案：A

分析：高速公路行驶，车速超过每小时 100 公里时，应与同车道前车保持 100 米以上的距离。

47、请判断图中这辆逆向行驶的灰色汽车属于什么行为？



A、违纪行为

B、违规行为

C、违法行为

D、违章行为

正确答案：C

分析：逆向行驶违反道路交通安全法，违反法律法规即为违法行为。

48、这个标志是何含义？



A、国道编号

B、省道编号

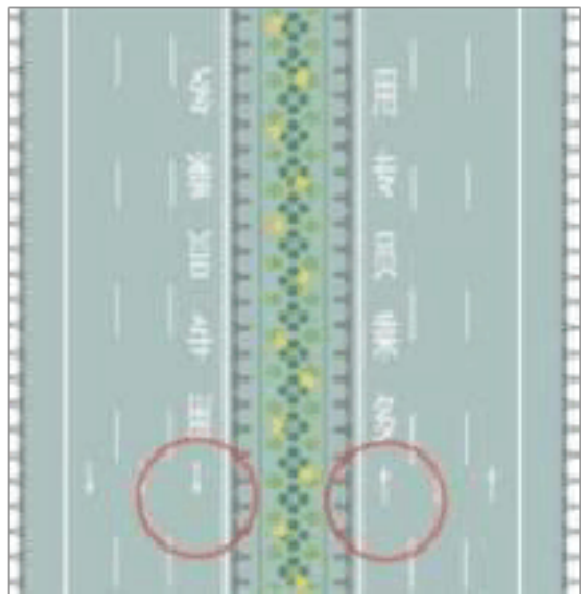
C、县道编号

D、乡道编号

正确答案：B

分析：乡道是白底 Y 字开头的，县道是白底 X 开头的，省道是黄底的，国道是红底的。

49、道路最左侧白色虚线区域是何含义？

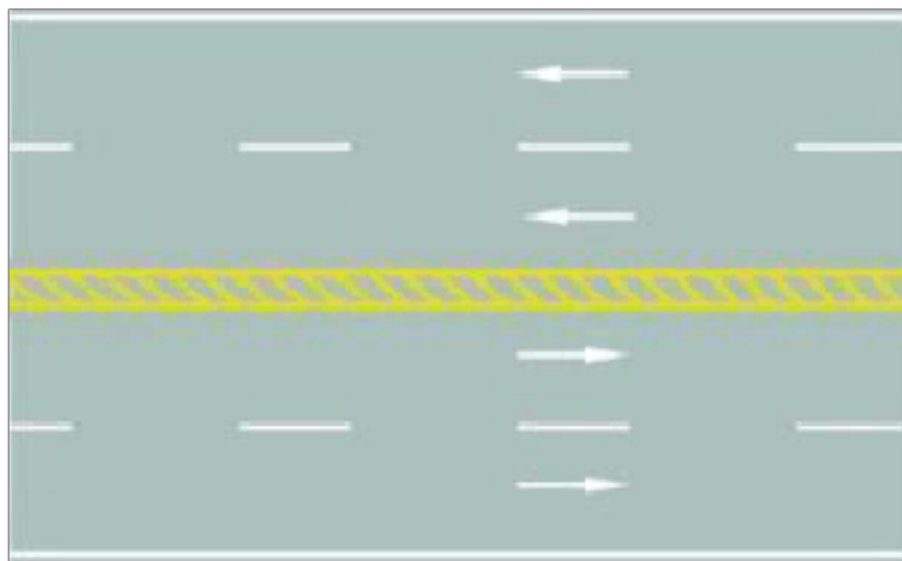


- A、多乘员车辆专用车道
- B、小型客车专用车道
- C、未载客出租车专用车道
- D、大型客车专用车道

正确答案：A

分析：图上有字，‘多乘员专用’这是送分题

50、路中心的黄色斜线填充是何含义？



- A、可跨越对向车道分界线
- B、双侧可跨越同向车道分界线
- C、禁止跨越对向车道分界线
- D、单向行驶车道分界线

以上内容仅为本文档的试下载部分，为可阅读页数的一半内容。如要下载或阅读全文，请访问：<https://d.book118.com/208002032024007003>