

二年级上册数学解决问题 100 道

一. 解答题(共 100 题, 共 588 分)

1. 购物。



(1) 妈妈买了 7 盒牙膏, 应付多少元钱?

(2) 买 4 条毛巾和一把牙刷, 带 40 元钱, 够吗?

(3) 你还能提出其他数学问题并解答吗?

2. 草场上有 58 匹白马, 黑马比白马多 13 匹, 黑马有多少匹?



3. 小刚和小红去超市买学习用品, 小红买了 18 支铅笔, 小刚买了 20 支铅笔, 他们两个一共买了多少支铅笔?

4. 同学们做游戏, 分成 6 个组, 每组 4 个人。一共有多少人?

5. 某小河原来有 37 条鱼, 游走了 13 条, 又游来了 21 条, 现在有多少条鱼?

6. 小刚: 我家种了两行桃树, 一行 6 棵, 一行 4 棵。

小红: 我家种了两行桃树, 每行 6 棵。

(1) 小红家一共种了多少棵桃树？

(2) 小刚家一共种了多少棵桃树？

7. 小军有 58 元钱。买文具盒用了 20 元，买彩笔用了 8 元，还剩多少元钱？

8. 少先队员计划 4 天修补图书 24 本，实际上比原计划多修补了 16 本，这 4 天实际修补了多少本？

9. 看图回答。



(1) 大客车有多少辆？

(2) 小汽车有多少辆？

(3) 你还能提出其他数学问题吗？并解答。

10. 小明，小强，小红，小花各得了 7 朵花，那么他们一共得了多少朵红花？

11. 图书柜里有连环画 8 本，故事书的本数是连环画的 7 倍，故事书比连环画多几本？

12. 小明家养鸡 32 只，养的鸭比鸡少 18 只。

(1) 养鸭几只？ 列式：_____ (只)

(2) 养的鸡和鸭一共有几只？ 列式：_____ (只)

13. 小芳写了 2 天大字，每天写 5 个。弟弟也写了 2 天大字，第一天写了 4 个，第二天写了 8 个。

(1) 小芳一共写了多少个大字？

(2) 弟弟一共写了多少个大字？

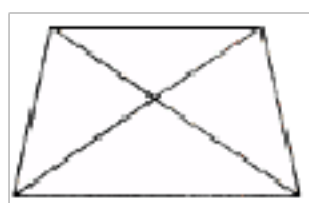
14. 参加旅游的男生是 38 人，参加旅游的女生是 19 人，参加旅游的男生比女生多多少人？

15. 小猫吃了 3 条鱼，还剩 33 条鱼，原来有多少条鱼？

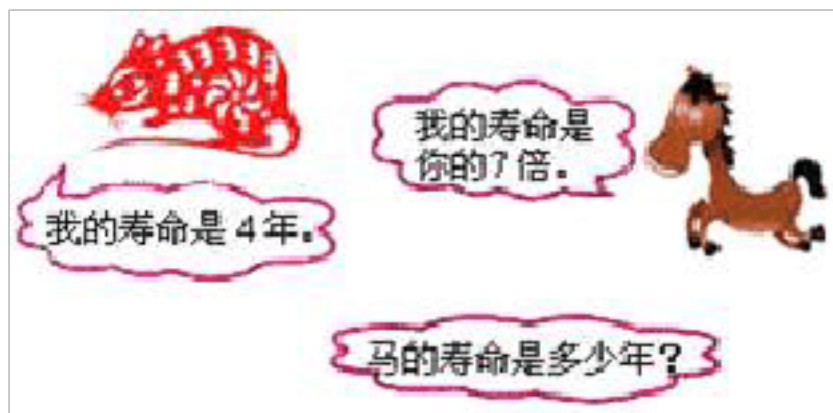
16. 二年级有 5 个班，每班有 4 名女学生参加舞蹈队，二年级一共多少人参加舞蹈队？后来舞蹈队又增加了 15 名男生，现在舞蹈队有多少人？

17. 宣传牌上画着小树，左边有 4 棵树，右边有 6 棵树，每棵树上画有 3 个三角形，宣传牌上一共有多少个三角形？

18. 数一数，下面图形中有多少个角？有多少个锐角？有多少个钝角？



19. 看图回答。



20. 应用题。

(1) 3 个小朋友一共钓上了 24 条鱼，平均每个小朋友钓了几条鱼

(2) 3 个小朋友为一组在一起荡秋千，一共有几人在荡秋千？

(3) 有 35 个小朋友跳绳，可以分成多少组？(你能用竖式计算这道题吗?)

(4) 合唱小组的人数是足球小组人数的几倍？

21. 一个书包 48 元，一盏台灯 46 元。妈妈带 100 元钱买这两样东西，够吗？

22. 兰兰家养了白兔 47 只，黑兔 19 只，17 只兔子正在吃萝卜。还有几只兔子没吃？

23. 爸爸买了 3 根铝合金的管子，每根长 4 米，共长多少米？

24. 看图回答。



(1) 哥哥看了多少页？

(2) 姐姐看了多少页？

25. 阳光小学的学生参加三项体育活动人数的统计表如下。请你算出跑步人数并填入表内。然后解决下面两个问题。

跳高	跑步	打球	总计
26人		18人	95人

(1) 请你算出跑步人数并填入表内。

(2) 跑步的比打球的多多少人？

(3) 跳高的比跑步的少多少人？

26. 解答题。



(1) 妈妈给小明买了一件衬衫和一条裤子，一共花多少元？

(2) 王宁买一顶帽子，给售货员 20 元，找回 8 元。一顶帽子多少元？

(3) 李阳买了一双鞋后，还剩 10 元。李阳带了多少元？

27. 二（1）班有女生 13 人，男生 17 人，又转来 5 人，二（1）班现在多少人？


28. 小华每天要写 9 个大字，她一个星期能写几个大字？

29. 王老师给 9 个同学发作业本，每人发了 3 本，还剩下 2 本，王老师一共有多少作业本？

30. 小文的身高为 1 米 26 厘米，明明站在一块高 15 厘米的木头上时，刚好与小文一样高。明明的身高是多少？



31. 小华身高 92 厘米，他再长高多少厘米就是 1 米？



32.

小胖的母亲烧完晚饭后剩下 21 只蛋，她用去了 4 只蛋。她一共买了多少只蛋？

33. 解答题。



(1) 小冬的铅笔长多少厘米？

(2) 你还能提出什么问题？

34. 学校航模组有 23 人，美术组有 35 人。

(1) 两个组一共有多少人？

(2) 美术组比航模组多多少人？

35. 一条绳子原来长 68 米，先用去 20 米，又用去 30 米，这条绳子还剩多少米？现在比原来短了多少米？

36. 小美收集了多少枚邮票？



37. 你知道吗？钢琴一共有几个键？



38. 小巧有 36 张云南丽江的明信片，从中选出 4 张送给小亚。小巧还有多少张明信片？

39. 一支笔 5 元，小亮要买 7 支笔，带了 40 元，够吗？

40. 二（1）班有 38 人，二（2）班有 45 人，二（1）班比二（2）班少多少人？

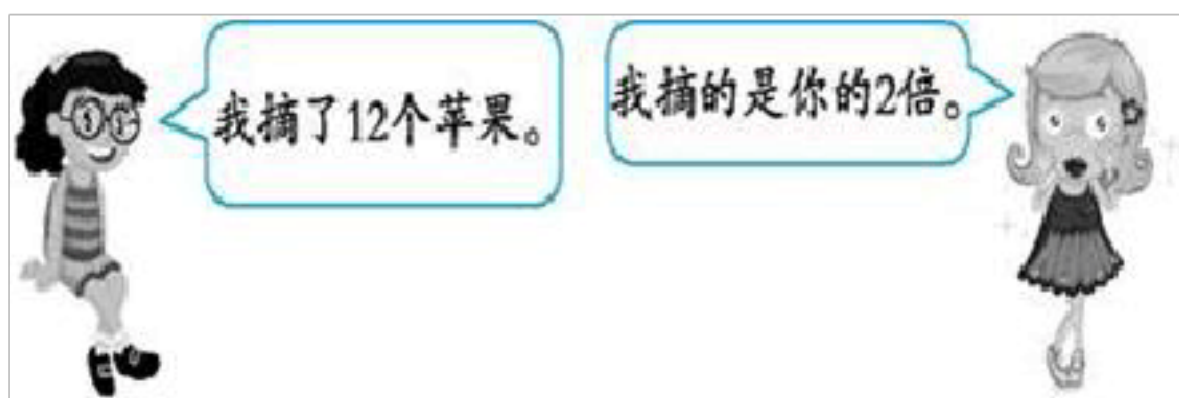
41. 《科学世界》每本 9 元，《连环画》每本 8 元，《探索奥秘》每本 24 元，《趣味数学》每本 7 元。

(1) 买 8 本《笔环画》一共多少钱？

(2) 买 5 本《科学世界》和一本《探索奥秘》，70 元够吗？

(3) 你还能提出什么数学问题？并解答。

42. 她们一共摘了多少个苹果？



43. 在解答下面题目时，小明、小花、小强、小丽列的算式不一样，你认为谁的正确。每辆车有 4 个轮子，有 36 个轮子，共有几辆车？

44. 二（1）班男生有 28 人，女生比男生少 8 人，女生有多少人？

45. 算一算。



(1) 买这三种学具共花了多少元?

(2) 拿 30 元钱买词典和文具盒, 够吗?

46. 菜店运来白菜 33 筐, 萝卜 28 筐, 运来的黄瓜比白菜和萝卜的筐数少 17 筐。运来黄瓜多少筐?

47. 面包师傅做了 54 个面包, 小明买走了 19 个, 小红买走了 25 个。你还可以买几个?

48. 盒子里有 50 粒糖, 小巧吃掉 18 粒糖, 现在盒子里还有多少粒糖?


49. 同学们去郊游, 租了 4 辆面包车, 每辆面包车坐 7 人, 所有人上车后还有 3 个空位。这次一共去了多少人?

50. 小亮家原来有 25 只兔子, 又买来 16 只兔子, 送给小明 19 只兔子, 还剩多少只兔子?

51. 每个学生宿舍有 3 张床, 5 个这样的宿舍有几张床?

52. 小兰今年 9 岁, 妈妈今年 36 岁, 妈妈比小兰大多少岁?

53. 吃虫子。



(1) 两只啄木鸟一共吃了多少条虫子?




(2) 大啄木鸟比小啄木鸟多吃多少条虫子?

54. 有 16 根香蕉, 每个小朋友要分给 5 根, 分给 3 个小朋友, 够吗?

55. 去超市。



(1) 小乐买 8 个  和 1 个  共需要多少钱？

(2)  的价格是  的 8 倍， 的价格是多少钱？

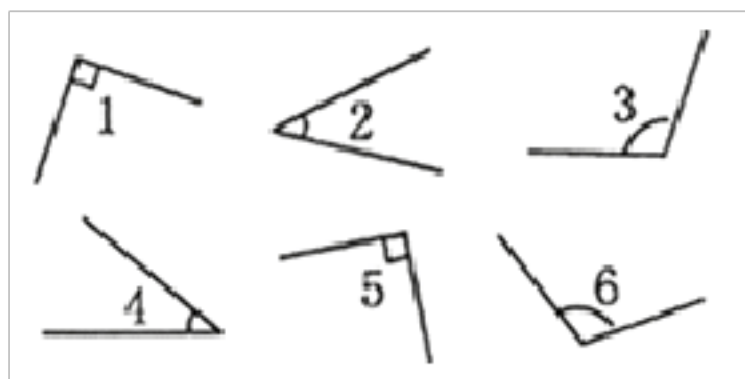
56. 一个水瓶 35 元，付 5 元一张的钱，要多少张？

57. 买一个熊一只笔多少钱？



58. 开心小学图书馆有绘本 45 本，故事书比绘本多 8 本。故事书有多少本？绘本和故事书一共有多少本？


59. 看一看，填一填。



锐角有：

直角有：

60. 一只老虎有 2 只眼睛，3 只老虎有多少只眼睛？



61. 如图。



(1) 买一袋大米和一桶油共要多少钱？

(2) 面条比大米便宜多少钱？

(3) 李阿姨想买一袋大米、一桶油和一包糖，她带了 60 元，够吗？

62. 把一根木头锯成 5 段，每锯 1 次需要 2 分钟，一共需要多少分钟？

63. 大公鸡，真美丽，跑来一只又一只，接着又来三只、四只、五只、六只、七只、八只。小朋友算一算，共有几只大公鸡？

64. 学校有 37 棵松树，43 棵柳树。你能提出什么问题？写出来，并进行解答。

65. 看图回答问题。

以上内容仅为本文档的试下载部分，为可阅读页数的一半内容。如要下载或阅读全文，请访问：<https://d.book118.com/225334320332012001>