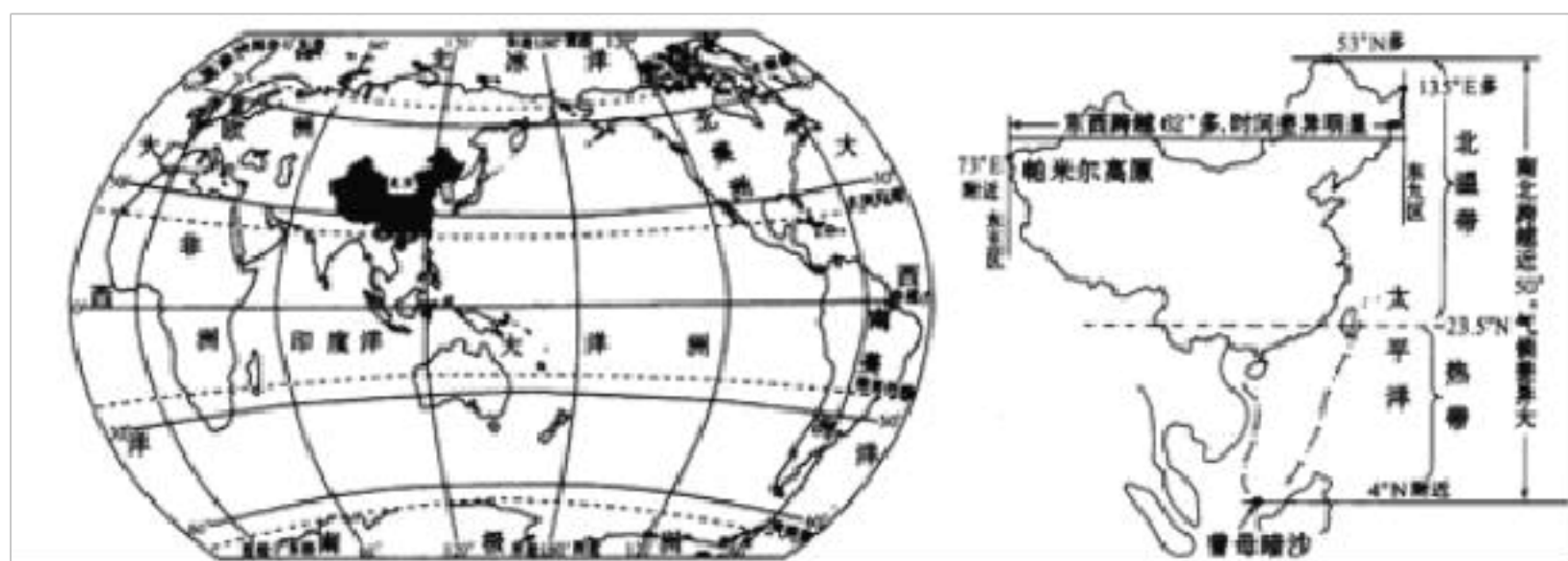


## 选择题

读图，回答下面小题。



【1】下列关于我国地理位置及其优越性的表述，不正确的是

- A. 我国位于亚洲东部、太平洋西岸
- B. 我国主要位于热带
- C. 我国东临太平洋，东部广大地区雨量较丰沛
- D. 我国领土跨纬度近  $50^{\circ}$ ，南北气候差异大，为我国发展多种农业经济提供条件

【2】我国东部濒临的海洋自北而南依次是

- A. 渤海、黄海、东海、南海
- B. 渤海、黄海、南海、东海
- C. 黄海、南海、东海、渤海
- D. 南海、渤海、东海、黄海

【3】我国疆域辽阔，当东部乌苏里江上旭日东升时，西部帕米尔高原上却繁星满天，这说明我国

- A. 跨纬度较大 B. 跨经度较大  
C. 跨东、西半球 D. 跨南、北半球

**【答案】**

**【1】** B

**【2】** A

**【3】** B

**【解析】**

**【1】**我国纬度位置处在 $53^{\circ}\text{N}$ — $4^{\circ}\text{N}$ 之间,所以大部分地区位于北温带,少部分位于热带;中国位于中低纬度地区,中国位于亚洲东部,太平洋的西岸,由于我国南北气候差异大,为我国发展多种农业经济提供条件,故答案选B。

**【2】**根据所学的知识可知,我国东部濒临的海洋自北而南依次是渤海、黄海、东海、南海,故答案选A。

**【3】**由于我国东西所跨的经度比较广,造成我国东部乌苏里江上旭日东升时,西部帕米尔高原上却繁星满天,故答案选B。

该题主要考查的是我国地理位置及其优越性,要求学生具有较强的读图分析问题的能力。

选择题

我国疆域辽阔,陆地领土面积约 ( )

- A. 930 万平方千米 B. 960 万平方千米  
C. 970 万平方千米 D. 990 万平方千米

**【答案】** B

**【解析】**

根据我国的领土面积，进行分析解答。

我国领土面积约 960 万平方千米，差不多与整个欧洲的面积相等。故选：B。

选择题

我国面积最大的岛屿是（ ）

- A. 海南岛 B. 台湾岛  
C. 崇明岛 D. 钓鱼岛

**【答案】** B

**【解析】**

试题我国是一个海陆兼备的国家，拥有漫长的海岸线和众多的岛屿，其中面积在 500 平方米以上的岛屿有 6500 个，面积大的岛屿主要有台湾岛、海南岛和崇明岛，台湾是我国面积最大的岛屿，约 36000 平方千米，其次是海南岛约 33000 平方千米，崇明岛是第三大岛屿，约 1000 平方千米，钓鱼岛面积很小，不到 5 平方千米，故选 B。

## 选择题

位于我国地势第一级阶梯的盆地是

A.塔里木盆地 B.柴达木盆地 C.准噶尔盆地 D.四川盆地

**【答案】** B

**【解析】**

中国地势西高东低，呈三级阶梯分布；第一级阶梯包括青藏高原和柴达木盆地，地形以高原为主；第二级阶梯包括塔里木盆地、准噶尔盆地、四川盆地、内蒙古高原、黄土高原、云贵高原，地形以高原、盆地为主；第三阶梯主要包括东北平原、华北平原、长江中下游平原，以及辽东丘陵、山东丘陵和江南丘陵，地形以平原和丘陵为主；B符合题意。

## 填空题

我国夏季最低气温出现在青藏高原,其影响因素是( )

A. 海陆位置 B. 地形因素 C. 纬度位置 D. 人烟稀少

**【答案】** B

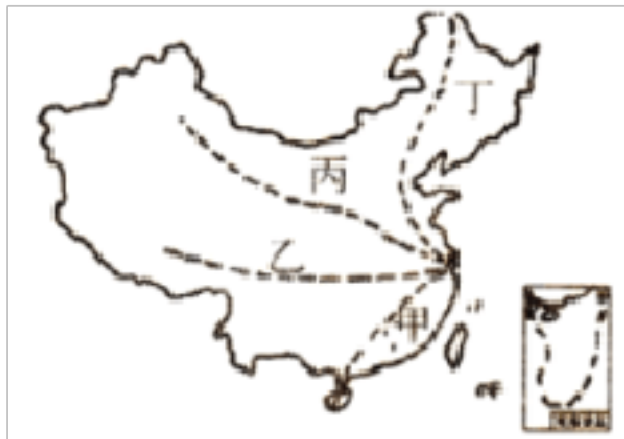
**【解析】**

我国夏季时南北普遍高温，其中最低气温出现在青藏高原,其影响因

素是由于青藏高原海拔高，气温低，故选 B。

### 选择题

家住淮安的赵刚用暑期浏览祖国的大好河山，他设计的浏览线路如下图所示，据图回答下列各题。



【1】经过我国地势三级阶梯的路线是

A. 甲路线 B. 乙路线 C. 丙路线 D. 丁路线

【2】能到达我国冬季气温最低地区的路线是

A. 甲路线 B. 乙路线 C. 丙路线 D. 丁路线

【3】能到达有跨纬度最广的省区的路线是

A. 甲路线 B. 乙路线 C. 丙路线 D. 丁路线

【4】能到达我国面积最大的省级行政区的路线是

A. 甲路线 B. 乙路线 C. 丙路线 D. 丁路线

【答案】

【1】 B

【2】 D

【3】 A

**【4】 C**

**【解析】**

我国第一级阶梯包括青藏高原和柴达木盆地，地形以高原为主；第二级阶梯包括塔里木盆地、准噶尔盆地、四川盆地、内蒙古高原、黄土高原、云贵高原，地形以高原、盆地为主；第三阶梯主要包括东北平原、华北平原、长江中下游平原，以及辽东丘陵、山东丘陵和江南丘陵，地形以平原和丘陵为主。

**【1】**读图可得，甲和丁路线经过的地方主要位于第三阶梯，丙路线经过的地方主要位于二三阶梯，乙路线自西向东经过的地形区是青藏高原、四川盆地和长江中下游平原，该路线经过我国地势的三级阶梯；故选：B。

**【2】**我国冬季最冷的地方是黑龙江的漠河，四条路线中能经过漠河的是丁路线，故选D。

**【3】**海南省跨纬度最多，从最北端的海口到最南端的曾母暗沙跨纬度16度32分，四条路线中能到达海南省的是甲路线，故选：A。

**【4】**我国面积最大的省级行政区是新疆维吾尔自治区，面积166万平方千米，维吾尔族主要分布在新疆维吾尔自治区，图中的丙路线能够到达新疆维吾尔自治区；故选：C。

本题主要考查了我国主要的自然特征。

选择题

我国人口密度较大的省区多分布在（ ）

- A. 黑河 - 腾冲线以东 B. 黑河 - 腾冲线以西  
C. 漠河 - 腾冲线以东 D. 漠河 - 腾冲线以西

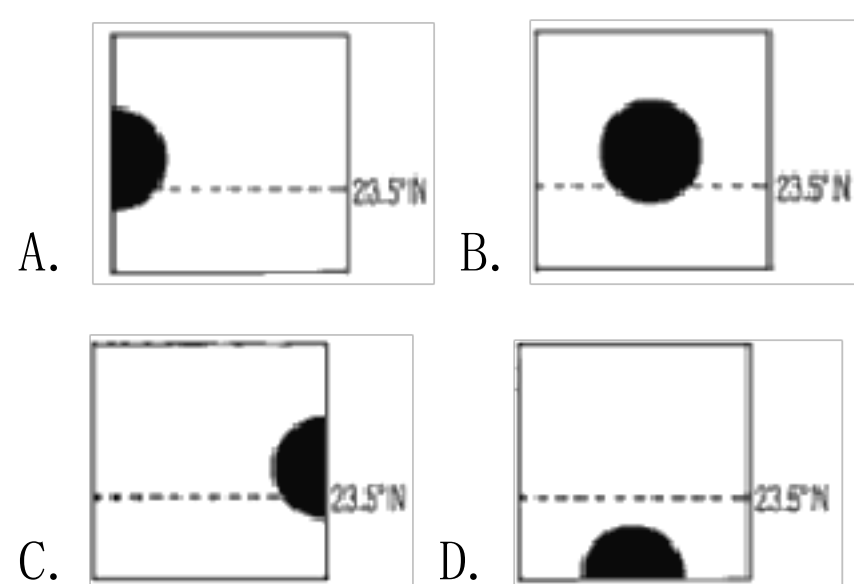
【答案】 A

【解析】

黑河 - 腾冲线是我国的人口地理分界线，我国人口分布不均匀，该线以东人口密度大，该线以西人口密度小。故选 A。

选择题

正方形表示亚欧大陆，图中阴影能正确反映中国位置的是（ ）



【答案】 C

【解析】

我国位于亚洲的东部、太平洋的西岸，领土大部分位于  $23.5^{\circ}$  -  $36.5^{\circ}$  N 之间的北温带，小部分位于北回归线以南的热带，陆地面积约为 960

万平方千米，全部位于东半球和北半球，从图中看，与 C 表示的中国位置相符，故选 C。

### 选择题

关于我国人口和民族的叙述，正确的是

- A. 我国人口的分布是南方人口多，北方人口少
- B. 因为出生率高，目前我国每年新增大量人口
- C. 我国民族分布的特点是“小散居、大聚居、交错杂居”
- D. 我国少数民族主要分布在西南、西北和东北地区

**【答案】**

**【解析】**

试题我国人口的分布特点是东部人口多、西部人口少；由于我国的人口基数大，每年新增人口多；我国民族的分布特点是“大散居、小聚居，交错杂居”，我国的少数民族主要分布在西南、西北和东北地区，故选 D。

### 选择题

下列关于我国自然环境的描述，不正确的是



- A.地势西高东低 B.大江大河多滚滚东流  
C.地形以平原和高原为主 D.气候复杂多样,季风气候显著

**【答案】** C

**【解析】**

我国地势西高东低，有利于海洋湿热气流深入内地，形成降水，使许多大江大河多滚滚东流，故 A、B 叙述正确；

我国地形以山地和高原为主，故 C 叙述错误；

我国的气候特征是气候复杂多样，季风气候显著，故 D 叙述正确。

故选：C

## 选择题

2016 年 1 月我国全面放开“二孩”政策，据此,回答下面小题。

**【1】**启动全面放开“二孩”政策的原因是

- A. 我国人口老龄化日趋严重 B. 我国人口出生率高  
C. 我国人口出现负增长 D. 我国自然增长率太高

**【2】**此政策将对我国产生的长远影响可能有

- A. 改变人口空间分布格局,呈东少西多局面 B. 缓解劳动力不足的问题  
C. 解决男女比例失调问题 D. 人口素质得到大幅提高

**【答案】**

**【1】** A

**【2】** B

**【解析】**

**【1】** 由于我国人口老龄化日趋严重，形成我国生育政策三年内从“单独二胎”到“全面放开二孩”的变化，故答案选 A。

**【2】** 全面放开二孩政策，会增加我国儿童和青壮年的数量，改变我国人口结构，减少老年人在我国人口中所占的比重，延缓人口老龄化；故答案选 B。

选择题

美食一条街上，来自广东的贝贝看到挂着“鲁菜”“川菜”“湘菜”“粤菜”等招牌的店。如果他想吃家乡菜，他应该进哪种招牌的店（ ）

A. 湘菜 B. 川菜 C. 鲁菜 D. 粤菜

**【答案】** D

**【解析】**

我国共有 34 个省级行政区，每个省级行政区都有自己的简称和行政中心，如我国各地的菜系是以本省的简称命名的，来自广东的贝贝想要吃家乡菜，应该进粤菜店，故选 D。

## 选择题

下列有关我国河流的叙述,正确的是

- A. 额尔齐斯河是我国最大的内流河
- B. 黄河年径流量仅次于长江,是我国第二大河
- C. 长江洪水对长江流域危害最严重的地区是长江上游地区
- D. 我国南方河流水量大,汛期长,无结冰期

**【答案】** D

**【解析】**

- A、塔里木河是我国最大的内流河。故 A 不符合题意；
- B、黄河的长度仅次于长江，是我国第二长河。故 B 不符合题意；
- C、长江洪水对长江流域危害最严重的地区是中下游地区。故 C 不符合题意；
- D、以秦岭-淮河线为界，以南地区的河流主要流经湿润地区，水量丰富，汛期长，含沙量小，冬季河流不结冰。故 D 符合题意。

故选：D

## 选择题

读我国某条大河示意图，回答下列各题。



**【1】**“黄河之水天上来，奔流到海不复回”中的“天”和“海”分别指的是（ ）

- A.唐古拉山和东海 B.巴颜喀拉山和渤海  
C.喜马拉雅山和东海 D.昆仑山和渤海

**【2】**黄河中游流经的主要地形区是\_\_\_\_\_。

- A.内蒙古高原 B.青藏高原 C.云贵高原 D.黄土高原

**【答案】**

**【1】** B

**【2】** D

**【解析】**

**【1】**黄河发源于青藏高原的巴颜喀拉山，注入渤海，诗句“黄河之水天上来，奔流到海不复回”中的“天”和“海”分别指巴颜喀拉山和渤海；故选：B。

**【2】**黄河中游流经的地形区是黄土高原，该高原的环境问题是水土流失；故选：D。

本题主要考查我国黄河的概况，属于基础题。

选择题

以上内容仅为本文档的试下载部分，为可阅读页数的一半内容。如要下载或阅读全文，请访问：<https://d.book118.com/226131200240011003>