

2024年04月河北邯郸科技职业学院博硕引才26人笔试

历年典型考题与考点剖析含答案详解

(图片大小可自由调整)

一、单项选择题(共125题)

1、

回归教育，是一种认为人的一生应是学习和工作不断交替、相互结合的过程，接受义务教育或基础教育乃至高等教育后就业的成年人，应在需要时有返回学校去学习的机会的理论。

下列教育类型属于回归教育的一项是_。

- A.九年义务教育
- B.某厂技术人员为充电，到本单位举办的职工夜校补习英语
- C.幼儿园学前教育
- D.中等职业学校学生二年全日制学习之后参加一年的实习

解析：

参考答案：B

本题的中心语为：学习和工作不断交替，接受义务教育或基础教育乃至高等教育后就业的成年人，有需要时返回学校学习。A项是义务教育；C项是基础教育；D项是基础教育。故选B。

2、

江西素有“物华天宝，人杰地灵”的美誉，这里人文荟萃，人才辈出，唐宋八大家中江西就有三人，下面不属于这三人作品的是_。

- A.《西游记》
- B.《上欧阳舍人书》
- C.《醉翁亭记》
- D.《答司马谏议书》

解析：

参考答案：A

[解析]

唐宋八大家江西有三人：欧阳修、曾巩和王安石。王安石著有《答司马谏议书》。《上欧阳舍人书》的作者是曾巩。《西游记》的作者是明代文学家吴承恩。《醉翁亭记》作者为欧阳修，故选A。

3、

钢铁被用来建造桥梁、摩天大楼、地铁、轮船、铁路和汽车等，被用来制造几乎所有的机械，还被用来制造包括农民的长柄大镰刀和妇女的缝衣针在内的成千上万的小物品。

这段话主要支持了这样一种论点，即钢铁_

- A.是一种丰富的金属
- B.是所有金属中最硬的
- C.具有许多不同的用途
- D.是唯一用于建造摩天大楼和桥梁的物质

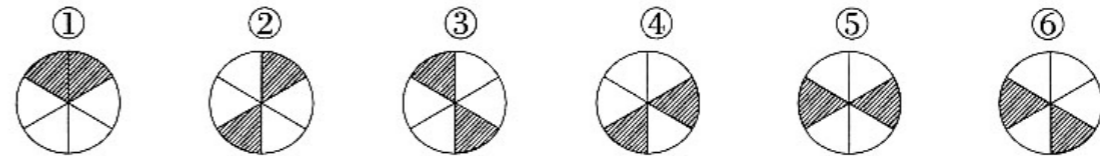
解析：

参考答案：C

[解析]由题意可见，钢铁的用途非常多，故选C。

4、

把下面的六个图形分为两类，使每一类图形都有各自的共同特征或规律，分类正确的一项是：



- A.①②③, ④⑤⑥
- B.①③④, ②⑤⑥
- C.①③⑥, ②④⑤
- D.①④⑥, ②③⑤

解析：

参考答案：D

[解析]

图形②③⑤中均为相对的阴影，且各不相同，组合正好可得到一个完整的圆。此时，图形①④⑥含有不同部分的阴影，且阴影相加也构成一个完整的圆。

5、

下列不属于行政奖励的是_。

- A.优待补助
- B.通报表扬
- C.授予荣誉称号
- D.给予奖金或奖励

解析：

参考答案：A

6、

西南赛区四支球队为了争夺小组第一名而进行小组循环赛，已知小马队已比赛了3场，小熊队已比赛了2场，小龙队已比赛了1场，问小牛队比赛了几场?_

- A.3
- B.2
- C.1
- D.0

解析：

参考答案：B

[解析] 小马队已比赛了3场，说明小马队和小熊队、小龙队、小牛队各打了1场；小龙队已比赛了1场，说明小龙队只和小马队比赛了1场。

小熊队已比赛了2场，因为和小马队比赛了1场，所以还有1场比赛。因为小龙队只和小马队比赛过，所以小熊队只能和小牛队进行比赛。

因此小牛队比赛了2场，分别是和小马队、小熊队进行的比赛。故应选B。

7、

纬度：洋流：气温

- A.基因：环境：性状
- B.阳光：空气：萌发
- C.压力：面积：摩擦力
- D.光线：反射：彩虹

解析：

参考答案：A

[解析] 纬度和洋流是影响气温的因素，基因和环境是影响生物体性状的因素，故选A。B项，一般条件下，阳光与种子萌发无关。C项，摩擦力的影响因素是压力以及接触面的粗糙程度，与面积无关。D项，光线经过水珠时，发生反射和色散才形成彩虹，逻辑关系与题干不同。故选A。

8、

每一个人都有着自己的过去，在此基础上迎接着将来。这个体验性的过去创造出了潜在意识。在这当中，对现在的思维起巨大作用的潜在意识，是在幼儿时的一张白纸的时候，受到父母及周围环境的影响形成的。

这段文字接下来将要谈论的应该是_。

- A.潜在意识对思维的影响
- B.过去对未来的意义
- C.潜在意识的形成过程
- D.父母及环境对幼儿的影响

解析：

参考答案：C

[解析] 由材料最后一句“受到父母及周围环境的影响形成的”可以推断后面将要谈论的是潜在意识是怎样受到父母及周围环境的影响而形成的，所以本题应该选择C。

9、

黑夜，静寂得像死一般的黑夜!但是黎明的到来，毕竟是无法抗拒的。索洛警告美国人当心枕木下的尸首，我也想警告某一些人，当心呻吟着的那些锭子上的冤魂。

这段话表达了作者_。

- A.对黎明的期待
- B.对黑暗社会无比憎恨，又深刻地揭示黑暗终将过去
- C.对美国人的憎恨和对劳动人民的同情
- D.对社会的反思与认识

解析：

参考答案：B

[解析] A、C片面；D项扩大了作者的本意；从文段理解作者只是对现实的看法，还没有上升到对社会的反思。

10、

投资是指实际资本的形成，可以看作是以牺牲当前消费来增加未来消费的行为。

根据以上定义，下面不属于投资行为的是()。

- A.老张为其干洗店又买了一台干洗机
- B.老李将一笔钱存入银行
- C.老林购进一台机床
- D.老赵购进5000只猪仔饲养

解析：

参考答案：B

[解析] 存钱是储蓄行为，不是投资行为。

11、

目前，我国新能源汽车推广的战略方向是在公共交通领域进行示范应用，截至2012年12月，全国约有27800辆新能源汽车，其中80%是公交车，但是汽车生产商认为，新能源汽车在全社会的推广还比较艰难，短期内难以大规模普及。

以下哪项如果为真，不能支持厂商的观点?_____

- A.另外20%的新能源汽车大部分是机关单位公务用车
- B.新能源汽车的维修网点等配套设施尚不完善
- C.新能源汽车的性能与普通汽车无异
- D.目前公众的节能环保意识还不强

解析：

参考答案：C

[解析]

论点是“新能源汽车在全社会的推广还比较艰难，短期内难以大规模普及”，如果C选项为真，新能源汽车的性能与普通汽车没有差别，新能源汽车不容易推广就少了一条理由，因此不能支持厂商的观点。故本题答案选C选项。

12、

甲村与乙村毗邻，乙村的用水源自流经甲村的小河，多年来，两村经常因用水问题发生冲突。为根本解决问题，县政府决定将这条小河的水流交给乡水管站统一调配。甲村认为这条小河在历史上就属于该村所有，县政府无权将这条河的水流交水管站统一调配，将县政府告上法院。根据现行宪法和法律，下列说法中正确的是_____。

- A.甲村告得有理，因为水流属于集体所有，政府统一调配用水应事先征得甲村同意
- B.甲村告得有理，因为这条小河的河床属于甲村所有，这条小河的水流当然也属于集体所有
- C.县政府的决定合法，因为水流属于国家所有，政府当然有权调配河水的供应
- D.县政府的决定合法，因为水流虽然属于甲村所有，但乙村人也有喝水用水的权利，为了解决乙村的用水问题，县政府可以将水流供应统一调配

解析：

参考答案：C

[解析]

水流是专属于国家的，所以只有C项是正确的。这个题目似乎内容很多，但实际上想考查的问题却很简单，所以，在考试中，如果遇到类似问题，一定要对问题进行仔细分析，找出其中的关键点。

13、

二十世纪八九十年代，人们过年的休闲娱乐方式还很单一，主要就是在家里看电视。而电视节目又比较匮乏，需要有关部门多组织几台晚会，满足观众的精神文化需求，营造欢乐祥和的过年氛围。如今时代不同了，从央视各套节目到地方上星卫视，荧屏内容丰富多彩，单是地方卫视春晚就让人应接不暇了。同时，人们过年也不再是守着电视看晚会，出门旅游、聚会K歌、上网聊天、游玩庙会等等，都是可供

选择的方式。在这一背景下，传统意义上的“春节四大晚会”就显得有些臃肿了。

这段文字意在说明_____。

- A.春节的年味越来越淡
- B.人们过年的休闲娱乐方式发生了很大变化
- C.应改革传统意义的春节晚会以满足新时代观众的精神文化需求
- D.春晚应该多些创意，不要千篇一律

解析：

参考答案：C

[解析]

文段通过人们过年的休闲娱乐方式从上世纪八九十年代单一在家看电视，到各个卫视春晚让人应接不暇，及人们选择出游、聚会等过年的娱乐方式变化，引出“在这一背景下，传统意义上的‘春节四大晚会’就显得有些臃肿”，从而可以推出，观众对传统意义春晚的关注程度降低，因此应改革传统意义的春节晚会以满足新时代观众的精神文化需求，C项当选。A项属于无中生有；B项的主题是人们过年的休闲娱乐方式，与文段主题不符；D项不是文段意在强调的内容。本题答案为C。

14、

事物的发展，内因是根据，外因是条件，内因和外因同时具备才能使事物发生质的飞跃。因此下列正确的是：_____

- A.石头是不可能孵出小鸡的
- B.好人是不可能变坏的
- C.学生在学习中，老师的教是外因，自己的学习是内因
- D.有鸡蛋还必须保证有适当的温度才能孵出小鸡

解析：

参考答案：D

15、

个人所得税纳税主体是指在中国境内有住所，或者无住所而在境内居住满一年的个人，从中国境内和境外取得的所得，在中国境内无住所又不居住或者无住所而在境内居住不满一年的个人，从中国境内取得所得的个人。下列不必交个人所得税的一项是_____。

- A.中国公民李先生在一合资公司上班，每月工资四千元
- B.外国专家理查森在中国某大学当教授，工资五万元
- C.美国总统到中国访问十天
- D.李小姐住在北京，打工收入每月三千元

解析：

参考答案：C

16、

甲、乙、丙、丁四位球迷有一段对话。甲说：“Y球队能进入决赛。”乙说：“如果X球队能进入决赛。那么Y球队也能进入决赛。”丙说：“我看Y球队不能进入决赛，但X球队能进入决赛。”丁说：“X球队不能进入决赛。”

如果四人中只有一人是对的，那么可以推出：

A.X和Y球队都能进入决赛

B.X球队不能进入决赛，Y球队能进入决赛

C.X和Y球队都不能进入决赛

D.X球队能进入决赛，Y球队不能进入决赛

解析：

参考答案：D

[解析]

乙的话和丙的话是矛盾命题，必有一真一假。由题干中只有一人是对的，则甲和丁的话是假的，由甲的话为假可推出“Y球队不能进入决赛”，由丁的话为假可推出“X球队能进入决赛”。故答案选D。

17、

下列不属于人体肝脏的功能的是_____。

A.解毒功能

B.防御功能

C.血糖转化功能

D.消化功能

解析：

参考答案：D

[解析] 肝可以分泌胆汁，胆汁具有消化作用，但肝没有消化功能。故选D。

18、

下列自然科学中受到中世纪神学束缚最大的科学是_____。

A.化学

B.生物学

C.物理学

D.数学

解析：

参考答案：B

[解析]

生物学受中世纪神学的束缚最大，因此17、18世纪的生物学家，只能在不触犯教会禁令的情况下，对动植物的形态、生理以及分类作些具体的研究工作。17世纪早期，英国科学家哈维建立了血液循环学说，对人体的工作原理有了正确的基本了解，是现代生理学的起点。18世纪时，瑞士生物学家林耐制定了对植物的分类法。

19、

商业贿赂：是指经营者在市场交易活动中，为争取交易机会，特别是为争得相对于竞争对手的市场优势，通过秘密给付财物或者其他报偿等不正当手段收买客户的负责人、雇员、合伙人、代理人和政府有关部门工作人员等能够影响市场交易的有关人员的行为。

根据以上定义，下列陈述中不属于商业贿赂的是_____。

A.西安市开元商场在国庆节期间以30%的折扣让利销售

B.某建筑公司在承包工程时，给主管主领导以5%的折扣

C.某供货商为零售商场的经理提供免费度假机会

D.某推销商以高档宴席请他的业务主管

解析：

参考答案：A

[解析] A项所述不属于“秘密给付”，不具有秘密性。故正确答案为A。

20、

以下实例中，利用“移开可燃物”原理灭火的是_____。

A.实验时酒精不慎洒出并燃烧，用湿抹布盖灭

B.高楼失火，用高压水枪向着火处喷水灭火

C.森林火灾时，用炸弹轰炸灭火

D.森林火灾时，将火焰蔓延线路前的小片树林砍掉

解析：

参考答案：D

21、

假如一个人的行为对他人和社会造成损害性影响，他人或社会当然可以对他进行指责和干涉。但假设情况不是这样呢?例如，一个人在他独居的房子里抽烟，一个人在旷野里大喊大叫，一个人在半夜里上网浏览，该不该管?我认为，对一种行为是否干涉，取决于这种干涉是否有利于公众利益的改善，是否侵犯了当事人的合法权利，等等。

下面哪一项是题干中的说话者最愿意接着说的?

A.社会利益总是优先于个人利益

- B.对个人行为的干涉并不提高社会整体的利益
- C.未损害他人利益的行为不应当受到社会的指责和干涉
- D.当一个人的行为对他人有利时，一个社会的总体利益就得到提高

解析：

参考答案：C

[解析]

推论推理题。题干的认为：对一种行为是否干涉，取决于这种干涉是否有利于公众利益的改善，是否侵犯了当事人的合法权利。C项正表达了这个意思。其余选项均与题干的意思不符合。

22、


最受欢迎的电视广告中有一部分是滑稽广告，但作为广告技巧来说，滑稽正是不利之处。研究表明，虽说很多滑稽广告的观众都能生动地描述起这些广告，但很少有人记得推销的商品名称。因此，不管滑稽广告多么有趣，多么赏心悦目，其增加商品销售量的能力值得怀疑。上文的假设条件是哪一个?_

- A.在观众眼里，滑稽广告降低了商品信誉
- B.滑稽广告虽然可看性强，但常常不如严肃的广告那样容易被人记住
- C.不能使商品提高知名度的广告是不能促进销售量的增加的
- D.滑稽广告疏远的观众可能和欣赏它的观众一样多

解析：

参考答案：C

23、



A



B



C



D

解析：

参考答案：A

24、

行政诉讼强制的主体是_。

- A.行政主体
- B.有权国家机关
- C.人民检察院
- D.人民法院

解析：

参考答案：D

25、

胡蜂在本能的作用下_____地营造自己的生活、生育中心，它的巢是一个_____的纸房子。蔡伦如果在改进造纸术之前目睹过胡蜂的建筑过程而受到启发。无疑便是世界上最早的仿生学家了。

填入画横线部分最恰当的一项是：

- A.独具匠心 名不虚传
- B.自然而然 货真价实
- C.兢兢业业 巧夺天工
- D.无师自通 名副其实

解析：

参考答案：D

[解析]

由“本能”可知，胡蜂营造自己巢穴的技能未过后天的学习，是与生俱来的。选项中与此意最接近的为“无师自通”。第二空中，“名副其实”意为名义和实际相符。填入句中肯定了胡蜂巢穴纸质的特征，与后句蔡伦受到启发改进造纸术相符。故本题选D。

26、

小红从小丽那里借来一本书，每天看5页，7天看完这本书的一半，以后每天多看2页，正好在借期看完，这本书的借期是几天?

- A.10
- B.12
- C.14
- D.15

解析：

参考答案：B

27、

腊肠：肠衣：肉馅

A.桔汁：蜜桔：陈皮

B.粽子：粽叶：糯米

C.馄饨：猪肉：面皮

D.黄豆：豆浆：腐竹

解析：

参考答案：B

[解析] 肉馅包在肠衣里制成腊肠，糯米包在粽叶里做成粽子。故答案选B。

28、

近水楼台：先得月

A.打开窗户：说亮话

B.初生牛犊：不怕虎

C.车到山前：必有路

D.宰相肚里：能撑船

解析：

参考答案：B

[解析]

因为靠近水边的楼台所以才会先得到月光，比喻由于接近某些人或事物而抢先得到某种利益或便利；前后为因果关系。B项刚生下来小牛因为其经验较少而不怕老虎，比喻因经验较少、情感较少或没有主观的生物在做事情的时候没有顾虑，敢作为；前后为因果关系。故本题选B。

29、

一个四分钟标准的沙漏和一个五分钟标准的沙漏进行6分钟的计时，中途至少需要将沙漏颠倒几次？

A.2

B.3

C.4

D.5

解析：

参考答案：A

[解析]

两个沙漏同时开始计时，四分钟沙漏流尽时颠倒过来，等五分钟沙漏流尽时再把四分钟沙漏颠倒，其再次流尽时恰好过了6分钟。中途至少颠倒2次，选A。

30、

教室：学生

A.生猪：工厂

B.山野：猎手

C.农民：阡陌

D.野兽：旷野

解析：

参考答案：B

[解析] 题干中的教室是场所，学生是人物，符合这个条件的只有B项，其他三个选项都反了。

31、

有时候：经常

A.有些：很多

B.很多：更多

C.有些：大多数

D.很多：较少

解析：

参考答案：A

32、

991×0.001+991×0.999的值是()。

A.99.1

B.991

C.9910

D.9.91

解析：

参考答案：B

33、

周庄旅游收入已连续多年超亿元大关。在苏南，与周庄媲美的文化古镇虽不在少数，但旅游收入却只能望周庄而兴叹。当地的一位老人说，上世纪70年代陈逸飞画了这里的双桥，此画在美国展出时获奖并被石油大亨哈默斥巨资收藏。1979年邓小平访美时，哈默将此画赠给他，并说这是中国上海附近的一个小镇。如今，游览江南古镇，周庄已成为首选。

对这段文字理解最准确的是：_____

- A.文化传播可以成为城镇发展的重要契机
- B.旅游是城镇经济快速发展的突破口
- C.文化交流是国际交流的重要内容
- D.文化是促进经济发展的重要力量

解析：

参考答案：A


[解析]

文段首先指出了周庄与其他文化古镇相比，旅游收入尤为可观，接下来说明了产生这种现象的原因——陈逸飞作品的“传播”使周庄更具知名度。由此可知，文化传播对经济发展起着重要的作用。故A项为正确答案。

本题的干扰项为D。D项中的“文化”确实是促进经济发展的重要力量，但是文中着重说的是“文化的传播”，因为其他古镇也有与周庄媲美的文化。但是旅游收入却相差甚远，故不选。

34、

从所给的四个选项中，选择最合适的一个填入问号处，使之呈现一定的规律性：



解析：

参考答案：A

[解析]

九宫图第一行的图形都能一笔画成，第二行的图形都由两笔画成，第三行的图形都由三笔画成，只有A项符合。

35、

某政府工程揽标，甲乙丙丁公司参与投标，在标底公布以前，各公司经理分别作出推测。

甲公司经理说：我们公司最可能中标，其他公司不可能。

乙公司经理说：中标的不是甲公司就一定是我们公司。

丙公司经理说：四个公司中会中标的一定是我们公司。

丁公司经理说：中标的公司一定出自乙和丁公司。

若四人中只有一人预测成真，以下选项中哪项最可能为真？

- A.甲公司预测成真
- B.乙和丙公司预测失败
- C.甲和乙公司预测失败
- D.丁公司预测成真

解析：

参考答案：C

[解析]

从题干四人的猜测来看，甲公司和乙公司都有两人猜测中标，若假设这两个公司其中之一中标，则有两人的猜测正确，与“只有一人预测成真”矛盾。故甲、乙两公司均未中标，则甲、乙公司预测均失败。无法确定是丙公司还是丁公司中标。答案选C。

36、

_____。200多年前，美国“皇后号”商船首航中国，揭开了两国民间交往的序幕。160多年前，第一名中国留学生容闳赴美求学，开启了两国公派留学交流的历史。40多年前，美国乒乓球队受邀访华，“小球转动大球”，两国关系的坚冰被一举打破。人文交流为促进两国民众相识、相知，为推动中美关系的发展，发挥了基础性、先导性甚至关键性作用。

填入画横线部分最恰当的一项是：_____

- A.中美人文交流的历史源远流长
- B.中美关系是当今世界最重要的双边关系
- C.加强人文交流是中美关系发展的基石
- D.中美两国民间的交往由来已久

解析：

参考答案：A

[解析]

文段为总分总结构，首尾呼应，尾句强调“人文交流”对中美关系发展的重要性。B、D两项均未体现这一主题词，排除。通过“200多年前”“160多年前”“40多年前”可知，文段不仅强调文化交流的重要性，还强调其可以追溯到很久以前。故本题选A。

37、

个体总是生活在一定的制度安排中，中国传统儒家制度安排大多是非正式的，强调行为规则的内化过程，不重视外在强制约束，具有较高的灵活性。因此()。

- A.儒家制度具有现代性
- B.在儒家制度安排下，个体可以随心所欲，不受约束
- C.在儒家制度安排下，个体能以自我对制度规则的理解来灵活地调整自己的行为规则
- D.在儒家制度安排下，个体能获得最大的自由

解析：

参考答案：C

38、

疯狂扩散的蓝藻起初并没有使人们感到_____。往年正常情况下，它顶多影响太湖的一些景观，不会带来什么骚乱。雨季一来，这些小生物会被大量的雨水冲刷稀释，人们会渐渐_____它，直到第二年的来临。还有一些农民把它们捞起来当肥料，_____地称之为“海油”。

依次填入画横线部分最恰当的一项是_____。

- A.焦虑 淡忘 亲切
- B.担忧 漠视 形象
- C.异样 适应 生动
- D.奇怪 习惯 幽默

解析：

参考答案：A

[解析]

第二句中蓝藻被雨水冲刷稀释后，空缺处用“适应”“习惯”明显与句意无法照应，排除C、D两项。题干讲述的是当地农民对蓝藻的不重视，在第三个空缺处，用“亲切”有讽刺意味，更生动地体现了人们对蓝藻的不重视。故选A。

39、

一件可能使人感到吃惊的事实是，目前不但世界粮食产量的增长速度超过了人口的增长速度，而且同世界上人均收入的增长速度相比，粮食增长速度也是较快的，甚至其他商品价格的增长速度也比不上粮食的增长速度。尽管如此，今天在全世界仍有很多人人口得不到充足的粮食。据估计，由于缺粮而面临饥饿的人口有3.4到7.3亿之多。他们大都集中在南亚和非洲撒哈拉以南的地区。

这段文字想要说明的问题是_____。

- A.世界粮食产量的增长速度超过了人口的增长速度
- B.尽管世界粮食生产充足，但仍有很多人人口得不到充足的粮食
- C.其他产品价格的增长速度比不上粮食的增长速度
- D.因缺粮而面临饥饿的人口有3.4到7.3亿之多

解析：

参考答案：B

[解析]

注意文中前后语句的变化。前面讲述粮食产量的增长速度超过人口的增长速度，后面出现转折词语“尽管如此”，又列举出饥饿的人口数据，从而，直接选出B项为本题答案。故选B。

40、

蓄电池的充放电过程从微观的角度看，实际上是一个阳离子在电极中“镶嵌”和“脱离”的过程。电极材料中的孔洞越多，这个过程进行得越迅速，从宏观的角度看则表现为蓄电池充放电的速度越快。石墨烯由碳原子组成，薄到极限(只有一层原子的厚度)，所以阳离子的移动所受限制很小；同时它也具有网状结构，由石墨烯所制成的电极材料拥有足够多的孔洞。因此，石墨烯是一种非常理想的电极材料。

根据这段文字，下列说法不正确的是：_____

- A.蓄电池充电实际上是阳离子在电极中“脱离”的过程
- B.电极材料中的孔洞越多，蓄电池充放电的速度越快
- C.石墨烯的结构特点决定了它是一种优良的电极材料
- D.石墨烯在微观上可无限接近二维结构

解析：

参考答案：A

[解析]

A项，由“蓄电池的充放电过程从微观的角度看，实际上是一个阳离子在电极中‘镶嵌’和‘脱离’的过程”可知，“充电”是“镶嵌”过程，“放电”是“脱离”过程，选项说法有误。B项，由“电极材料中的孔洞越多，这个过程进行得越迅速，从宏观的角度看则表现为蓄电池充放电的速度越快”可推出。C项，由“石墨烯由碳原子组成，薄到极限……同时，它也具有网状结构，由石墨烯所制成的电极材料拥有足够多的孔洞。因此，石墨烯是一种非常理想的电极材料”可推出。D项，“二维结构”指平面，由“石墨烯由碳原子组成，薄到极限(只有一层原子的厚度)”可推出。故本题选A。

41、

在历史上，从来都是科学技术新发明的浪潮导致了新产业的诞生和兴旺，在此基础上逐步形成区域性直至世界性的经济繁荣，从汽车、飞机产业到化工、制药、电子等领域，情况都是如此。因此，目前产业界普遍增加在科学研究和开发上的投入必将有力地促进经济繁荣。

以下哪项如果为真，最能削弱上面的推论?_____

- A.在目前的资金水平上，公司的研究开发部门申请专利的数量比起十年前来要少得多
- B.大部分产业的研究开发部门关心的只是对现有产品进行有利于经销的低成本改进，而不是开发有远大前途的高成本新技术
- C.历史上，只有一些新的主干行业是直接依赖公司研究开发部门获得技术突破的
- D.公司在科学研究和开发的投入与公司每年新的发明专利的数量直接相关

解析：

参考答案：B

[解析]

题干结论为目前产业界普遍增加在科学研究和开发上的投入必将有力地促进经济繁荣。A项仅是申请专利的数量减少，削弱力度较弱；B项说明目前大部分研究开发部门关心的是利于经销的低成本改进，而不是开发有远大前途的高成本新技术，则很难导致新产业的诞生和兴旺，最终也实现不了经济繁荣，削弱了题干推论；C项的削弱力度也较弱；D项为无关项。故答案选B。

42、

海滩上有一堆核桃，第一天猴子吃掉了这堆核桃的五分之二，又扔掉4个到大海中去，第二天吃掉的核桃数再加上3个就是第一天所剩核桃的八分之五，那么这堆核桃至少剩下多少个？

- A.6
- B.8
- C.10
- D.12

解析：

参考答案：A

[解析] 设这堆核桃共x个，则由题意可知，第一天剩余核桃数为 $\frac{3}{5}x-4$ ，第二天剩余核桃数为

$$\frac{3}{8} \times (\frac{3}{5}x-4) + 3 = \frac{9x}{40} + \frac{3}{2} = \frac{9x+60}{40}。$$

由于这个数一定是整数，则 $9x+60=40n$ ，n=6时x能取到最小的整数20，因此至少剩下6个核桃。

43、

综合办公部门或业务部门的负责人及有关人员对需要办理的公文提出建议性处理意见的参谋性活动，称为公文的：_____

- A.拟办
- B.承办
- C.批办
- D.催办

解析：

参考答案：A

[解析] 公文拟办指由综合办公部门或业务部门的负责人及有关人员对需要办理的公文提出建议性处理意见的参谋性活动。故本题答案选A。

44、

乐观，是指认识事物过程中的一种心理状态，表现为关心事物的正向价值，并把最大正向价值作为其行为方案的选择标准，即相信自己有足够的行为能力来承受或减弱原有负向价值对自己的不良影响，并使原有正向价值发挥更大的积极效应。

下列最符合上述关于乐观的定义的是_____。

- A.长风破浪会有时，直挂云帆济沧海
- B.风力掀天浪打头，只须一笑不须愁
- C.今年欢笑复明年，秋月春风等闲度
- D.烹羊宰牛且为乐，会须一饮三百杯

解析：

参考答案：A

[解析] A项出自李白的《行路难》，意为实现我理想的那一天会来到的，我将大显身手，大展宏图。引申为相信总有一天会实现理想，施展抱负，虽然苦闷但不失去信心，给人以激励。B选项出自杨万里的《闷歌行》，意为纵使风大浪高，也不要慌，不要愁，要一笑了之，没有乐观正向价值，排除。C选项出自白居易的《琵琶行》，意思是说随随便便就打发消磨了美好的青春年华，劝人们珍惜时光。D选项出自李白的《醉酒歌》，这两句诗人描绘了一场盛宴，抒发诗人的胸中豪情，劝人们及时饮酒行乐。故本题正确答案为A。

45、

竞选：投票：当选

- A.考试：阅卷：及格
- B.比赛：犯规：下场
- C.申请：审查：同意
- D.合作：谈判：签约

解析：

参考答案：A

[解析] 题干三个词是顺承关系，除了D项以外，其他三项都符合。题干中投票和当选的主体不同，选项中只有A项符合。

46、

下列说法错误的是：

- A.图书馆藏书着火后，应尽快用水来扑灭
- B.在户外遇到台风时，要弯下身体，尽量避免淋雨
- C.汽车驶入加油站时，驾驶员应尽量避免拨打手机
- D.皮肤烫伤后，应立即用冷水冲洗

解析：

参考答案：A

[解析]

图书馆着火后应该采用干冰灭火器，对图书档案类不会造成伤害，用水灭火会损毁图书。故本题答案选A。

47、

某工厂男员工的人数占总人数的70%，会滑冰的员工人数占总人数的52%，男员工中会滑冰的人数占男员工人数的60%，则在全体员工中不会滑冰的女员工占总人数的：_____

- A.10%
- B.20%
- C.28%
- D.42%

解析：

参考答案：B

[解析] 不妨假设工厂有100人，则男员工有70人，故女员工有100-70=30人。会滑冰的员工有52人，其中男员工会滑冰的有70×60%=42人，因此女员工会滑冰的有52-42=10人。不会滑冰的女员工有30-10=20人，占总人数的20÷100=20%。

48、

挂在墙壁上的石英钟，当电能耗尽而停止走动时，其秒针往往会停在哪个数字上？

- A.3
- B.6
- C.9
- D.12

解析：

参考答案：C

[解析]

本题是考查物理学力矩相关知识的题。当秒针走到9点位置时，秒针受到重力的力矩方向向下，与表本身受电能驱动行走的力矩方向恰好相反，达到平衡状态，因此通常停在9点钟附近位置，所以选择C选项。

49、

刘志、曹靖、孙红三人的教龄共96年，如刘志比曹靖多教9年，比孙红少教9年，问孙红教了几年书？

- A.23
- B.32
- C.35
- D.41

解析：

参考答案：D

50、

有四个人在一条国际游轮上相遇，他们分别是中国人、日本人、美国人、意大利人。现在给他们编了号码。现在，让大家猜一猜每一个号码人的国籍。有一个旅客猜了下面的答案，但他只说对了一半

- A. 1号是中国人，2号是日本人
- B. 2号是美国人，1号是意大利人
- C. 3号是日本人，4号是美国人
- D. 2号是日本人，4号是意大利人

根据以上条件，判断1，2，3，4号是（）

- A.1号是中国人，2号是日本人，3号是意大利人，4号是美国人
- B.1号是中国人，2号是美国人，3号是日本人，4号是意大利人
- C.1号是中国人，2号是美国人，3号是意大利人，4号是日本人
- D.1号是意大利人，2号是日本人，3号是中国人，4号是美国人

解析：

参考答案：B

51、

20世纪90年代以后，中国内地形成了一些跨省区市的经济区域：①长江三角洲和长江沿江地区经济带；②以广州、深圳为中心的珠江三角洲地区经济带；③包括北京、天津、河北、辽宁、山东、山西、内蒙古在内的环渤海地区经济区；④中部地区经济区，包括河南、湖北、湖南、安徽、江西。

上述经济区域形成的先后顺序是_____。

- A.①②③④
- B.②①④③
- C.②④③①
- D.④③①②

解析：

参考答案：A

[解析]

本题考查时政常识。长江三角洲和长江沿江地区经济带于1992年发起组成。珠江三角洲经济区于1994年确立。2004年，环渤海经济图概念基本形成。2006年4月，《国务院促进中部地区崛起的若干意见》为中部崛起指明了发展方向。所以选择A项。

52、

背水一战 对于 _____ 相当于 _____ 对于 谋略

- A.决心——运筹帷幄
- B.选择——高瞻远瞩

- C.战争——学富五车
- D.博弈——真知灼见

解析：

参考答案：A

[解析] 背水一战形容决心很坚定，运筹帷幄形容很有谋略。

53、

①当人感到不适或生病时，身体可以从自身的“药铺”中找到30至40种“药”来对症治疗

②每天坚持以舒适的姿态闭目养神10至20分钟，将思想集中在愉快的事情上，并多做腹式呼吸有助于提高人体的这种自愈能力

③这种治疗过程是由荷尔蒙、免疫抗体等因素综合发挥作用的

④经研究发现，人体自身有能力治愈60%至70%的不适和疾病

⑤在这一过程中，保持积极向上的精神状态非常重要

⑥科学家目前已经解开了机体自愈的一些秘密

排列组合最连贯的是()。

- A.⑥④①③⑤②
- B.⑤④②①③⑥
- C.④③②①⑥⑤
- D.②⑤③①④⑥

解析：

参考答案：A

[解析] 解答这道题时注意答题技巧，如果考生不能很快分辨出⑥句是引出话题的首句，可以从其他角度寻找突破口。通过指示代词和“这种治疗”这一词语的重复出现可以看出③应该紧跟在①句之后，①③又是对④的解释，应该在④之后，⑤句中的“这一治疗过程”指代③中的治疗过程，②是对前面内容的进一步补充。

54、

在人际交往中，人们表现出的处事态度、方法和行为，心理学上称为“人格表现”。然而，人格表现有的可以_____人际关系，有的妨碍人际关系，有的则成为人际关系的障碍。还有的人，他们在个人目的尚未实现，自己的力量不足以与客观障碍抗衡时，会采取双重人格，_____自己的人格特征来从事社交活动，建立自己的人际关系。而当他们已经取得了某些地位和利益，达到某种目的之后，常把自己的真实人格暴露出来。

依次填入画横线部分最恰当的一项是_____。

- A.拓展 伪装
- B.增进 掩藏
- C.拓宽 完善

D.促进 掩饰

解析：

参考答案：D

[解析] “拓展”指开拓发展，多与“市场”搭配；“拓宽”指开拓使宽广，多与“视野”“思路”搭配，二者皆不能与“人际关系”搭配，故排除A、C项。“掩藏”指隐藏，可以针对人的情感，也可以针对物体，不一定就具有迷惑性。而“掩饰”指设法掩盖事情的真实情况，具有伪装的意思。由“达到某种目的之后，常把自己的真实人格暴露出来”可推出，在目的未达到之前，会采取掩饰的手段，故第二空应选择“掩饰”。因此，本题选D。

55、

做人的学问是永远的难题，_____有所成就的人，他们在为人_____上都有自己的一套方案，能将事物处理得恰到好处，做到_____。

填入画横线部分最恰当的一项是：

- A.大都 处事 事半功倍
- B.每个 处事 左右逢源
- C.几乎 处世 事半功倍
- D.大凡 处世 左右逢源

解析：

参考答案：D

[解析] 第二空，“处事”指处理事务；“处世”指在社会上活动，跟人往来相处。“为人处世”为固定搭配，排除A、B。第三空，“事半功倍”形容花费的气力小，收到的成效大；“左右逢源”形容做事得心应手，怎样进行都很顺利，也形容办事圆滑。用“左右逢源”描述善于为人处世更恰当。故本题选D。

56、

将下列句子按语序先后排列得最连贯的一项是_____。

- ①在南坡，带状分布的原始云杉林海连绵不断，棵棵巨杉像一把把利剑，直插云天
- ②在北坡五花甸草原上，你可以看见新疆细毛羊群和奔驰的伊犁马群
- ③在遮天蔽日的杉林下，马鹿、狍鹿、棕熊、雪豹等野生动物出没其间
- ④吃完早饭后，继续南下，就进入喀什河和巩乃斯河的草原带和森林带
- ⑤各种森林鸟类，鸣声不断

- A.①③②⑤④
- B.④②①③⑤
- C.②⑤①③④
- D.①④⑤②③

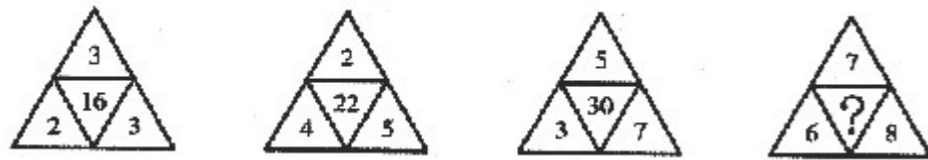
解析：

参考答案：B

[解析]

根据话题的统一性原则和前后的承启性原则分析，④句中“就进入……的草原带和森林带”是具有总述性的句子，下文先叙述“草原带”，再叙述“森林带”。②句是写草原上的情景，而①③⑤句是写与森林有关的内容，所以②句应排在前一层次，①③⑤句应排在后一层次。至于①③⑤句的内部排序，①句中“在南坡”与②句中“在北坡”相照应，自然应排在前；第③句中“在遮天蔽日的杉林下”，既紧扣①句中的“原始云杉林海”、“棵棵巨杉”，又引出下文“野生动物”和“森林鸟类”在其间的活动，所以应排在中间位置，剩下的⑤句应排在最后。综观上述分析，几个句子排列的先后顺序应为④②①③⑤，选B。

57、



- A.40
- B.42
- C.44
- D.46

解析：

参考答案：B

[解析] $(2+3+4) \times 2 = 16$, $(4+5+2) \times 2 = 22$, $(3+7+5) \times 2 = 30$, 所以 $? = (6+8+7) \times 2 = 42$, 正确答案是B选项。

58、

44, 52, 68, 76, 92, ____。

- A.104
- B.116
- C.124
- D.128

解析：

参考答案：B

[解析]

题目数据变化不大，不难看出，所有项都是4的倍数，考虑因式分解，将每项写为： 4×11 , 4×13 , 4×17 , 4×19 , 4×23 ，其中一个子数列为4，另一个子数列为11, 13, 17, 19, 23，为质数数列，所以所求为 $4 \times 29 = 116$ ，故选B。

59、

2014年7月，国务院印发《关于加快发展生产性服务业，促进产业结构调整升级的指导意见》，提出以产业转型升级需求为导向，引导企业进一步打破“大而全”“小而全”的格局，分离和外包____，促进我国

产业逐步由生产制造型向生产服务型转变。

- A.非生产业务
- B.生产业务
- C.核心业务
- D.非核心业务

解析：

参考答案：D

[解析]

本题考查时政常识。国务院《关于加快发展生产性服务业，促进产业结构调整升级的指导意见》规定，以产业转型升级需求为导向，进一步加快生产性服务业发展，引导企业进一步打破“大而全”“小而全”的格局，分离和外包非核心业务，向价值链高端延伸，促进我国产业逐步由生产制造型向生产服务型转变。故本题答案为D。

60、

十七届六中全会强调，社会主义文化建设的基本任务是__。

- A.培养“四有”方向
- B.提高全民族思想道德素质和科学文化素质
- C.满足人民精神文化生活需求
- D.推动经济社会协调可持续发展

解析：

参考答案：C

[解析] 十七届六中全会强调，社会主义文化建设的基本任务是满足人民精神文化生活需求。故选C。

61、

一个圆能把平面分成两个区域，两个圆可以把平面分成四个区域，问四个圆最多可能把平面分成多少个区域？

- A.13
- B.14
- C.15
- D.16

解析：

参考答案：B

[解析] 在平面上画上四个圆两两相交，可知其最多能把它平分14个区域，故选B。

62、

12个篮球队中有3个强队，将这12个队任意分成3个组(每组4个队)，则3个强队恰好被分在同一组的概率为_____。

- A. $\frac{1}{55}$
- B. $\frac{3}{55}$
- C. $\frac{1}{4}$
- D. $\frac{1}{3}$

解析：

参考答案：B

$$\frac{C_{12}^4 C_8^4 C_4^4}{A_3^3}$$

[解析] 概率问题。因为将12个组分成3个组的分法有

$$\frac{C_3^3 C_9^1 C_8^4 C_4^4}{A_2^2}$$

种，而3个强队恰好被分在同一组的分法有 A_2^2 种，所以3个强队恰好被分在同一组的概率为

$$\frac{C_3^3 C_9^1 C_8^4 C_4^4}{A_2^2} \div \frac{C_{12}^4 C_8^4 C_4^4}{A_3^3} = \frac{3}{55} \text{。}$$

故选B。

63、

并非任何战争都必然导致自然灾害，但不可能有不阻碍战争的自然灾害。

以下哪一项与上述断定的含义最为接近?_

- A.有的战争可能不导致自然灾害，但任何自然灾害都可能阻碍战争
- B.有的战争可能不导致自然灾害，但任何自然灾害都必然阻碍战争
- C.任何战争都不可能导致自然灾害，但有的自然灾害可能阻碍战争
- D.任何战争都可能不导致自然灾害，但有的自然灾害必然阻碍战争

解析：

参考答案：B

[解析]

根据逻辑直言命题的基础知识可知，“并非任何战争都必然导致自然灾害”是“任何战争都必然导致自然灾害”的负命题，即“有的战争可能不导致自然灾害”。“不可能有不阻碍战争的自然灾害”，根据语义中的双重否定，可翻译为“所有自然灾害必然阻碍战争”。故选B。

64、

一天晚上，某商店被盗。公安机关通过侦查，得出如下判断：(1)盗窃者或是甲，或是乙；

(2)如果甲是盗窃者，那么作案时间就在零点之前；(3)零点时该商店的灯光灭了，而此时甲已经回家；(4)

)如果乙的供述不属实，那么作案时间就不在零点之前；(5)只有零点时该商店的灯光未灭，乙的供述不属实。由此可以推出本案的盗窃者是()。

- A.甲
- B.乙
- C.甲或者乙
- D.甲和乙

解析：

参考答案：B

[解析]

题中给出5个判断，从后面的判断开始。(5)中指出乙的供述不属实，由(4)可知，作案时间不在零点之前，再由条件(2)可知，甲不是盗窃者，最后由(1)可知乙是盗窃者。

65、

事发当日，看守所民警值班期间未认真_____看管职责，_____离岗，外出吃饭，造成在押人员脱管。

填入横线部分最恰当的一项是_。

- A.实施 擅自
- B.实施 私自
- C.履行 擅自
- D.履行 私自

解析：

参考答案：C

[解析]

履行职责是固定搭配。擅自，指对不在自己职权范围内的事情自作主张，指因为自己的鲁莽或性情原因而做出的决定；私自，背着组织或有关的人，自己(做不合乎规章制度的事)，私自是为个人利益考虑的。

66、

下列关于习近平总书记所引用的古语古训与对应的哲学道理相一致的有：_____

- ①名非天造，必从其实——尊重客观事实
- ②为者常成，行者常至——事物运动是有规律的
- ③天视自我民视，天听自我民听——发挥主观能动性
- ④政之所兴在顺民心，政之所废在逆民心——人民群众是社会历史的主体

- A.①②
- B.①④
- C.②③
- D.③④

解析：

参考答案：B

[解析]

以上内容仅为本文档的试下载部分，为可阅读页数的一半内容。如要下载或阅读全文，请访问：<https://d.book118.com/24534030332011343>