

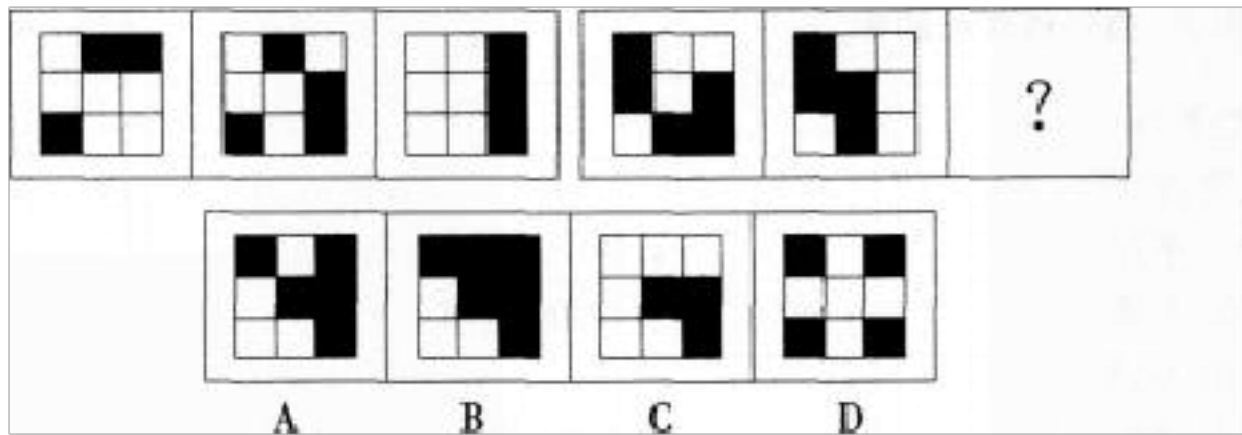
(备考 2023 年) 陕西省渭南市公务员省考 行政职业能力测验真题(含答案)

学校:_____ 班级:_____ 姓名:_____ 考号:_____

一、图形推理(6题)

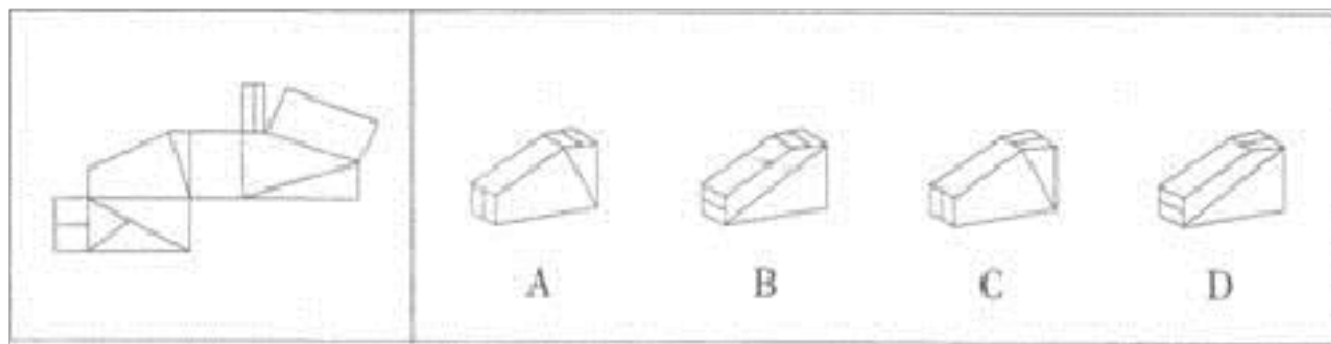
1.

从所给的四个选项中, 选择最合适的一个填入问号处, 使之呈现一定的规律性:

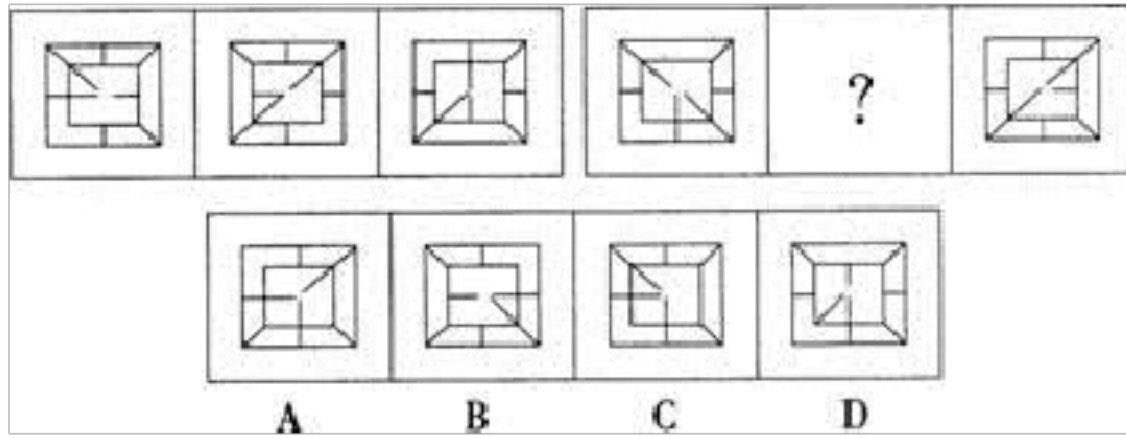


A.如上图所示 B.如图所示 C.如上图 D.如图

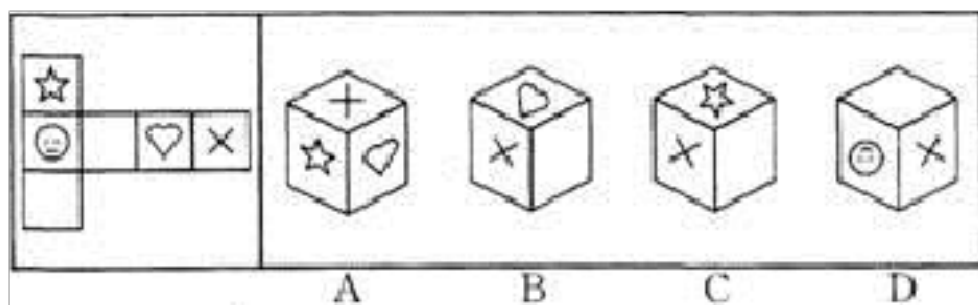
2.左边给定的是纸盒的外表面, 下面哪一项能由它折叠而成?



3.从所给的四个选项中, 选择最合适的一个填入问号处, 使之呈现一定的规律性:



4. 左边给定的是纸盒的外表面，下列哪一项能由它折叠而成？



- A.
- B.
- C.
- D.
- E.

5. 从所给的四个选项中，选择最合适的一个填入问号处，使之呈现一定的规律性：

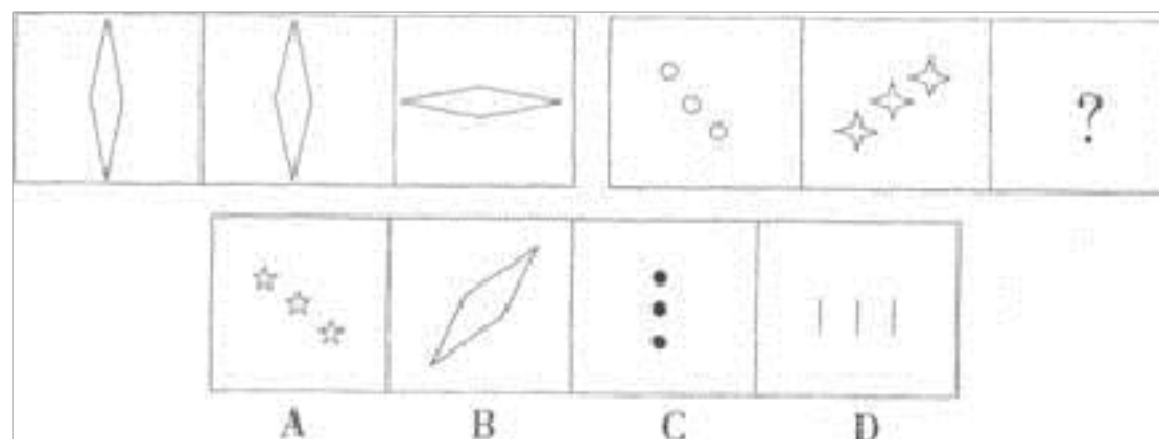
元	保	儿
亏	右	吻
孤	乙	?

承	呈	丞	乘
---	---	---	---

ABCD

- A. 如上图所示
- B. 如上图示
- C. 如上图
- D. 如图所示

6. 从所给的四个选项中, 选择最合适的一个填入问号处, 使之呈现一定的规律性。()



二、定义判断(10题)

7. 春秋决狱, 是指在汉代审判案件的过程中, 如果法律无明文规定则以儒家的经典作为定罪量刑的依据。以下符合春秋决狱的是()。

- A. 张汤在审理某个杀人案时, 以《道德经》为依据判处犯人无罪
- B. 赵禹在审理盗窃案时, 为加强刑罚威慑力, 没有引用汉律, 而直接用《孟子》中某语作断案依据
- C. 董仲舒在审理子杀父未遂案时, 因汉律未规定未遂一项, 他引用《春秋》一书作出判断
- D. 郅都运用《中庸》中的理论来治理雁门邑, 获得极大成功

8. 城市群: 指在特定的区域范围内聚集相当数量的不同性质、类型和等级规模的城市, 以一个或两个特大城市为中心, 依托一定的自然环境和交通条件, 城市之间的内在联系不断加强, 共同构成一个相对完整的城市“集合体”。

根据上述定义。下面属于城市群的是：

A.浙江省 B.华东六省一市 C.长三角经济区 D.港澳台地区

9.后喻时代，指的是在当今高科技时代的某种条件下，晚辈(或学生)由于掌握了一定的新知识新技能，给先辈(或教师)传授知识和培养能力的时代。文化反哺是后喻时代的最基本特征。

根据上述定义，下列不属于后喻时代表现的是（ ）。

A.学校引进了全新的多媒体技术，张老师没用过，班长小华非常热心地演示了一遍，张老师就学会了

B.梅梅在幼儿园学会了 50 种动物的英文说法，英语专业出身的妈妈有很多都不知道，梅梅得意地教妈妈怎么读写

C.韦斯是一名出色的脑科医生，从医十多年了，不过最近他碰到了—个非常棘手的手术，为了保证手术成功，他邀请了大学的博士生导师前来指导

D.建辉去日本留学期间，学到了一种新的基因技术，学成之后，他迫不及待地回国跟身为生物学院士的爷爷分享

10.预期违约是指在合同的履行期限到来之前，一方当事人向对方当事人明确提出自己已经不能履行合同的义务，或者以自己的行为明确表明不履行合同的义务。在预期违约的情况下，相对人可以在合同履行期限届满前要求违约方承担违约责任。

根据上述定义，下列属于预期违约的是（ ）。

- A.小马工作满三年后，不再续约，提出辞职
- B.连续一个月的大雨导致湘江大桥维修延期完成
- C.隆兴瓷器厂在签订合同前发现对方存在欺骗行为，决定不签约
- D.光辉服装厂在签订订单后发现没有足够的生产资料，提出解约

11. 低碳生活是指在正常的生活作息时所耗用的能量要尽量减少，从而降低碳，特别是二氧化碳的排放。下列行为不属于低碳生活的是：

- A.小王每次出门购物都自带购物袋，从不使用免费或收费的塑料袋
- B.小李因为身体胖，最近开始调整饮食习惯，每天多吃素菜
- C.小张把自家的灯泡全部更换成了节能灯泡
- D.小红喜欢在网上买衣服，可有的衣服买回来觉得不好看，就闲置在衣柜中

12. 赞助营销是指企业通过资助某些公益性、慈善性、娱乐性、大众性、服务性的社会活动和文化活动来开展宣传，塑造企业形象和品牌，实现广告的目的，从而促进产品的销售。

以下属于赞助营销的是（ ）。

- A.某汽车生产厂家开展爱心帮扶活动，给贫困山区儿童送去生活学习物品
- B.某学校体育馆由某位著名慈善家捐助而建，体育馆以慈善家名字命名
- C.某企业投资开设内部报社，开辟专栏，积极宣传企业爱心文化
- D.某公司连续多年与教育部、信息产业部合作，开展以公司冠名的全国

大学生电子设计竞赛

13.警钟效果是指运用“敲警钟”的方法唤起人们的危机意识和紧张心理，促成他们的态度和行为向一定方向发生变化，从而达到说服的效果。

根据上述定义。下列不属于警钟效果的是：

A.班级经常出现逃避值日的现象，班主任利用班会时间对全班学生进行批评教育

B.每年的戒毒日，市中心广场上都会举办摄影展，展出吸毒人员瘦骨嶙峋或者是家破人亡的照片

C.近段时间，我们经常会在电视上看到一则公益广告，广告中呈现出一幕幕环境恶化后人们无处生存的画面

D.小王爸爸由于家庭原因，文化程度不高，他总是不停地告诫小王要努力学习，否则就会像自己现在这样，生活贫困

14. 结构性失业是指因经济结构、体制、增长方式等的变动，使一些普通劳动者在技能、经验主观意愿等方面的供给结构与需求结构不相一致而导致的失业。因此尽管劳动市场有位空缺，但人们因为没有所需的技能或主观上不愿意选择，结果导致继续失业。

根据上述定义，下列各项不属于结构性失业的是（ ）。

A.由于工艺升级，原来的工人缺乏新工艺所要求的技术，被迫下岗

B.大学毕业生小李考公务员失利，又错过了找工作的最佳时期，被人取笑“毕业就失业”

C. 国企改制后，一些下岗职工不愿放弃自己的国企职工身份，而拒绝民营企业提供的就业机会

D. 一些“海归”在择业时期望值过高，想留在大城市，进大公司，并且薪水要优厚，否则宁愿失业

15. 专家系统是一个电脑系统，其具有某专业领域的特定知识，可以解决该领域的问题或给予建议，是人工智能领域较成功的例子。

根据上述定义，以下属于专家系统的是（ ）。

A. 网上银行系统。通过这个系统，用户可以在网上对自己的账户进行管理

B. 办公自动化系统。以电子计算机为中心，把文字处理机、传真机、打印机等办公设备有机地结合起来，用作日常办公

C. 深蓝系统。IBM 公司专门为国际象棋竞赛所开发的电脑系统

D. 公交查询系统。通过这个系统，用户可以查询到各路公交汽车的停靠站点

16. 行政强制措施：指行政机关在行政管理过程中，为制止违法行为、防止证据销毁、避免危害发生、控制危险扩大等情形，依法对公民的人身自由实施暂时性限制，或者对公民、法人或者其他组织的财物实施暂时性控制的行为。

根据上述定义，下列属于行政强制措施的是：

- A.公安机关在刑事诉讼中限令犯罪嫌疑人规定的期限内不得离开住处或者指定的居所
- B.交通管理部门对某货车散落在高速公路上的西瓜进行及时清理
- C.公安消防部门为了阻止火势蔓延而拆除与着火处相连的房屋
- D.医疗机构为防止某精神病人病情发作伤害他人而将其强制约束

三、常识判断(10题)

17.下列关于血管的说法，哪一项是错误的？

- A. 血管包括动脉、静脉及毛细血管三大部分
- B. 动脉是血液从全身流向心脏的管道，而静脉正好相反
- C. 我们平常在自己胳膊上、腿上看到的“青筋”是静脉
- D. 我们平常所说的脉搏，也就是医生诊病时所摸的脉，是动脉

18.第 102 题 民法调整的财产关系（ ）

- A.都是有偿的 B.都是无偿的 C.一般是有偿的 D.一般是无偿的

19.第 22 届中美商贸联委会 2011 年 11 月 21 日在成都举行。中美双方就彼此关切的问题进行深入沟通。会议后，签署了一系列经贸合作文件，下列文件不属于此次签署的是（ ）。

- A.《中美知识产权合作项目框架协议》
- B.《美国输华大豆合作谅解备忘录》

- C. 《(中美高技术贸易重点领域合作行动计划) 落实措施》
- D. 《中美商贸联委会贸易统计工作组进展报告》

20.第 68 题 2009 年 8 月 1 日上午,寓意“国泰民安之火”的第十一届全国运动会圣火火种在()之巔成功采集。

- A. 泰山
- B. 黄山
- C. 井冈山
- D. 庐山

21. 20 世纪 60 年代,最先到达月球的地球人是()。

- A. 美国人
- B. 苏联人
- C. 英国人
- D. 中国人

22. 2012 年 12 月 15—16 日召开的中央经济工作会议指出,要紧紧围绕主题主线,以()为中心,稳中求进,开拓创新,扎实开局,进一步深化改革开放。

- A. 提高经济增长质量和效益
- B. 加强和改善宏观调控
- C. 加快调整产业结构
- D. 夯实农业基础

我国历代名医都十分

重视中药煎煮方法。其中，不能用开水煎中药的原因是：

- A.开水会杀死植物性中药的有效细胞 B.开水会使蛋白凝结 C.开水不能和中药结合 D.温度太高不适宜饮用

24.感冒时吃东西没有滋味，主要是因为（ ）。

- A.鼻腔堵塞
B.味觉不敏感
C.空气通过鼻腔的量少
D.鼻黏膜充血肿胀，嗅细胞接勉不到气味刺激

25.

世界上国家和地区分布最多的洲是（ ）

- A.亚洲 B.非洲 C.大洋洲 D.欧洲

26.

行政制裁，是指国家行政机关对行政违法者依其行政责任所实施的强制性惩罚措施。行政制裁不包括（ ）。

- A.行政处罚 B.行政处 C.行政处分 D.劳动教养

(10题)

27.

第 35 题 51. com 率先尝试了会员收费制，校内网则出售增值道具，开心网_____了植入式广告。但是，中国网络用户并没有会员付费的

增值道具的收入也是 _____，植入式广告虽然在 Facebook 上大获成功，在中国能否成功复制，尚待时日。依次填入划横线部分最恰当的一项是（ ）。

- A. 引进 屈指可数
- B. 引入 寥寥可数
- C. 引入 屈指可数
- D. 引进 寥寥可数

28. 公司安排 6 位新员工共同参加一次为期两天的活动，6 个人围成一个圆桌进行交流。为促进新员工间的互动，如果要求第二天每个人身边坐着的两个人都与第一天不同，则新员工们有（ ）种座位安排方式。

- A. 5
- B. 6
- C. 7
- D. 8

29. 某不超过 200 的自然数除以 5 余 1，除以 7 余 2，除以 11 余 2，问这个数除以 13 余数是多少？（ ）

- A. 0
- B. 3
- C. 5
- D. 7

30. 某供水站桶装水基本价格为每桶 5 元，若超过一定数量可享受优惠，超出部分按其基本价格的 80% 收费，某公司九月份用水 84 桶，共交费 396 元，则公司在该供水站最少要消费多少桶以上才能享受优惠？（ ）

- A. 60 桶

以上内容仅为本文档的试下载部分，为可阅读页数的一半内容。如要下载或阅读全文，请访问：<https://d.book118.com/247013005022006146>